



**Staff Selection Commission**  
(Government Of India)

**REGISTRATION NUMBER :**  
**EXAM DATE : 8-August-2017**  
**EXAM NAME : SSC Examination**  
**TOTAL MARKS : 200**

**CANDIDATE NAME :**  
**EXAM START TIME : 13:15:00**  
**EXAM DURATION : 01:00 Hrs**  
**TOTAL NO OF QUESTIONS : 100**

**QID : 101** - In the following question, select the related word from the given alternatives.

**Goiter : Iodine :: Anemia : ?**

निम्नलिखित प्रश्न में दिए गए विकल्पों में से संबंधित शब्द को चुनिए।

**घेघा : आयोडीन :: एनीमिया : ?**

**Options:**

- 1) Vitamin D  
विटामिन डी
- 2) Iron  
लौह
- 3) Vitamin E  
विटामिन ई
- 4) Calcium  
कैल्शियम

**Correct Answer:** Iron

लौह

**Candidate Answer:** Iron

लौह

**QID : 102** - In the following question, select the related letter from the given alternatives.

**DE : O :: AF : ?**

निम्नलिखित प्रश्न में दिए गए विकल्पों में से संबंधित अक्षर को चुनिए।

**DE : O :: AF : ?**

**Options:**

- 1) H
- 2) K
- 3) J
- 4) I

**Correct Answer:** K

**Candidate Answer:** K

**QID : 103** - In the following question, select the related number from the given alternatives.

**56 : 41 :: 94 : ?**

निम्नलिखित प्रश्न में दिए गए विकल्पों में से संबंधित संख्या को चुनिए।

**56 : 41 :: 94 : ?**

**Options:**

- 1) 49
- 2) 53
- 3) 60
- 4) 89

**Correct Answer:** 49

**Candidate Answer:** 89

**QID : 104** - In the following question, select the odd word from the given alternatives.

निम्नलिखित प्रश्न में दिए गए विकल्पों में से विषम शब्द को चुनिए।

**Options:**

- 1) Beneath  
नीचे
- 2) On top  
सबसे ऊपर
- 3) Huge  
विशाल
- 4) Above  
ऊपर

**Correct Answer:** Huge  
विशाल

**Candidate Answer:** Huge  
विशाल

**QID : 105** - In the following question, select the odd letters from the given alternatives.

निम्नलिखित प्रश्न में दिए गए विकल्पों में से विषम अक्षरों को चुनिए।

**Options:**

- 1) MN
- 2) NM
- 3) OL
- 4) ET

**Correct Answer:** ET

**Candidate Answer:** ET

**QID : 106** - In the following question, select the odd number from the given alternatives.

निम्नलिखित प्रश्न में दिए गए विकल्पों में से विषम संख्या को चुनिए।

**Options:**

- 1) 253
- 2) 473
- 3) 143
- 4) 633

**Correct Answer:** 633

**Candidate Answer:** 633

**QID : 107** - Arrange the given words in the sequence in which they occur in the dictionary.

- 1. Flinching
- 2. Flintlock
- 3. Flinpites
- 4. Flintlocks
- 5. Flinchers

निम्नलिखित शब्दों को शब्दकोश में आने वाले क्रम के अनुसार लिखें।

- 1. Flinching
- 2. Flintlock
- 3. Flinpites
- 4. Flintlocks
- 5. Flinchers

**Options:**

- 1) 15243
- 2) 51243
- 3) 51324
- 4) 51342

**Correct Answer:** 51324

**Candidate Answer:** 51324

**QID : 108** - In the following question, which one set of letters when sequentially placed at the gaps in the given letter series shall complete it?

\_ y z a a \_ y \_ x y \_ a a z y \_

निम्नलिखित प्रश्न में अक्षरों का कौन सा समूह खाली स्थानों पर क्रमवार रखने से दी गई अक्षर श्रृंखला को पूरा करेगा?

\_ y z a a \_ y \_ x y \_ a a z y \_

**Options:**

1) xxzzx

2) xxaza

3) xzxzx

4) aazzx

**Correct Answer:** xzxzx

**Candidate Answer:** xxzzx

**QID : 109** - In the following question, select the missing number from the given series.

**19, 38, ?, 228, 684, 1368**

निम्नलिखित प्रश्न में दिए गए विकल्पों में से लुप्त अंक ज्ञात कीजिए।

**19, 38, ?, 228, 684, 1368**

**Options:**

1) 108

2) 113

3) 114

4) 138

**Correct Answer:** 114

**Candidate Answer:** 114

**QID : 110** - There are five students - P, Q, R, S and T having different heights in a class. P's height is more than only one student. Q's height is more than S and P but not more than R. S's height is more than P. R is not the smallest. Who is having the maximum height in the class?

एक कक्षा में पाँच छात्रों - P, Q, R, S तथा T की ऊँचाई अलग-अलग हैं। P की ऊँचाई केवल एक छात्र से अधिक है। Q की ऊँचाई S तथा P से अधिक है, लेकिन R से अधिक नहीं है। S की ऊँचाई P से अधिक है। R सबसे छोटा नहीं है। कक्षा में सबसे अधिक ऊँचाई किसकी है?

**Options:**

1) Q

2) R

3) S

4) T

**Correct Answer:** R

**Candidate Answer:** R

**QID : 111** - In a row of 74 girls, Shweta is 27<sup>th</sup> from left end. Palak is 7<sup>th</sup> to the right of Shweta. What is Palak's position from the right end of the row?

74 लड़कियों की एक पंक्ति में, श्वेता बायें छोर से 27-वें स्थान पर है। पलक, श्वेता के दायें 7-वें स्थान पर है। पलक का स्थान पंक्ति के दायें छोर की ओर से क्या है?

**Options:**

1) 40

2) 41

3) 42

4) 44

**Correct Answer:** 41

**Candidate Answer:** 40

**QID : 112** - In the following question, from the given alternative words, select the word which can be formed using the letters of the given word.

**CAPITULATE**

दिए गए प्रश्न में, निम्नलिखित विकल्पों में से वह शब्द चुनिए जो दिए गए शब्द के अक्षरों का प्रयोग करके बनाया जा सकता है।

**CAPITULATE**

**Options:**

1) CAPABLE

2) LUPIN

3) PITTY

4) TALE

**Correct Answer:** TALE**Candidate Answer:** TALE**QID : 113** - In a certain code language, "BIOLOGY" is written as "YRLOLTB". How is "PHYSICS" written in that code language?

एक विशिष्ट कोड भाषा में, "BIOLOGY" को "YRLOLTB" लिखा जाता है। इस कोड भाषा में "PHYSICS" को किस प्रकार लिखा जाएगा?

**Options:**

1) KSXRBHH

2) KSBHRXH

3) XHRHBSK

4) KSBHXRH

**Correct Answer:** KSBHRXH**Candidate Answer:** KSBHRXH**QID : 114** - In the following question, correct the equation by interchanging two signs.

$$6 + 8 \div 4 - 4 = 8$$

निम्नलिखित प्रश्न में किन्हीं दो चिन्हों को परस्पर बदलकर दिये गए समीकरण को सही कीजिए।

$$6 + 8 \div 4 - 4 = 8$$

**Options:**1)  $\div$  and  $=$  $\div$  तथा  $=$ 2)  $\div$  and  $+$  $\div$  तथा  $+$ 3)  $\div$  and  $-$  $\div$  तथा  $-$ 4)  $+$  and  $-$  $+$  तथा  $-$ **Correct Answer:**  $+$  and  $-$  $+$  तथा  $-$ **Candidate Answer:**  $+$  and  $-$  $+$  तथा  $-$ **QID : 115** - If  $4 \times 9 \times 3 = 4$  and  $5 \times 3 \times 1 = 3$ , then

$$9 \times 9 \times 7 = ?$$

यदि  $4 \times 9 \times 3 = 4$  तथा  $5 \times 3 \times 1 = 3$  हैं, तो

$$9 \times 9 \times 7 = ?$$

**Options:**

1) 5

2) 6

3) 7

4) 9

**Correct Answer:** 5**Candidate Answer:** [ NOT ANSWERED ]

testbook

**QID : 116 -**

In the following question, select the number which can be placed at the sign of question mark (?) from the given alternatives.

निम्नलिखित प्रश्न में दिए गए विकल्पों में से प्रश्न चिह्न (?) के स्थान पर आने वाली संख्या चुनिए।

	3	
4	88	7
	5	

	5	
2	104	6
	8	

	5	
7	?	8
	3	

**Options:**

- 1) 108
- 2) 112
- 3) 118
- 4) 120

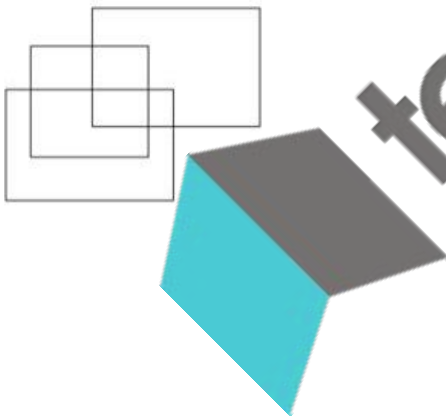
**Correct Answer: 120**

**Candidate Answer:** [ NOT ANSWERED ]

**QID : 117 -**

How many rectangles are there in the given figure?

दी गई आकृति में कितने आयत हैं?



**Options:**

- 1) 9
- 2) 10
- 3) 11
- 4) 12

**Correct Answer: 11**

**Candidate Answer: 9**

**QID : 118** - In the following question below are given some statements followed by some conclusions. Taking the given statements to be true even if they seem to be at variance from commonly known facts, read all the conclusions and then decide which of the given conclusion logically follows the given statements.

**Statements:**

- I. All cups are plates.
- II. Some plates are glass.

**Conclusions:**

- I. Some glasses are cups.
- II. All glasses are cups.

नीचे दिए गए प्रश्न में कुछ कथन और उनके बाद उन कथनों पर आधारित कुछ निष्कर्ष दिए गए हैं, हालांकि उनमें सामान्य ज्ञात तथ्यों से भिन्नता हो सकती है। सभी निष्कर्ष पढ़ें और फिर निर्धारित करें कि दिए गए कौन से निष्कर्ष, दिए गए कथनों के आधार पर युक्तिसंगत हैं।

**कथन:**

- I. सभी कप प्लेट हैं।
- II. कुछ प्लेट ग्लास हैं।

**निष्कर्ष:**

- I. कुछ ग्लास कप हैं।
- II. सभी ग्लास कप हैं।

**Options:**

- 1) Only conclusion (I) follows.  
केवल निष्कर्ष (I) सही है।
- 2) Only conclusion (II) follows.  
केवल निष्कर्ष (II) सही है।
- 3) Neither conclusion (I) nor conclusion (II) follows.  
न तो निष्कर्ष (I) न ही निष्कर्ष (II) सही है।
- 4) Both conclusions follow.  
दोनों ही निष्कर्ष सही हैं।


**Correct Answer:** Neither conclusion (I) nor conclusion (II) follows.  
न तो निष्कर्ष (I) न ही निष्कर्ष (II) सही है।

**Candidate Answer:** Neither conclusion (I) nor conclusion (II) follows.  
न तो निष्कर्ष (I) न ही निष्कर्ष (II) सही है।

**QID : 119 -**

From the given options, which figure can be formed by folding the figure given in the question?

निम्नलिखित विकल्पों में से कौन सी उत्तर आकृति प्रश्न में दी गई आकृति को मोड़कर बनाई जा सकती है?

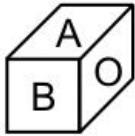


**Options:**

1)




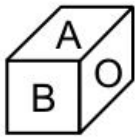
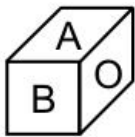
2)



3)



4)

**Correct Answer:****Candidate Answer:**

**QID : 120** - Identify the diagram that best represents the relationship among the given classes.

**Complex number, Integer, Natural number**

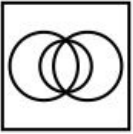
वह आरेख चुनिए जो नीचे दिए गए वर्गों के बीच के संबंध का सही निरूपण करता है।

समिश्र संख्या, पूर्णांक, प्राकृतिक संख्या

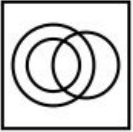
testbook

**Options:**

1)



2)



3)

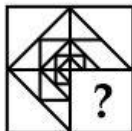


4)

**Correct Answer:****Candidate Answer:****QID : 121 -**

Which answer figure will complete the pattern in the question figure?

कौन सी उत्तर आकृति प्रश्न आकृति के प्रतिरूप को पूरा करेगी?





**Options:**

1)



2)



3)



4)

**Correct Answer:****Candidate Answer:****QID : 122 -**

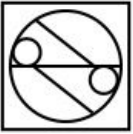
From the given answer figures, select the one in which the question figure is hidden/embedded.

दी गई उत्तर आकृतियों में से उस आकृति को चुनिए जिस में प्रश्न आकृति निहित है।

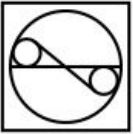


**Options:**

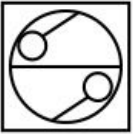
1)



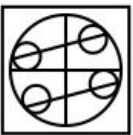
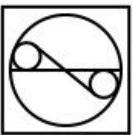
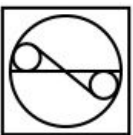
2)



3)

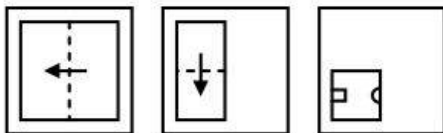


4)

**Correct Answer:****Candidate Answer:****QID : 123 -**

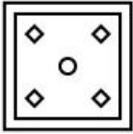
A piece of paper is folded and punched as shown below in the question figures. From the given answer figures, indicate how it will appear when opened?

नीचे के प्रश्न आकृतियों में दिखाए अनुसार कागज को मोड़कर छेदने तथा खोलने के बाद वह किस उत्तर आकृति जैसा दिखाई देगा?

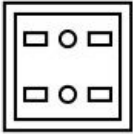


Options:

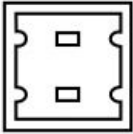
1)



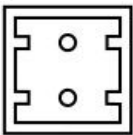
2)



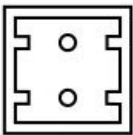
3)



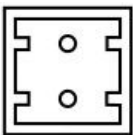
4)



Correct Answer:



Candidate Answer:



QID : 124 -

If a mirror is placed on the line AB, then which of the answer figure is the right image of the given figure?

यदि एक दर्पण को AB रेखा पर रखा जाए, तो दी गई उत्तर आकृतियों में से कौन सी आकृति प्रश्न आकृति की सही प्रतिबिम्ब होगी?



**Options:**

1)



2)



3)



4)

**Correct Answer:****Candidate Answer:**

**QID : 125 -**

A word is represented by only one set of numbers as given in any one of the alternatives. The sets of numbers given in the alternatives are represented by two classes of alphabets as shown in the given two matrices. The columns and rows of **Matrix-I** are numbered from 0 to 4 and that of **Matrix-II** are numbered from 5 to 9. A letter from these matrices can be represented first by its row and next by its column, for example, 'H' can be represented by 34, 41, etc., and 'T' can be represented by 59, 97, etc. Similarly, you have to identify the set for the word "**STRAW**".

एक शब्द केवल एक संख्या-समूह द्वारा दर्शाया गया है, जैसा कि विकल्पों में से किसी एक में दिया गया है। विकल्पों में दिए गए संख्या-समूह अक्षरों के दो वर्गों द्वारा दर्शाए गए हैं, जैसा कि नीचे दिए गए दो आव्यूहों में है। **आव्यूह-I** के स्तम्भ और पंक्ति की संख्या 0 से 4 दी गई है, और **आव्यूह-II** की 5 से 9। इन आव्यूहों से एक अक्षर को पहले उसकी पंक्ति और बाद में स्तम्भ संख्या द्वारा दर्शाया गया है। उदाहरण के लिए 'H' को 34, 41, आदि द्वारा दर्शाया जा सकता है तथा 'T' को 59, 97, आदि द्वारा दर्शाया जा सकता है। इसी तरह से आपको प्रश्न में दिए गए शब्द "**STRAW**" के लिए समूह को पहचानना है।

Matrix-I आव्यूह-I						Matrix-II आव्यूह-II					
	0	1	2	3	4		5	6	7	8	9
0	S	R	G	H	W	5	A	F	L	C	T
1	H	W	S	R	G	6	C	T	A	F	L
2	R	G	H	W	S	7	F	L	C	T	A
3	W	S	R	G	H	8	T	A	F	L	C
4	G	H	W	S	R	9	L	C	T	A	F

**Options:**

- 1) 00, 78, 13, 67, 23
- 2) 12, 59, 01, 55, 10
- 3) 24, 97, 20, 86, 31
- 4) 43, 66, 44, 98, 43

**Correct Answer:** 00, 78, 13, 67, 23

**Candidate Answer:** 00, 78, 13, 67, 23

**QID : 126 -** 'Neo-Malthusian Theory' is associated with which of the following?

'नव-मल्ट्यूसियन सिद्धांत' निम्नलिखित में से किससे संबंधित है?

**Options:**

- 1) Employment  
रोज़गार
- 2) Poverty  
गरीबी
- 3) Resource scarcity  
संसाधन की कमी
- 4) Income  
आय

**Correct Answer:** Resource scarcity  
संसाधन की कमी

**Candidate Answer:** [ NOT ANSWERED ]

QID : 127 -

Match the following.

निम्नलिखित का मिलान कीजिए।

Sector / क्षेत्र	Example / उदाहरण
1. Primary प्राथमिक	a. Consultancy सलाहकारी संस्था
2. Secondary द्वितीय	b. Apiculture मधुमक्खी-पालन
3. Tertiary तृतीय	c. Shoe Factory जूते का कारखाना

Options:

1) 1-b, 2-c, 3-a

2) 1-c, 2-a, 3-b

3) 1-a, 2-c, 3-b

4) 1-c, 2-b, 3-a

Correct Answer: 1-b, 2-c, 3-a

Candidate Answer: [ NOT ANSWERED ]

QID : 128 - How many Fundamental Duties are mentioned in Indian constitution?

भारतीय संविधान में कितने मौलिक कर्तव्य उल्लिखित हैं?

Options:

1) Five

पाँच

2) Seven

सात

3) Nine

नौ

4) Eleven

ग्यारह

Correct Answer: Eleven

ग्यारह

Candidate Answer: [ NOT ANSWERED ]

QID : 129 - Part IV of constitution of India deals with which of the following?

भारतीय संविधान का भाग IV निम्नलिखित में से किससे संबंधित है?

Options:

1) The Union

संघ

2) The States

राज्य

3) Fundamental Rights

मौलिक अधिकार

4) Directive Principles of State Policy

राज्य के नीति निर्देशक तत्व

Correct Answer: Directive Principles of State Policy

राज्य के नीति निर्देशक तत्व

Candidate Answer: Directive Principles of State Policy

राज्य के नीति निर्देशक तत्व

QID : 130 - Who gave the slogan 'Back to the Vedas (Vedo ki aur lauto)'?

'वेदों की ओर लौटो' का नारा किसने दिया था?

**Options:**

1) Guru Nanank Dev Ji

गुरु नानक देव जी

2) Dayanand Saraswati

दयानंद सरस्वती

3) Swami Vivekananda

स्वामी विवेकानंद

4) Raja Ram Mohan Roy

राजा राम मोहन रॉय

**Correct Answer:** Dayanand Saraswati

दयानंद सरस्वती

**Candidate Answer:** [ NOT ANSWERED ]**QID : 131** - Todarmal was the famous revenue minister of which Mughal Emperor?

टोडरमल, किस मुगल शासक का प्रसिद्ध राजस्व मंत्री थे?

**Options:**

1) Shah Jahan

शाह जहाँ

2) Bahadur Shah Jafar

बहादुर शाह ज़फ़र

3) Akbar

अकबर

4) Aurangzeb

औरंगजेब

**Correct Answer:** Akbar

अकबर

**Candidate Answer:** Akbar

अकबर

**QID : 132** - Gravitational force is maximum at which of the following place?

निम्नलिखित में से किस स्थान पर गुरुत्वाकर्षण बल सबसे अधिक है?

**Options:**

1) At equator

भूमध्य रेखा पर

2) At tropic of cancer

कर्क रेखा पर

3) At tropic of Capricorn

मकर रेखा पर

4) At poles

ध्रुव रेखा पर

**Correct Answer:** At poles

ध्रुव रेखा पर

**Candidate Answer:** At poles

ध्रुव रेखा पर

**QID : 133** - Which of the following device is used to measure humidity?

निम्नलिखित में से कौन से यंत्र का प्रयोग आर्द्रता को मापने के लिए किया जाता है?

**Options:**

1) Hydrometer

द्रवघनत्वमापी

2) Hygrometer

आर्द्रतामापी

3) Psycho Meter

मनोमानमापी

4) Anemometer

पवनवेगमापी

**Correct Answer:** Hygrometer

आर्द्रतामापी

**Candidate Answer:** Hydrometer

द्रवघनत्वमापी

**QID : 134** - Which of the following disease is caused by female Anopheles mosquito?

निम्नलिखित में से कौन सी बीमारी मादा अनाफलीज मच्छर के कारण होती है?

**Options:**

- 1) Chicken Pox  
चेचक
- 2) Malaria  
मलेरिया
- 3) Black Fever  
काला ज्वर
- 4) Cholera  
हैजा

**Correct Answer:** Black Fever  
काला ज्वर

**Candidate Answer:** Malaria  
मलेरिया

**QID : 135** - Which part of the plant gives us saffron?

पौधे का कौन सा भाग केसर देता है?

**Options:**

- 1) Roots  
जड़े
- 2) Petals  
पंखुड़ियों
- 3) Stem  
तना
- 4) Stigma  
रंध्र (स्टिग्मा)

**Correct Answer:** Stigma  
रंध्र (स्टिग्मा)

**Candidate Answer:** [ NOT ANSWERED ]

**QID : 136** - Which of the following transports water from the roots of the plant to its leaves?

निम्नलिखित में से कौन पौधे की जड़ों से उसकी पत्तियों तक जल पहुँचाता है?

**Options:**

- 1) Xylem  
दारु (जाइलेम)
- 2) Phloem  
वल्कल (फ्लोएम)
- 3) Both xylem and phloem  
दारु (जाइलेम) तथा वल्कल (फ्लोएम) दोनों
- 4) Cortex  
तने अथवा जड़ का आवरण

**Correct Answer:** Xylem  
दारु (जाइलेम)

**Candidate Answer:** Phloem  
वल्कल (फ्लोएम)

**QID : 137** - Which of the following is not a vector quantity?

निम्नलिखित में से कौन एक सदिश मात्रा नहीं है?

**Options:**

- 1) Momentum  
आवेग
- 2) Displacement  
विस्थापन
- 3) Torque  
बलाघूर्ण (टॉर्क)
- 4) Speed  
गति

**Correct Answer:** Speed  
गति

**Candidate Answer:** Speed  
गति

**QID : 138** - At what temperature (in Fahrenheit) pure water freezes?

शुद्ध जल किस तापमान (फ़ारेनहाइट में) पर जम जाता है?



**Options:**

- 1) 32
- 2) 0
- 3) 48
- 4) 37

**Correct Answer:** 32**Candidate Answer:** 32**QID : 139** - In which graphics, digital photos and scanned images are typically stored with extensions such as.bmp, .png, .jpg, .tif or.gif?

किस ग्राफिक्स में डिजिटल फोटो तथा स्कैन की गई छवियों को .bmp, .png, .jpg, .tif or.gif जैसे प्रसार या एक्सटेंशन के साथ आम तौर पर संग्रहित किया जाता है?

**Options:**

- 1) Bitmap  
बिटमैप
- 2) Pixels  
पिक्सल्स
- 3) Plane  
प्लेन
- 4) Both Bitmap and Pixels  
बिटमैप तथा पिक्सल्स दोनों

**Correct Answer:** Bitmap

बिटमैप

**Candidate Answer:** Bitmap

बिटमैप

**QID : 140** - Process of gaining electrons is known as \_\_\_\_\_.

इलेक्ट्रॉन को प्राप्त करने की प्रक्रिया को \_\_\_\_\_ कहते हैं।

**Options:**

- 1) oxidation  
ऑक्सीकरण
- 2) reduction  
अपचयन
- 3) radiation  
विकिरण
- 4) both oxidation and reduction  
ऑक्सीकरण तथा अपचयन दोनों

**Correct Answer:** reduction

अपचयन

**Candidate Answer:** both oxidation and reduction

ऑक्सीकरण तथा अपचयन दोनों

**QID : 141** - Which of the following metal (shown by its symbol) is generally used for making filaments of bulb?

निम्नलिखित में से कौन सी धातु (अपने चिह्न से दर्शाया गया) का सामान्यतः बल्ब का तन्तु या फिलामेंट बनाने में उपयोग होता है?

**Options:**

- 1) Fe
- 2) An
- 3) Ag
- 4) W

**Correct Answer:** W**Candidate Answer:** Ag**QID : 142** - Which of the following trees shed their leaves once in a year?

निम्नलिखित में से कौन से वृक्ष वर्ष में एक बार अपनी पत्तियाँ गिरा देते हैं?

**Options:**

- 1) Deciduous trees  
पर्णपाती वृक्ष
- 2) Coniferous trees  
शंकुधारी वृक्ष
- 3) Evergreen trees  
सदाबहार वृक्ष
- 4) Both deciduous and coniferous trees  
पर्णपाती वृक्ष तथा शंकुधारी वृक्ष दोनों

**Correct Answer:** Deciduous trees

पर्णपाती वृक्ष

**Candidate Answer:** [ NOT ANSWERED ]

**QID : 143** - The Entrepreneurship Development Scheme (EDS) has been launched under New Economy Development Policy (NEDP) on January 19, 2017 at \_\_\_\_\_.

नई अर्थव्यवस्था विकास नीति (एन. ई. डी. पी.) के अंतर्गत 19 जनवरी 2017 को \_\_\_\_\_ में उद्दिष्ट विकास योजना (ई.डी.एस.) का शुभआरंभ किया गया है।

**Options:**

1) New Delhi

नई दिल्ली

2) Mizoram

मिज़ोरम

3) Gujrat

गुजरात

4) Uttar Pradesh

उत्तर प्रदेश

**Correct Answer:** Mizoram

मिज़ोरम

**Candidate Answer:** [ NOT ANSWERED ]

**QID : 144** - Who invented Dynamite?

डाइनामाइट का आविष्कार किसने किया?

**Options:**

1) J B Dunlop

जे बी डनलप

2) Alfred Nobel

अल्फ्रेड नोबेल

3) James Simons

जेम्स सिमोन्स

4) Peter Hargreaves

पीटर हार्ग्रीव्स

**Correct Answer:** Alfred Nobel

अल्फ्रेड नोबेल

**Candidate Answer:** [ NOT ANSWERED ]

**QID : 145** - 'Rovers cup' is associated with which of the following sport?

'रोवर्स कप' निम्नलिखित में से किस खेल से संबंधित है?

**Options:**

1) Football

फुटबॉल

2) Hockey

हॉकी

3) Golf

गोल्फ

4) Basketball

बास्केटबॉल

**Correct Answer:** Football

फुटबॉल

**Candidate Answer:** [ NOT ANSWERED ]

**QID : 146** - Dandia is a form of dance associated with which of the following state?

डांडिया लोक नृत्य निम्नलिखित में से किस राज्य से संबंधित है?

**Options:**

1) Haryana

हरियाणा

2) Punjab

पंजाब

3) Gujarat

गुजरात

4) Rajasthan

राजस्थान

**Correct Answer:** Gujarat

गुजरात

**Candidate Answer:** Rajasthan

राजस्थान

**QID : 147** - Who among the following was awarded with Dhronacharya Award 2016 in the field of 'Swimming (Lifetime)'?

निम्नलिखित में से किसे 'तैराकी (जीवनकाल)' के क्षेत्र में 2016 के द्रोणाचार्य पुरस्कार से सम्मानित किया गया था?

**Options:**

- 1) Shri Raj Kumar Sharma  
श्री राजकुमार शर्मा
- 2) Shri Sagar Mal Dhayal  
श्री सागर मल धायल
- 3) Shri S. Pradeep Kumar  
श्री एस. प्रदीप कुमार
- 4) Shri Nagapuri Ramesh  
श्री नागपुरी रमेश

**Correct Answer:** Shri S. Pradeep Kumar

श्री एस. प्रदीप कुमार

**Candidate Answer:** [ NOT ANSWERED ]**QID : 148** - 'Ace Against Odds' is an autobiography of which sports person?

'ऐस अगेन्स्ट ऑड्स' किस खिलाड़ी की आत्मकथा है?

**Options:**

- 1) Vishwanathan Anand  
विश्वनाथन आनंद
- 2) Sania Mirza  
सानिया मिर्ज़ा
- 3) Abhinav Bindra  
अभिनव बिंद्रा
- 4) Anjali Bhagwat  
अंजलि भागवत

**Correct Answer:** Sania Mirza

सानिया मिर्ज़ा

**Candidate Answer:** Sania Mirza

सानिया मिर्ज़ा

**QID : 149** - Under the framework of the new partnership with which country, Victory University will help India to Establish a National Sports University?

किस देश के साथ की गई नई साझेदारी के ढांचे के अंतर्गत विक्टोरिया विश्वविद्यालय भारत में राष्ट्रीय खेल विश्वविद्यालय के गठन में सहयोग करेगा?

**Options:**

- 1) Portugal  
पुर्तगाल
- 2) Australia  
ऑस्ट्रेलिया
- 3) Vietnam  
वियतनाम
- 4) USA  
संयुक्त राज्य अमेरीका

**Correct Answer:** Australia

ऑस्ट्रेलिया

**Candidate Answer:** [ NOT ANSWERED ]**QID : 150** - With which country India exchanged its border maps?

भारत ने किस देश के साथ अपने सीमा मानचित्रों की अदला-बदली की थी?

**Options:**

- 1) China  
चीन
- 2) Sri Lanka  
श्रीलंका
- 3) Pakistan  
पाकिस्तान
- 4) Bangladesh  
बांग्लादेश

**Correct Answer:** Bangladesh

बांग्लादेश

**Candidate Answer:** [ NOT ANSWERED ]**QID : 151** - What least value which should be added to 1812 to make it divisible by 7, 11 and 14?

1812 में छोटी से छोटी वह कौन सी संख्या जोड़ी जाए, ताकि यह 7, 11 तथा 14 से पूर्णतः विभाजित हो जाए?

**Options:**

- 1) 12
- 2) 36
- 3) 72
- 4) 154

**Correct Answer:** 36**Candidate Answer:** 12

**QID : 152** - A is 1.5 times efficient than B therefore takes 8 days less than B to complete a work. If A and B work on alternate days and A works on first day, then in how many days the work will be completed?

A, B से 1.5 गुणा कार्यकुशल है, इसीलिए वह एक कार्य को पूरा करने में B से 8 दिन कम लेता है। A तथा B एकांतर दिनों पर कार्य करते हैं तथा A कार्य को पहले दिन करता है, तो कार्य कितने दिन में पूरा हो जाएगा?

**Options:**

- 1) 17
- 2) 19
- 3) 19.5
- 4) 21

**Correct Answer:** 19

**Candidate Answer:** [ NOT ANSWERED ]

**QID : 153** - One of the diagonal of a rhombus is 70% of the other diagonal. What is the ratio of area of rhombus to the square of the length of the larger diagonal?

एक समचतुर्भुज का एक विकर्ण दूसरे विकर्ण का 70% है। समचतुर्भुज के क्षेत्रफल तथा लम्बी विकर्ण की लम्बाई के वर्ग का अनुपात क्या है?

**Options:**

- 1) 3 : 10
- 2) 3 : 20
- 3) 7 : 20
- 4) 7 : 10

**Correct Answer:** 7 : 20

**Candidate Answer:** 7 : 20

**QID : 154** - A shopkeeper sells a table at a discount of 20% and earns a profit of 60%. If he sells the same table at 40% discount, then what will be his new profit percent?

एक दुकानदार एक टेबल को 20% की छूट पर बेचकर 60% का लाभ कमाता है। यदि वह उसी टेबल को 40% की छूट पर बेचता है, तो उसका नया लाभ प्रतिशत क्या होगा?

**Options:**

- 1) 20
- 2) 30
- 3) 35
- 4) 40

**Correct Answer:** 20

**Candidate Answer:** 20

**QID : 155** - If  $A/3 = B/2 = C/5$ , then what is the value of ratio  $(C + A)^2 : (A + B)^2 : (B + C)^2$ ?

यदि  $A/3 = B/2 = C/5$ , तो  $(C + A)^2 : (A + B)^2 : (B + C)^2$  के अनुपात का मान क्या होगा?

**Options:**

- 1) 9 : 4 : 25
- 2) 25 : 4 : 9
- 3) 64 : 25 : 49
- 4) 49 : 25 : 64

**Correct Answer:** 64 : 25 : 49

**Candidate Answer:** 64 : 25 : 49

**QID : 156** - 5 years ago the average age of a family which includes father, mother and a son was 35 years. 3 years ago the average age of father and mother was 46 years. What is the present age (in years) of the son?

5 वर्ष पूर्व एक परिवार जिसमें माता, पिता तथा एक पुत्र है, उनकी औसत आयु 35 वर्ष थी। 3 वर्ष पूर्व माता तथा पिता की औसत आयु 46 वर्ष थी। पुत्र की वर्तमान आयु (वर्षों में) कितनी है?

**Options:**

- 1) 20
- 2) 24
- 3) 26
- 4) 22

**Correct Answer:** 22

**Candidate Answer:** 22

**QID : 157** - The cost price of 60 articles is same as the selling price of x articles. If there is a profit of 20%, then what is the value of x?

60 वस्तुओं का क्रय मूल्य x वस्तुओं के विक्रय मूल्य के बराबर है। यदि 20 प्रतिशत का लाभ होता है, तो x का मान क्या है?

**Options:**

- 1) 15
- 2) 30
- 3) 50
- 4) 80

**Correct Answer:** 50

**Candidate Answer:** 50

**QID : 158** - A person scores 45% of the total marks in the exam and still fails by 40 marks. The passing percentage of the exam is 55%. What is the maximum marks of the exam?

एक व्यक्ति एक परीक्षा में कुल अंकों का 45% अंक प्राप्त करता है तथा 40 अंकों से अनुत्तीर्ण हो जाता है। परीक्षा में उत्तीर्ण होने के लिए 55% अंक चाहिए। परीक्षा के अधिकतम अंक कितने हैं?

**Options:**

- 1) 300
- 2) 350
- 3) 400
- 4) 500

**Correct Answer:** 400

**Candidate Answer:** 400

**QID : 159** - A man starts running from point P at 11:00 a.m. with a speed of 10 km/hr. He runs for 2 hours and then takes a 1 hour rest. He continues this till he is caught by another man who starts at 2:00 p.m. from point P and runs non-stop at a speed of 15 km/hr towards the first man. At what time (in p.m.) will the first man be caught?

एक व्यक्ति 10 कि.मी. प्रति घंटा की गति से 11 पूर्वाह्न (ए. एम.) पर बिंदु P से दौड़ना शुरू करता है। वह 2 घंटे दौड़ता है और फिर 1 घंटा आराम करता है। वह ऐसा तब तक करता है जब तक वह एक दूसरे व्यक्ति द्वारा पकड़ा नहीं जाता है, जो 2 अपराह्न (पी. एम.) पर बिंदु P से दौड़ना शुरू करता है तथा वह 15 कि.मी. प्रति घंटा की गति से पहले व्यक्ति की तरफ बिना रुके दौड़ता है। पहला व्यक्ति कितने बजे (अपराह्न में) पकड़ा जायेगा?

**Options:**

- 1) 6:20
- 2) 4:40
- 3) 6:00
- 4) 5:30

**Correct Answer:** 4:40

**Candidate Answer:** [ NOT ANSWERED ]

**QID : 160** - The difference of compound interest and simple interest for 3 years and for 2 years are in ratio 23 : 7 respectively. What is rate of interest per annum (in %)?

3 वर्ष के लिये तथा 2 वर्ष के लिये चक्रवृद्धि ब्याज और साधारण ब्याज के बीच का अंतरों का अनुपात क्रमशः 23 : 7 है। ब्याज की वार्षिक दर (% में) कितनी है?

**Options:**

- 1) 200/7
- 2) 100/7
- 3) 300/7
- 4) 400/7

**Correct Answer:** 200/7

**Candidate Answer:** 200/7

**QID : 161** - If  $(x^2/yz) + (y^2/zx) + (z^2/xy) = 3$ , then what is the value of  $(x + y + z)^3$ ?

यदि  $(x^2/yz) + (y^2/zx) + (z^2/xy) = 3$ , तो  $(x + y + z)^3$  का मान क्या होगा?

**Options:**

- 1) 0
- 2) 1
- 3) 2
- 4) 3

**Correct Answer:** 0

**Candidate Answer:** 0

**QID : 162** - If  $x^{1/4} + x^{-1/4} = 2$ , then what is the value of  $x^{81} + (1/x^{81})$ ?

यदि  $x^{1/4} + x^{-1/4} = 2$ , तो  $x^{81} + (1/x^{81})$  का मान क्या होगा?

**Options:**

- 1) -2
- 2) 0
- 3) 1
- 4) 2

**Correct Answer:** 2

**Candidate Answer:** 2

**QID : 163** - If  $a(a + b + c) = 45$ ,  $b(a + b + c) = 75$  and  $c(a + b + c) = 105$ , then what is the value of  $(a^2 + b^2 + c^2)$ ?

यदि  $a(a + b + c) = 45$ ,  $b(a + b + c) = 75$  तथा  $c(a + b + c) = 105$ , तो  $(a^2 + b^2 + c^2)$  का मान क्या होगा?

**Options:**

- 1) 75
- 2) 83
- 3) 217
- 4) 225

**Correct Answer:** 83

**Candidate Answer:** [ NOT ANSWERED ]

**QID : 164** - If  $x^2 + (1/x^2) = 1$ , then what is the value of  $x^{48} + x^{42} + x^{36} + x^{30} + x^{24} + x^{18} + x^{12} + x^6 + 1$ ?

यदि  $x^2 + (1/x^2) = 1$ , तो  $x^{48} + x^{42} + x^{36} + x^{30} + x^{24} + x^{18} + x^{12} + x^6 + 1$  का मान क्या होगा?

**Options:**

- 1) - 9
- 2) 0
- 3) 1
- 4) 9

**Correct Answer:** 1

**Candidate Answer:** 1

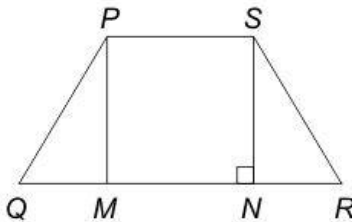
**QID : 165** -

In the given figure,  $PQRS$  is a trapezium in which  $PM \parallel SN$ ,  $NR = 9$  cm,  $PS = 12$  cm,  $QM = NR$  and  $NR = SN$ . What is the area (in  $\text{cm}^2$ ) of trapezium?

दी गई आकृति में,  $PQRS$  एक समलंब है जिसमें

$PM \parallel SN$ ,  $NR = 9$  से.मी.,  $PS = 12$  से.मी.,  $QM = NR$

तथा  $NR = SN$  है। समलंब का क्षेत्रफल (से.मी.<sup>2</sup> में) क्या है?



**Options:**

- 1) 170
- 2) 182
- 3) 189
- 4) 191

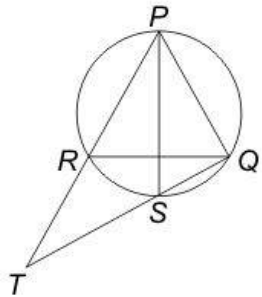
**Correct Answer:** 189

**Candidate Answer:** 189

QID : 166 -

In the given figure,  $PQR$  is an equilateral triangle and  $PS$  is the angle bisector of  $\angle P$ . What is the value of  $RT : RQ$ ?

दी गई आकृति में,  $PQR$  एक समबाहु त्रिभुज है तथा  $PS$ ,  $\angle P$  का कोण द्विभाजक है।  $RT : RQ$  का मान क्या है?



Options:

1) 1 : 2

2) 1 : 1

3) 2 : 1

4) 1 : 3

Correct Answer: 1 : 1

Candidate Answer: [ NOT ANSWERED ]

QID : 167 - Two chords of length 20 cm and 24 cm are drawn perpendicular to each other in a circle of radius is 15 cm. What is the distance between the points of intersection of these chords (in cm) from the center of the circle?

15 से.मी. की त्रिज्या वाले एक वृत्त में 20 से.मी. तथा 24 से.मी. की दो जीवाओं को एक दूसरे पर लंबवत खींचा जाता है। वृत्त के केंद्र तथा इन जीवाओं को काटने वाले बिंदु के बीच की दूरी (से.मी. में) कितनी है?

Options:

1)

 $\sqrt{114}$ 

2)

 $\sqrt{182}$ 

3)

 $\sqrt{206}$ 

4)

 $\sqrt{218}$ 

Correct Answer:

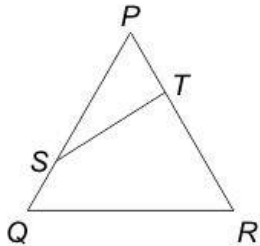
 $\sqrt{206}$ 

Candidate Answer: [ NOT ANSWERED ]

QID : 168 -

In the given figure,  $QRTS$  is a cyclic quadrilateral. If  $PT = 5$  cm,  $SQ = 4$  cm,  $PS = 6$  cm and  $\angle PQR = 63^\circ$ , then what is the value (in cm) of  $TR$ ?

दी गई आकृति में,  $QRTS$  एक चक्रीय चतुर्भुज है। यदि  $PT = 5$  से.मी.,  $SQ = 4$  से.मी.,  $PS = 6$  से.मी. तथा  $\angle PQR = 63^\circ$  है, तो  $TR$  का मान (से.मी. में) क्या है?



Options:

1) 3

2) 7

3) 9

4) 15

Correct Answer: 7

Candidate Answer: [ NOT ANSWERED ]

QID : 169 - What is the simplified value of  $\sin^2(90 - \theta) - \{\sin(90 - \theta)\sin\theta\}/\tan\theta$ ?

$\sin^2(90 - \theta) - \{\sin(90 - \theta)\sin\theta\}/\tan\theta$  का सरलीकृत मान क्या है?

Options:

1) 1

2) cosec  $\theta$ 

3) 0

4) cos  $\theta$ 

Correct Answer: 0

Candidate Answer: 0

QID : 170 -

What is the simplified value of  $\left[ \frac{\cos^2 \theta}{1 + \sin \theta} - \frac{\sin^2 \theta}{1 + \cos \theta} \right]^2$ ?

$\left[ \frac{\cos^2 \theta}{1 + \sin \theta} - \frac{\sin^2 \theta}{1 + \cos \theta} \right]^2$  का सरलीकृत मान क्या है?

Options:

1) sin  $\theta$ 2)  $1 - \sin 2\theta$ 3)  $1 + \sin 2\theta$ 4)  $1 - \sin \theta$ Correct Answer:  $1 - \sin 2\theta$ Candidate Answer:  $1 - \sin 2\theta$



**QID : 171** - If  $5 \sec \theta - 3 \tan \theta = 5$ , then what is the value of  $5 \tan \theta - 3 \sec \theta$ ?

यदि  $5 \sec \theta - 3 \tan \theta = 5$ , तो  $5 \tan \theta - 3 \sec \theta$  का मान क्या होगा?

**Options:**

- 1) 1
- 2) 2
- 3) 3
- 4) 4

**Correct Answer:** 3

**Candidate Answer:** 3

**QID : 172** -

The table below shows the distribution of number of people living in 8 different countries and the per capita income of each of the countries. The total population of these countries taken together is 200 crores.

Per capita income = total GDP of country/population of the country

नीचे दी गई तालिका में 8 विभिन्न देशों में रहने वाले लोगों का वितरण तथा सभी देशों की प्रति व्यक्ति आय को दर्शाया गया है। इन देशों की कुल जनसंख्या 200 करोड़ है।

प्रति व्यक्ति आय = देश का कुल सकल घरेलू उत्पाद (जी.डी.पी.)/देश की जनसंख्या

Country / देश	Distribution of number of people / लोगों का वितरण	Per capita income (in crore dollars) / प्रति व्यक्ति आय (करोड़ डॉलर में)
Country 1 / देश 1	12%	11850
Country 2 / देश 2	24%	5350
Country 3 / देश 3	15%	9900
Country 4 / देश 4	17%	4840
Country 5 / देश 5	7%	2200
Country 6 / देश 6	6%	6920
Country 7 / देश 7	11%	3190
Country 8 / देश 8	8%	10410

What is the difference (in crores) in population of the most and the least populated country?

सबसे अधिक तथा सबसे कम जनसंख्या वाले देशों के बीच जनसंख्या में कितना अंतर (करोड़ में) है?

**Options:**

- 1) 18
- 2) 32
- 3) 34
- 4) 36

**Correct Answer:** 36

**Candidate Answer:** 36

**QID : 173 -**

The table below shows the distribution of number of people living in 8 different countries and the per capita income of each of the countries. The total population of these countries taken together is 200 crores.

Per capita income = total GDP of country/population of the country

नीचे दी गई तालिका में 8 विभिन्न देशों में रहने वाले लोगों का वितरण तथा सभी देशों की प्रति व्यक्ति आय को दर्शाया गया है। इन देशों की कुल जनसंख्या 200 करोड़ है।

प्रति व्यक्ति आय = देश का कुल सकल घरेलू उत्पाद (जी.डी.पी.)/देश की जनसंख्या

Country / देश	Distribution of number of people / लोगों का वितरण	Per capita income (in crore dollars) / प्रति व्यक्ति आय (करोड़ डॉलर में)
Country 1 / देश 1	12%	11850
Country 2 / देश 2	24%	5350
Country 3 / देश 3	15%	9900
Country 4 / देश 4	17%	4840
Country 5 / देश 5	7%	2260
Country 6 / देश 6	6%	6920
Country 7 / देश 7	11%	3190
Country 8 / देश 8	8%	10410

What is the total GDP (in crore dollars) of country 5?

देश 5 का कुल सकल घरेलू उत्पाद (जी. डी. पी.) (करोड़ डॉलर में) कितना है?

**Options:**

1) 27120

2) 31640

3) 38280

4) 44660

**Correct Answer:** 31640

**Candidate Answer:** 31640

**QID : 174 -**

The table below shows the distribution of number of people living in 8 different countries and the per capita income of each of the countries. The total population of these countries taken together is 200 crores.

Per capita income = total GDP of country/population of the country

नीचे दी गई तालिका में 8 विभिन्न देशों में रहने वाले लोगों का वितरण तथा सभी देशों की प्रति व्यक्ति आय को दर्शाया गया है। इन देशों की कुल जनसंख्या 200 करोड़ है।

प्रति व्यक्ति आय = देश का कुल सकल घरेलू उत्पाद (जी.डी.पी.)/देश की जनसंख्या

Country / देश	Distribution of number of people / लोगों का वितरण	Per capita income (in crore dollars) / प्रति व्यक्ति आय (करोड़ डॉलर में)
Country 1 / देश 1	12%	11850
Country 2 / देश 2	24%	5350
Country 3 / देश 3	15%	9900
Country 4 / देश 4	17%	4840
Country 5 / देश 5	7%	2260
Country 6 / देश 6	6%	6920
Country 7 / देश 7	11%	3190
Country 8 / देश 8	8%	10410

What is the total GDP (in crore dollars) for the country with the third lowest per capita income?

तीसरी सबसे कम प्रति व्यक्ति आय वाले देश का कुल सकल घरेलू उत्पाद (जी. डी. पी.) (करोड़ डॉलर में) कितना है?

**Options:**

1) 181900

2) 108460

3) 145200

4) 164560

**Correct Answer:** 164560

**Candidate Answer:** 164560

**QID : 175 -**

The table below shows the distribution of number of people living in 8 different countries and the per capita income of each of the countries. The total population of these countries taken together is 200 crores.

Per capita income = total GDP of country/population of the country

नीचे दी गई तालिका में 8 विभिन्न देशों में रहने वाले लोगों का वितरण तथा सभी देशों की प्रति व्यक्ति आय को दर्शाया गया है। इन देशों की कुल जनसंख्या 200 करोड़ है।

प्रति व्यक्ति आय = देश का कुल सकल घरेलू उत्पाद (जी.डी.पी.)/देश की जनसंख्या

Country / देश	Distribution of number of people / लोगों का वितरण	Per capita income (in crore dollars) / प्रति व्यक्ति आय (करोड़ डॉलर में)
Country 1 / देश 1	12%	11850
Country 2 / देश 2	24%	5350
Country 3 / देश 3	15%	9900
Country 4 / देश 4	17%	4840
Country 5 / देश 5	7%	2260
Country 6 / देश 6	6%	6920
Country 7 / देश 7	11%	3190
Country 8 / देश 8	8%	10410

Which country has the highest total GDP?

किस देश की कुल सकल घरेलू उत्पाद (जी. डी. पी.) सबसे अधिक है?

**Options:**

- 1) Country 1  
देश 1
- 2) Country 2  
देश 2
- 3) Country 3  
देश 3
- 4) Country 8  
देश 8

**Correct Answer:** Country 3  
देश 3

**Candidate Answer:** [ NOT ANSWERED ]

**QID : 176 -** In the following question, some part of the sentence may have errors. Find out which part of the sentence has an error and select the appropriate option. If a sentence is free from error, select 'No error'.

Hardly had I reached the (1)/ exhibition where I learnt (2)/ about the major robbery. (3)/ No Error (4)

**Options:**

- 1) 1
- 2) 2
- 3) 3
- 4) 4

**Correct Answer:** 2

**Candidate Answer:** 2

**QID : 177 -** In the following question, some part of the sentence may have errors. Find out which part of the sentence has an error and select the appropriate option. If a sentence is free from error, select 'No error'.

No sooner did the sun rise (1)/ when we resumed the journey (2)/ after having a hasty breakfast. (3)/ No Error (4)

**Options:**

- 1) 1
- 2) 2
- 3) 3
- 4) 4

**Correct Answer:** 2

**Candidate Answer:** 2

**QID : 178** - In the following question, the sentence given with blank to be filled in with an appropriate word. Select the correct alternative out of the four and indicate it by selecting the appropriate option.

He \_\_\_\_\_ to the problem of air pollution in his speech.

**Options:**

- 1) averted
- 2) adverted
- 3) exclaimed
- 4) mentioned

**Correct Answer:** adverted

**Candidate Answer:** adverted

**QID : 179** - In the following question, the sentence given with blank to be filled in with an appropriate word. Select the correct alternative out of the four and indicate it by selecting the appropriate option.

Rohan is so magnanimous that everyone is always \_\_\_\_\_ to help him in his project.

**Options:**

- 1) eager
- 2) enthusiastic
- 3) reluctant
- 4) ignorant

**Correct Answer:** eager

**Candidate Answer:** eager

**QID : 180** - In the following question, out of the four alternatives, select the word similar in meaning to the word given.

**Succulent**

**Options:**

- 1) Sucking
- 2) Soft
- 3) Juicy
- 4) Pale

**Correct Answer:** Juicy

**Candidate Answer:** [ NOT ANSWERED ]

**QID : 181** - In the following question, out of the four alternatives, select the word similar in meaning to the word given.

**Congregation**

**Options:**

- 1) Discussion
- 2) Attention
- 3) Contraction
- 4) Assembly

**Correct Answer:** Assembly

**Candidate Answer:** Assembly

**QID : 182** - In the following question, out of the four alternatives, select the word opposite in meaning to the word given.

**Evanescent**

**Options:**

- 1) Enticing
- 2) Fleeting
- 3) Erratic
- 4) Elusive

**Correct Answer:** Enticing

**Candidate Answer:** [ NOT ANSWERED ]

**QID : 183** - In the following question, out of the four alternatives, select the word opposite in meaning to the word given.

**Panegyric**

**Options:**

- 1) Noxious
- 2) Criticism
- 3) Fantasy
- 4) Grandeur

**Correct Answer:** Criticism

**Candidate Answer:** [ NOT ANSWERED ]



**QID : 184** - In the following question, out of the four alternatives, select the alternative which best expresses the meaning of the idiom/Phrase.

**To put a spoke in one's wheel**

**Options:**

- 1) To be advantageous at the time of difficulty
- 2) To maintain under all circumstances
- 3) To blame the other party
- 4) To put a difficulty in the way of progress

**Correct Answer:** To put a difficulty in the way of progress

**Candidate Answer:** To put a difficulty in the way of progress

**QID : 185** - In the following question, out of the four alternatives, select the alternative which best expresses the meaning of the idiom/Phrase.

**At loggerheads**

**Options:**

- 1) To suffer
- 2) In conflict with someone
- 3) To face tough competition
- 4) To be in do or die situation

**Correct Answer:** In conflict with someone

**Candidate Answer:** In conflict with someone

**QID : 186** - Improve the bracketed part of the sentence.

She is **(the best and wisest)** girl in the class.

**Options:**

- 1) best and wisest
- 2) a best and a wisest
- 3) the best and the wisest
- 4) No improvement

**Correct Answer:** the best and the wisest

**Candidate Answer:** the best and the wisest

**QID : 187** - Improve the bracketed part of the sentence.

The people of Japan are **(wiser than America.)**

**Options:**

- 1) wiser than that of America.
- 2) wiser than those of America.
- 3) wiser to that of America.
- 4) No improvement

**Correct Answer:** wiser than those of America.

**Candidate Answer:** wiser than those of America.

**QID : 188** - In the following question, out of the four alternatives, select the alternative which is the best substitute of the phrase.

**One skilled in telling stories**

**Options:**

- 1) Ventral
- 2) Fanatic
- 3) Raconteur
- 4) Tyro

**Correct Answer:** Raconteur

**Candidate Answer:** Tyro

**QID : 189** - In the following question, out of the four alternatives, select the alternative which is the best substitute of the phrase.

**Fear of Fire**

**Options:**

- 1) Arsonphobia
- 2) Astraphobia
- 3) Astrophobia
- 4) Arrhenphobia

**Correct Answer:** Arsonphobia

**Candidate Answer:** Astrophobia

**QID : 190** - In the following question, four words are given out of which one word is incorrectly spelt. Find the incorrectly spelt word.

**Options:**

- 1) Hygeine
- 2) Fascist
- 3) Career
- 4) Apparel

**Correct Answer:** Hygeine

**Candidate Answer:** Hygeine

**QID : 191** - In the following question, four words are given out of which one word is incorrectly spelt. Find the incorrectly spelt word.

**Options:**

- 1) Reside
- 2) Revise
- 3) Advise
- 4) Demice

**Correct Answer:** Demice

**Candidate Answer:** Advise

**QID : 192** - The question below consists of a set of labelled sentences. Out of the four options given, select the most logical order of the sentences to form a coherent paragraph.

**P:** He raised his voice against idol-worship.

**Q:** People are generally very open and accept social changes with a positive attitude.

**R:** Swami Dayanand Saraswati is remembered with reverence and affection among the social reformers of the nineteenth century.

**S:** India is a country which respects spiritualism much more than materialism.

**Options:**

- 1) QRSP
- 2) PRSQ
- 3) RSPQ
- 4) SQRP

**Correct Answer:** SQRP

**Candidate Answer:** [ NOT ANSWERED ]

**QID : 193** - The question below consists of a set of labelled sentences. Out of the four options given, select the most logical order of the sentences to form a coherent paragraph.

**P:** For that we need people who possess not only high skills but high values as well.

**Q:** So the need of the hour is not only skill-based education but also value-inspired and value-based education.

**R:** When we talk of investing in education, a question arises as to what kind of education needs to be given to the youngster.

**S:** Our aim is to evolve not only an affluent society, but an egalitarian, just, humane and compassionate society.

**Options:**

- 1) SPRQ
- 2) PRQS
- 3) RQSP
- 4) RSPQ

**Correct Answer:** RSPQ

**Candidate Answer:** RSPQ

**QID : 194** - In the following question, a sentence has been given in Active/Passive voice. Out of four alternatives suggested, select the one which best expresses the same sentence in Passive/Active voice.

**Please guide me.**

**Options:**

- 1) You are requested to guide me.
- 2) You have been requested to guide me.
- 3) You were requested to guide me.
- 4) You are being requested to guide me.

**Correct Answer:** You are requested to guide me.

**Candidate Answer:** You are requested to guide me.

**QID : 195** - In the following question, a sentence has been given in Direct/Indirect speech. Out of the four alternatives suggested, select the one which best expresses the same sentence in Indirect/Direct speech.

**The teacher said, "The Earth revolves around the sun."**

**Options:**

- 1) The teacher said that the Earth is being revolving around the sun.
- 2) The teacher said that the Earth revolves around the sun.
- 3) The teacher said that the Earth revolved around the sun.
- 4) The teacher said that the Earth had been revolving around the sun.

**Correct Answer:** The teacher said that the Earth revolves around the sun.

**Candidate Answer:** The teacher said that the Earth revolved around the sun.

**QID : 196** - In the following passage some of the words have been left out. Read the passage carefully and select the correct answer for the given blank out of the four alternatives.

The \_\_\_\_\_ of energy in India are met from both commercial and non commercial sources. The most \_\_\_\_\_ sources of energy today are coal and natural gas, hydro electricity and nuclear power. On the other hand, firewood, cow-dung cakes and vegetable waste etc. \_\_\_\_\_ non commercial forms of energy. While non commercial forms of energy \_\_\_\_\_ demand, coal is the \_\_\_\_\_ source of commercial energy in India.

**The \_\_\_\_\_ of energy in India are met from both commercial**

**Options:**

- 1) requirements
- 2) sources
- 3) availability
- 4) lessen

**Correct Answer:** requirements

**Candidate Answer:** requirements

**QID : 197** - In the following passage some of the words have been left out. Read the passage carefully and select the correct answer for the given blank out of the four alternatives.

The \_\_\_\_\_ of energy in India are met from both commercial and non commercial sources. The most \_\_\_\_\_ sources of energy today are coal and natural gas, hydro electricity and nuclear power. On the other hand, firewood, cow-dung cakes and vegetable waste etc. \_\_\_\_\_ non commercial forms of energy. While non commercial forms of energy \_\_\_\_\_ demand, coal is the \_\_\_\_\_ source of commercial energy in India.

**and non commercial sources. The most \_\_\_\_\_ sources of energy today are coal and natural gas**

**Options:**

- 1) vital
- 2) insignificant
- 3) important
- 4) expensive

**Correct Answer:** important

**Candidate Answer:** important

**QID : 198** - In the following passage some of the words have been left out. Read the passage carefully and select the correct answer for the given blank out of the four alternatives.

The \_\_\_\_\_ of energy in India are met from both commercial and non commercial sources. The most \_\_\_\_\_ sources of energy today are coal and natural gas, hydro electricity and nuclear power. On the other hand, firewood, cow-dung cakes and vegetable waste etc. \_\_\_\_\_ non commercial forms of energy. While non commercial forms of energy \_\_\_\_\_ demand, coal is the \_\_\_\_\_ source of commercial energy in India.

**On the other hand, firewood, cow-dung cakes and vegetable waste etc. \_\_\_\_\_ non commercial forms of energy.**

**Options:**

- 1) constitutes
- 2) combines
- 3) mixes
- 4) collaborates

**Correct Answer:** constitutes

**Candidate Answer:** constitutes

**QID : 199** - In the following passage some of the words have been left out. Read the passage carefully and select the correct answer for the given blank out of the four alternatives.

The \_\_\_\_\_ of energy in India are met from both commercial and non commercial sources. The most \_\_\_\_\_ sources of energy today are coal and natural gas, hydro electricity and nuclear power. On the other hand, firewood, cow-dung cakes and vegetable waste etc. \_\_\_\_\_ non commercial forms of energy. While non commercial forms of energy \_\_\_\_\_ demand, coal is the \_\_\_\_\_ source of commercial energy in India.

**While non commercial forms of energy \_\_\_\_\_ demand,**

**Options:**

- 1) need
- 2) meet
- 3) shed
- 4) rests

**Correct Answer:** meet

**Candidate Answer:** meet

**QID : 200** - In the following passage some of the words have been left out. Read the passage carefully and select the correct answer for the given blank out of the four alternatives.

The \_\_\_\_\_ of energy in India are met from both commercial and non commercial sources. The most \_\_\_\_\_ sources of energy today are coal and natural gas, hydro electricity and nuclear power. On the other hand, firewood, cow-dung cakes and vegetable waste etc. \_\_\_\_\_ non commercial forms of energy. While non commercial forms of energy \_\_\_\_\_ demand, coal is the \_\_\_\_\_ source of commercial energy in India.

**coal is the \_\_\_\_\_ source of commercial energy in India.**



**Options:**

- 1) smallest
- 2) hardest
- 3) largest
- 4) heaviest

**Correct Answer:** largest

**Candidate Answer:** largest

