

100★學測 精彩解析

• 壽山高中 / 王億宇老師
• 名師 / 林菲老師
• 臺南一中 / 廖翠雲老師

社會 考科

【試題·答案】依據大考中心公布內容

》本書內容同步刊載於翰林我的網

發行人 / 陳炳亨
總召集 / 周耀琨
總編輯 / 蔣海燕
主編 / 陳俊龍
校對 / 廖素瑄 · 劉宥呈 · 林梅雅
美編 / 楊意雯 · 林淑惠

出版 / 民國一〇〇年二月
發行所 / 70248 臺南市新樂路 76 號
編輯部 / 70252 臺南市新忠路 8-1 號
電話 / (06) 2619621 #314
E-mail / periodical@hanlin.com.tw
翰林我的網 <http://www.worldone.com.tw>

NO.00847



翰林出版

歷史

壽山高中 ■ 王偲宇 老師

今年（100年）大學學測社會考科中的歷史科試題，就整體而言，其難度適中但略微偏難（中間偏難），雖有幾題接近送分題型，但也不乏幾題強調思考、推理、判斷的難題，而且有別於前年（98）學測僅有一個圖表的題型，今年同去年一樣，出現了五個圖表題型，且圖表的呈現型式少見於各版教科書與坊間參考書，可謂用心良苦、別出心裁，其個別特點將於各試題中再進行分析說明。以下即根據本次（100年）試題所呈現的類型與特色歸納成以下幾個表格，供讀者、參閱比較。

1 試題的各冊分配比重：

冊別	第一冊	第二冊	第三冊	第四冊
題號	25、30、33、34、 36、45、46	26、27、28、31、32、 35、37、38、39.	29、43、47、48	40、41、42、44
題數	7	9	4	4

就本次試題於各冊的分配比重而言，似乎是不太平均的，因為前四冊包括：臺灣史（一上）、中國史（一下）、世界史（二上；二下）的比例應為 1：1：2，但此次試題的比重分配卻呈現臺灣史、中國史、世界史的比例為 7：9：8。若以臺灣史、中國史、世界史等三大範疇來看，似乎是趨近於 1：1：1 的比例，但就實際教學的時數而言，世界史是分成上下兩冊而等同於臺灣史加上中國史的分量。但本次世界史的題數僅多臺灣史一題、卻比中國史還少一題，而本次試題比例分配的情形，會帶給教學現場的高中線上教師而言，在其教學或複習的時間或比例的分配上，多少會造成些許偏重的情形發生。當然這或許是出題教授的偏好或疏忽，也希望此份試題僅是特例，畢竟一份僅 24 題的學測歷史試題如能分配均勻於各冊，這對於教師的平衡教學與學生的均衡學習都是一個雙贏的局面。

2 試題的難易度比例：

難易度	題號	題數
難	26、41、42、45、47、48	6
中	27、28、29、31、33、35、37、38、40、43、44	11
易	25、30、32、34、36、39、46	7

就本次試題的難易度而言，分配還算是平均，偏易試題約有 7 題，偏難試題也有 6 題，難易適中題數則有 11 題左右。其中偏難試題的歸類上，有幾題應屬線索不明確或圖表呈現不清楚的情形，而難易尚稱適中的試題裡，其實有幾題也需要拐幾個彎才能解題的。其中的偏難試題多落在圖表題型之中，尤其這些圖表題型多需要運用地理學的觀念來統整判斷，其中最特別的部分，在於不少題型多以人口學入題，約有 5 題之多，這樣的情形是否未來會成為趨勢則必須加以注意。另外再從本次試題的內容來看，以時間年代或歷

史事件做為答題選項的題型約有 9 題左右，約占總題數的五分之二左右，在這部分便十分符合 95 暫綱核心能力之一的「時序觀念」，也就是歷史科有別於其他科目的特色之一，便是說它除了重視理解判斷與歷史思維能力的培養外，它就是一個「重視時間」的科目，當然今年以時間年代來入題的題型內容比起去年直接以時間的先後順序排列來入題的情況好得多。至少題幹所提示的關鍵，必須藉由四個選項所代表的四個時代、時期或年代時間點來判斷，這便是較符合四大核心能力之一「時序觀念」的。其次，需要運用「歷史理解」、「歷史解釋」與「史料證據」等能力的題型也不少，雖說此次史料閱讀的題型不像往年來的多，但需要透過深度理解與高層次思考、判斷的題型卻不少。甚至可以發現此次試題題幹的說明較為簡要，試題題幹敘述不長固然可以免去學生閱讀上的時間與困難，但其實也說明了提供的線索變少、需要思考判斷的部分卻大大地提高，例如前面提到的幾個圖表題型便有這樣的趨向，甚至有以圖表形式代替文字說明的味道在。因此，若教師教學上過於偏重知識記憶的層次，而未加強學生思考邏輯的判斷訓練或是看圖讀表的技巧方法，則應付類似此次試題的形式，就會比較吃虧。因為此次偏重記憶歷史知識點的題型雖不能說沒有，但比例已明顯下降，儘管此份試題呈現中間偏難的情形，但卻十分符合課綱所揭櫫的四大核心能力與「歷史思維」能力的培養。

3 試題的題型分配比例：

試題題型	簡述	情境	判斷	史料	圖表
題號	25、29、30、32、 33、35、36、46	37	26、28、31	27、34、38、 39、40、44	41、42、43、 45、47、48
題數	8	1	3	6	6

就本次試題的題型分配而言，仍以基本類型的簡述題為主，這類型的題目字數精簡，文字敘述約在三、四行之內，學生在閱讀上較為容易，但誠如上一段所述，相對而言，所提供的關鍵與線索也相對減少。而這些年常出現的史料題，在這份試題所占的比例也不少，約有 6 題左右，題材大概以中國近現代史、世界近現代史為主，但難度較往年容易許多，且每題史料的字數也不會太冗長。而情境題本次僅勉強將第 37 題歸入為唯一的 1 題，至於判斷題所占比例也不多，大概有 3 題。另外此次的圖表題則有 6 題之多，其中圖示題有 4 題（4 幅），表格題則有 2 題（1 表）。特別的是 5 張圖表中，有 4 張是跟人口的分布、比例、曲線與數據有關，因此不可不注意這樣的趨勢變化。整體而言，此次試題題型的分配還算中規中矩，但如果圖表題的呈現能夠更多元、更觸及不同時期或層面，將會更好。

4 試題的性質分類比例：

試題性質	政治制度軍事	社會經濟	宗教文化思想	史學方法
題號	25、26、28、30、32、33、 36、38、39、40、43、44	27、31、34、35、37、 41、42、45、46、47、48	29	—
題數	12	11	1	0

就本次試題的性質分類而言，跟去年以前的學測、指考有很大的不同，即又恢復到早年「政治制度軍事」性質題型居多的情形，此次學測 24 題歷史題目中，「政治制度軍事」性質的占了一半，有 12 題之多，而「社會經濟」性質的試題也幾乎占了一半，也有 11 題之多，至於「宗教文化思想」性質的試題則勉強計入 1 題，而「史學方法」性質的試題則完全沒有。此次試題的性質確實與前幾次試題的性質大相逕庭，不知只是一個特例，還是未來有可能走回過去老路的趨勢，則有待再觀察。畢竟之前的學測或指考都出現同樣的趨勢，那就是關於「政治制度軍事」類型的題目比例明顯下降許多，而與「社會經濟」或「宗教文化思想」類型的題目則是愈來愈多，而且前幾年不斷出現的有關「史學方法」的題型亦不能輕忽。因此，今年學測歷史試題性質的這般大轉向，或許在五個月後的指考前或明年學測前，都是讓線上高中教師不能不去特別注意的。

5 值得再商榷的部分：


本次學測的題目已盡量改進了往年在測驗後的檢討會裡提出的部分缺失，然而好還要再更好，畢竟關乎數萬名考生的前途，因此還是不能不謹慎，以下便是針對此次試題的一些小瑕疵，提出粗淺的看法與所有教師與考生參考討論。

其一：前面已提到的各冊試題比重部分，世界史的題目偏少，而臺灣史與中國史的題目則過多。若能 24 題平均分配到四冊當中，每冊約占 6 題左右，則線上教師的教學與應考學生在學習上就不會有所偏廢，而能讓每段歷史、每個範圍較能兼顧而不輕易放掉。

其二：臺灣史雖然出了 7 題，但臺灣史的四個章節中，卻有 4 題集中在第三章——日治時期，這樣的比重分配並不是很恰當，容易造成臺灣史過於強調日治時期的重要性。

其三：中國史六個章節裡，似乎第六章——「共產中國」較容易被忽略而較少出現在大考的測驗試題中，其次中國現代史的試題裡亦多偏重分裂政權的題型，例如「滿洲國」、「抗戰時期」，這些都是值得去注意、商榷的。

其四：世界史的試題，以今年而言，似乎許多世界歷史發展的關鍵與重點都未入題，除了前面提到世界史的題目數量偏低外，還有就是出現的題目多著重在近現代史、甚至是當代史，而世界上古、中古與近世史較少，或許可以解釋為符合課綱所提的「略古詳今」原則。不過在世界史的題目裡，其中幾題題幹所提供解題的關鍵而必須利用到歷史層次的知識點或解釋能力則較有限，這對於教師的教學與學生的學習上多少會有一些影響。例如第 47、48 題解題關鍵的表格數據，就比較含糊而無法清楚判斷。

其五：此份試題運用了五個圖表，其呈現方式看似新穎、活潑，卻跟歷史層次的知識點與解題分析能力較無直接關聯，例如第 41 題的圖四、第 42 題的圖五與第 45 題的圖七，就有標示不清以及文字題幹過於簡略的情形存在，另外其相應的選項也多與歷史教學的主軸較無直接關聯性，反倒類似地理學科的經濟地理、人文地理的主題圖形，雖說「史地不分家」，但測驗的目的還是應該回到歷史學的層次上，這樣的評量才更有意義。 

今年學測社會考科地理部分，依冊別和題型整理如下表：

題型 \ 冊別	一	二	三	四	總計
一般圖及照片	4	1	2	0	7
統計圖表	6	1	5	0	12
文字敘述	0	1	1	3	5
總計	10	3	8	3	24

和往年的學測題目比較，分冊依然是第一冊占較大比重，而題型則仍是以統計圖表的題型較多。相關的時事題目仍會出現（56～58題），準備時應會先知道該事件發生的位置，再來是相關的自然或人文環境特色，以及該事件的後續影響。

各冊題目數量雖然差異頗大，但同樣要熟悉地名，例如第52和第53題，如果都不知道這些地名，就完全無法作答。題目取材四平八穩，以歐、美、澳紐等地為命題重點區域，配合通論地理的部分，應不難作答。

縱觀今年的考題，配合往年題目，未來準備地理科學測有以下幾點仍需持續注意：

1 各種統計圖表判讀：

地理學是將地表現象簡化，呈現出來的空間資料就是統計地圖，屬性資料就是一般統計圖表。地理學相當重視圖表呈現，等高線圖、氣候圖也是統計地圖。屬性資料如何和空間相結合，如何利用這些資料正確解釋地理現象，並進一步應用在生活上，是地理學相當重要的使命。往年純文字敘述的題目比例都在一半以下，顯示圖表閱讀能力的重要性。若不是以純文字敘述的題目出現，則統計圖表出現的比例仍較素描或照片出題的比例高。

2 照片判讀：

以照片出題時，著重地景判讀。小範圍的地景著重在自然的植被和人文的文化地景，大範圍的地景則以航空照片或衛星影像呈現，表現的大多是地貌起伏。熟悉各種自然和人文的景觀，以及各個景觀區的地理特性，仍是得分的關鍵。所以平時培養觀察的能力非常重要，鼓勵學生多看多聽。

3 純文字敘述的題目常以多選式的單選題出現：

地理大考的選擇題只考單選題已行之有年，答題技巧和複選及多選都不同。純文字題為了提高難度及鑑別度，多非簡單的問句，而是以多個選項中選出數個適當的答案，也因此，題目敘述較冗長，作答時應耐心看完題目。

4 熟悉世界各地重要地名及位置：

地名常出現在考題中，以地理語言的方式置入題目中，例如：第53題，如果不熟悉地名，則完全不可能作答。

5 注意時事：

與環境、災難、經濟等相關的事件，其發生地區常成為命題素材。學測時不一定會考出該事件，但該地的自然和人文環境特色要特別注意。



1 前言：

今年的學測試題整體而言，屬於中偏易的題型，考生只要有念書，看清楚題意就能輕易獲得高分；沒有特別刁鑽的難題、沒有超出課本範圍的題目、也沒有純記憶題，是一份具有鑑別度的題目，唯一的缺點是部分題目的選項出現爭議，容易讓考生產生誤判，屬於題意、選項不清的題目。

2 99 與 100 年學測之各冊比重比較：

考試 冊別	99 年學測		100 年學測	
	題數	出題內容	題數	出題內容
第一冊 社會與文化	7 題	性別刻板印象、我族中心主義、人格發展理論、社區營造、志工旅行、公共性、群己關係	6 題	文化中心主義、團體性質與志願性、社區發展、親密關係、米德的兩個我、性別與教育程度
第二冊 教育與法律	6 題	刑法、正當程序、民法、公共倫理、人權、民法與消保法	7 題	性別與教育程度、民法的買賣、民法的行為能力與賠償責任、民法的繼承、法益的種類、法律的原則、權利救濟與大法官釋憲
第三冊 政治學	6 題	程序民主、萬能政府與有限政府、行政中立、國民外交、我國政府體制、國家的目的	6 題	我國的民主憲政發展、我國政府體制與他國的比較、五都選舉、責任政治、內閣制與政黨體制、聯合內閣
第四冊 經濟學	5 題	供需原理、GDP、市場失靈、生產可能線	6 題	需求法則、永續發展、進出口對 GDP 與 GNP 的影響、關稅的效果、供給量、需求量

(一)兩年的試題在各冊的分配上，呈現平均分配的現象，各冊均在 6 題左右，相差的題數為 1 題，99 年的第一冊為 7 題，第四冊則為 5 題；而在 100 年的試題上，出現更平均分配的現象，每冊均為 6 題，因為有一題是「性別與教育程度」的題目橫跨第一、二冊，因此第二冊就出現 7 題的現象，而第四冊也在補足題數後呈現 6 題。

(二)在各冊各章的試題分配上，出現明顯的偏頗現象，第一冊出題較為平均，除了第三章婚姻與家庭未出題外，其餘各章均有出題；第二冊明顯偏重在《民法》的內容，從最基本的行為能力與賠償責任、債編的買賣到繼承編，共出了 3 題，占第二冊出題數的 50%，教育、權利救濟與人權保障（釋憲）、刑法的法益、法律基本原則

均有考題，有刻意偏略第 1～5 章的內容；第三冊則強調政府體制與政黨政治以及選舉間的關係，共出現 4 題，強調第 3、5 章的內容，強調政治學與時事的結合運用，而我國民主憲政的發展，五都選舉、責任政治均入題；第四冊明顯強調市場經濟制度，供需法則共出現 3 題，強調國際貿易的議題（進出口對 GDP、GNP 的影響，關稅的效果）以及永續發展的議題，第 1、3、6 章未出題（機會成本、比較利益、生產要素、貨幣政策）。

(三)從試題中可以發現，第一冊的出題重點不變，第二冊強調法律的實用性，第三冊強調政治與時事的結合，第四冊與經濟景氣現象的時事脫節，轉向基本的供需法則。

3 100 年部分試題分析：

(一)第 6 題，大考中心的正確答案為(C)，然而從圖表上發現，兩性之間受高等教育在 34～35 歲之間，曾經有反轉交叉點，意味著曾經出現平衡，之後女性受高等教育開始高於男性，又開始拉大差距，只是從 55～64 歲階段與 25～34 歲階段的差距來看，差異的縮小比例有限，大考中心應該研發出更好的答案。

(二)第 8 題，小華屬於限制行為能力者，因此面對損害賠償責任時，依《民法》第 187 條：「無行為能力人或限制行為能力人，不法侵害他人之權利者，以行為時有識別能力為限，與其法定代理人連帶負損害賠償責任。……」大考中心給(A)選項的答案，似乎過於簡單，而(D)選項也因為法律無明文規定父母需付一半賠償責任而錯誤，建議大考中心應將(A)選項再加入其法定代理人的連帶賠償責任，以促使選項更完整。

(三)第 10 題，屬於較細的題目，在版本上僅南一版與三民版提到，龍騰版則未提到，對於使用龍騰版的考生，產生明顯不公平。

(四)第 11 題，乍看之下會以為是純記憶題，其實不是；考生必須充分了解我國的民主憲政發展，這些事件是環環相扣的，有前才有後，對於臺灣民主憲政發展有興趣的考生將很輕易作答，反之可能叫苦連天。

(五)第 12 題，(A)選項其實不是完全正確的答案，我國總統任命行政院院長與法國總統任命總理的方式，仍存在差異性；法國總統依憲政慣例任命國會多數黨黨魁為總理，我國則是總統依《憲法增修條文》有權直接任命行政院院長，總統享有完全的人事任命權，不受限於憲政慣例或其他形式的約束；僅能說其他選項錯得較為明顯，而(D)選項考德國眾議院為單一選區兩票制聯立制，屬於純記憶題，較不推薦此種出題方式。

(六)第 13 題，大考中心給的答案是(B)，其實根據《地方制度法》第 58 條第 2 項規定：「直轄市之區由鄉（鎮、市）改制者，改制日前一任仍在職之鄉（鎮、市）長，由直轄市長以機要人員方式進用為區長。……」意味著新北市長、臺中市長、臺南市長三位直轄市長並未擁有完全的區長的任命人事權；建議大考中心應將(B)選項修改得更完整。

(七)第 15 題，對於需求法則觀念清楚的考生，是一題送分題，反之對於需求與需

求量搞不清楚者，則是一題艱深的難題；此類型的題目屬於觀念釐清題，最具有鑑別度，能鑑別出學生的程度。

(八)第 17 題，(B)容易讓考生誤判， $GDP=C+I+G+(X-M)$ ，因此當臺灣進口汽車時， M 將提高，意味著臺灣的 GDP 可能減少，若沒有其他較適當選項時，考生可能會選(B)；然而(D)選項確定無誤，考生也就只好捨棄(B)改選(D)。

(九)第 18 題，該題強調調降「進口」關稅，考生若未仔細研讀題目，僅看到關稅就開槍，很容易選(A)，因此這題同時考驗了考生對題目的閱讀仔細度。

(十)第 20 題，與第 18 題相同，重點在於考生是否有讀到「判決確定」的字眼，否則容易以為可以採刑事訴訟制度的上訴；另外有關大法官釋憲的答案，屬於選修公民與社會的內容，因此此題有作球給社會組考生之嫌。

(十一)第 24 題，不論在南一版、三民版還是龍騰版的經濟學課本中，均未提到需求曲線的公式，但是在書商給的測驗卷中卻常出現，因此對有練習過的考生較為有利；其實這是屬於 $Q=aP+b$ 的直線方程式，不論是社會組或自然組的考生，皆可利用數學能力而推演出公式，當然對於數理能力較強的自然組考生較為有利。

4 結論：

24 題公民與社會的學測題，平均分配在各冊，題目簡單清楚，對於有下過基本功的考生而言，是一份具有鑑別度的題目，如果大考中心日後的考題能朝此方向發展，對高中生來說，準備公民與社會科將更容易了。



壽山高中 ■ 王偲宇 老師
 名 師 ■ 林 菲 老師 聯合解題
 臺南一中 ■ 廖翠雯 老師

單選題（占 144 分）

說明：第 1 題至第 72 題皆是單選題，每題均計分，每題 4 個選項，其中只有一個是最適當的答案，畫記在答案卡之「選擇題答案區」。各題答對得 2 分；未作答、答錯、或畫記多於一個選項者，該題以零分計算。

1. 有一首經典卡通歌曲是女主角印地安人對男主角白人軍官所唱，其中一段歌詞為：「你認為只有那一些看起來與你相同、或思考與你一致的人才與你同類。但如果你試著以不同的腳步去探索，你將可以了解到很多你從不知道的事。」下列哪個概念最能表示這段歌詞傳達的看法？
 (A)多元文化 (B)主流文化 (C)精緻文化 (D)邊緣文化

答 案 (A)

命題出處 公民與社會第一冊第 8 章：多元文化

測驗目標 了解多元文化的意義

解 析 多元文化是指各種不同的文化並存於社會中，彼此自然地交流與變遷，並能互相了解、尊重甚至採取包容的態度來面對；而各種文化之間仍保有其特質，此種多元現象將促進整體社會文化的豐富、開放與活力。題目中提到：「但如果你試著以不同的腳步去探索，你將可以了解到許多你從不知道的事。」這就是多元文化所提到的寬容與尊重包容的態度。(B)主流文化是指社會中大多數人所共同擁有的價值觀念、制度與生活方式。(C)精緻文化是指掌握社會大多數資源的社會菁英所發展出來的文化，但其基本價值與內涵仍獲得社會的認同。(D)邊緣文化是指正處於被歧視、排擠、忽略，正逐漸消失中的次文化，常見於處於政治與經濟弱勢的弱勢族群。

難 易 度 易

類 似 題 《學測週計畫·公民與社會》第 39 頁第 18 題，第 40 頁第 31 題。
 《學測新導向·公民與社會》第 72 頁第 3、6 題，第 73 頁第 11 題，第 162 頁第 19 題，第 329 頁第 21 題。

2. 人們常主動參與各類團體，例如林同學除了加入學校社團「幼幼社」外，也利用課餘時間前往「仁愛之家」慰訪老人，還參加過「世界展望會」舉辦的「飢餓三十」活動，又常到「創世基金會」擔任義工。對於林同學所參與的團體，下列相關敘述何者正確？

- (A) 幼幼社屬於志願團體，也是非正式團體
 (B) 仁愛之家屬於初級團體，也是營利團體
 (C) 世界展望會屬於次級團體，也是志願團體
 (D) 創世基金會屬於非正式團體，也是非營利團體

答案 (C)

命題出處 公民與社會第一冊第 5 章：公共性與社會生活、第 6 章：社會團體與結社

測驗目標 了解志願性與團體的性質

解析 團體的分類如下所示：

初級團體	又稱為直接團體，成員少，彼此互動密切，主要是以情感為主，是人類最初的團體，屬於非正式關係、親密、情感取向、小團體、全面性互動；例如家庭、幫派、宗親會、親戚、密友群
次級團體	又稱為間接團體，成員多，彼此的互動以功能為中心，具有工具傾向，缺乏感情，屬於正式關係、功利、工具取向、大團體、局部性互動；例如公司、學校、工廠、政黨
正式團體	有正式編制且依照一定的程序而成立，團體內部嚴謹，有明確目標與權利義務關係，採科層化管理；例如公司、學校、政府
非正式團體	無明顯編制與任務，非正式組織，一般就是初級組織；例如家庭、友伴
志願團體	基於個人意願選擇參加的團體；例如社團、政黨、志工
非志願團體	非志願或能選擇，是被迫加入；例如監獄、義務役軍人
政府組織 (第一部門)	各級政府及其內部單位，政府間形成的國際組織；例如中央政府、臺北市政府、聯合國、世界貿易組織
營利團體 (第二部門)	以獲取利潤為成立目的之團體；例如統一企業、臺塑公司
非營利團體 (第三部門)	以民間人士為組成分子，大多是公益性質，通常為 NGO、NPO；例如慈濟功德會、紅十字會、董氏基金會

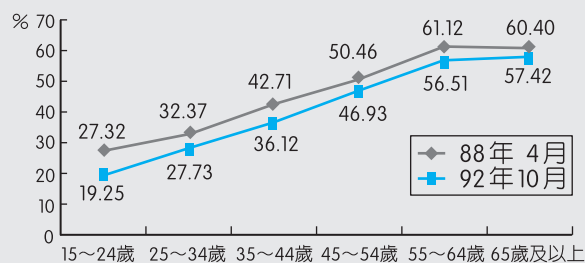
(A)幼幼社為學校社團，社員採志願加入方式，屬於有組織有編制有工作目標的團體，此被歸為正式團體。(B)仁愛之家為屬於協助政府推動社會福利政策，安養孤寡殘疾老弱之非營利機構，因此為次級團體與非營利組織。(C)創世基金會為照顧植物人、走失老人、街友的民間團體，因此屬於正式團體與非營利團體。

難易度 易

類似題 《學測週計畫·公民與社會》第 25 頁第 15 題，第 38 頁第 9 題，第 40 頁第 25 題，第 41 頁第 39 題。

《學測新導向·公民與社會》第 55 頁第 14 題，第 57 頁第 22、30 題，第 331 頁第 31 題，第 329 頁第 19 題。

3. 圖一顯示國人與鄰居往來密切的比率，是觀察社區生活及人際互動的重要指標。根據圖中資料分析，下列何者最符合實際情況？



圖一

- (A)國人與鄰居往來程度，女性平均要比男性高
 (B)隨著時序的前進，國人與鄰居往來程度有上升現象
 (C)國人與鄰居往來程度，傳統村落要比都市街坊社區高
 (D)隨著年齡的增加，國人與鄰居往來程度呈現上升的趨勢

答案 (D)

命題出處 公民與社會第一冊第 5 章：公共性與社會生活

測驗目標 藉由圖表資料來分析社區發展

解析 從圖表資料中可以發現，隨著年紀的增長，與鄰居往來密切的比率隨之提高，顯示出年紀愈高者愈願意與鄰居保持密切的聯繫與互動關係；另外隨著時間的推進，88 年願意與鄰居互動的整體比率高於 92 年，也顯示出現代社會中，國人與鄰居往來的密切程度有下降的現象。(A)資料中並無男女比例的相關資料。(B)整體呈現下降現象。(C)資料中並無顯示出屬於傳統村落或都市街坊，因此無法判讀。(D)隨著年齡提高，與鄰居互動度提高，88 年和 92 年的資料均為如此。

難易度 中

類似題 《學測新導向·公民與社會》第 47 頁第 12、15 題。

4. 親密關係已成為現代人日常生活中私生活的基本特徵，下列關於它的敘述何者正確？
- (A)親密關係專指人與人之間依賴與親近的互動
 - (B)親密關係是屬於私領域的範疇，不涉及公共性
 - (C)俗諺「天下無不是的父母」是親密關係的確實寫照
 - (D)親密關係常有自我坦白的過程，也可能成為權力控制的工具

答案 (D)

命題出處 公民與社會第一冊第 4 章：從親密關係到群己關係

測驗目標 了解親密關係的內涵

解析 (A)親密關係藉由親密、承諾與激情三元素來營造，根據元素程度組合，產生的親密關係種類包括親情、友情、愛情、同事之情、寵物之情，其中人與寵物之間的感情，也被稱為親密關係，因此親密關係並不局限於人與人之間的親密互動。(B)親密關係涵蓋公領域與私領域，特別是現代社會的法律也會介入私領域中，例如《民法》、《刑法》與《家庭暴力防治法》等。(C)隨著家暴事件以及失職父母頻傳，社會大眾目前不再普遍認同「天下無不是的父母」，同時俗諺與親密關係的關聯性低。(D)學者雷斯 (Ira Riess) 提出愛情之輪的理論，指出愛情有和諧投契、自我揭露、相互依賴、親密關係的滿足的發展階段，隨著愛情和諧的增加而帶動其他關係的加溫；而在自我揭露分享彼此的隱私之後，便有可能成為對方控制自己的把柄。

難易度 易

類似題 《學測新導向·公民與社會》第 38 頁第 4、5 題。

5. 我國某一旅美職棒投手說道：「如果沒有好好努力和表現，拿出好成績來，個人將難以對父親交代，也無法面對鄉親。」下列哪個關於米德 (George H. Mead) 自我概念的敘述，包括客我 (me) / 主我 (I) 及概化他人 (generalized others) / 重要他人 (significant others)，最能正確表達這樣的說法？
- (A)父親代表自我中的客我，也象徵自我形成過程中的概化他人
 - (B)鄉親代表自我中的客我，也象徵自我形成過程中的概化他人
 - (C)父親代表自我中的主我，也象徵自我形成過程中的重要他人
 - (D)鄉親代表自我中的主我，也象徵自我形成過程中的重要他人

答案 (B)

命題出處 公民與社會第一冊第 1 章：自我與社會

測驗目標 能運用米德的兩個我

解析 主我是指主觀、未社會化的我，客我是指客觀、已社會化的我，重要他人是指對自己有影響力的一小群人，例如家人、好友，而概化他人通常是指一般的社會大眾或是社會規範對自己的影響力。因此父親與鄉親都是代表自我中的客我，但是對旅美職棒選手而言，父親是親密家人因此屬於重要他人，而鄉親則為一般社會大眾的概化他人。

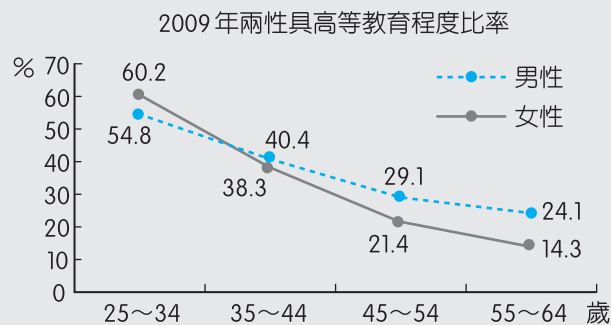
難易度 易

類似題 《學測週計畫·公民與社會》第 38 頁第 12 題。



《學測新導向·公民與社會》第 12 頁第 9 題，第 13 頁第 19、20 題，第 164 頁第 29 題。

6. 圖二顯示 2009 年我國兩性具高等教育程度比率，由此圖分析，下列敘述何者最可能是錯誤的？



圖二

- (A) 兩性受高等教育之比率隨年齡的降低而逐漸提高
 (B) 隨著高等教育普及，性別學歷落差出現反轉現象
 (C) 兩性受高等教育之差異隨年齡的降低而逐漸縮小
 (D) 高等教育普及之後，女性受惠程度反較男性為高

答案 (C)

命題出處 公民與社會第二冊第 1 章：教育、公民素養與終身學習，第 2 章：倫理、道德與社會生活

測驗目標 分析受高等教育與性別之間的關係

解析 從圖表中可以發現，年紀愈長者其受高等教育的比率愈低，其中女性的比率又低於男性；年紀愈輕者其受高等教育的比例則逐漸提高，在 34 ~ 35 歲時則發生反轉交叉現象，受高等教育的女性開始高出男性。(C) 兩性之受高等教育比率的差異，原先是男性高於女性，在 34 ~ 35 歲時產生反轉交叉現象後，出現女性高於男性，差距仍存在並無明顯的縮小。

難易度 中

類似題 《學測新導向·公民與社會》第 21 頁第 11 題，第 23 頁第 28 題。

7. 一群高中同學逛街，看到某間賣傘的商店貼出這樣的告示：「晴天買傘八折，雨天買傘不打折！」大家很感興趣，七嘴八舌的討論起來。關於同學們的討論內容，下列哪種看法較為正確？
- (A)同樣的雨傘在同一間店裡，為什麼在雨天和晴天有不同的價格？這違反公平交易原則
- (B)傘店老闆對自己所有之雨傘，可以自由決定出售的價格，你不高興可不買啊！所以並沒有違法
- (C)雨天很多人急需用傘，老闆偏偏在此時不打折，利用人急迫的情況，收取較高的價錢，應是違法的
- (D)雨天用全額價錢買傘的顧客，可以在晴天的時候，向傘店老闆要求返還相當於雨傘價格二成的不當得利

答案 (B)

命題出處 公民與社會第二冊第 6 章：民法與生活

測驗目標 了解《民法》的買賣契約關係

解析 買賣屬於《民法》的債編內容，根據《民法》第 345 條：「稱買賣者，謂當事人約定一方移轉財產權於他方，他方支付價金之契約。當事人就標的物及其價金互相同意時，買賣契約即為成立。」因此只要買方與賣方對於商品與價格合意，買賣就成立。(A)《公平交易法》第 1 條：「為維護交易秩序與消費者利益，確保公平競爭，促進經濟之安定與繁榮，特制定本法；本法未規定者，適用其他有關法律之規定。」強調確保公平競爭，因此傘店售價與公平交易無關。(C)傘店老闆提高雨傘的雨天售價，因為不屬於聯合壟斷或獨占市場，消費者仍有選擇購買與否的餘地，因此不違法。(D)買賣成立後，代表雙方同意契約內容才成交，因此不得片面毀約，而《民法》第 179 條針對不當得利的定義：「無法律上之原因而受利益，致他人受損害者，應返還其利益。雖有法律上之原因，而其後已不存在者，亦同。」傘店老闆的行為不屬於不當得利。

難易度 易

類似題 《學測新導向·公民與社會》第 132 頁第 12 題，第 133 頁第 17、19 題。

8. 小華現年 16 歲，某日借同學的機車出外兜風，在十字路口不慎撞倒正在斑馬線上過馬路的老伯，老伯因此倒地受傷。依《民法》規定，小華屬限制行為能力人。關於小華是否應負《民法》上責任，下列敘述何者正確？
- (A) 依法應負損害賠償責任
 (B) 依法不負損害賠償責任
 (C) 須經法定代理人的承認，才負損害賠償責任
 (D) 依法僅負一半的損害賠償責任，另一半由其父母賠償

答案 (A)

命題出處 公民與社會第二冊第 6 章：民法與生活

測驗目標 了解《民法》的行為能力與賠償責任

解析 《民法》第 13 條：「未滿七歲之未成年人，無行為能力。滿七歲以上之未成年人，有限制行為能力。未成年人已結婚者，有行為能力。」第 184 條：「因故意或過失，不法侵害他人之權利者，負損害賠償責任。故意以背於善良風俗之方法，加損害於他人者亦同。違反保護他人之法律，致生損害於他人者，負賠償責任。但能證明其行為無過失者，不在此限。……」第 187 條：「無行為能力人或限制行為能力人，不法侵害他人之權利者，以行為時有識別能力為限，與其法定代理人連帶負損害賠償責任。行為時無識別能力者，由其法定代理人負損害賠償責任。前項情形，法定代理人如其監督並未疏懈，或縱加以相當之監督，而仍不免發生損害者，不負賠償責任。……」因此 16 歲的小華屬於限制行為能力者，其法定代理人原則上必須負連帶賠償責任，但是仍可不必負連帶賠償責任。(D) 並無規定當事人與法定代理人一人負擔一半的規定。

難易度 易

類似題 《學測週計畫·公民與社會》第 77 頁第 18 題。

《學測新導向·公民與社會》第 132 頁第 6 題，第 157 頁第 10、11 題。

9. 爸爸去世後，留下媽媽、哥哥以及收養的妹妹三人。媽媽認為妹妹不是她親生的，何況又是女兒，遲早要嫁人，因此決定把爸爸的遺產全部留給哥哥。根據現行《民法》規定，下列敘述何者正確？
- (A) 嫁出去的女兒如潑出去的水，女兒本就沒有繼承權，媽媽的決定合法
 (B) 爸爸和妹妹無血緣關係，妹妹本就不得主張繼承權，媽媽的決定合法
 (C) 媽媽的決定雖與《民法》規定不符，但因符合傳統習慣，其決定仍為合法
 (D) 依《民法》的規定，被收養的妹妹也一樣具有繼承權，媽媽的決定不合法

答案 (D)

命題出處 公民與社會第二冊第 6 章：民法與生活

測驗目標 了解《民法》的繼承編內容

解 析 《民法》第 1138 條：「遺產繼承人，除配偶外，依左列順序定之：一、直系血親卑親屬。二、父母。三、兄弟姊妹。四、祖父母。」第 1077 條第 1 項：「養子女與養父母及其親屬間之關係，除法律另有規定外，與婚生子女同。」因此兒子、養女均具有相同的繼承權，媽媽的決定違法。(C)《民法》第 1 條：「民事，法律所未規定者，依習慣；無習慣者，依法理。」既然《民法》對於繼承有相關規定，自然先遵守《民法》的規定，而不依習慣或習俗。

難易度 易

類似題 《學測週計畫·公民與社會》第 69 頁第 27 題。
《學測新導向·公民與社會》第 134 頁第 27 題。

10. 上完公民課後，同學們針對課堂上探討的「刑法與生活」相關內容，熱烈地討論各種犯罪行為可能侵害到的法益類型。下列四位同學的說法何者正確？
- (A) 阿中：偽造文書的行為是屬侵害國家法益之罪
(B) 阿華：酒醉駕駛的行為是屬侵害個人法益之罪
(C) 阿民：妨害名譽的行為是屬侵害個人法益之罪
(D) 阿國：小偷偷竊的行為是屬侵害社會法益之罪

答 案 (C)

命題出處 公民與社會第二冊第 7 章：刑法與生活

測驗目標 了解法益的種類

解 析 在法律制度中，藉由法律手段保護各種生活利益，稱為法益；依照法益持有者的不同而分成國家法益、社會法益與個人法益三種。國家法益是指國家或政府所擁有且受法律保護的公法益，包括內亂罪、外患罪、妨害國交罪、瀆職罪、妨害公務罪、妨害投票罪、妨害秩序罪、脫逃罪、藏匿人犯及湮滅證據罪、偽證及誣告罪；社會法益是指社會整體所擁有而受法律保護的公共生活利益，包括公共危險罪、偽造貨幣罪、偽造有價證券罪、偽造度量衡罪、偽造文書印文罪、妨害性自主罪、妨害風化罪、妨害婚姻及家庭罪、妨害農工商罪、鴉片罪、賭博罪；個人法益是指自然人個人所擁有而受法律保護的私人生活利益，包括殺人罪、傷害罪、墮胎罪、遺棄罪、妨害自由罪、妨害名譽及信用罪、妨害祕密罪、竊盜罪、搶奪強盜及海盜罪、侵占罪、詐欺背信及重利罪、恐嚇及擄人勒贖罪、贓物罪、毀棄損壞罪、妨害電腦使用罪。(A)偽造文書屬於侵害社會法益之罪。(B)酒醉駕駛屬於公共危險罪，是侵害社會法益之罪。(D)

偷竊屬於竊盜罪，為侵害個人法益之罪。

難易度 中

類似題 《學測新導向·公民與社會》第 143 頁第 13 題。

11. 相較於若干國家的民主化經驗，我國在威權轉型過程中相當平和順利。下列關於我國威權轉型的各項事件，發生時間的先後順序為何？

甲、國會全面改選

乙、第一次修憲

丙、民進黨宣布成立

丁、宣布解除戒嚴

(A)丙丁乙甲

(B)丙丁甲乙

(C)丁丙甲乙

(D)丁丙乙甲

答案 (A)

命題出處 公民與社會第三冊第 6 章：我國的民主憲政發展

測驗目標 了解我國近年來民主憲政發展重要事件的歷程

解析 1986 年 9 月 28 日民進黨在臺北圓山飯店正式宣布成立，1987 年 7 月 15 日蔣經國總統宣布臺灣解除戒嚴，1991 年 5 月 1 日公告第 1 次《憲法增修條文》共 10 條；於 1992 年 12 月 19 日舉行中華民國第二屆立法委員選舉，選出第二屆立法委員，這是中華民國首次的國會議員全面改選。

難易度 易

類似題 《學測週計畫·公民與社會》第 111 頁第 1 題，第 115 頁第 29 題，第 130 頁第 23 題。

《學測新導向·公民與社會》第 230 頁第 17、18 題，第 231 頁第 24～28 題，第 327 頁第 2 題。

12. 就比較的觀點而言，我國政府體制及政治制度之設計，與其他民主國家有諸多相似之處。關於這個部分，下列敘述何者正確？

(A)法國總理與我國行政院院長產生方式一樣，皆由總統直接任命產生

(B)英國首相可以主動請元首解散國會，我國行政院院長亦具相同權力

(C)美國總統與我國總統對國會通過之法案皆擁有覆議權，行使方式相同

(D)德國聯邦眾議院議員與我國立委選舉制度皆為單一選區兩票制並立制

答案 (A)

命題出處 公民與社會第三冊第 3 章：政府的組織、功能與權限

測驗目標 了解我國政府體制與其他政府體制的異同

解析 (A)法國總統依憲政慣例，任命國會多數黨黨魁出任總理一職；依《憲法》增修條文第 3 條規定：「行政院院長由總統任命之。……」(B)英國首相享有主動解散國會權，因此可以主動請國家元首來解散國會；我國

依《憲法增修條文》第 3 條第 2 項第 3 款：「立法院得經全體立法委員三分之一以上連署，對行政院院長提出不信任案。不信任案提出七十二小時後，應於四十八小時內以記名投票表決之。如經全體立法委員二分之一以上贊成，行政院院長應於十日內提出辭職，並得同時呈請總統解散立法院；不信任案如未獲通過，一年內不得對同一行政院院長再提不信任案。」第 2 條第 5 項：「總統於立法院通過對行政院院長之不信任案後十日內，經諮詢立法院院長後，得宣告解散立法院。」因此立法院通過對行政院長不信任案後，行政院院長得提請總統解散立法院，總統經諮詢立法院院長後，得宣告解散立法院，屬於被動解國會權。(C)美國總統為最高行政首長，掌行政權，擁有覆議權；《憲法增修條文》第 3 條第 2 項第 2 款：「行政院對於立法院決議之法律案、預算案、條約案，如認為有窒礙難行時，得經總統之核可，於該決議案送達行政院十日內，移請立法院覆議。立法院對於行政院移請覆議案，應於送達十五日內作成決議。如為休會期間，立法院應於七日內自行集會，並於開議十五日內作成決議。覆議案逾期未議決者，原決議失效。覆議時，如經全體立法委員二分之一以上決議維持原案，行政院院長應即接受該決議。」因此覆議的主動權在行政院院長手上，總統僅被動核可。(D)德國聯邦眾議員選舉制度採單一選區兩票制聯立制，我國與日本則採單一選區兩票制並立制。

難易度 中

類似題 《學測週計畫·公民與社會》第 105 頁第 22 題，第 107 頁第 34 題，第 114 頁第 24 題，第 129 頁第 11 題。

《學測新導向·公民與社會》第 199 頁第 12、19、20、22 題，第 326 頁第 35 題。

13. 隨著臺北市、新北市、臺中市、臺南市與高雄市等「五都」市長與市議員選舉落幕，2010 年 12 月 25 日開始，我國地方行政層級呈現全新的「五直轄市及十七縣市」格局。針對「五都」的相關敘述，下列何者正確？
- (A)「五都」市議員選舉制度將改採單一選區兩票制
 (B)原鄉鎮市改為「區」後，區長由直轄市市長派任
 (C)「五都」為中央直轄，故原市立高中改為「國立」
 (D)為落實民意政治，原各縣「鄉鎮市民代表會」保留

答案 (B)

命題出處 公民與社會第三冊第 5 章：政黨政治與選舉制度

測驗目標 了解地方自治與選舉制度

解析 (A)五都市議員選舉採複數選區相對多數決制。(B)《地方制度法》第 58 條：「直轄市、市之區公所，置區長一人，由市長依法任用，承市長之命綜理區政，並指揮監督所屬人員。直轄市之區由鄉（鎮、市）改制者，改制日前一日仍在職之鄉（鎮、市）長，由直轄市長以機要人員方式進用為區長；其任期自改制日起，為期四年。但有下列情事之一者，不得進用：一、涉嫌犯第七十八條第一項第一款及第二款所列之罪，經起訴。二、涉嫌犯總統副總統選舉罷免法、公職人員選舉罷免法、農會法或漁會法之賄選罪，經起訴。三、已連任二屆。四、依法代理。前項以機要人員方式進用之區長，有下列情事之一者，應予免職：一、有前項第一款、第二款或第七十九條第一項各款所列情事。二、依刑事訴訟程序被羈押或通緝。直轄市之區由山地鄉改制者，其區長以山地原住民為限。」因此改制後的第一屆區長原則上由直轄市長派任。(C)原先屬於臺灣省的省立高中，在精省後改制為國立高中，在改制成為五都之後，將會由國立再改制為市立高中。(D)升格為直轄市後，原先鄉鎮市則改制為區，鄉（鎮、市）民代表，鄉（鎮、市）民代表，除依法停止職權者外，由直轄市長聘任為區政諮詢委員，鄉鎮市民代表會廢止，《地方制度法》第 58-1 條第 1 項規定：「鄉（鎮、市）改制為區者，改制日前一日仍在職之鄉（鎮、市）民代表，除依法停止職權者外，由直轄市長聘任為區政諮詢委員；其任期自改制日起，為期四年，期滿不再聘任。」

難易度 中

類似題 《學測週計畫·公民與社會》第 111 頁第 4 題，第 185 頁第 40 題。

《學測新導向·公民與社會》第 219 頁第 19、22 題，第 332 頁第 36 題。

14. 「責任政治」是民主政治的基本精神，強調由人民賦予公權力的國家公務員，也應對人民負起相對的責任。下列何者最能說明「責任政治」的意涵？
- (A)某政務官說「出事應繼續留在崗位解決，以示負責」
 (B)美國總統因期中選舉失利轉而「拼外交」以拉抬政績
 (C)某市消防局長因颱風夜在家中睡覺被媒體披露而下臺
 (D)政論節目主持人因失言而公開道歉並請辭主持人工作

答案 (C)

命題出處 公民與社會第三冊第 2 章：民主政治與公民德行

測驗目標 了解責任政治的意涵

解析 責任政治是指政策的制定者與執行者，必須對選民或人民負責，通常包

括政治責任、法律責任、行政責任與道德責任。(A)政務官的政策失敗或不當，必須要負起政治責任，通常以道歉或辭職的方式來展現。(B)美國總統面對同政黨在國會期中選舉失敗時，同樣必須負起政治責任，通常是採取道歉方式，而轉而拼外交是意圖轉移國人的焦點，並不是負起責任政治的表現方式。(C)消防局長屬於政務官，遭媒體揭露其失職行為後，辭職下臺是負起政治責任的表現。(D)政論節目主持人不是政府官員，即使因為失言而道歉甚至辭去主持人工作，仍不屬於責任政治的範疇。

難易度 易

類似題 《學測週計畫·公民與社會》第 92 頁第 5 題，第 129 頁第 9 題，第 130 頁第 17 題，第 131 頁第 30 題。

《學測新導向·公民與社會》第 205 頁第 5 題，第 206 頁第 14 題，第 208 頁第 26、28 題，第 325 頁第 32、34 題。

15. 某項消費行為的研究發現：飲用咖啡時人們通常附加奶精，然而多飲用咖啡卻會減少人們對可樂的消費。在這個研究結果下，當咖啡的價格下降時，則市場上最可能出現下列何種情況？

- (A)消費者對咖啡的需求上升 (B)消費者對奶精的需求上升
(C)消費者對咖啡的偏好度提高 (D)消費者對可樂的需求量下降

答案 (B)

命題出處 公民與社會第四冊第 2 章：市場經濟制度

測驗目標 了解需求法則、替代品與互補品之間的關係

解析 喝咖啡時要加奶精，因此咖啡與奶精是互補品；不喝咖啡就改喝可樂，因此咖啡與可樂是替代品；當咖啡降價時，消費者對咖啡的需求量就會增加，同時對奶精的需求隨之增加，對可樂的需求則下降，這是受到咖啡價格下降所造成的影響。當產品價格產生波動時，將造成供給量或需求量的變化，也就是供給線或需求線上，「點」的移動；當產品價格以外的因素發生時，則是造成需求或供給的變動，也就是需求線或供給線「整條線」的左右移動。

難易度 難

類似題 《學測新導向·公民與社會》第 267 頁第 8、9、10、12 題，第 268 頁第 15、22 題，第 323 頁第 18 題。

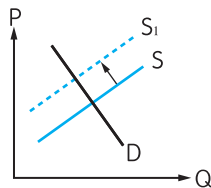
16. 一家生產石化產品的工廠將有毒廢氣排入空氣中，此時若政府要求該工廠負擔其所增加之社會成本，則下列敘述何者正確？
- (A)該石化產品的市場需求曲線將向右移動
 (B)該石化產品的市場供給曲線將向左移動
 (C)政府的這項要求旨在維護人造資本，有利於永續發展的推動
 (D)政府的這項要求旨在令廠商重視社會資本，以減少環境汙染

答案 (B)

命題出處 公民與社會第四冊第 4 章：經濟與環境的永續發展

測驗目標 分析外部性對市場與永續發展的影響

解析



原先的供給線為 S ，因為未將處理有毒廢氣的成本計入，因此廠商的生產成本被低估了，當政府要求廠商負擔其排放廢氣所增加的社會成本，廠商的生產成本勢必增加，因此將造成整條供給線向左移動，成為 S_1 ，也就是供給線將由 $S \rightarrow S_1$ 。(A)需求線並沒有受到影響。(C)政府要求廠商處理廢氣所造成的社會成本，主要是在維護自然資本，包括空氣、環境的永續發展要件。(D)政府要求廠商處理廢氣，是要廠商注意其生產過程中所產生的外部性（外部成本）以及對共有財的侵害，以減少環境汙染，以利永續發展。

難易度 難

類似題 《學測新導向·公民與社會》第 266 頁第 6 題，第 274 頁第 13 題，第 318 頁第 15、19 題。

17. 約翰是居住在臺灣的美籍人士，去年六月他在臺北市訂購一部由日本進口到臺灣的日本製嶄新汽車，且於當年十月完成交易。關於約翰此一交易行為對各國去年度統計數值所帶來的影響，下列何項描述正確？
- (A)美國的進口不變，臺灣的 GNP 增加
 (B)日本的出口增加，臺灣的 GDP 減少
 (C)臺灣的出口減少，日本的 GNP 增加
 (D)日本的出口增加，美國的 GDP 不變

答案 (D)

命題出處 公民與社會第四冊第 5 章：總體經濟指標

測驗目標 了解進出口對 GDP、GNP 的影響

解析 GDP 國內生產毛額 = 消費 (C) + 投資 (I) + 政府購買 (G) + (出口關稅 (X) - 進口 (M))，因此當日本出口汽車時，其出口將增加；而約翰的消費行為在臺灣，因此對美國的 GDP 並不造成影響。(A) 因為是從日本出貨到臺灣，因此對美國的影響不變，買賣與生產者均不是我國國籍者，所以對我國的 GNP 沒影響。(B) 因為是從日本出貨到臺灣，因此日本的出貨增加，但是因為臺灣的 $GDP = C + I + G + (X - M)$ ，僅知 M 進口增加，無從判斷整體 GDP 是否減少。(C) 不是從臺灣出口，因此對臺灣的出口無影響，汽車為日本所製造，因此日本的 GNP 將增加。

難易度 中

類似題 《學測新導向·公民與社會》第 285 頁第 13 ~ 17 題，第 286 頁第 24 題，第 287 頁第 29 題。

18. 調降進口產品之關稅，經常是各國參與全球經貿組織時要進行的工作，而且此做法亦將為該國帶來不少的影響。在其他條件不變的情況下，有關調降關稅的效果，下列何者是最可能出現的情況？
- (A) 將降低該產品在國外的售價，進一步促進該國的出口
 (B) 將減少該產品之進口量，因此政府的關稅收入將減少
 (C) 將使國內該產品之產量提高，進一步保護國內的生產者
 (D) 將降低該產品在國內的售價，因此國內的消費量將提高

答案 (D)

命題出處 公民與社會第四冊第 7 章：國際貿易與國際金融

測驗目標 了解調降關稅的影響

解析 關稅是指國家授權海關對出入關境的貨物與物品徵收的一種稅，包括進口稅、出口稅、過境稅、優惠關稅、差別關稅等；而降低進口產品之關稅（進口關稅），其影響結果包括：減少國家財政稅收，減少對國內生產業的保護作用，降低進口商品的價格並提高其市場競爭力。(A) 若是調降出口關稅，將降低該產品在國外的售價，當然能促進該國的出口，但此題為調降進口關稅非出口關稅。(B) 由於進口關稅調降，將增加該產品的進口量，但也因此造成政府的關稅收入減少。(C) 如果是進口關稅調高，該進口產品的售價將提高，造成在國內的競爭力下降，而國內相關產品將順勢提高產量，增加獲利，而形成保護國內生產者的結果。(D) 降低進口關稅，將使進口品的價格下降，消費者的消費意願將提高，消費量隨之增加。

難易度 中

類似題 《學測新導向·公民與社會》第 305 頁第 9、12 題，第 307 頁第 28 題，第 330 頁第 25 題，第 333 頁第 39、40 題。

19、20題為題組

◎阿成擺地攤販賣雜貨，但生意不好。某日，將色情片重製燒錄後，未加文字圖片，僅以素面包裝，陳列在攤位上販賣。不久後即被警察查獲移送法辦，法院依據《刑法》第 235 條第 1 項「散布猥褻物品罪」將阿成判決有罪，並將光碟片沒收。其後判決確定，阿成忿忿不平，認為不構成散布猥褻物品，處罰太沒道理。

19. 被告阿成在尋求司法救濟時，下列何者為其最可能的爭執重點？

- (A)違反法律保留原則 (B)違反法律明確性原則
(C)違反法律優位原則 (D)違反禁止類推適用原則

答案 (B)

命題出處 公民與社會第二冊第 5 章：行政法與生活

測驗目標 了解行政法的基本原則

解析 《刑法》第 235 條：「散布、播送或販賣猥褻之文字、圖畫、聲音、影像或其他物品，或公然陳列，或以他法供人觀覽、聽聞者，處二年以下有期徒刑、拘役或科或併科三萬元以下罰金。意圖散布、播送、販賣而製造、持有前項文字、圖畫、聲音、影像及其附著物或其他物品者，亦同。前二項之文字、圖畫、聲音或影像之附著物及物品，不問屬於犯人與否，沒收之。」阿成認為自己販賣的色情片並未加文字圖片，僅以素面包裝陳列攤位上，與上述條文不合，因此並未構成散布猥褻物品之罪；而警方則認為阿成的行為已符合上述犯罪之要件，因此將形成雙方對法律條文的爭議，屬於對法條明確性原則的爭議；而大法官釋字第 432 號解釋文針對法律明確性原則做以下解釋：「……使其能預見其何種作為或不作為構成義務之違反及所應受之懲戒為何，方符法律明確性原則。對於懲戒處分之構成要件，法律雖以抽象概念表示，不論其為不確定概念或概括條款，均須無違明確性之要求。法律明確性之要求，非僅指法律文義具體詳盡之體例而言，立法者於立法定制時，仍得衡酌法律所規範生活事實之複雜性及適用於個案之妥當性，從立法上適當運用不確定法律概念或概括條款而為相應之規定。……」意指法律內容必須要力求明確，並有預先告知的功能，使人民對於自己的行為是否受法律的規範有預見的可能性，而政府機關或執法人員也能有較明確的依據或標準，不致因為法律規定的不明確，而造成執法的困難或人民感受不公的現象發生。

難易度 易

類似題 《學測週計畫·公民與社會》第 67 頁第 16 題。

《學測新導向·公民與社會》第 114 頁第 26 題。

20. 依現行法律規定，阿成不服有罪確定判決，則主張下列哪一救濟途徑較為妥適？

- (A) 依據《民事訴訟法》規定請求損害賠償
- (B) 依據《行政訴訟法》規定要求判決返還光碟片
- (C) 依據《刑事訴訟法》規定要求法院撤銷有罪判決
- (D) 向大法官聲請解釋刑法「散布猥褻物品罪」違憲

答案 (D)

命題出處 公民與社會第二冊第 8 章：糾紛處理與權利救濟

測驗目標 了解訴訟程序與大法官釋憲的要件

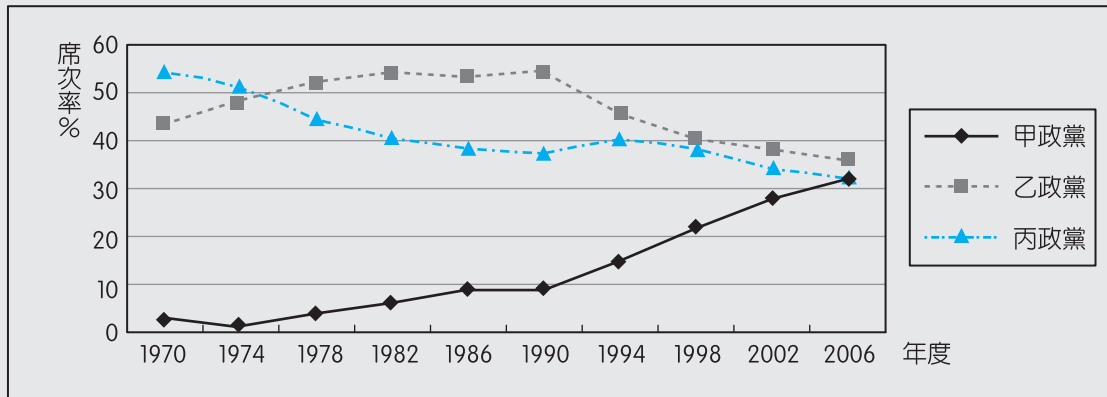
解析 《司法院大法官審理案件法》第 5 條：「有左列情形之一者，得聲請解釋憲法：一、中央或地方機關，於其行使職權，適用憲法發生疑義，或因行使職權與其他機關之職權，發生適用憲法之爭議，或適用法律與命令發生有牴觸憲法之疑義者。二、人民、法人或政黨於其憲法上所保障之權利，遭受不法侵害，經依法定程序提起訴訟，對於確定終局裁判所適用之法律或命令發生有牴觸憲法之疑義者。三、依立法委員現有總額三分之一以上之聲請，就其行使職權，適用憲法發生疑義，或適用法律發生有牴觸憲法之疑義者。最高法院或行政法院就其受理之案件，對所適用之法律或命令，確信有牴觸憲法之疑義時，得以裁定停止訴訟程序，聲請大法官解釋。聲請解釋憲法不合前二項規定者，應不受理。」因為阿成的案件已進行到「有罪確定判決」，不能再進行刑事訴訟程序，因此若要再繼續進行司法權利救濟，就必須聲請大法官釋憲，解釋判處他有罪的《刑法》第 235 條是否違憲。

難易度 中

類似題 《學測新導向·公民與社會》第 113 頁第 21 題。

21、22題為題組

◎圖三為某一內閣制國家自 1970 年至 2006 年國會選舉之政黨國會席次比例趨勢圖，請回答以下問題。



圖三

21. 根據圖中資料判斷，下列有關該國政府體制和政黨體系的敘述，下列何者正確？
- (A) 席次居多的乙政黨領袖於 1978 年成為該國國家元首
 - (B) 1978 年至 1990 年，為兩大政黨輪替執政的兩黨體系
 - (C) 該國自 1994 年起須透過政黨合作始能組成聯合內閣
 - (D) 根據此圖的發展趨勢，甲政黨將於 2022 年單獨執政

答案 (C)

命題出處 公民與社會第三冊第 3 章：政府的組織、功能與權限，第 5 章：政黨政治與選舉制度

測驗目標 了解內閣制政府體制和政黨體系的關係

解析 在內閣制國家中，贏得國會過半數席次的政黨將負責組閣，若沒有任何一個政黨取得國會過半的席次，則將由數個政黨來組成聯合內閣。(A) 1978 年乙政黨在國會的席次超過 50%，其黨魁將出任總理來負責組織內閣，並掌行政權，而內閣制的國家元首通常是世襲的國王或另外選出的總統。(B) 1978～1990 年乙黨均取得國會過半數席次，獨享組閣權，形成一黨執政現象，不需要與其他政黨進行合作或組織聯合政府。(C) 1994 年後，沒有任何政黨取得國會過半數席次或單獨組閣權，因此必須政黨間合作，採取聯合內閣的方式來進行組閣與執政。(D) 甲政黨的國會席次從 1994 年開始加速攀升，但是未來趨勢仍屬於未知數，因此無法預測其何時能單獨執政。

難易度 中

類似題 《學測週計畫·公民與社會》第 116 頁第 33 題。

《學測新導向·公民與社會》第 218 頁第 9、11 題，第 219 頁第 15、16 題，第 220 頁第 24 題。

22. 根據 2002 年的選舉結果判斷，有關該國聯合政府的組成與運作，下列敘述何者正確？

- (A) 三個政黨共有三種組成聯合政府的可能組合
- (B) 須由獲國會席次最多的乙黨主導籌組聯合政府
- (C) 獲得支持的民意來源較廣泛，有助於政治的穩定
- (D) 政策須由各政黨相互妥協，不利於責任政治的區分

答案 (D)

命題出處 公民與社會第三冊第 3 章：政府的組織、功能與權限

測驗目標 了解聯合政府的組成與運作

解析 2002 年國會選舉結果呈現出三黨不過半的現象，甲乙丙三黨的得票率均集中在 30 ~ 40 % 之間，沒有任何一個政黨擁有單獨組閣權，因此勢必要由兩個以上的政黨來聯合執政，組成聯合內閣。(A) 組成聯合內閣的方式包括甲 + 乙 + 丙、甲 + 乙、甲 + 丙、乙 + 丙等四種組合，均可取得國會過半席次，進而擁有組閣權。(B) 依照每一個國家的憲政慣例的不同，通常是由得票第一大黨與第三黨在理念結合後，籌組聯合內閣；或是反對黨聯合其他政黨來籌組聯合內閣，基本上只要有政黨進行策略聯盟後，取得國會的過半席次，就取得組閣權。(C) 聯合內閣最大的缺點就是內閣不穩定，成員來自於策略聯盟各政黨的成員，彼此之間可能因為政治理念的差異、利益分配的不均等，而造成內閣的重組，形成政策的不穩定與不持續性。(D) 聯合內閣的成員來自多個政黨，彼此妥協下產生政策，因此當政策出現問題時，閣員間常出現相互推諉、責任不易釐清的現象。

難易度 中

類似題 《學測週計畫·公民與社會》第 116 頁第 33 題。

《學測新導向·公民與社會》第 219 頁第 20 題，第 220 頁第 25 題。

23、24題為題組

◎表一為蔬菜市場價格與供給量、需求量之間的直線型關係。根據表中資料，請回答以下問題。

表一

價格	供給量	需求量
20 元	100 公斤	550 公斤
30 元	200 公斤	500 公斤
40 元	300 公斤	450 公斤
50 元	400 公斤	400 公斤
60 元	500 公斤	350 公斤

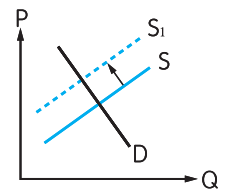
23. 已知市場目前的售價為 50 元，因此市場供給量為 400 公斤。純就供給面而言，若生產蔬菜所涉及的工資大幅上漲，則市場的供給量將會如何改變？
 (A) 小於 400 公斤 (B) 等於 400 公斤 (C) 大於 400 公斤 (D) 無法判斷

答案 (A)

命題出處 公民與社會第四冊第 2 章：市場經濟制度

測驗目標 了解供給法則

解析 影響供給量的因素為價格，影響供給的因素為生產技術的改進、生產要素的價格、相關產品的價格、生產者對未來的預期、生產者的數量等，因此當工資上漲時，廠商的生產成本相對將提高，將造成供給減少，原先的供給線 S 將左移為 S_1 。



難易度 易

類似題 《學測新導向·公民與社會》第 266 頁第 2 題，第 268 頁第 19 題。

24. 已知該市場目前的售價為 50 元，因此市場需求量为 400 公斤。純就需求面而言，若價格下降至 35 元，則市場的需求量將為多少公斤？
 (A) 465 (B) 475 (C) 485 (D) 495

答案 (B)

命題出處 公民與社會第四冊第 2 章：市場經濟制度

測驗目標 能計算出需求量

解析 需求線為 $Q = aP + b$ ，
 代入需求量與價格後，
 $400 = 50a + b$ ， $450 = 40a + b$ ，
 得知需求線為 $Q = 650 - 5P$ ，
 當 $P = 35$ ，代入 $Q = 650 - 5 \times 35$ ，

Q=475。

難易度 中

類似題 《學測新導向·公民與社會》第 269 頁第 28 題。

25. 臺灣某報刊登一則啟事，招募 18 歲以上，小學校或公學校畢業的青年，加入「特設勞務奉公團」，前往南洋服務，這則啟事應出現於以下哪一時期？

(A) 日本占領臺灣初期

(B) 第一次世界大戰前

(C) 文官總督治臺時期

(D) 推行皇民化運動時

答案 (D)

命題出處 歷史第一冊第 3 章：日本統治時期（第三節——戰爭期的臺灣社會）

測驗目標 1-1 能明瞭重要的歷史名詞、事件、人物、制度與學說等。

解析 本題四個答案選項大概將時間界定在日治時期，而從本題題幹所提及的內容中，不難發現有幾個解題的關鍵詞，包括：「加入『特設勞務奉公團』」、「前往南洋服務」，這兩個關鍵詞所出現的時間約在日治臺灣後期（後期武官總督時期），也是日本發動亞洲聖戰以及爆發太平洋戰爭的前後，因此，在那個時期日本會派遣臺灣人前往東南亞（南洋）戰場參與聖戰，甚至成立各級的「皇民奉公會」等團體組織，即如題幹所提的「加入『特設勞務奉公團』」，因此，本題最適當的答案選項應為 (D)。

難易度 易

26. 北魏孝文帝與漢人大臣討論統治人才的來源時，大臣主張應該以能力作為甄選人才的標準，孝文帝卻強調人才出自門第，應以門閥地位作為人才選拔之基準。關於此事，以下敘述何者較為適當？

(A) 孝文帝漢化程度甚深，因而強調門第價值

(B) 漢人大臣重視軍功，因而強調能力的重要

(C) 重視門第是為了保障鮮卑貴族的政治地位

(D) 為了重用南方士族，因而強調依門第取士

答案 (C)

命題出處 歷史第二冊第 2 章：中古的變革（魏晉南北朝、隋唐）（第二節——多民族與多文化的交流）

測驗目標 3-2 能根據資料及基礎知識，對歷史事件、人物、制度或概念提出合理敘述或評論。

解析 據本題題幹以及對歷史上北魏孝文帝的許多作為來看，北魏孝文帝推動漢化政策，雖然多少受了母親以及多位漢人大臣的影響，但這或許是一

種兩個民族下的統治策略。基本上，北魏孝文帝畢竟還是胡人鮮卑族，即便遷都洛陽以及推行多種漢化措施，仍會有鮮卑族的自我本位主義，只是當時在推動上的技巧運用得宜，但卻也造成後來的六鎮之亂與北魏分裂之局。由此來判斷，本題提供的四個答案選項，其中，(A)較為不妥之處，在於孝文帝雖然漢化頗深，但門第價值應與其鞏固或保障本族（鮮卑族）的權力與地位有關，因此，不選(A)。(B)亦有值得思考的地方，因為漢人大臣是否真的重視事功，而輕忽根深柢固的門第價值，也必須特別注意。(D)，則與本題無關，因為「南方士族」並非是北魏孝文帝能夠「涉足」的，至於(C)，與題意的背景較為相符。因此，本題最適當的答案選項應為「(C)重視門第是為了保障鮮卑貴族的政治地位」。

難易度 難

27. 清末知識分子認為：「天下積弱之本，必自婦人不學始。」他們主張「興女學」，呼籲婦女應受教育，因為幼兒教育倚賴母教，女子教育的好壞實為國家強弱的依據。這時期士人鼓吹女學的主要背景為：
- (A)認同國際社會以婦女識字率為國力強弱的指標，故有此主張
 (B)回應法國大革命中的人權主張，積極肯定婦女受教育之權利
 (C)受西方女權主義影響，也效法西方，積極鼓吹婦女接受教育
 (D)主張強國必先強種，鼓勵婦女讀書識字，以培育優良的後代

答案 (D)

命題出處 歷史第二冊第5章：中華民國的建立與發展（第二節——新文化與新思潮）

測驗目標 3-2 能根據資料及基礎知識，對歷史事件、人物、制度或概念提出合理敘述或評論。

解析 本題題幹所述時間約當中國清末時期，題幹內容提及「『天下積弱之本，必自婦人不學始。』他們主張『興女學』，呼籲婦女應受教育，因為幼兒教育倚賴母教，女子教育的好壞實為國家強弱的依據」。並據此提問「這時期士人鼓吹女學的主要背景為何？」可見「興女學」或「婦女應受教育」就本題題幹的說法來看，應是與「幼兒教育」有關。而就本題所提供的四個答案選項來看，(A)(B)似乎與本題題幹內容較無相關，(C)在時間上雖然符合那個時代背景，但亦與本題主要宗旨較無直接關聯，至於(D)則是與本題題幹內容的敘述較有關聯，且「強國必先強種」，雖然有強調「鍛鍊體魄」的重要，但也跟「優生學」多少有些關係，因為當時西方世界流行的「社會達爾文主義」亦已傳入中國，例如嚴復便曾翻譯赫胥黎的《天演論》，何況清末也有不少知識分子曾提出

「亡國滅種」的憂慮，可見符合當時的氛圍。因此，本題最適當的答案為(D)。

難易度 中

類似題 《學測新導向·歷史》第 188 頁第 11 題。

28. 幾位同學討論某一主題時，各自發表意見如下：

甲：中國皇帝權力來自上天，不受監督與制衡

乙：時代愈晚，相權愈輕，皇帝直接掌理朝政

丙：中央政府設有言官，提出建言，針砭朝政

丁：地方長官有一定任期，接受中央政府遷調

這幾位同學討論的主題最可能是：

(A)傳統政治的特質

(B)言官的政治功能

(C)政統與道統衝突

(D)中央與地方權限

答案 (A)

命題出處 歷史第二冊第 1 章：華夏世界的形成（遠古、三代至秦漢）（第三節——帝國體制與天下秩序）

測驗目標 3-1 能對不同的歷史敘述或評論作出比較，並說出何以會有這樣的歧異。

解析 本題屬於運用題幹所提供的四段說明來判斷的分析題型，其中，甲應與「君權神授」、「奉天承運」有關，這也就是皇帝也稱為「天子」的緣由。至於乙應是指「君權」與「相權」在中國歷朝歷代權力消長的情形。關於丙則是強調在中央政府體系之中另有建言系統，即「諫官」、「言官」等官員，其目的應是提供或規勸君王去實行對國家社會較有正面意義的事情。而諫官制度最早應可追溯至先秦以前，即「春秋初置大諫官職，是為諫官設置之始」，甚至《管子·小匡》曾提到：「使鮑叔牙為大諫」。至於丁應跟中央與地方的權限劃分與職權的分配有關。因此在了解這四段資料的意涵之後，對應到本題所提供的四個答案選項來看，與上述四段資料較有共同關聯的應只有(A)。因為(B)僅有資料乙有提到，而(C)則與這段資料較無關係，因為政統與道統分別指的是「帝王的政治權勢」與「以儒家為主流的學術思想或政治理想」，而二者的衝突應是與政治權勢經常介入學術，加以打壓，或加以引導為己所用，導致學術的變質與學者人格的扭曲。不過，也有許多學者堅持學術良知與政治理想，與政治權勢激烈對抗，東漢的黨錮之禍就是一例。至於(D)則僅有資料丁與其較有關係，其他資料則無。因此本題最適當的答案應為(A)。

難易度 中

29. 西元前 3000 年以後，不同的民族先後遷入兩河流域，建立政權。有些民族使用閃族語言，有的則使用印歐語言。這些民族的語言雖然不同，但此地區的文化與貿易能夠持續成長。學者認為這種情況主要是由於一個共通的重要基礎。這位學者指的是：

- (A)使用鐵器 (B)宗教統一 (C)軍事技術 (D)楔形文字

答案 (D)

命題出處 歷史第三冊第 1 章：古代文明的遺產（第一節——大河與文明）

測驗目標 1-3 能指出歷史事實中的因果、延續、變遷及趨勢等重要概念。

解析 題幹所述的時間背景應為世界古代史的西亞部分——即兩河流域文明。題幹提及「西元前 3000 年以後，不同的民族先後遷入兩河流域，建立政權」。其中包括了「有些民族使用閃族語言，有的則使用印歐語言」。就此處的歷史教學而言，一般會提及包括：蘇美城邦、巴比倫帝國、亞述帝國、新巴比倫帝國等政權文明。另外題幹也歸結「這些民族的語言雖然不同，但此地區的文化與貿易能夠持續成長」，最後引出問題為「這種情況主要是由於一個共通的重要基礎」。而本題提供的四個答案，其中(A)不可選的原因，在於使用鐵器的時間應在亞述帝國以後。(B)不可選的原因，則在於此地區的宗教信仰屬於多神信仰、不同國家多有其各自不同的神祇，不若之後猶太教或基督教在宗教上的一統情形。(C)不可選的原因，則在於此地區不同國家的軍事方式多有不同，承襲性不高。而(D)「楔形文字」從蘇美城邦時期就已使用，後來的政權文明亦多有使用，例如亞述帝國首都尼尼微城內的圖書館就保存大量有關楔形文字的泥版紀錄，因此，本題最適當的答案應為(D)。

難易度 中

30. 某時期，臺灣當局邀請士紳前往「內地」參訪，不僅補助旅費，還安排他們參觀現代化設施，使其認識現代文明，以利統治。我們如何理解此一作法？

- (A)清朝領臺之初，以交流化解明遺民反清的意志
(B)劉銘傳治臺初期，讓士紳認識清廷的自強新政
(C)日本殖民之初，欲加強臺灣人民對日本的了解
(D)臺灣光復初期，要臺灣人民加速認識祖國文化

答案 (C)

命題出處 歷史第一冊第 3 章：日本統治時期（第一節——殖民統治前期的特色）

測驗目標 1-2 能明瞭某一時代在政治、社會、經濟、思想等方面的重要特色。

解析 題幹提到「臺灣當局邀請士紳前往『內地』參訪，不僅補助旅費，還安排他們參觀現代化設施，使其認識現代文明，以利統治」。其中，「士紳」、「內地」、「現代化設施」、「認識現代文明，以利統治」等句應為關鍵詞。對照到本題所提供的四個答案選項來看，其中(A)與上述的幾個關鍵詞較無關聯，例如清領初期較無「士紳」階級、也無「現代化設施」。至於(B)雖符合幾個關鍵詞的內容，但當時的劉銘傳應該是沒有「安排士紳入內地(中國)參觀現代化設施」才對。而(D)此時「士紳」一詞應較少使用，其次，臺灣光復初期，卻是中國剛結束完長達八年的抗日戰爭以及爆發國共內戰的開始，因此，飽受戰火摧殘的中國，不太可能會有什麼「現代化設施」，即使有，也不若日本治臺時所留下的建設成效，況且，當時國民政府亦未「安排士紳入內地(中國)參觀現代化設施」。至於(C)的說明則比較符合題幹所敘述的內容，因此，本題最適當的答案選項應為(C)。

難易度 易

31. 16 世紀以後，白銀通過菲律賓、日本進入中國，從而導致中國經濟發生相應的變化，形成「白銀—銅錢」的貨幣體系。1800 ~ 1900 年間白銀兌換銅錢數量的變化趨勢應當是：

- (A)銀價穩定下跌 (B)銀價穩定上漲 (C)銀價先跌後漲 (D)銀價先漲後跌

答案 (B)

命題出處 歷史第二冊第 4 章：近代的衝擊（晚清）（第一節——帝國的傾頹）

測驗目標 1-3 能指出歷史事實中的因果、延續、變遷及趨勢等重要概念。

解析 本題題幹約分成兩段，「16 世紀以後，白銀通過菲律賓、日本進入中國，從而導致中國經濟發生相應的變化，形成『白銀—銅錢』的貨幣體系」應為背景說明，「1800 ~ 1900 年間白銀兌換銅錢數量的變化趨勢」則為提問所在，前面一段應為教師在教授中國近世以後的貨幣經濟時多會提及，也就是白銀在明清時代的各種數字變化。其中從 1800 年到 1900 年，約當中國清朝嘉慶 6 年到光緒 26 年之間，此時白銀數量及其兌換銅錢數量的變化趨勢，應該是呈現白銀總量遞減，而因為銀量的減少使得白銀單位價值提高，也導致銅錢與白銀的兌差異逐步擴大。會造成這樣的變化和結果，應與當時清朝盛世後期，鴉片大量進口且數量逐年倍增，使得白銀大量外流（外漏）有關，這是從雍正、乾隆兩朝以後不斷出現的現象，而且愈來愈嚴重，甚至到了道光朝後期以迄光緒朝，還因為對外數次戰爭的落敗，而有更多的白銀因戰債賠款而外流，且列強們在不平等條約中經濟貿易霸道的索求，都更加深了清朝財政的

負擔與銀用的不足，因此，從「1800～1900年間白銀兌換銅錢數量的變化趨勢」應該是呈現(B)的情形，其他選項的情況則較不可能出現。因此，本題最適當的答案選項應為(B)。

難易度 中

32. 幾件獸首銅像在一場藝術品拍賣會中公開，供收藏家競標，引來中國政府抗議。這些獸首銅像原本來自北京圓明園，在晚清一場戰爭中遭到外人掠奪，這場戰爭之後，清廷痛定思痛，開始改革。這場戰爭是：
- (A)鴉片戰爭 (B)英法聯軍 (C)甲午戰爭 (D)八國聯軍

答案 (B)

命題出處 歷史第二冊第4章：近代的衝擊（晚清）（第一節——帝國的傾頹）

測驗目標 1-1 能明瞭重要的歷史名詞、事件、人物、制度與學說等。

解析 本題屬於此次學測歷史試題中最容易判讀的一題，因為從題幹內容提到的「獸首銅像原本來自北京圓明園，在晚清一場戰爭中遭到外人掠奪，這場戰爭之後，清廷痛定思痛，開始改革」。關鍵詞即「北京圓明園」，當時此園曾在第二次英法聯軍之役時遭到焚毀，之後確實清朝政府「開始」進行第一次的近代改革運動——「自強運動」。而四個選項中的「(B)英法聯軍」即完全符合題幹所述的內容。

難易度 易

33. 某時期中，臺灣當局對入港船隻課徵關稅，來臺漢人除繳納田租外，還須申請執照，繳交費用後才可打獵、捕魚；年滿7歲者，均須繳交人頭稅。發布這個命令的人應是：
- (A)荷屬東印度公司總督 (B)鄭氏時期的承天知府
(C)康熙年間的臺灣知府 (D)日據時期的臺灣總督

答案 (A)

命題出處 第一冊第1章：早期臺灣（第二節——荷、西與明鄭）

測驗目標 歷史1-2 能明瞭某一時代在政治、社會、經濟、思想等方面的重要特色。

解析 本題藉由題幹內容的說明，來判斷應為臺灣史上哪一個時期的人物，其中提到的「對入港船隻課徵關稅」，「來臺漢人除繳納田租外，還須申請執照，繳交費用後才可打獵、捕魚」以及「年滿7歲者，均須繳交人頭稅」等等是解題的關鍵。其中的「申請執照，繳交費用後才可打獵、捕魚」與「繳交人頭稅」，符合荷治臺灣的情形。當時為了達成經濟掠奪及統治上的安定，荷蘭東印度公司實施了很多嚴苛而不合理的稅賦制

度及殖民政策，除徵收田稅、人頭稅、狩獵稅、貨物買賣關稅、抽取什一稅外，甚至在西元 1650 年還以加倍方式增收「人頭稅」，以及多項針對漢人的限制措施等等，當然這也埋下了日後臺灣南部地區漢人反抗荷蘭東印度公司的主因（即郭懷一事件）。因此，本題最適當的答案選項應為「(A)荷屬東印度公司總督」。

難易度 中

34. 某地方志記載：此地製茶工房林立，茶葉產期，茶行必須僱用許多女工，多則五六十人，少則二三十人，甚至有漳、泉婦女來此短期工作，每日工資四五錢不等。這本地方志最可能是：

(A)《諸羅縣志》 (B)《彰化縣志》 (C)《臺東州志》 (D)《臺北府志》

答案 (D)

命題出處 歷史第一冊第 2 章：清代的長期統治（第三節——外力衝擊與近代化）

測驗目標 1-2 能明瞭某一時代在政治、社會、經濟、思想等方面的重要特色。

解析 本題的解題關鍵在於題幹所提到的「此地製茶工房林立」、「茶葉產期，茶行必須僱用許多女工」等等內容，而臺灣茶葉著名的加工場所與時間，應該是在清領臺灣後期，即臺灣開港以後的北部大稻埕地區，而與此地區有關聯的選項較可能是同屬臺灣北部地區的(D)，至於(A)、(B)與(C)則與臺灣中、南部和東部有關，因此，此題最適當的答案選項應為(D)。

難易度 易

類似題 《學測新導向·歷史》第 46 頁第 7 題。

35. 一位學者主張：政府施政應該配合農民生產活動的季節與時序，如此才能增加生產，糧食供應不虞匱乏。這種想法最早出現於何時？

(A)新石器時代早期，農業生產開始發展時
(B)周公東征時，為解決軍食提出這種主張
(C)戰國時期，各國均鼓勵生產，擴大稅收
(D)秦始皇統一中國，以天下蒼生福祉為念

答案 (C)

命題出處 歷史第二冊第 1 章：華夏世界的形成（遠古、三代至秦漢）（第二節——封建體制的興衰）

測驗目標 1-2 能明瞭某一時代在政治、社會、經濟、思想等方面的重要特色。

解析 本題題幹背景（即想法）最早應有可能出現在春秋戰國以後。首先(A)不可能的原因，在於出現的時間太早且當時的政府（或團體組織）是否有

能力或懂得注意「施政應該配合農民生產活動的季節與時序」這是值得商榷的，而且也沒有相關的史料可以佐證。至於(B)不太可能的原因，在於戰爭時期較無法像承平之際，「政府施政應該配合農民生產活動的季節與時序」，即便因戰爭需求，必須「糧食供應不虞匱乏」，但這些準備工作應與題幹的敘述較無直接的關聯。至於(D)不可能的原因，首先是秦始皇屬於法家服膺者，因此，較不會站在老百姓的思維行事。即題幹所述「以天下蒼生福祉為念」，再者，秦朝政府的施政應較無法「配合農民生產活動的季節與時序」。而(C)，應是較適當的選項，在於戰國時期確有不少國家為了「鼓勵生產，擴大稅收」而「不違農時」，其次，戰國時期的諸子百家中，農家或陰陽家的學說思想，應與「政府施政應該配合農民生產活動的季節與時序，如此才能增加生產，糧食供應不虞匱乏」有所關聯。因此，本題最適當的答案選項應為(C)。

難易度 中

36. 許多人為「改革臺灣省政」，召開會議，通過組織大綱，以各縣市參議會為主體成立分會，提出高度自治、廢止煙酒專賣等主張，並與政府展開交涉。這個會議與下列哪一組織最為相關？
- (A)臺灣文化協會 (B)臺灣民眾黨
(C)二二八事件處理委員會 (D)美麗島雜誌社

答案 (C)

命題出處 歷史第一冊第4章：當代的臺灣與世界（第一節——政治：從戒嚴到解嚴）

測驗目標 1-1 能明瞭重要的歷史名詞、事件、人物、制度與學說等。

解析 本題題幹提及「改革臺灣省政」、「通過組織大綱」、「廢止煙酒專賣」、「與政府展開交涉」等關鍵詞，可以清楚這些關鍵詞的背景應在民國36年二二八事件以後，其中「改革臺灣省政」便是當時國民政府在事後為了紓平事件的傷痛而進行的措施。至於「廢止煙酒專賣」雖未實現，但煙酒以外確實已開放不再專賣，而提出這些改革要求的應是該事件發生以後所成立的「二二八事件處理委員會」，該委員會通過王添灯起草的「處理大綱」，應是題幹所述的「通過組織大綱」，並以此來與當時擔任臺灣行政長官公署的陳儀政府談判，即題幹所述的「與政府展開交涉」。至於(A)與(B)是出現在日治中期，與本題時代背景無關，而「(D)美麗島雜誌社」則與民國68年的「美麗島事件」有關，但該事件的背景內容與本題題幹並無直接關聯。因此，本題最適當的答案選項應為(C)。

難易度 易

37. 揚州城呈現出一幅忙碌的景象：市場裡，搬運工人正將來自湖北的稻米運到倉庫裡，港口邊，工人將棉布整齊地堆疊在一起，準備運上船，銷售到全國各地。一旁的茶樓裡，交易的商人正在結算著買賣的價格。這是哪個時期的景象？
- (A)南朝時期 (B)唐代中期 (C)北宋末年 (D)明朝後期

答案 (D)

命題出處 歷史第二冊第3章：近世的發展（宋、元、明、清）（第二節——經濟發展與人口問題化）

測驗目標 1-2 能明瞭某一時代在政治、社會、經濟、思想等方面的重要特色。

解析 本題屬於情境題，透過題幹所描述的景象與特徵來判斷屬於中國哪一個朝代。而本題的地點出現在江南地區的揚州城，其中，題幹提到「市場裡，搬運工人正將來自湖北的稻米運到倉庫裡」，代表江南揚州的糧食來自內陸的湖廣地區。而「港口邊，工人將棉布整齊地堆疊在一起，準備運上船，銷售到全國各地」，則代表著要將江南揚州所出產製作的布料紡織運至外地。另外「茶樓裡，交易的商人正在結算著買賣的價格」則代表著揚州地區的商业貿易十分熱絡頻繁。由此可將江南地區農產的變化是從南宋時期的「蘇常熟，天下足」，轉變成明代中期以後的「湖廣熟，天下足」於此題相印證，即江南地區本為糧食產地，但後來考量到實際的經濟價值或效益，因此，將糧食轉包給較內陸的湖廣地區，而改種植單位價值較高的經濟作物，其次，江南地區的棉布廣賣至全國各地，亦應在明代以後較有可能出現，而明代江南地區高度的經濟發展與商業貿易發達，甚至被某些歷史學者認為是中國資本主義的萌芽期。因此，本題最適當的答案選項應為(D)。

難易度 中

類似題 《學測新導向·歷史》第151頁第11題，第152頁第16題。

38. 中國某一個時期中，許多人呼籲總統賦予內閣全權，召開全國和談大會，並要求：改組內閣，網羅全國和平民主人士，充實和平的內容。他們甚至計畫發動國人，一致擁護和平；更希望美、蘇、英、法等強權能諒解，支持中國希望和平的想法。這個事件的背景是：
- (A) 1912年辛亥革命後，革命黨人對清廷的呼籲
(B) 1937年中日戰爭爆發後，學界對政府的希望
(C) 1949年國共和談期間，政界對國民黨的建議
(D) 1950年舊金山和會召開前，新聞界所提建議

答案 (C)

命題出處 歷史第二冊第 5 章：中華民國的建立與發展（第三節——從中原到臺灣）

測驗目標 1-2 能明瞭某一時代在政治、社會、經濟、思想等方面的重要特色。

解 析 本題題幹的重點提到「許多人呼籲總統賦予內閣全權，召開全國和談大會」，「要求：改組內閣，網羅全國和平民主人士，充實和平的內容」，「計畫發動國人，一致擁護和平；更希望美、蘇、英、法等強權能諒解，支持中國希望和平的想法」。其中(A)有誤，因為對清廷應不會用「總統」一詞。其次，(B)亦有誤，因為就(B)選項的時間，當時中日戰爭爆發在即，應不會有「一致擁護和平」或「支持中國希望和平的想法」。至於(D)亦與題幹不相符，因為舊金山和會的主軸應與臺灣問題有關，且 1950 年之時也在朝鮮半島爆發了韓戰，而共產黨亦已占據中國大陸，所以也較不可能出現。且題幹所述「許多人呼籲總統賦予內閣全權」、「要求：改組內閣」，應與民國 36 年《憲法》公布實施與民國 37 年選舉第一任行憲後的中華民國總統及其職權有關，也就是「總統制」與「內閣制」相扞格，當然有部分歷史學者認為當時的總統應屬「超級大總統」，再加上《動員戡亂時期臨時條款》的保障，因此有可能引起政界人士的不安，才會對國民黨提出建議。因此，本題最適當的答案選項應為(C)。

難 易 度 中

39. 1938 年 8 月間，某國新聞報導指出：「德國已經正式承認我國，我國政府將於德國首都柏林設立公使館，辦理兩國外交事務。國務院特別任命呂宜文為公使，並以日籍的三源綱一為參事官，王替夫與日籍的伊吹幸隆為書記官。」1939 年 2 月，這些新任的官員遞交國書，正式上任。這個國家是：
- (A)日本 (B)滿洲國 (C)韓國 (D)中華民國

答 案 (B)

命題出處 歷史第二冊第 5 章：中華民國的建立與發展（第三節——從中原到臺灣）

測驗目標 1-1 能明瞭重要的歷史名詞、事件、人物、制度與學說等。

解 析 本題題幹內容的敘述提到「德國已經正式承認我國，我國政府將於德國首都柏林設立公使館，辦理兩國外交事務。國務院特別任命呂宜文為公使，並以日籍的三源綱一為參事官，王替夫與日籍的伊吹幸隆為書記官」。可以從此段史料人物的立場、國籍等角色關係來判斷，例如提到「任命呂宜文為公使」、「以日籍的三源綱一為參事官，王替夫與日籍的伊吹幸隆為書記官」，如果是(A)，不可能「人稱」前會特別註明是

「日籍」，其次，若是(C)，那「呂宜文」與「王替夫」應該會被冠上國籍。至於(D)更不可能，因為題幹時間指明為 1938 年（即民國 27 年），當時中日兩國已爆發戰爭，因此不太可能會任用日籍人士擔任政府官員，當然此處指的「中華民國」應該不是汪精衛的國民政府。另外題幹開頭所述：「德國已經正式承認我國」亦可以證明(C)不正確，因為當時韓國已為日本殖民地，而德國和日本早在 1936 年就已簽訂「反共公約」，後來義大利加入以後，便形成軸心國。當時(A)無所謂承不承認的問題，至於(D)雖未對德日宣戰，但在立場上應不會與德國有直接的盟約關係。因此，本題最適當的答案選項應為(B)。

難易度 易

類似題 《學測新導向·歷史》第 189 頁第 18 題。

40. 一位政治人物表示：「我們不能把菲律賓交給德國或法國，這樣不符合我們的經濟利益，我們也不能讓菲律賓人自治，因為菲律賓人沒有自治的能力。我們只能占領整個菲律賓，教育他們，讓他們文明起來，灌輸基督教的理想。」這位政治人物應當是：

- (A)十七世紀的羅馬教宗
(B)十八世紀的西班牙王
(C)十九世紀的日本天皇
(D)二十世紀的美國總統

答案 (D)

命題出處 歷史第四冊第 2 章：資本主義國家的挑戰（第一節——西方國家的優勢）

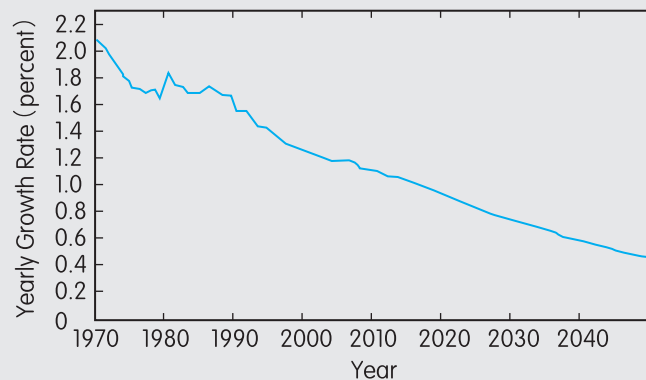
測驗目標 1-2 能明瞭某一時代在政治、社會、經濟、思想等方面的重要特色。

解析 本題題幹內容提及「我們不能把菲律賓交給德國或法國，這樣不符合我們的經濟利益，我們也不能讓菲律賓人自治，因為菲律賓人沒有自治的能力。我們只能占領整個菲律賓，教育他們，讓他們文明起來，灌輸基督教的理想」。其中(C)不正確的原因，是因為日本於十九世紀尚未獲得或占領菲律賓，以及日本應該也不會灌輸基督教思想給菲律賓。其次，(B)不正確的原因，可能在於「灌輸基督教的理想」，確實西班牙曾經統治過菲律賓，但因西班牙本身是天主教（舊教）國家，因此應不可能「灌輸基督教的理想」於菲律賓才是。而(A)亦是同西班牙一樣，宗教與題幹的敘述不相符。至於(D)較可能的原因在於 1898 年美西戰爭以後，美國取得菲律賓。而詳細的內容則為：「1898 年美西戰爭後，在西班牙與美國的默契下，美軍登陸菲律賓並進入馬尼拉，宣布建立軍事政府。經過美西戰爭的 1898 年 12 月 10 日《巴黎和約》，西班牙正式將菲律賓割讓給美國，美國則給西班牙兩千萬美元作為賠償。但

1899年 E. Aquinaldo 公布憲法，建立菲律賓共和國，並就任首任總統。這時候，美國與菲律賓正式爆發武裝衝突。後來美軍在「平定叛亂」中獲勝。1901年3月2日美國國會授權總統有結束菲律賓軍事政府的權力。美國於菲律賓軍事占領區進行民選首長，1901年美國總統任命首任菲律賓民政總督，正式開啟菲律賓民政總督治理階段。後來，美國國會通過法案，賦予菲律賓人與美國人同等的權利法案。1907年7月30日美國舉辦菲律賓的議會選舉。後來1916年8月29日美國國會通過，總統簽署著名的《鍾斯法案》(Jones Act)。美國通過《鍾斯法案》時說：「美西戰爭並無擁有菲律賓，只想菲律賓建立穩定政府之後即撤出。」由以上資料，可以了解到題幹所述之背景，因此，本題最適當的答案選項應為(D)。

難易度 中

41. 一個研究機構研究一個主題時，將該主題從1970年到2040年的可能趨勢，做成圖四中的曲線。這份統計主題應當是：



圖四

- (A)世界人口總數成長率
(B)印度國民所得增加率
(C)歐洲各國公民離婚率
(D)美國全國人口移入率

答案 (A)

命題出處 歷史第四冊第5章：我們生長的時代（第二節——海峽兩岸與世界的新秩序）

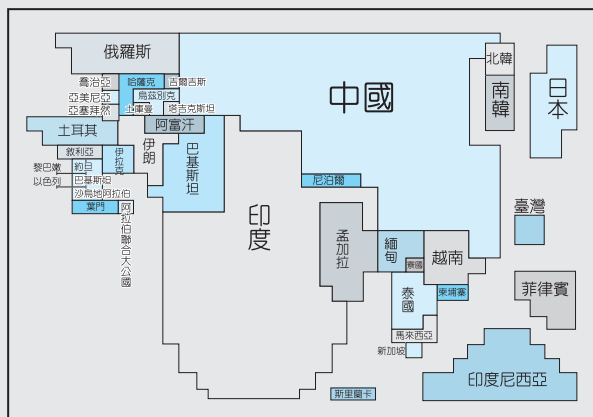
測驗目標 3-3 能根據資料及基礎知識對歷史發展的因果、延續、變遷等作出說明。

解析 本題主要根據附圖的曲線來判斷題目提供的四個答案選項何者較符合題意，其中，時間的範圍為1970～2040年。根據附圖曲線來判斷，呈現走下坡的趨勢，而(B)較不可能如預測值一開始高點之後一路呈下降趨勢。至於(C)應該較有可能是呈現愈來愈高的趨勢，亦與附圖曲線不合。

而(D)，觀察附圖曲線在 1970 ~ 1990 年這段期間，應屬美國投入越戰階段到雷根總統的「新保守主義」時期，此時期應與附圖曲線相反才較為合理，其次，(D)亦不可能一直呈現走下坡的態勢。至於(A)應較為符合題意，因為，全世界人口數雖然較有可能持續增加，但總成長率應該有可能持續往下走，原因在於先進國家多呈現「少子化」現象，而未來三、五十年以後，大多數的開發中國家亦有可能會走向「少子化」趨勢。因此，本題最適當的答案選項應為(A)。

難易度 難

42. 圖五是以 2000 年時某項統計數據為比例尺繪製的亞洲地圖，該統計數據最可能是各國的：



圖五

- (A)國民生產總額 (B)全國人口總數 (C)每人年均所得 (D)重工業年產值

答案 (B)

命題出處 歷史第四冊第 5 章：我們生長的時代（第二節——海峽兩岸與世界的新秩序）

測驗目標 3-3 能根據資料及基礎知識對歷史發展的因果、延續、變遷等作出說明。

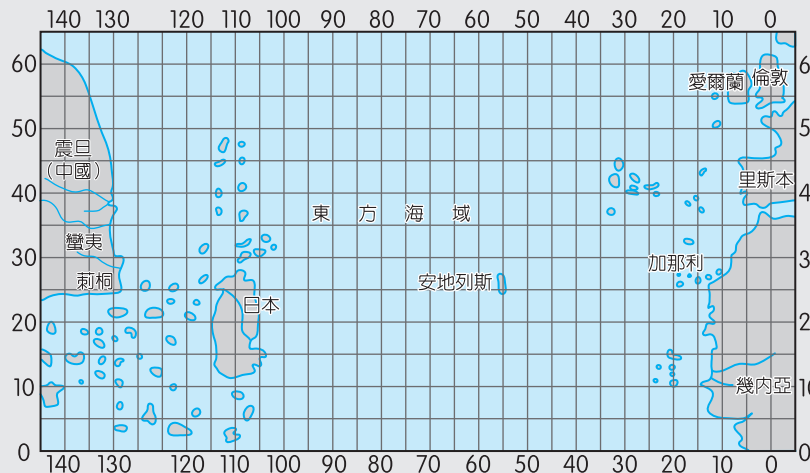
解析 本題解題的主要關鍵在於附圖的判讀，該附圖為兩千年某種特定數據的亞洲地圖。其呈現出來的樣貌對照到本題所提供的四個答案選項中，其中，(A)較有爭議的地方在於日本與南韓以及西亞許多國家比例過小，而印度的比例過大，似乎有些不合理，其次，就(C)而言，中國與印度的比例依舊太高，而較先進的國家如日本、南韓與臺灣則過小，亦不合理。而(D)依然也有不合理的現象。僅有(B)較符合附圖的比例分配，其中，俄羅斯部分應該只有採計俄羅斯在亞洲地區的人口總數。而中國與印度的全國人口總數，相較於其他亞洲國家，確實比例是比較高的。另外，此

附圖裡，各個國家的顏色略有不同，應只是為了方便區分而有兩個顏色的差別。因此，本題最適當的答案選項應為(B)。

難易度 難

類似題 《學測週計畫·地理》第 63 頁第 17 題

43. 圖六是一幅西方人繪製的地圖，製圖者將中國分成蠻夷與震旦，又認定日本是一個大島。中國最南端的角落為刺桐（泉州）城。從泉州出海，可以遇到無數小島。這幅圖反映的是何時的地理觀念？



圖六

- (A)西元二世紀的希臘地理學者托勒密 (B)西元五世紀的羅馬哲學家奧古斯丁
(C)十四世紀的義大利學者托斯卡內利 (D)十八世紀的英國航海家詹姆士庫克

答案 (C)

命題出處 歷史第三冊第 3 章：世界文明的蛻變與互動（第二節——世界文明的交匯）

測驗目標 1-3 能指出歷史事實中的因果、延續、變遷及趨勢等重要概念。

解析 本題的解題可以從題幹提供的關鍵詞以及題目附圖來判斷，其中題幹提及「刺桐（泉州）城」與「從泉州出海」，以及地圖上可看見「刺桐」一地。可以想見當時泉州對西方人而言，應是中國的重要港口。而中國的海上貿易盛行，大概從唐代設立市舶司以後開始，歷經宋、元、明、清等朝代。再者，泉州成為中國重要大港，首推元朝時期，而元朝（1279 ~ 1368）約當十三世紀到十四世紀間，因此，本題提供的答案選項中，在時間上(A)與(B)應較不可能。其次，細閱附圖，可以發現它是一張「地理大發現」前的地圖，因為地圖的最左側為中國與日本，而最右側有歐洲國家與非洲地區，但中間部分卻尚未出現美洲板塊，僅有小塊的安地列斯群島，由此可知，這張地圖應出現在哥倫布發現新大陸或

亞美利哥確認新大陸之前，因此，(D)亦非正確選項。因此，本題最適當的答案選項應為(C)。

難易度 中

44. 美國與日本簽定條約，規定：「侵犯日本人之美國人；由美國領事法庭審判，如屬有罪，當按美國法律處罰。侵犯美國人之日本人，由日本官方審判，按日本法律處罰。」同時規定：「日本政府准許美國人可以在開放的港口中自由行動；也准許居住於日本的美國僑民宗教自由，並可於適當地點建築教堂。」這個條約是：
- (A) 1854 年簽訂的《神奈川通商條約》 (B) 1922 年限制軍備的《華盛頓條約》
(C) 1951 年舊金山簽訂的《對日和約》 (D) 1960 年所訂《美日安全保障條約》

答案 (A)

命題出處 歷史第四冊第 2 章：資本主義國家的挑戰（第三節——非西方世界的危機或轉機）

測驗目標 1-1 能明瞭重要的歷史名詞、事件、人物、制度與學說等。

解析 本題題幹史料提到「侵犯日本人之美國人；由美國領事法庭審判，如屬有罪，當按美國法律處罰。侵犯美國人之日本人，由日本官方審判，按日本法律處罰」，指的應該是兩國「領事裁判權」的內容。其次，「日本政府准許美國人可以在開放的港口中自由行動；也准許居住於日本的美國僑民宗教自由，並可於適當地點建築教堂」，此處的「在開放的港口中自由行動」，指的應該是「開港通商」的內容，而「准許居住於日本的美國僑民宗教自由，並可於適當地點建築教堂」，應該與美國人的傳教活動有關，由此可判斷，上述的這個條約最有可能是(A)，這是日本被迫開港、結束鎖國時代的重要條約。至於(B)與(D)均與軍事內容有關，但題幹內容卻沒有提及這一部分，因此，兩個並非正確的選項。至於(C)，應該與中國以及臺灣問題有關，亦與本題題意不符，因此，本題最適當的答案選項應為(A)。

難易度 中

45. 圖七是根據 1907 年前後臺灣某項統計資料所作的空間分布圖，這個地圖的主題最可能是：



圖七

- (A) 稻作與甘蔗的分布
(B) 閩粵各族群的分布
(C) 瘧疾發生率的分布
(D) 都市化程度的分布

答案 (B)

命題出處 歷史第一冊第 3 章：日本統治時期（第一節——殖民統治前期的特色）

測驗目標 3-3 能根據資料及基礎知識對歷史發展的因果、延續、變遷等作出說明。

解析 本題題幹給的解題線索不多，還必須從附圖上去判斷才能找到符合題意的答案。其中，先從題幹給的時間「1907 年」來判斷，可以確認此臺灣地圖應出現在日治臺灣初期。而該地圖屬於當時某項統計資料的空間分布圖，較特別的是臺灣俗稱的「內山」與「後山」（東部）地區，是呈現空白的情況，另外，在空白處以外的地區則有三種條紋的不同區塊。而從本題提供的四個答案選項來判斷，其中，(D)因沒有具體的圖例說明，致使應該無法判斷出來。而(C)相較於附圖的三種條紋區塊，或為標誌目標不明確，或應該只有單純點狀分布才是。至於(A)亦不符合題意的原因，即在於只有稻作與甘蔗兩種樣本，但附圖卻有三種條紋區塊，且稻作與甘蔗的種植地區應差異不大，且一般所熟知的日治臺灣中期以後的「米糖相剋」問題，在 1907 年尚未發生。只有(B)較符合題意，其原因在於閩粵各族群，我們用傳統分法，可歸類泉州人、漳州人以及客家人，並且此三種族群亦可以呼應附圖的三種條紋區塊，例如：直條紋屬於泉州人、橫條紋屬於客家人，而交叉網狀條紋則屬於漳州人。因此，本題最適當的答案選項應為(B)。

難易度 難

46. 日本在臺灣殖民時期，有的糖廠會兼營水利設施。糖廠大多規定：凡使用灌溉溝渠的農民，須以甘蔗折價繳納，不收取現金或其他實物。糖廠採取徵收實物措施的目的為何？
- (A) 農民缺乏現金，必須配合，收取實物
 (B) 糖廠可掌握原料供應，以便控制蔗價
 (C) 農民運輸不易，希望由糖廠代為銷售
 (D) 糖廠為照顧蔗農，提供保證價格收購

答案 (B)

命題出處 歷史第一冊第3章：日本統治時期（第二節——社會與文化的變遷）

測驗目標 1-2 能明瞭某一時代在政治、社會、經濟、思想等方面的重要特色。

解析 本題根據題幹所述「日本在臺灣殖民時期，有的糖廠會兼營水利設施。糖廠大多規定：凡使用灌溉溝渠的農民，須以甘蔗折價繳納，不收取現金或其他實物」。應可判斷是日本臺灣總督府為保障製糖株式會社而剝削臺灣蔗農的一種經營管理方式。當時臺灣總督府為了保護新興的日本製糖會社，除了實施資金補助外，更規定原料採取區域制度，使得製糖會社得以控制蔗農和蔗園，甚至任意決定甘蔗的收購價格。因此，製糖會社當時便成為日治時期最具代表性的產業，也充分暴露了日本統治當局以國家權力，直接支助其殖民資本主義擴張之蠻橫作風。因此也才有這句臺灣俗諺：「第一憨是替人選舉做運動，第二憨就是種甘蔗乎會社磅」。由此可知，與(A)無關，而(C)與(D)亦不可能發生。因此，本題最適當的答案選項應為(B)。

難易度 易

47、48題為題組

◎表二是英倫三島、德國與北歐、伊比利半島、義大利半島四個地區從400年到1500年間的人口統計，請根據表中數據，回答問題。

表二 單位：百萬人

地區 \ 年代	某地區 400 ~ 1500 年人口統計					
	400	650	1000	1200	1340	1500
甲	6	2.5	5	7.8	10	9
乙	4	3.5	7	8	9	8.3
丙	3.5	2	4	7	11.5	7.5
丁	1	0.5	2	2.8	5	3

47. 最接近地中海的兩個地區應是：

- (A) 甲乙 (B) 甲丙 (C) 甲丁 (D) 丙丁

答案 (A)

命題出處 歷史第三冊第 2 章：普世宗教與中古文明（第二節——基督教會與中古歐洲）

測驗目標 3-3 能根據資料及基礎知識對歷史發展的因果、延續、變遷等作出說明。

解析 本題與第 48 題同為題組題，主要解題關鍵在於題目所附表格的數據，以此來分析從西元 400 ~ 1500 年的歐洲四個地區各自屬於甲、乙、丙、丁的何者。而這四個地區分別有英倫三島、德國與北歐、伊比利半島、義大利半島，當然「德國與北歐」和其他三者的地理概念有些不同，是較奇怪之處。若從此四者的位置以及各自在西方中古到近世發展的情形，來對照到四列不同年代時期的數據上，可以有以下的判讀：其中「義大利半島」相當於羅馬帝國以迄文藝復興時期的義大利地區；而「伊比利半島」則從羅馬帝國統治到蠻族入侵建立西哥德王國，再到伊斯蘭帝國統治，最後形成兩個民族國家，並開啟了地理大發現時代；至於「德國與北歐」則從蠻族入侵前後到查理曼帝國、最後成為神聖羅馬帝國，並到歐洲發起宗教改革之前。而「英倫三島」最早則可遠溯至凱撒征服到羅馬帝國時代，到盎格魯撒克遜蠻族的入侵建國，到征服者威廉建立諾曼第王朝，一直到英法百年戰爭後成為民族國家，以及到發生玫瑰戰爭為止。根據上述四個地區在西元 400 ~ 1500 年的發展與變化，來判斷各自在不同時期的人口數量多寡。另外也必須先了解歐洲歷史發展的順序，其中地中海地區為較早發展的區域，因此屬於早期人口較多的地區。而西歐與西北歐地區則相對發展較晚。另外，地中海地區人口數量增加的順序又可以細分為：由東南歐的巴爾幹半島（希臘、亞歷山大時代），然後至義大利半島（羅馬帝國），最後到伊比利半島；整體而言，地中海地區是歐洲歷史較早發展、人口也相對較多的地區。至於人口部分的整體變化則是西元 400 ~ 650 年，歐洲人口普遍減少，主要原因可能是因為「蠻族」（日耳曼民族等）大遷徙所造成的。自西元 650 ~ 1000 年，人口又逐漸回升，則可能因為在經濟、政治上的莊園、封建制度的實施，使得社會逐漸安定。自西元 1000 ~ 1340 年，人口顯著的上升，則是此時期與前期在社會經濟方面城市商業較前期繁榮所致。自西元 1340 ~ 1500 年，人口又減少，則是因為當時歐洲黑死病的流行。由此可判斷，甲應該是義大利半島，乙則是伊比利半島，丙最有可能是中歐（今日的德國）與北歐，而丁應該是英倫三島。由此可知，第 47 題問到最接近地中海的兩個地區應是甲乙兩地。因此，本題最適當的答案選項應為(A)。

難易度 難

48. 表中丁地應當是指：

- (A) 英倫三島 (B) 德國與北歐 (C) 伊比利半島 (D) 義大利半島

答案 (A)

命題出處 歷史第三冊第 3 章：世界文明的蛻變與互動（第一節——歐洲社會的蛻變）

測驗目標 3-3 能根據資料及基礎知識對歷史發展的因果、延續、變遷等作出說明。

解析 說明同上題，第 48 題問到表中的丁地應當是指「英倫三島」。因此，本題最適當的答案選項應為(A)。

難易度 難

49. 表三是 2010 年臺灣六個都市的面積、人口和便利商店家數的資料。哪一個概念最足以解釋便利商店總家數在六個都市的變化？

表三

都市	面積 (平方公里)	人口數 (人)	便利商店代號及家數				總計
			A	B	C	D	
甲	109.77	110,022	30	17	0	0	47
乙	65.69	236,315	43	21	12	11	87
丙	48.43	54,473	11	4	0	2	17
丁	26.76	339,070	46	23	8	13	90
戊	23.14	549,196	113	93	21	48	275
己	20.29	411,122	80	91	18	26	215

(A)商圏

(B)物流

(C)拉力

(D)中地

答案 (D)

命題出處 地理第二冊：第三級產業——中地

測驗目標 能運用各種地理資訊分析、展現和解釋地理現象

解析 表中便利商店 A ~ D 雖屬不同公司，但都視為同一性質的服務業，由表整理如下：

面積大小：甲 > 乙 > 丙 > 丁 > 戊 > 己

人口多少：戊 > 己 > 丁 > 乙 > 甲 > 丙

商店總數：戊 > 己 > 丁 > 乙 > 甲 > 丙

由上可知，商店總數和人口數成相關，亦即人口愈多的地方，便利商店數愈多，此即中地的概念。

難易度 難

類似題 《地理學測週計畫》第 57 頁第 37 題。

《地理應考好幫手》第 78 頁中地理論。

50. 近年來，中國土地沙漠化的問題有日趨嚴重的趨勢。據估計，目前正以每年 2000 平方公里的速度擴張。中國沙漠化加劇的原因，和下列哪些事實最直接相關？

- 甲、東線、中線南水北調工程已逐漸完成
- 乙、過度抽取地下水，導致地下水位下降
- 丙、大規模推廣溫室農業生產果蔬、種籽
- 丁、許多固定、半固定沙丘轉為流動沙丘
- 戊、經濟起飛成為世界重要新興資本市場

- (A)甲丙 (B)乙丁 (C)乙戊 (D)丁戊

答案 (B)

命題出處 地理第四冊：中國的環境－沙漠化

測驗目標 能分析形塑地表景觀的自然與人文作用因素

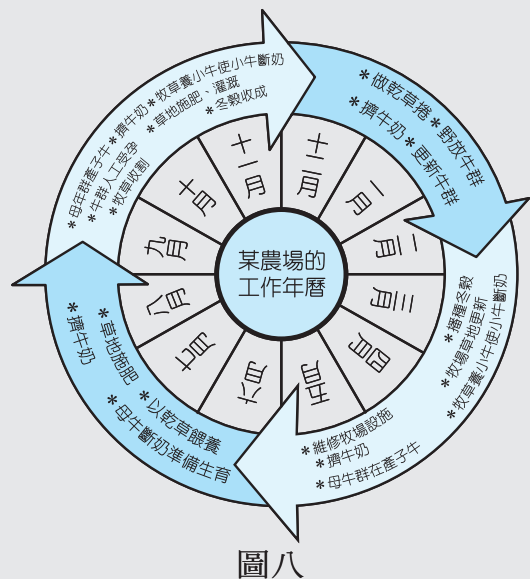
解析 中國的沙漠化主要發生在西北乾旱區周圍，原因有二：一是自然的氣候變遷，另一項是人為不當使用水資源，導致沙漠化問題嚴重。本題乙項造成水平衡的支出增加，在收入不變情形下，易形成沙漠化。丁項的沙丘移動，會使沙漠附近的土地受沙土覆蓋，形成沙漠化。

難易度 難

類似題 《地理學測週計畫》第 160 頁第 22 題。
《地理應考好幫手》第 208 頁沙漠化。

51. 圖八是某地區一個農場的年中農事曆。該農場所屬的國家，最可能是下列哪一個國際組織的成員？

- (A) 歐洲聯盟 (EU)
- (B) 石油輸出國家組織 (OPEC)
- (C) 亞太經濟合作會議 (APEC)
- (D) 北美自由貿易協定 (NAFTA)



圖八

答案 (C)

命題出處 地理第三冊：澳洲與紐西蘭——商業性農業

測驗目標 能瞭解澳紐業性農業的特質

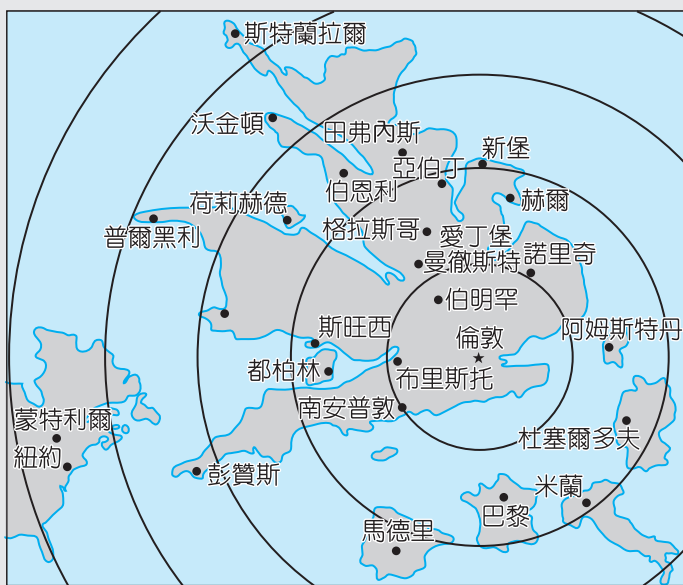
解析 表中四月種冬穀，十一月收成冬穀，可知六七八月為冬季，所以本地位在南半球。酪農業是西方的主要農業方式，本題應是指南半球的西方國家，以亞太經合會的澳紐地區較可能。歐盟、石油輸出國家組織和北美自由貿易協定都在北半球。

難易度 中偏易

類似題 《地理應考好幫手》第 65 頁混合農業，第 107、108 頁歐洲聯盟（EU）、石油輸出國家組織（OPEC）、亞太經濟合作會議（APEC）、北美自由貿易協定（NAFTA）。

52. 圖九是以某種要素作為比例尺，以英國倫敦為中心繪製的地圖。下列何者最可能是該圖繪製時所依據的比例尺？

- (A)幾何距離
(B)都市化程度
(C)區域貧富差距
(D)平均旅行時間



圖九

答案 (D)

命題出處 地理第一冊：地圖——主題地圖

測驗目標 能運用各種地理資訊了解主題地圖的特性

解析 圖上以倫敦為中心，歐洲約在第二圈左右，北美洲在第四到五圈間，反而在英國，第一到第五圈都有，表示此並非幾何距離，而是旅行時間。英國和德、法、美等國都是已開發地區，都市化程度和貧富差距的差異都不大。

難易度 中偏難

類似題 《地理應考好幫手》第 218 頁時空收斂。

53. 表四是世界一些都市人均每日耗水量的調查資料。根據此資料，下列哪一項推論最為合理？

表四

都市	洛杉磯	鳳凰城	奧克蘭	多倫多	紐約	墨爾本
耗水量 (公升/日)	1287	984	800	517	466	380
都市	亞特蘭大	里昂	斯德哥爾摩	哥本哈根	阿姆斯特丹	雅典
耗水量 (公升/日)	358	275	228	220	159	130

- (A)沿海都市耗水量比內陸都市多
 (B)北半球都市耗水量比南半球都市多
 (C)北美洲、大洋洲都市耗水量比歐洲都市多
 (D)地中海型氣候區都市耗水量比海洋性氣候區都市多

答案 (C)

命題出處 地理第二冊：世界的劃分

測驗目標 能了解世界各重要都市的地理特性

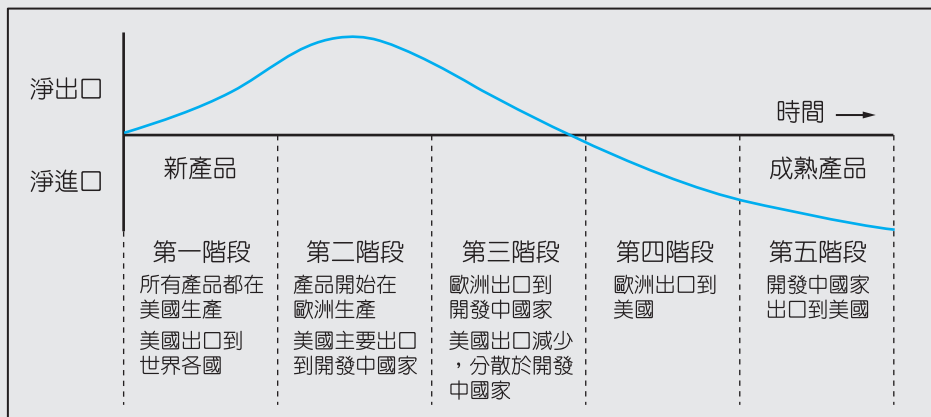
解析 各都市資料如下表所示：（溫地——表示溫帶地中海型氣候，溫海——表示溫帶海洋性氣候，溫陸——表示溫帶大陸性氣候）

都市	靠海	半球	位置	氣候
洛杉磯	靠海	北	美國（北美）	溫地
鳳凰城	內陸	北	美國（北美）	乾燥氣候
奧克蘭	靠海	南	紐西蘭（大洋洲）	溫海
多倫多	內陸	北	加拿大（北美）	溫陸
紐約	靠海	北	美國（北美）	溫陸
墨爾本	靠海	南	澳洲（大洋洲）	夏雨型暖溼氣候
亞特蘭大	內陸	北	美國（北美）	夏雨型暖溼氣候
里昂	內陸	北	法國（歐洲）	溫海
斯德哥爾摩	靠海	北	瑞典（歐洲）	溫海
哥本哈根	靠海	北	丹麥（歐洲）	溫海
阿姆斯特丹	靠海	北	荷蘭（歐洲）	溫海
雅典	靠海	北	希臘（歐洲）	溫地

難易度 中偏易

類似題 《地理應考好幫手》第 112、123 頁美國與歐洲地形圖（各都市分布）。

54. 學者利用產品生命週期 (product life cycle) 的概念，研究美國廠商產銷區位的變化，獲得圖十所示的結果。下列哪一個概念最足以解釋這種結果？



圖十

- (A)空間移轉 (B)區位擴散 (C)空間分工 (D)工業慣性

答案 (A)

命題出處 地理第二冊：第四級產業——產品週期

測驗目標 能知道重要的地理名詞、概念

解析 「生命週期與產銷區位變化」，重點在區位的變化。在不同的產業生命週期階段中，有不同的區位考量，其產銷區位也隨之變化，稱為空間移轉。

難易度 中偏易

類似題 《地理應考好幫手》第 73 頁工業慣性，第 81 頁區位擴散與變遷。

55. 圖十一是描繪某地區傳統民居的畫作。該地區最可能具有下列哪些特色？

- 甲、單位面積天然植物種類繁多
乙、農業土地土壤鹽化問題嚴重
丙、商業性穀物和酪農業極興盛
丁、晝夜長短與溫差季節變化小
戊、土壤質地黏重且富含腐植質

- (A)甲丁
(B)甲戊
(C)乙丙
(D)丁戊



圖十一

答案 (A)

命題出處 地理第一冊：自然景觀帶——自然景觀帶

測驗目標 能分析形塑地表景觀的自然與人文作用因素

解析 圖中重點有二：一為椰子樹，一為高架屋，表示熱帶多雨地區，甲、單位面積天然植物種類繁多，以及丁、晝夜長短與溫差季節變化小，是低緯度熱帶雨林的特徵；乙、農業土地土壤鹽化問題是在乾溼分明或乾燥區的過度灌溉時較嚴重；丙、商業性穀物和酪農業在溫帶地區較興盛；戊、本區土壤質地以粗粒大孔隙的磚紅壤為主。

難易度 中偏難

類似題 《地理應考好幫手》第 56 頁磚紅壤與紅壤分布與土壤鹽鹼化，第 65、66 頁商業性穀物農業與酪農業分布，第 164 頁長屋。

56.~58.題為題組

◎民國 99 年 10 月，蘇花公路發生坍方災害後，臺灣公路總局考慮將「十分鐘雨量」納入路況警示的參考。十分鐘內雨量的累積，如超過 10 ~ 15 mm 時，就屬異常狀況，此「降水強度指標」，再加上有「道路受損歷史紀錄」、「地質脆弱」、「人為不當開發」等情況的路段，都將列為「防災關鍵路段」。公路總局將視狀況，在關鍵路段設置監控點、架設監視器，而監控點前、後也會有封路點，並於適當距離設置情報告知點。透過電子看板與發送簡訊，保障用路人的安全。請問：

56. 上述發生坍方災變的公路路段，屬於臺灣哪一座山脈的邊坡？

- (A)海岸山脈 (B)雪山山脈 (C)中央山脈 (D)玉山山脈

答案 (C)

命題出處 地理第四冊：臺灣的區域特色與區域發展問題——區域特色

測驗目標 能了解蘇花公路的位置

解析 中央山脈北起宜蘭蘇澳，南到屏東恆春，蘇花公路在中央山脈北段蘇澳到花蓮間。

難易度 易

57. 公路總局在評定關鍵路段的要素中，哪一個要素與臺灣位於板塊交界位置的關係最為密切？

- (A)地質脆弱 (B)降水強度
(C)開發不當 (D)道路受損歷史紀錄

答案 (A)

命題出處 地理第四冊：臺灣的位置與環境特色——板塊交界帶

測驗目標 能分析板塊交界與形塑地表景觀的關係

解 析 (A)在板塊交界處常因擠壓而造成地質脆弱。(B)降水強度和降水型式有關，與板塊交界無關。(C)開發不當是人為因素，非自然原因。(D)道路受損歷史紀錄可能是氣候、地形等因素影響，也可能是人為使用不當。

難 易 度 易

類 似 題 《地理應考好幫手》第 42 頁降水強度。

58. 公路總局為保障用路人安全，採取多項相關監控、預警並通知等措施。這些措施若要順利運作，需要下列哪項條件的配合？

(A)環境衝擊減弱 (B)社會梯度分明 (C)資訊革新快速 (D)城鄉互補緊密

答 案 (C)

命題出處 地理第二冊：第四級產業——資訊革新

測驗目標 能了解資訊革新對生活的影響

解 析 坍方災害是相當快速的崩壞作用，監控預警及通知措施，是一個縱向的連繫，著重效率，所以要運作順利，需資訊流通快速，故與資訊革新有關。

難 易 度 中偏難

類 似 題 《地理應考好幫手》第 99 頁社會梯度。

59、60題為題組

◎照片一(甲)、(乙)是某人在紐西蘭和澳洲度假旅行時所拍攝的地理景觀。請問：



(甲)

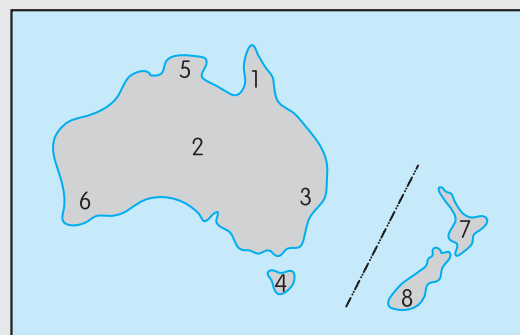


(乙)

照片一

59. (甲)照片最有可能是在圖十二的何處拍攝？

- (A) 1
- (B) 2
- (C) 3
- (D) 4



圖十二

答案 (B)

命題出處 地理第三冊：澳洲與紐西蘭——自然景觀多樣性

測驗目標 能了解澳洲地理現象的空間特性

解析 (甲)照片是澳洲中部的艾爾斯岩，位在西部的結晶岩高原區的獨立岩塊。1、3 在東部大分水嶺山脈，4 是塔斯馬尼亞島，都屬褶曲山地。

難易度 中偏易

類似題 《地理應考好幫手》第 134 頁澳洲自然環境（荒漠景觀分布）。

60. (乙)照片中的地理景觀，山脈是侵蝕作用的產物，水域是侵蝕後的凹狀窪地，再積水成湖的結果。此照片最有可能在圖十二的何處拍攝？

- (A) 5
- (B) 6
- (C) 7
- (D) 8

答案 (D)

命題出處 地理第三冊：澳洲與紐西蘭——自然景觀多樣性

測驗目標 能了解紐西蘭地理現象的空間特性

解析 照片(乙)四周多山，可能侵蝕的營力是冰，形成冰蝕湖，以緯度較高且有

山地的紐西蘭南島為主。

難易度 中偏易

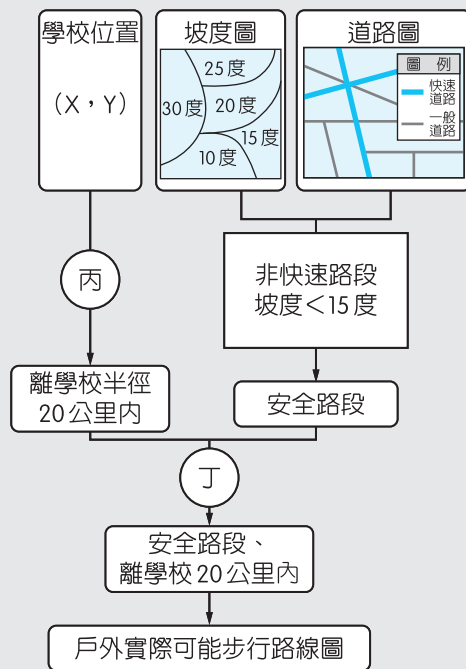
類似題 《地理應考好幫手》第 135 頁紐西蘭自然環境（南島冰河地形）。

61、62 題為題組

◎大新中學將舉辦戶外鄉土實察活動，地理老師應用地理資訊系統規劃從學校出發之步行考察路線。考量學生安全與時間限制，地理老師依照圖十三的流程找出可能的路線。請問：

61. 圖中「丙」所進行的是何種 GIS 處理流程？

- (A) 環域分析
- (B) 路徑分析
- (C) 地勢分析
- (D) 疊圖分析



圖十三

答案 (A)

命題出處 地理第一冊：地理資訊——地理資訊系統的功能

測驗目標 能運用地理資訊系統解決問題

解析 以某一點或線或面為基準，找出其固定距離的範圍，稱為環域分析。

難易度 易

類似題 《地理學測週計畫》第 13 頁第 3 題。

《地理應考好幫手》第 18、19 頁環域分析、最佳路徑分析、地形分析、疊圖分析。

62. 圖中「丁」所進行的是何種 GIS 處理流程？

- (A) 環域分析
- (B) 路徑分析
- (C) 地勢分析
- (D) 疊圖分析

答案 (D)

命題出處 地理第一冊：地理資訊—地理資訊系統的功能

測驗目標 能運用地理資訊系統解決問題

解析 由同區域的二個不同主題的地圖（距學校 20 公里範圍、安全路段圖），經運算後形成新的圖，稱為疊圖分析。

難易度 中偏易

類似題 《地理學測週計畫》第 18 頁第 40 題。

《地理應考好幫手》第 18、19 頁環域分析、最佳路徑分析、地形分析、疊圖分析。

63、64 題為題組

◎ 以下是某位旅行者，在全球甲、乙、丙、丁四個地點所做的旅遊手札。

甲、三月積雪仍厚，利用假日郊遊滑雪，雖然寒冷，仍得做好防曬……。

乙、七月穿的短袖衣服一月穿也相當合適；陣雨像是識途老馬，總在午後報到……。

丙、憑良心講，騎駱駝真的是很恐怖的記憶，尤其是從駱駝背上落地，彷彿是突然從二樓降到一樓……。

丁、二月還沒過一半，就一連下了七天的雨，旅店外的溫度計顯示現在是攝氏六度，穿著毛衣走在陰雨的街道上……。

根據這些札記的片段，請問：

63. 該旅行者遊歷至美國西北部的西雅圖時，最可能留下哪一段手札？

- (A) 甲 (B) 乙 (C) 丙 (D) 丁

答案 (D)

命題出處 地理第三冊：美國——美國的自然環境

測驗目標 能了解美國各地的自然環境特性

解析 甲、三月積雪「仍」厚，表示冬季已過，但氣候仍冷，為北半球高緯度地區。

乙、七月穿的短袖衣服一月穿也相當合適，表示溫差不大；陣雨像是識途老馬，總在午後報到，顯示熱帶雨林氣候區的溫差小及每日午後對流雨盛。

丙、駱駝是乾燥氣候的馱獸。

丁、二月低溫多雨，穿著毛衣走在陰雨的街道上，是北半球溫帶海洋性氣候區。若在南半球則二月高溫。

美國西雅圖在美西溫帶海洋性氣候區，選丁。

難易度 中偏易

類似題 《地理應考好幫手》第 47 頁熱帶雨林與溫帶海洋氣候，第 111、112 頁美國地形圖與北美洲氣候分布圖。

64. 該旅行者遊歷時，拍下照片二的農業景觀。該照片最可能在哪一個地點拍攝？

- (A) 甲
(B) 乙
(C) 丙
(D) 丁



照片二

答案 (B)

命題出處 地理第二冊：第一級產業——農村景觀

測驗目標 能了解不同農業系統的農業景觀

解析 照片二為整齊排列的水田，以東南亞熱帶雨林氣候區最可能。

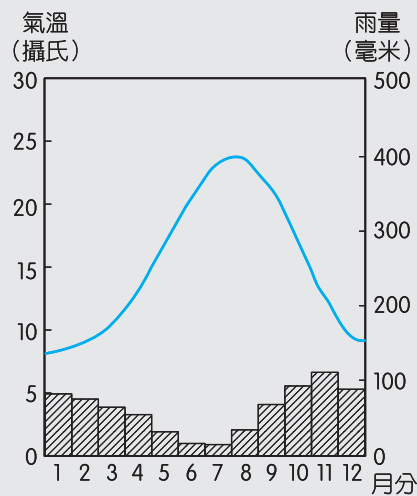
難易度 易

65.~67.題為題組

◎圖十四為某地的氣候圖。請問：

65. 下列哪一個都市的氣候狀況和該地最為相近？

- (A) 英國愛丁堡
(B) 澳洲坎培拉
(C) 加拿大溫哥華
(D) 葡萄牙里斯本



圖十四

答案 (D)

命題出處 地理第一冊：氣候與水文——一般氣候分類

測驗目標 能認識並分析氣候圖

解析 七月高溫一月低溫為北半球，最冷月均溫 8 度為暖溫帶。暖溫帶五到八月連續四個月降水量低於 50 毫米，由溫度和雨量季節分布為夏乾冬雨，屬北半球的地中海型氣候區。選葡萄牙里斯本。

難易度 中偏易

類似題 《地理學測週計畫》第 157 頁第 1 題。

《地理應考好幫手》第 49 頁氣候類型判釋，第 111、112 頁美國地形圖

與北美洲氣候分布圖，第 122、123 頁歐洲地形圖
與歐洲氣候分布圖，第 134、135 頁澳洲地形圖與
澳洲氣候分布圖。

66. 下列哪一個自然景觀帶的植被景觀，最可能出現在該氣候圖所代表的氣候區內？



(A)



(B)



(C)



(D)

答案 (C)

命題出處 地理第一冊：自然景觀帶——自然景觀帶

測驗目標 能了解地表景觀的特性

解析 (A)為疏林莽原。(B)為寒帶針葉林。(C)為灌木林。(D)為熱帶潤葉林。

難易度 中偏易

類似題 《地理應考好幫手》第 59 頁熱帶疏林莽原、針葉林、地中海灌木林、熱帶雨林。

67. 在美州，該氣候圖所代表的氣候區內，最常遭遇下列何種自然災害？

- (A)颶風 (B)地震 (C)雪崩 (D)龍捲風

答案 (B)

命題出處 地理第三冊：美國——美國的自然環境

測驗目標 能分析美國地理現象的空間特性

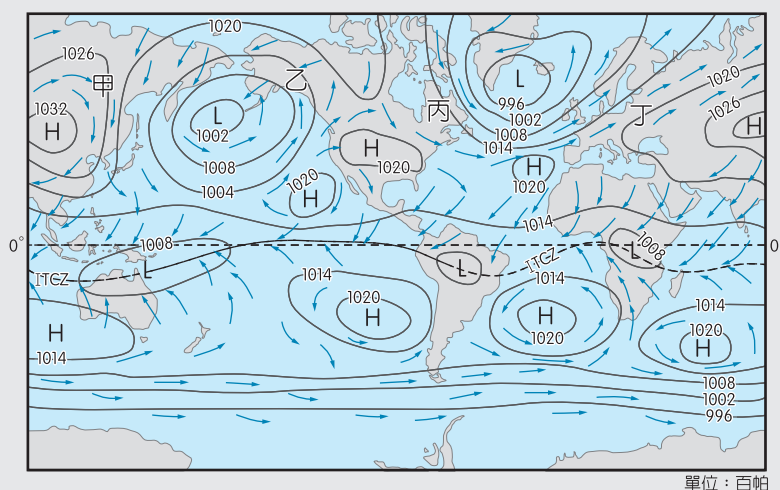
解析 美洲的地中海型氣候區分布在北美的美國西南部加州，以及南美智利中部，都在新褶曲山地，地震頻繁。颶風為熱帶氣旋，大陸東岸低緯區較多；雪崩發生在山區；龍捲風以美國中部大平原較多。

難易度 中偏難

類似題 《地理應考好幫手》第 111、151 頁美國自然環境（地形分區）與中南美洲自然環境（南美洲地形）。

68.~70.題為題組

◎圖十五為世界某年某月的等壓線分布圖。請問：



圖十五

68. 該圖「最可能」是北半球哪一個季節的全球等壓線分布圖？

- (A)春季 (B)夏季 (C)秋季 (D)冬季

答案 (D)

命題出處 地理第一冊：氣候與水文——氣壓分布形勢

測驗目標 能分析季節變化與氣壓分布形勢的關係

解析 全球氣候圖注意二個地方：一是蒙古高原，一是 I.T.C.Z. 位置。圖上蒙古為高壓盤據，I.T.C.Z. 分布在赤道以南，為北半球冬季。

難易度 中偏易

69. 該圖的甲乙丙丁四地，最可能位於哪一個行星風系的風帶？

- (A)極圈氣旋帶 (B)東南信風帶 (C)東北信風帶 (D)副熱帶高壓帶

答案 (A)

命題出處 地理第一冊：氣候與水文——氣壓分布形勢

測驗目標 能分析季節變化與氣壓分布形勢的關係

解析 甲乙丙丁位置在副熱帶高壓以北，可能是西風帶和極圈氣旋帶；(B)東南

信風帶在南半球；(C)東北信風帶在 I.T.C.Z. 北方向 I.T.C.Z. 吹的風帶；
(D)副熱帶高壓帶在 I.T.C.Z. 兩側高壓有 H 記號處。

難易度 中偏易

類似題 《地理應考好幫手》第 43、44 頁風帶季移、行星風系分類。

70. 根據該圖內容所示，下列有關間熱帶輻合帶 (ITCZ) 的推論，何者最為合理？

推論一：間熱帶輻合帶均位於北半球

推論二：間熱帶輻合帶在大陸上向高緯彎曲

推論三：間熱帶輻合帶為南北半球季風的交會帶

推論四：間熱帶輻合帶通過的地區皆為莽原氣候區

(A)推論一

(B)推論二

(C)推論三

(D)推論四

答案 (B)

命題出處 地理第一冊：氣候與水文——氣壓分布形勢

測驗目標 能分析季節變化與氣壓分布形勢的關係

解析 根據該圖內容所示：

推論一：間熱帶輻合帶在圖上位於南半球

推論二：間熱帶輻合帶在南美和非洲和澳洲大陸上向高緯彎曲

推論三：間熱帶輻合帶為南北半球信風的交會帶，季風僅在北半球出現

推論四：間熱帶輻合帶通過的地區在赤道附近，皆為熱帶雨林氣候區

難易度 中偏易

類似題 《地理應考好幫手》第 43、44 頁間熱帶輻合帶 (ITCZ) 與行星風系分類。

71、72題為題組

◎表五是 2007 年世界人口城鄉分布資料。甲～己代表六大洲（亞洲、歐洲、非洲、北美洲、中南美洲和大洋洲）。請問：

表五

區域	總人口 (千人)	都市人口		鄉村人口		最大都市人口	
		千人	佔總人口 (%)	千人	佔總人口 (%)	千人	佔總都市人口 (%)
甲	4029665	1645225	40.83	2384440	59.17	219766	13.36
乙	964973	373372	38.69	591601	61.31	97906	26.22
丙	731284	527686	72.16	203598	27.84	77795	14.74
丁	572206	448006	78.29	124200	21.71	100544	22.44
戊	338831	275495	81.31	63337	18.69	24285	8.82
己	34267	24160	70.50	10108	29.50	6952	28.78
世界	6671227	3293944	49.38	3377283	50.62	527248	16.01

71. 哪三洲的都市規模分布，以首要型分布型態最普遍？

- (A)甲、丙、戊 (B)乙、丁、己 (C)丙、丁、戊 (D)丁、戊、己

答案 (B)

命題出處 地理第三冊：世界的劃分——世界分區

測驗目標 能從人口資料分辨世界各洲並了解各洲特性

解析 甲——亞洲；乙——非洲；丙——歐洲；丁——中南美；戊——北美；己——大洋洲；首要型都市的分布，大多是被殖民過的地區為主，有非洲、中南美、大洋洲、亞洲。

難易度 中偏難

類似題 《學測週計畫·地理》第 62 頁第 11 題。
《地理應考好幫手》第 95 頁首要型分布。

72. 哪三洲的經濟較發達，人類發展程度指標（HDI）最高？

- (A)甲、乙、丙 (B)甲、丁、戊 (C)丙、丁、己 (D)丙、戊、己

答案 (D)

命題出處 地理第三冊：世界的劃分——世界分區

測驗目標 能從人口資料分辨世界各洲並了解各洲特性

解析 開發程度較高的是北美、歐洲、大洋洲。

難易度 中偏難

類似題 《學測週計畫·地理》第 64 頁第 25 題。
《地理應考好幫手》第 108 頁人類發展指標。