

101 學測

精彩 解析

- 名 師：梁蕙蓉老師
- 蘭陽女中：汪栢年老師
- 名 師：林 菲老師

社會 考科

【試題·答案】依據大考中心公布內容

發行人 / 陳炳亨
總召集 / 周耀琨
總編輯 / 蔣海燕
主 編 / 陳俊龍
校 對 / 蔡宛諭、陳巧玲、黃合竹
美 編 / 李懿娟、林淑惠
◎本書內容同步刊載於翰林我的網

出 版 / 民國一〇一年二月
發行所 / 70248臺南市新樂路76號
編輯部 / 70252臺南市新忠路8-1號
電 話 / (06)2619621#314
E-mail / periodical@hanlin.com.tw
翰林我的網 <http://www.worldone.com.tw>



翰 林 出 版

壹、前言

101 學測社會考科「公民與社會」共 24 題，整體難度屬於中等偏易，偏難的題目只有 4 題，約占六分之一，而簡易題目也有 4 題。因此，答對題數在 15 ~ 19 題屬於中等實力者；答對題數在 19 ~ 22 題屬於中上實力者；答對題數在 22 題以上者為實力堅強者；若僅答對 15 題以下者，在參加指考之前務必要加緊腳步，針對答錯的題目之主題加強複習。

貳、試題特色

一 保留原有學測命題的風格

今年社會科的學測，仍維持原有學測命題的風格；例如：總題目數為 72 題，且三科平均出題，分別各占 24 題（即各三分之一），三科平均配置的趨勢，而公民與社會科仍繼續維持各冊次平均約占 5 ~ 8 題的命題比例。且仍保留歷年學測的基本特色：

(一) 結合新聞時事命題

1. 新聞事件：《公共場所母乳哺育自治條例》。（101 學測第 6 題）

臺北市《公共場所母乳哺育自治條例》

中華民國 98 年 12 月 22 日臺北市政府（98）府法三字第 098370096200 號令制定公布

《公共場所母乳哺育條例》

中華民國 99 年 11 月 24 日總統華總一義字第 09900317131 號令制定公布全文 13 條；並自公布日施行

為維護婦女於公共場所哺育母乳之權利，並提供有意願哺育母乳之婦女無障礙哺乳環境，參考蘇格蘭及美國有四十一州已有保障婦女有於任何公開場所哺餵母乳權利之規範，積極推動「公共場所母乳哺育條例」完成立法，規範任何人不得禁止、驅離或妨礙婦女於公共場所哺育母乳；特定之公共場所應設置哺（集）乳室，並有明顯標示；直轄市、縣（市）主管機關有對轄區內公共場所建築物所設置之哺（集）乳室及其設備進行檢查或抽查之責任，及相關之罰則。

2. 新聞事件：臺塑六輕廠內又發生火警。（101 學測第 13 題）

臺塑六輕接二連三發生大火，光是 100 年 7 月，1 個月就發生 2 起火警，2010 年 7 月 26 日、7 月 7 日，這 2 起工安意外，發生相隔僅僅 18 天。前年 8 月 19 日，臺塑六輕廠房也發生火警，算一算 3 年來，臺塑六輕廠燒了 5 次，從 2000 年到現在，10 年來一共發生 9 起工安意外。附近居民忍不住也冒火，當時臺塑麥寮廠人員也再次道歉重申將加強公安檢討，但才過三天，再度發生火警，工程人員面對媒體詢問，除了道歉，也聲明希望社會再給一次機會。

3. 新聞事件：反對學校調漲學雜費。（101 學測第 15 題）

2011 年 4 月初，輔大校長公開表示不漲學費；6 月分暑假期間，卻傳出董事會決議調漲學費。為此，輔大黑水溝社號召學生抗議此一決策。提出「反對學校調漲學雜費！」「學校黑箱作業，踐踏校園民主！」的訴求；雖然已經放暑假，輔大黑水溝社還是號召了 20 多名學生集結校門口，抗議校方準備調漲學費，抗議過程中一度與校方行政人員推擠拉扯，場面相當混亂。

4. 新聞事件：特種貨物及勞務稅條例。（101 學測第 21 題）

我國政府鑒於現行稅制下，房屋及土地短期交易之移轉稅負偏低甚或無稅負，又一般大眾對高消費族群未合理負擔稅負之負面觀感，決定正視此問題並妥適處理。財政部爰參考美國、新加坡、南韓及香港立法例，擬具「特種貨物及勞務稅條例」草案，對特定貨物及勞務加徵一定稅額，該條例業於 100 年 5 月 4 日經總統公布，行政院也已核定該條例之施行細則，並定該條例自 100 年 6 月 1 日施行。

(二) 搭配統計圖表命題

1. 結合數據資料，考「社區意識」的概念。（101 學測第 2 題）
2. 結合數據資料，考「職業的性別階層」概念。（101 學測第 3 題）
3. 結合圖表資料，考「政黨制度」的類型之判斷。（101 學測第 9 題）
4. 結合圖表資料，考「婚姻與家庭面臨的難題」之概念。（101 學測第 23、24 題）

(三) 藉由生活中的概念引領新的價值觀

1. 對於「民主與非民主」的判斷，進而監督政府是否有非民主的作為。（101 學測第 5 題）
2. 對於「瓶裝水」的消費行為之探討與省思。（101 學測第 11 題）

 今年學測命題的新風格

今年因是實施 95 課綱的最後一次學測命題，所以命題方向與題型，明顯看得到其多少受到 99 新課綱的影響之外，也有一些新的特色。

(一) 不似以往依冊次排序題目：

歷年學測基本上都區分為「單選題」與「題組題」兩大部分，而 98 ~ 100 年在

此兩部分都是依冊次命題（表一），但今年可能是為了因應 99 課綱將原本的第二冊與第三冊對調，加上某些題材的異動，所以看得出題目配置不像以往（表二）。

▼表一 100 學測公民與社會試題之配置

題號	試題出處	命題重點	難易度
1	第 1 冊：發現文化、多元文化	分辨「主流文化、精緻文化與邊緣文化」的差異；體認「多元文化」的意義	★
2	第 1 冊：社會團體與結社	分辨「社會團體」的類型	★
3	第 1 冊：公共性與社會生活	體認「人際互動」的重要性	★★
4	第 1 冊：從親密關係到群己關係	認識「親密關係」的意義	★★
5	第 1 冊：自我與社會	認識米德「自我形成」的理論	★★
6	第 1 冊：性別差異與性別平等	理解「兩性接受高等教育」的現況	★★★★
7	第 2 冊：民法與生活	認識交易安全的保障與法律	★★
8	第 2 冊：民法與生活	了解行為能力與民事責任的關係	★★
9	第 2 冊：民法與生活	知道我國的繼承制度	★
10	第 2 冊：刑法與生活	認識犯罪的類型	★★
11	第 3 冊：我國的民主憲政發展	知道我國的政治發展過程	★★
12	第 3 冊：政府的組織、功能與權限、政黨政治與選舉制度	認識我國的政府體制及選舉制度	★★
13	第 3 冊：政府的組織、功能與權限、政黨政治與選舉制度	了解地方政府的組織與權責及地方公職人員的產生	★★
14	第 3 冊：民主政治與公民德行、政府運作的基本原則	了解「責任政治」的意涵	★
15	第 4 冊：市場經濟制度	分辨影響「需求與需求量」的差異	★★★★
16	第 4 冊：市場經濟制度、生產與經濟發展	分辨影響「供給與供給量」的差異及區別「經濟發展要素」	★★
17	第 4 冊：總體經濟指標	知道 GDP 與 GNP 的不同	★★★★
18	第 4 冊：國際貿易與國際金融	知道關稅在國際貿易間的影響	★★
19	第 2 冊：法律與社會規範	認識法安定性原則的具體內涵	★★★★
20	第 2 冊：憲法與人權	知道憲政主義的內涵/違憲審查制度	★★★★

題號	試題出處	命題重點	難易度
21	第 3 冊：政府的組織、功能與權限、政黨政治與選舉制度	認識民主國家的政府體制和政黨體系	★★
22	第 3 冊：政黨政治與選舉制度	知道聯合政府的組成與運作	★★
23	第 4 冊：市場經濟制度	知道市場均衡價格的形成與改變	★
24	第 4 冊：市場經濟制度	知道市場均衡價格的形成與改變	★★

▼表二 101 學測公民與社會試題配置

題號	試題出處	命題重點	難易度
1	第 1 冊：社會團體與結社	知道增進公共利益的難題	★★
2	第 1 冊：公共性與社會生活	認識社區總體營造	★★
3	第 1 冊：性別差異與性別平等	認識性別不平等的現象	★
4	第 1 冊：發現文化、多元文化	知道營造多元文化社會的措施	★
5	第 3 冊：民主政治與公民德行	知道民主政治與非民主政治的分野	★
6	第 3 冊：政府的組織、功能與權限	了解我國中央與地方政府的關係	★★★★
7	第 3 冊：國家的組成與目的、兩岸關係	國家構成要素、臺海兩岸關係的演變	★★
8	第 3 冊：政黨政治與選舉制度	認識我國的公民投票制度及其實施	★★
9	第 3 冊：政黨政治與選舉制度	知道政黨制度的類型	★★
10	第 4 冊：經濟學基本概念	知道「資源有限，故須選擇」的機會成本概念	★★
11	第 4 冊：經濟與環境的永續發展	了解經濟發展所引發的環境問題	★★
12	第 4 冊：生產與經濟發展	認識生產要素	★★
13	第 4 冊：經濟與環境的永續發展	了解外部效果造成的市場失靈	★★★★
14	第 4 冊：國際貿易	認識國際貿易政策	★★★★
15	第 2 冊：憲法與人權	知道憲法保障的基本權利	★★
16	第 2 冊：行政法與生活	了解行政法的一般原理原則	★★
17	第 2 冊：刑法與生活	認識犯罪的追訴及處罰	★★
18	第 2 冊：民法與生活	了解民法的核心概念——行為能力	★★
19	第 2 冊：糾紛處理與權利救濟	認識刑事訴訟制度的內涵-偵查程序	★★
20	第 2 冊：刑法與生活	認識犯罪的追訴及處罰	★★
21	第 3 冊：國家的組成與目的	知道國家存在的目的	★★

題號	試題出處	命題重點	難易度
22	第 4 冊：市場經濟制度	知道市場均衡的變動	★★★
23	第 1 冊：婚姻與家庭	體認現代社會變遷下的婚姻與家庭之問題	★★
24	第 1 冊：婚姻與家庭	體認現代社會變遷下的婚姻與家庭之問題	★

(二) 以「不正確」、「不合理」等反面問法的題目增加許多：

學測命題除非是以「不正確」才能落實評量目標的題目，才會以反面問法來提問問題，但今年以此方式提問的題目居然高達五題之多。例如；第 3 題問：將這三個國家的「性別不平等」程度由高到低加以排列；第 5 題問：判斷其為「非民主政治」國家？第 16 題問：「違反」下列哪項法治國基本原則？第 20 題則是直接問：何者「不正確」？第 23 題也是問：何者「最不合理」？

(三) 參考 100 年指考以「文章」方式呈現的題目，簡化成四個選項來考如下題：

10. 某社會新聞內容如下：「涉及多起性侵案件的通緝犯阿明，(1)經警方佈線逮捕後，(2)即由檢察官下令羈押於看守所。日前，(3)檢察官偵查終結，將阿明向地方法院提起公訴，經過審理後，(4)法院與陪審團一致認為阿明罪證確鑿且惡性重大，(5)判決阿明重刑且須化學去勢。」請問以上哪些劃線敘述內容與現行法律規定並不相符？
- (A)(1)、(3)、(4) (B)(2)、(3)、(5)
 (C)(2)、(4)、(5) (D)(1)、(2)、(5)

若將本次 101 學測第 17 題改為如下，則與 100 年第 10 題之題目相似度高達 100%：

小偷在竊取路邊車輛的音響時，被巡邏員警逮個正著，並帶回警局訊問。(甲)警察機關訊問完畢後可以移送法院，並提起公訴；(乙)起訴後，警察機關可以拘留行竊者等候法院審理；(丙)行竊者在警局接受訊問時可以要求聘請律師在場；(丁)遭竊者可依《犯罪被害人保護法》要求政府補償。請問以上敘述內容，何者與我國現行法律規定相符合？ (A)(甲) (B)(乙) (C)(丙) (D)(丁)。

(四) 以往被認為是僵化的概念（社區營造），改以較為活潑方式來考，如第 2 題。

2. 學者研究某縣市兩個地理範圍與人口數量、性別等特性相近的社區，其社區營造的成果如表一。對於甲乙兩社區之社區營造的描述，下列何者最為正確？

表一

社區營造項目	甲社區	乙社區
居民可說出自己社區名稱的比例	14 %	75 %
過去一年社區新增公共建設的金額	180 萬元	90 萬元
過去一年社區活動的平均參與人次	20 人次	193 人次
過去一年社區獲得政府補助活動的金額	85 萬元	50 萬元

- (A)甲社區的營造成果較乙社區來得優越
- (B)甲社區較乙社區更具備社區自治精神
- (C)乙社區的社區認同意識較甲社區為高
- (D)乙社區較甲社區更需要政府指導協助

本題將原本認為考「社區意識」是屬於僵化的記憶型題型，結合圖表資料後，一方面評量學生判讀資料的能力，又能將此活化為理解分析的評量題，可說是很漂亮的題目。

(五) 題目的問法設有限制，若學生沒有仔細看清楚，就容易誤入陷阱：

14. 我國影片在國內整體電影票房的占有率長期偏低。雖說電影發展的好壞與票房占有率並無直接對等關係，國內是否要採行保護政策亦多所爭議，但僅就經濟邏輯來看，不考量觀眾的偏好、所得等其他條件，請問下列何種政策最有可能提高我國影片的國內票房占有率？
- (A)調降隨電影票課徵之娛樂稅
 - (B)對外國影片之進口採配額限制
 - (C)加強盜版影片的查緝，並加重處罰
 - (D)與外國簽署協定，增進雙方電影貿易

題幹提及：「我國影片在國內整體電影票房的占有率長期偏低」，且問題焦點設定在我國影片的「國內」票房占有率。調降隨電影票課徵之娛樂稅，雖可降低消費者的支出成本，而增加消費者的消費數量，但其並無強調僅限於本國國片，且又將其置於(A)選項，易使學生誤入陷阱。

(六) 有些題目看似簡單，卻涵蓋國中或較細的概念：

18. 《民法》上所稱的行為能力是指當事人能夠獨立為有效法律行為的能力，例如：獨立與他人成立買賣契約。下列有關行為能力的敘述，何者正確？
- (A)年滿十八歲為民法上之成年人，有完全行為能力
 - (B)剛滿十歲的國小三年級學生，因未達十四歲，故無行為能力
 - (C)剛滿十四歲之人，得不經法定代理人允許，購買考試用參考書
 - (D)男滿十六歲即可與他人為有效的結婚行為，毋需法定代理人同意

在《民法》上，所謂的「行為能力」係指得以進行獨立的意思表示，使行為產生法律效果的資格或地位。原則上，七歲以下是屬於無行為能力者；廿歲以上則是完全行為能力者；介於七歲到廿歲者則為限制行為能力者。這個概念是從國中就介紹且常考的概念，(A)(B)選項主要都是評量學生是否會將其與刑法的責任能力混淆；但對於(D)選項，女滿15歲、男滿17歲可以訂婚，女滿16歲、男滿18歲可以結婚，這個概念也是國中民法介紹的概念，在高中教材各家版本並無此內容，純粹要靠任教老師補充複習提醒，否則學生不容易記得這個數字與概念。

(七) 有些時事題目看似指引用概念，但也出現要考學生須知道相關時事才能作答的題目：

今年的題目看似引用許多時事題目，原則上也都只引用概念，不會因為考生的生活經驗不同而影響其作答。但是其中的第 8 題，題目看來像是要考「公民投票」的相關概念，問題卻是限定在我國舉辦的「公民投票」；如果學生不關心時事，就不會知道：我國不曾對與大陸簽訂 ECFA（兩岸經濟合作架構協定）案舉辦公民投票，以及我國曾對「是否加入聯合國」及「是否重返聯合國」舉辦公民投票。而針對上述這些素材，各家版本也是在 99 課綱才將他放入新教材中。

(八) 有些題目看似漂亮，但卻失去評量的意義：

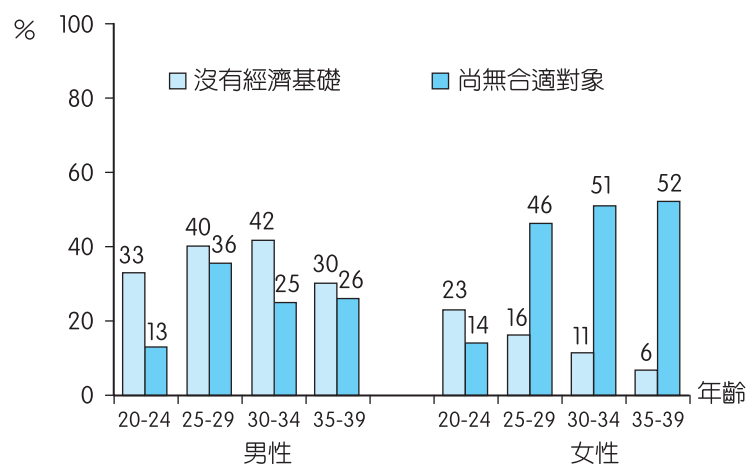
10. 吐瓦魯 (Tuvalu) 是一個隨時會被海水淹沒的迷你島國，在這裡協助觀光行銷的臺灣志工林小姐說：「想趁著年輕，到處走走看看。」所以選擇出國擔任志工，並體驗到什麼叫做「窮得只剩下快樂」。若以經濟學中個人選擇的觀點來看，下列敘述何者正確？

- (A) 年輕稍縱即逝，青春是有限的資源
- (B) 賺錢的機會多得是，錢財並不具有稀少性
- (C) 當志工僅能收取少數或甚至不收取報酬，對社會貢獻有限
- (D) 「想趁著年輕，到處走走看看。」說明遊覽各國是當志工的機會成本。

選項(A)的答案雖然看起來沒有問題，但題幹的敘述只提到「窮得只剩下快樂」，而未提及「年輕稍縱即逝」的相關敘述，難怪引發質疑。

23、24 為題組

◎ 某國為了解年輕人結婚意願與生育率變低的原因，其研究機構調查 20 至 39 歲民眾對婚姻的態度（如下圖）。圖中數據顯示，有結婚意願的男性與女性中，尚未結婚的原因主要有「沒有經濟基礎」與「尚無合適對象」兩個理由。



23. 根據圖中數據，下列敘述何者最不合理？
- (A)很多未婚男性認為養家是男人的責任
 (B)經濟條件不是影響某國年輕人結婚意願的唯一因素
 (C)對未婚女性而言，年紀愈輕，結婚意願愈不易受到經濟壓力的影響
 (D)就未婚男性而言，其結婚意願受到無合適對象的影響較女性來得小
24. 如果政府為了鼓勵民眾提高結婚與生育意願，推動平價社會住宅、生育補貼、公辦幼兒托育及減免國小學童學費等政策。請問圖中哪群人的結婚意願最可能受這些政策影響？
- (A) 30 至 34 歲的未婚男性 (B) 25 至 29 歲的未婚女性
 (C) 35 至 39 歲的未婚男性 (D) 20 至 24 歲的未婚女性

首先沒有先說明接受調查的 20 至 39 歲民眾是否為未婚者？僅提及：「某國為了解年輕人結婚意願與生育率變低的原因，其研究機構調查 20 至 39 歲 民眾對婚姻的態度（如下圖）」。

接著才說：「圖中數據顯示，有結婚意願的男性與女性中，尚未結婚的原因主要有『沒有經濟基礎』與『尚無合適對象』兩個理由。」卻也沒有交代下圖是僅就此兩個理由所做的數據資料。

此外，第 23 與 24 題雖是須依據圖文資料才能加以作答，頗符合題組題命題的特色，但是實際作答後發現：即便學生選出正確答案，卻不知道此題的評量意義為何？

叁、結 論

雖有出現一兩題評量上較不討喜（甚至被認為是不符合評量原則）的小瑕疵，但這種情形好像是圖表資料題常會不小心就出現的現象。而就整體來看，今年的考題大致上看來都算是中規中舉、四平八穩，也大都符合歷年學測的特色，不但結合時事來考課本相關概念，且能靈活運用數據與圖表資料，一方面結合課本相關概念加以評量，另一方面也評量學生的判讀圖表資料能力。因為公民與社會科在 99 課綱的內容異動幅度頗大，而原本大家預估今年會夾帶偷跑的相關概念，如：「法律扶助制度」、「社會運動」、「國際市場的均衡」等概念，顯然是考慮會因超出範圍的疑慮而做罷。但不可諱言的是，明年起，99 課程新增議題的教材內容，應該就是下次學測的命題焦點。



一 試題分布與解題技巧

四冊歷史試題分布平均：第一冊 5 題，第二冊 7 題，第三、四冊均為 6 題，總題數為 24 題。一般看過試題的老師評價今年的試題為：「簡單偏易」，底下先詮釋何謂簡單偏易？因為大多數的題目僅需基本的歷史知識及歷史架構就能回答，僅有較具爭議的第 41 題需要「進一步的理解分析」及幾分的「運氣」方可順利答對。

▼表一 試題分布與解題技巧

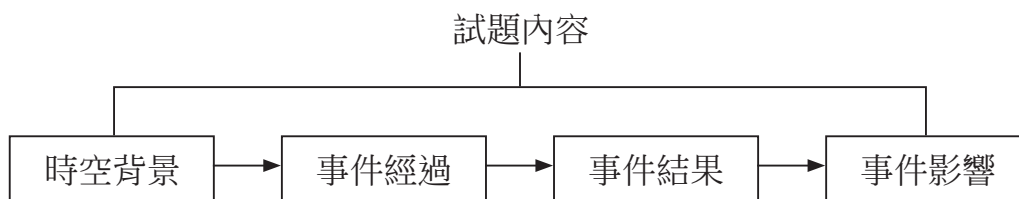
題目	出處	出題概念	解答技巧
25	第一冊	美援來臺的時間	熟記美援來臺的時間
26	第二冊	春秋晚期平民崛起	了解春秋末年平民崛起與社會變遷
27	第三冊	西洋中古時代的封建制度	了解西歐中古封建制度的內容
28	第四冊	波蘭與華沙公約組織的瓦解	了解蘇聯解體及共產世界的變遷
29	第一冊	鴛鴦蝴蝶派文學的時代	熟記臺灣文學運動發展的歷程
30	第三冊	神聖羅馬帝國	熟記神聖羅馬帝國的發展歷史
31	第三冊	天主教與新教	了解宗教改革時期的教派分布
32	第二冊	五四運動	了解五四運動的發展經過
33	第四冊	羅斯福新政	了解經濟大恐慌的景況
34	第四冊	荷治時期的措施	了解荷蘭治臺時期的農業措施
35	第四冊	法國大革命	了解《拿破崙法典》的精神
36	第二冊	中國經濟重心南移	熟記中國經濟重心南移的三階段
37	第一冊	牡丹社事件	了解牡丹社事件發生的經過及結果
38	第二冊	唐代經濟、貨幣	了解唐代銅幣不足的現象及其影響
39	第二冊	甲骨文及歷史試題史料	了解商朝的歷史及甲骨文的內容
40	第三冊	羅馬帝國的建立	了解屋大維掌權的經過及其影響
41	第三冊	埃及農業	了解埃及農業與祭典的關係
42	第四冊	俄國解放農奴	熟記俄國解放農奴的歷史進程
43	第四冊	第一次世界大戰	了解第一次世界大戰的爆發及經過
44	第三冊	文藝復興、透視法	了解文藝復興運動的內容
45	第一冊	大坌坑文化	熟記臺灣新石器時代文化的發展歷程
46	第一冊	日本治臺近代化	了解臺灣土地改革的幾個重要過程
47	第二冊	不平等條約	了解不平等條約的內容
48	第二冊	鄧小平改革開放	了解中國改革開放的時代背景

二 少了難題之後……

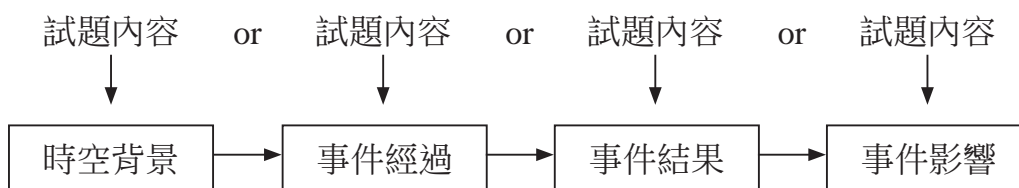
今年的學測歷史科考試少了難題，對一般考生來說可算是福音，但是對資質優異、準備充分的考生而言卻是一項損失。另外，許多認真準備諸多相關歷史背景資料，在上課時旁徵博引的老師來說，看完這份試卷後可能心中會有感覺茫然若失。根據以往的教學經驗，認為高中歷史課程應具有四項重要焦點：

- 一是解釋歷史事件發生時的時空背景，
- 一是解釋歷史事件發生的經過，
- 一是解釋歷史事件的結果，
- 一是解釋歷史事件造成的影響。

是故，命題要與以上四點環環相扣才算是較佳的試題。見下圖



反之，一般的試題僅能抓住其中一個環節考學生某個知識點，則大多成為測驗考生年代熟悉度的記憶題了。見下圖



因此，少了艱深的難題之後，命題者應該特別注意考題的深度，若是能採用多重思維的命題過程，再加上不要受限於一個知識點的命題局限，才會誕生真正能測驗學生程度的試題。以 100 年學測試題為例，第 46 題較有可能成為符合上述資格的試題。從清代漢人移民開墾臺灣以來，逐漸形成土地所有權複雜化的現象，因清領前期消極治臺的影響，一田多主的現象不斷蔓延，無法控制。劉銘傳來臺之後雖想利用行政措施解決此一問題，卻反而受到極大的反彈。直到日治時期及國民政府遷臺威權統治時期，才利用武力及威勢逐一解決此問題，茲整理如下表：

時代	清領前期	劉銘傳時期	日治時期	國民政府時期
現象或做法	一田多主	打擊大租戶（不成功）	打擊大租戶（成功）	打擊小租戶（成功）
政策	消極	減四留六	土地調查	耕者有其田
措施	—	在原本大租中，大租戶取十分之六，餘交由小租戶完納正供	迫使大租戶將土地所有權移轉給小租戶	政府徵收土地之後，補償地主百分之七十的土地債券，另外百分之三十為公營事業股票，並未發放現金

以上的表格將臺灣土地所有權變遷的時空背景、事件經過、結果、影響皆聚集在一起，若是其他各題皆利用此種模式命題，雖然很耗費功夫，但是對參加學測的考生而言算是一項有挑戰性、有鑑別度的測驗。

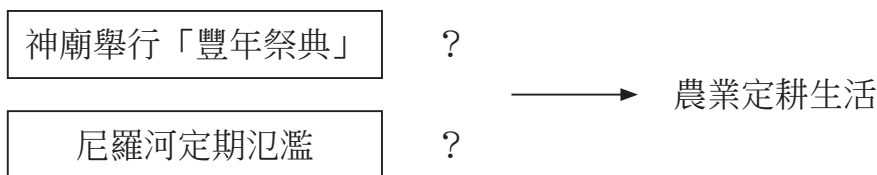
三 大家關心的第 41 題「埃及農業」問題

前文說過，解第 41 題需要「進一步的理解分析」，茲將我解題的過程以表格表示如下：

古埃及詩

詩句內容	理解分析
(A)尼羅河定期氾濫，使埃及生生不息	農業
(B)河水澆灌了沙漠，養育肥美魚類	漁業及吃魚的飲食習慣
(C)河岸有牲畜覓食	畜牧業及食物中的肉類
(D)神廟定期舉行豐年慶典	農業定期收穫

第 41 題會產生爭議是可以理解的，因為若是反過來問：「埃及是不是實施定耕農業？」回答：「是！」（「難道是游耕嗎？」）「埃及的農業是不是尼羅河定期氾濫所帶來的贈禮？」回答：「是！」運氣不好的考生遵循這樣的思考路線，就會得到 (A) 的答案。運氣好的考生根據表格內容選了 (D)，但是有幾個問題需要思考：埃及神廟中舉行的一定是豐年祭典嗎？埃及神廟所舉行的祭典名稱叫做「豐年祭典」嗎？埃及神廟是定期舉行祭典的嗎？神廟舉行「豐年祭典」與尼羅河定期氾濫哪一個選項「比較」能顯示「定耕農業」？



容我用另一個角度思考：



問題是：「哪項特徵最足以說明此詩所描述的是農業定耕生活方式」，結果是：「都互為因果關係」，容易產生極大的爭議。若是更改問句為：「古埃及詩中哪一句可以看出埃及農業其定耕生活的面貌？」是否較符合邏輯？較不會起爭議呢？

地理

名 師 / 林 菲 老師

壹、前 言

今年學測和往年比較，筆者認為出題更生活化，但是想要拿高分並不簡單。今年考題不變的是圖表題占有相當的比重，但對一般考生而言，若只是死背死記，要考高分可能不太容易；若以答案來看，今年具爭議性的問題相對較少，而考題有鼓勵學生多看多觀察的趨勢。

今年的學測是 95 課綱最後一年，和上次的課綱更新時，出現了相同的現象，亦即部分新課綱（99 課綱）中更加強調的主要概念，在本次的學測中出現了。95 課綱中地理一的第九單元第三級產業主要概念提到遊憩業，在具體目標中提到「能以個案了解旅遊業商圈的特質」，但 99 課綱除了地理一第九單元第三級產業以「觀光業及其區位特性」為主題，並在地理二（區域地理）單元三歐洲、單元四東北亞、單元六澳洲與紐西蘭中，觀光業都成為該單元的主要概念，因此在本次的學測，和觀光相關的概念考了不少。

貳、試題分析

▼表三 依冊別區分 101 學測地理試題（以主要概念所在的主題歸類）

冊 別	題 號	題數（比重%）
第一冊	50,57,58,64,66	5（21%）
第二冊	49,51,59,65,68,69	6（25%）
第三冊	52,53,61,62,63,67	6（25%）
第四冊	54,55,56,60,70,71,72	7（29%）

▼表四 依題型區分 101 學測地理試題（作答時必需參照所附資料）

類 別	題 號	題數（比重%）
地圖	64,65,66	3（12.5%）
統計圖	51	1（4%）
統計表	54,57,58,59,60,67,68,69	8（33.5%）
照片	70,71,72	3（12.5%）
總計		15（62.5%）

由上可知各冊的出題比例相當平均，雖然第一冊的比重看似較低，但三四冊的許多概念都需要第一冊和第二冊的概念為基礎。

本次學測較特殊的是題目較具靈活度，雖然往年的圖表題都占多數，但今年統計表明顯多於圖，而且傳統的等高線地形圖考法，在今年學測中卻都不見了，取而代之的是往年指考較容易出現的衛星影像（第 64—66 題），以及未曾出現的數值立體地形圖（第 66 題）。另外本次考題也出現了以非地景的照片型式，這是繼去年的指考第一題「樓房遷移」廣告後，又一次以照片的方式傳達地理現象的空間分布概念，而

且比起去年指考題目更生活化。照片分布在臺灣四個區域，北中南東各取其一，並未造成哪些地區考生較易作答的疑慮。

統計表所占比例超過圖表題的一半，而且統計圖考出長條圖的變化，不是較具體的統計地圖，這也是這份考卷的特點。如此一來，考生需要對地理現象，以抽象的思考方式來解答，大大增加了答題的難度。和以往不同的是，第一冊的地形和氣候的基本題型，例如等高線地形圖、氣候圖，或自然景觀的題目，在這次的考試中並未見到，取而代之的是需要更多的思考與分析的統計表格。整體而言，這次考題在題目分配和取材上，都出得相當不錯。

今年考題的測驗目標，大多以「測驗考生是否具備社會考科的分析能力與技能」以及「測驗考生是否具備社會考科的解釋、評論及生活應用能力」二項，此二者占了 21 題，約有 8 成以上的比例。因此，未來考試不再只是單純的基礎知識，對地理現象的分析、解釋評論的能力將是重點。地理議題是在高三上學期時介紹，但地理議題融入題幹，也是題目設計的重點。

叁、特殊題目

(一) 值得鼓掌的題目

如上所言，本份題目有諸多和以往地理學測題目不同的地方，例如第 64 ~ 66 題，直接捨棄等高線地形圖，改以衛星影像圖，並將其坐標逆時針旋轉 90 度，使考生在判讀時需要多一層思考。而第 66 題的數值立體地形圖，測驗考生的空間轉換能力，在做地形判讀時，不再只是記憶等高線地形圖的讀法，考題更抽象，但也更靈活。建議大考中心能多設計此類的題目。

52、53 題的撒赫爾國家，雖然有部分考生會覺得考出這些國家好像太細了，但是考題中出現了五個國家，已有足夠線索，且布吉納法索是我國的邦交國，要判斷此為撒赫爾地區應不難。筆者平日即鼓勵學生多看地圖，多到郊外，多觀察，才能對題目不陌生。

第 69 題的題目設計更是精彩，從人類發展程度指標的三個指數，反推平均每每人國民生產毛額，常會使考生忽略，這應該是鑑別度不錯的題目。

(二) 可能會有爭議的題目

雖然從答案來判斷，這份試題的爭議應該不大，但筆者提出二個可能造成爭議的題目。首先是第 49 題的選項(B)區位擴散和選項(D)空間移轉二者，這已經是連續第三年出現在學測題中（100 年第 54 題，99 年第 61 題）。在筆者的教學經驗中，此二者的出現在各版本的教科書中定義並不十分明確，大多以一例子闡述，最後加上「……形成區位擴散的現象」或「……形成空間移轉的現象」。這一點在學生問問題時也常被提出，筆者認為教育部對這二個名詞應下一個更明確的定義，使大家有所依循，而不會因為一綱多本形成多頭馬車，使學生和老師無所適從。

另一個問題是第 55 題中國沙塵暴和空氣汙染物影響臺灣的問題，答案中出現月分的重疊，使學生作答時會有困惑。雖然題目除了沙塵暴，還有空氣汙染物，但月分

重疊時間不一（(A)(B)重疊一個月，(B)(C)重疊二個月，(C)(D)重疊三個月，(A)(D)重疊四個月），容易造成判斷時的爭議。

肆、值得觀察的試題走向

- (一) 考題更生活化：地理二第二十一單元的「鄉土地理專題研究」概念並未直接命題，但考題中融入了更生活化的照片（第70~72題）。此舉顯然是以鄉土地理的觀察為基礎，鼓勵老師教學時應更落實在地理實察，進一步訓練學生的觀察能力。
- (二) 全球化議題日趨重要：在全球化的浪潮下，我們自然不能置身事外。考題中與全球化直接有關的題目相當多（第49、51、54、67、68、69題），此現象顯示區域地理除了通論的基礎外，各區域間的特性及其互動，更是未來命題的趨勢。
- (三) 觀光遊憩的題目更為重要：因應95課綱在觀光部分增加的比重，也適時反映觀光活動在現代生活中的重要性，未來觀光資源及觀光活動的相關題目應占相當比重。本次考題和觀光直接相關的就有57~60題，雖然這二大題都是以統計表的方式出現，但對觀光業的認識卻相當重要。而且70~72題的公路路標，也使學生體會不能只是待在教室，地理學應更落實在生活觀察上。
- (四) 判讀圖表能力的加強：地理學是將地表空間現象予以簡化，使其呈現系統化的科學。簡化後的地理現象，常以地圖、統計圖表等方式表現，這在歷年的考試中都一樣，而且未來的考題也是如此。如何將地理現象簡化，以及如何正確地判讀地理資料，都是考題設計的重點。
- (五) 時事入題仍為重要趨勢：雖然今年考題中，如歐債問題、泰國水患等時事並未直接成為命題的素材，但是地理學是一門空間之學，是一門活在當下的學問，對時事的關注相當重要。雖然今年學測題和時事相關的並不多見，但未來考題仍和當下地表空間發生的事件相關，雖然這些題目可能不會直接地敘述該事件，但仍可能考出相關的空間分布、自然環境、人文活動等問題。



名 師 ■ 梁蕙蓉 老師
 蘭陽女中 ■ 汪栢年 老師
 名 師 ■ 林 菲 老師

單選題 (占 144 分)

說明：第 1 題至第 72 題皆計分，每題有 4 個選項，其中只有一個是正確或最適當的選項，請畫記在答案卡之「選擇題答案區」。各題答對者，得 2 分；答錯、未作答或畫記多於一個選項者，該題以零分計算。

1. 某工會發動罷工爭取薪資福利調整，小明認為自己沒有參與罷工的必要，反正罷工成功自己也可以享受加薪，萬一罷工失敗，因為自己沒參加，也不會影響到飯碗。下列何者最適合解釋小明的行為？
- (A)自願性不足 (B)公德心缺乏 (C)搭便車心態 (D)次文化影響

答 案 (C)

命題出處 第一冊第六課／社會團體與結社

測驗目標 知道增進公共利益的難題

- 解 析**
- (1) 「搭便車」意指在群體生活中，個人沒有負擔起本身應負擔之成本，卻享有該公共資源之好處。簡言之，就是不付成本而坐享他人之利的行為。
 - (2) 題幹中提及：「小明認為自己沒有參與罷工的必要」，就是個人沒有負擔起本身應負擔之成本，而「罷工成功自己也可以享受加薪」，就是指其享有該公共資源之好處。
 - (3) 題幹中提及：「小明認為自己沒有參與罷工的必要」，雖有「自願性不足」的意味，但因後面又提及「罷工成功自己也可以享受加薪，萬一罷工失敗，因為自己沒參加，也不會影響到飯碗」，因此不能只用「自願性不足」解釋他的行為。
 - (4) 題幹中提及：「萬一罷工失敗，因為自己沒參加，也不會影響到飯碗」的部分，看似屬於「缺乏公德心」，但沒有參加罷工並未損及他人權益，所以也不能算是「缺乏公德心」。
 - (5) 「次文化」是指與社會主文化或主要生活模式不太一樣的文化形式，由題幹敘述判斷則與次文化無直接相關。

難 易 度 中

類 似 題 《學測新導向·公民與社會》第 61 頁第 10 題，第 356 頁第 29 題

2. 學者研究某縣市兩個地理範圍與人口數量、性別等特性相近的社區，其社區營造的成果如表一。對於甲乙兩社區之社區營造的描述，下列何者最為正確？

表一

社區營造項目	甲社區	乙社區
居民可說出自己社區名稱的比例	14 %	75 %
過去一年社區新增公共建設的金額	180 萬元	90 萬元
過去一年社區活動的平均參與人次	20 人次	193 人次
過去一年社區獲得政府補助活動的金額	85 萬元	50 萬元

- (A) 甲社區的營造成果較乙社區來得優越
 (B) 甲社區較乙社區更具備社區自治精神
 (C) 乙社區的社區認同意識較甲社區為高
 (D) 乙社區較甲社區更需要政府指導協助

答案 (C)

命題出處 第一冊第五課／公共性與社會生活

測驗目標 認識社區總體營造

- 解析**
- (1) 「社區意識」是指居民對社區具有認同感與歸屬感，且可藉由參與活動來增進或凝聚社區意識。
 - (2) 「居民可說出自己社區名稱」代表居民對社區具有認同感與歸屬感，而「過去一年社區活動的平均參與人次」則說明居民透過活動來凝聚社區意識。
 - (3) 資料顯示：乙社區較甲社區在「居民可說出自己社區名稱的比例」(75% > 14%) 及「過去一年社區活動的平均參與人次」(193 人次 > 20 人次) 都具有優勢。
 - (4) 資料顯示：甲社區較乙社區在「過去一年社區在公共建設的金額」(180 萬元 > 90 萬元) 及「過去一年社區獲得政府補助活動的金額」(85 萬元 > 50 萬元)，都具有優勢，但未必證明甲社區的營造成果較乙社區來得優越，或更具備社區自治精神，當然也不能妄下定論說：「乙社區較甲社區更需要政府指導協助」。

難易度 中

3. 「女性占有管理及經理職位比率」及「女性占國會議員席次比率」二者，可做為觀察女性政經參與及其對決策影響程度的重要指標。表二為三個國家在這二項指標的數據。

表二

國 別 年 度	甲		乙		丙	
	1989	2009	1989	2009	1989	2009
女性占有管理及經理職位比率 (%)	12.0	25.9	17.6	37.3	6.6	10.1
女性占國會議員席次比率 (%)	8.9	24.5	13.7	28.3	4.8	9.2

依據上表，將這三個國家的性別不平等程度由高到低加以排列，下列何者正確？

- (A)甲乙丙 (B)甲丙乙 (C)乙甲丙 (D)丙甲乙

答 案 (D)

命題出處 第一冊第二課／性別差異與性別平等

測驗目標 認識性別不平等的現象

- 解 析**
- (1) 題幹提及：「女性占有管理及經理職位比率」及「女性占國會議員席次比率」二者可做為觀察女性政經參與及其對決策影響程度的重要指標。意指女性所占比率愈低，代表該社會愈存在性別不平等的現象。
 - (2) 本題是問：這三個國家的性別不平等程度由高到低加以排列，所以只要以 2009 年的資料來做比較即可。
 - (3) 在「女性占有管理及經理職位比率 (%)」方面：不平等程度由高而低是：丙國 (10.1) < 甲國 (25.9) < 乙國 (37.3)。
 - (4) 在「女性占國會議員席次比率」方面：不平等程度由高而低是：丙國 (9.2) < 甲國 (24.5) < 乙國 (28.3)。

難 易 度 易

4. 我國為確保原住民的基本權益，於民國 94 年制定並施行《原住民族基本法》，這是下列何種主張的具體表現？

- (A)文明進化
(B)多元文化
(C)族群同化
(D)我族中心

答 案 (B)

命題出處 第一冊第八課／多元文化

測驗目標 知道營造多元文化社會的措施

- 解析**
- (1) 我國《憲法增修條文》明定：國家應依民族意願，保障原住民族之地位及政治參與，並對其教育文化、水利交通、衛生醫療、經濟土地及社會福利事業予以保障扶助並促其發展。
 - (2) 為保障原住民族基本權利，促進原住民族生存發展，建立共存共榮之族群關係，特制定《原住民族基本法》。改變過去認為「差異就是缺陷」的觀念，並能夠肯認各個不同的文化都具有價值，保存這些文化差異，而不是企圖消除差異。
 - (3) 以自己的群體或文化為標準來衡量或批判其他族群的文化，並且認為自己的文化是優越的、正確的、有道德的，別人的文化是低劣的、錯誤的、不道德的，這就是「我族中心」。
 - (4) 「族群同化」就是將自己的生活模式視為理想的規範，抱持著自以為強者與優勢的標準，企圖「改造」與「教化」他人。
 - (5) 「文明進化論」者受到達爾文進化論的影響，認為人類的文明發展也是由卑下而逐漸演化至高尚，同時認為歐美文明最先進，甚至提出「白種人的負擔」的論點。
 - (6) 多元文化則是奠基於容忍和尊重差異的觀念，主張各個不同的文化之間，沒有絕對的優劣之別，應該彼此尊重、欣賞與交流，讓世界更具豐富性與多樣性。

難易度 易

類似題 《學測新導向·公民與社會》第 354 頁第 17 題

5. 「民主政治」是普世潮流，因為它對人權的保護有所提升，且對人民的需求有所回應，而「非民主政治」則不然。若我們想要了解某國的政治概況，可以根據下列哪種作為來判斷其為「非民主政治」國家？
- (A) 對政黨政治的競爭規則進行規範
 - (B) 對國內媒體與政治言論進行管控
 - (C) 必要時宣布國家進入緊急狀態限制某些自由
 - (D) 嚴格執行國家之法律，沒有商議妥協的餘地

答案 (B)

命題出處 第三冊第二課／民主政治與公民德行

測驗目標 知道民主政治與非民主政治的分野

- 解析**
- (1) 民主最基本的定義就是人民當家作主，也就是人民享有主權，具有公民身分者都能平等的參與政治運作的過程。而民主的最終目的，即在於保障人權。因此，可從三方面理解民主政治與非民主政治的區別：提倡人民主權、重視人民基本權利的保障、落實普遍性的公民身分。

- (2) 在民主政治的體制下，人民享有諸如人身自由、言論、出版、集會、結社、參政權、平等權等各種基本權利，對於政府體制、政府施政或社會各項議題，應享有法律保障的意見自由，不會遭受政府事前的箝制或事後的迫害。以言論自由為例，人民有權透過其他人或大眾傳播媒體獲得各種訊息，來保障自己「知的權利」，並有傳布訊息等權利。至於非民主政治體制中，人民的意見表達常受到政府的箝制或迫害，也存在有嚴格的新聞檢查制度，大眾傳播媒體受政府的監控，扮演政府傳聲筒的角色，以至於人民所能獲得的訊息幾乎都是經過政府篩選的不完全訊息。因此，當一個國家的政府「對國內媒體與政治言論進行管控」時，即可判斷其為「非民主政治」國家。
- (3) 至於(A)(C)(D)三項所述，則為確保「民主政治」之運作所必須。

難易度 易

類似題 《學測新導向·公民與社會》第 196 頁時事題組第 1 題，第 200 頁第 26 題

6. 我國某市議會三讀通過該市《公共場所母乳哺育自治條例》：婦女即使出門在外，也可在公共場所為嬰幼兒哺育母乳，任何人不得有制止、驅離或其他影響哺育的行為。次年，中央政府也跟進對婦女在公共場所哺育母乳立法，並公布全國施行。關於當時該市率先制定有關公共場所哺育母乳的條例，下列敘述何者正確？
- (A)此條例制定落實地方分權的精神
 (B)此條例凸顯中央與地方政府的權責不明
 (C)此自治條例仍須經立法院同意始能生效
 (D)該市無權制定此條例，故中央於次年統一立法

答案 (A)

命題出處 第三冊第三課／政府的組織、功能與權限

測驗目標 了解我國中央與地方政府的關係

- 解析** (1) 中央政府與地方政府的權限關係，可分為中央集權制、地方分權制與均權制三種類型。其中「中央集權制」即事權集中於中央政府，地方政府僅能聽命行事；「地方分權制」則是地方政府有部分統治權，中央政府可監督而不能指揮。由於兩制各有其優、缺點，因此，我國乃採「均權制」以避免中央集權或地方分權兩極化之流弊。
- (2) 「均權制」係以事務之性質，決定劃歸中央或地方之事權；所「均」之「權」包括「行政」與「立法」；「其中事務有因地制宜

之需要者，劃歸地方，由地方立法並執行之。因此，(D)「該市自有權制定此條例」而(C)「無須經立法院同意」，可見「該市公共場所母乳哺育自治條例」之制定即在(A)「落實地方分權的精神」。

- (3) 至於(B)所述並非事實，因為當「中央與地方政府的權責不明」時，必然發生「爭端」。但是，爭端似乎卻未發生。

難易度 難

類似題 《學測新導向·公民與社會》第 349 頁第 22 題、第 23 題

7. 依照目前臺海兩岸的現況，對我國而言，出現領土及統治權之落差。按我國現行《憲法》，以下敘述何者正確？

- (A)我國目前統治權所及地區，《憲法》上稱為「中華臺北」
 (B)我國目前統治權所及地區，《憲法》上稱為「中華民國臺灣省」
 (C)我國領土除臺、澎、金、馬以外之地區，《憲法》上稱為「內地」
 (D)我國領土除臺、澎、金、馬以外之地區，《憲法》上稱為「大陸地區」

答案 (D)

命題出處 第三冊第一課／國家的組成與目的、第三冊第七課／兩岸關係

測驗目標 了解臺海兩岸關係的演變

- 解析** (1) 《中華民國憲法增修條文》第 11 條規定：「自由地區與大陸地區間人民權利義務關係及其他事務之處理，得以法律為特別之規定。」因此，立法機關乃依該條之授權制定《臺灣地區與大陸地區人民關係條例》。
- (2) 《臺灣地區與大陸地區人民關係條例》第 2 條：「本條例用詞，定義如下：一、臺灣地區：指臺灣、澎湖、金門、馬祖及政府統治權所及之其他地區。二、大陸地區：指臺灣地區以外之中華民國領土。」因此，(D)所述為正確之說法。而(C)「內地」可能有多種含意；於當代臺灣對內地一詞的使用，乃傳自港澳地區，詞意雖等同於「中國大陸」，但卻非《憲法》上之稱呼。
- (3) 至於「我國目前統治權所及地區」，《憲法》上稱為「臺灣地區」，而非(A)「中華臺北」，亦非(B)「中華民國臺灣省」。

難易度 中

類似題 《學測新導向·公民與社會》第 353 頁第 8 題

8. 公民投票是民主政治中為實現「主權在民」而有的一種制度設計。以下有關我國舉辦公民投票的敘述何者正確？

- (A) 公民投票的成本很高，故我國規定每四年舉辦一次
- (B) 我國曾對「是否加入聯合國」及「是否重返聯合國」舉辦公民投票
- (C) 我國舉辦公民投票乃因它是一般民主國家制定公共政策最常用的方式
- (D) 我國曾對是否與大陸簽訂 ECFA《兩岸經濟合作架構協議》案舉辦公民投票

答案 (B)

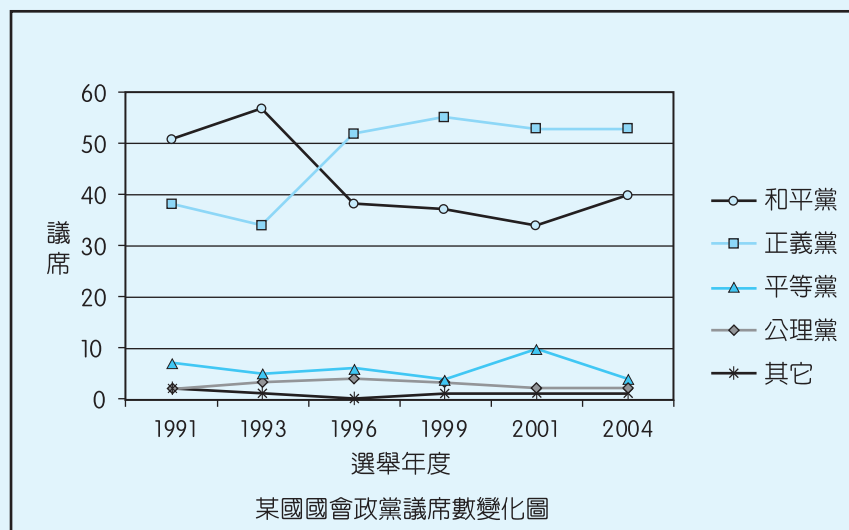
命題出處 第三冊第五課／政黨政治與選舉制度

測驗目標 認識我國的公民投票制度及其實施

- 解析**
- (1) 「公民投票」係人民當家作主，以投票方式參與公共事務的決策，即是一種直接民主的做法。雖能體現人民「自我治理、自我決定」的民主價值，但仍有運用上的諸多限制（缺點），如：無法保障決策品質、窄化政策討論空間、淪為工具不當利用、製造社會對立不安、容易導致民粹政治、可能形成多數暴力、容易造成政府怠惰等，因此，並非(C)「一般民主國家制定公共政策最常用的方式」，(A)我國亦無「每四年舉辦一次」的規定。
 - (2) 我國自 2003 年底實施《公民投票法》以來，曾舉辦過若干次的全國性與地方性公投，包括：2004 年 3 月的「強化國防」及「對等談判」、2008 年 1 月的「討黨產」及「反貪腐」、(B) 2008 年 3 月的「加入聯合國」及「重返聯合國」等全國性公投；另外，地方性公投則有 2008 年 11 月的「高雄市小班制」公投及、2009 年 9 月的「澎湖博弈」公投。
 - (3) 至於(D)所述並非事實；國內某在野黨雖曾在 2010 年 4 月間以「你是否同意政府與中國簽訂兩岸經濟合作架構協議（ECFA）？」為題，向中央選舉委員會提案舉辦公民投票。但中選會認為提案不符合規定予以駁回，因此，「我國不曾對是否與大陸簽訂 ECFA（兩岸經濟合作架構協議）案舉辦公民投票」。

難易度 中

9. 某內閣制國家的國會議員共有一百席，1991 年到 2004 年共進行了六次國會大選，選後席次分配如圖一。請問該國比較接近下列哪種政黨體系？



圖一

- (A)兩黨制 (B)多黨制 (C)一黨專政制 (D)一黨獨大制

答案 (A)

命題出處 第三冊第五課／政黨政治與選舉制度

測驗目標 知道政黨制度的類型

- 解析 (1) 若依照「政黨競爭性質」與「政黨數目」來分，政黨制度可分為「一黨專政制」、「一黨獨大制」、「兩黨制」和「多黨制」。其中「一黨專政制」意指一國的法律只允許一個政黨存在，實際上也只有一個政黨控制政治活動，且不允許其他政黨活動或社會人士爭取權力；「一黨獨大制」則是礙於國家發展的客觀環境，只有一個政黨長期掌握政權，其他小黨及社會人士雖然有參政機會，但因實力不強，無法與該大黨對抗；若一國有兩個主要政黨和平交替執政，兩黨之一往往在國會占據 1/2 以上席次。實力互有消長，但始終維持「一黨在朝，一黨在野」的情況，其他政黨則很少有機會取得政權，即屬「兩黨制」；至於一國之內有三個以上的政黨在活動，在國會中各占相當議席，卻沒有一個政黨能贏得國會半數以上的席位，便是「多黨制」。
- (2) 圖中數據，顯示該內閣制國家的「和平黨」在 1991 年及 1993 年兩次國會大選中，贏得過半席次；而接下來的四次選舉，則由「正義黨」占據 1/2 以上席次。兩黨實力雖互有消長，但始終維持「一黨在朝，一黨在野」的情況，其他政黨很少有機會取得政權，故屬(A)「兩黨制」。

難易度 中

10. 吐瓦魯 (Tuvalu) 是一個隨時會被海水淹沒的迷你島國，在這裡協助觀光行銷的臺灣志工林小姐說：「想趁著年輕，到處走走看看。」所以選擇出國擔任志工，並體驗到什麼叫做「窮得只剩下快樂」。若以經濟學中個人選擇的觀點來看，下列敘述何者正確？

- (A) 年輕稍縱即逝，青春是有限的資源
- (B) 賺錢的機會多得是，錢財並不具有稀少性
- (C) 當志工僅能收取少數或甚至不收取報酬，對社會貢獻有限
- (D) 「想趁著年輕，到處走走看看。」說明遊覽各國是當志工的機會成本

答案 (A)

命題出處 第四冊第一課／經濟學基本概念

測驗目標 知道「資源有限，故須選擇」的經濟學概念

- 解析**
- (1) 相對於人類的無窮欲望，資源（如時間、金錢與天然資源等）都是有限的，因此必須要做選擇，而(A)年輕稍縱即逝，就是強調青春是有限的資源。
 - (2) 選項(B)：賺錢的機會雖然多得是，但相對於人的無窮欲望，錢財就具有稀少性。
 - (3) 選項(C)：當志工雖然僅能收取少數或甚至不收取報酬，但其對社會貢獻常是無價的。
 - (4) 題幹提及：「選擇出國擔任志工」，所以選項(D)說明遊覽各國的機會成本並非是當志工。

難易度 中

類似題 《學測新導向·公民與社會》第 275 頁第 23 題

11. 由於瓶裝水具有極大的便利性，全球瓶裝水的消費迅速增加，購買進口瓶裝水也成了時髦的象徵。但瓶裝水的消費及運送引發了環境問題，近年來社運人士陸續發起「反瓶裝水運動」。依上述有關瓶裝水所引發的問題，下列敘述何者最為正確？

- (A) 瓶裝水是造成水資源汙染的主要原因
- (B) 瓶裝水需求增加，極可能造成水資源的耗竭
- (C) 瓶裝水的包裝及運送大量排碳，助長溫室效應
- (D) 國際間水資源短缺，各國的水資源戰爭一觸即發

答案 (C)

命題出處 第四冊第七課／經濟與環境的永續發展

測驗目標 了解經濟發展所引發的環境問題

- 解析**
- (1) 題幹中提及：「由於瓶裝水具有極大的便利性，全球瓶裝水的消費迅速增加」，強調經濟發展帶來了便利性。

- (2) 題幹中提及：「瓶裝水的消費及運送引發了環境問題」，則說明為了製造瓶子來裝水，以及運送這些瓶裝水，就會有排碳的問題產生，因此會助長溫室效應。
- (3) 題幹中的敘述並無提及：(A)造成水資源汙染；(B)可能造成水資源的耗竭；以及(D)國際間水資源短缺，各國的水資源戰爭一觸即發。

難易度 中

12. 李媽媽在夜市租了一個店面開設小吃店，她由家裡搬來 1 套桌椅，並添購 5 套桌椅。每個週末，她在大學讀企業管理的兒子也會到店裡幫忙。請問下列有關生產要素的敘述，哪項是正確的？
- (A)所承租的店面屬於土地
 (B)由家裡搬來的桌椅屬於資本
 (C)李媽媽對小吃口味的更新屬於勞動
 (D)李媽媽的兒子週末付出的時間屬於企業能力

答案 (B)

命題出處 第四冊第三課／生產與經濟發展

測驗目標 認識生產要素

- 解析 (1) 生產要素是指為了達成生產活動，必須投入的各類要素，分為：土地、勞動、資本及企業才能四大類。
- (2) 土地屬於自然資本 (natural capital)，地租 (rent) 即土地的使用價格，是使用土地所必須支付的代價，也是地主提供土地所獲得的報酬。
- (3) 資本 (capital) 是指由人力所生產的財貨，一般的機器設備、廠房、店面，都稱為資本。所以承租的店面不屬於土地，而是屬於資本，(B)由家裡搬來的桌椅也屬於資本。
- (4) 凡是從事生產活動，以獲取收入為目的的人類勞務，稱為勞動 (labor)，包括人類心智與體力的活動，即各種勞心與勞力。(D)李媽媽的兒子週末付出的時間屬於「勞動」。
- (5) 企業才能 (entrepreneurship) 是指生產者結合勞動、土地、資本三類生產要素，從事生產的經營能力。有了企業才能，結合生產要素，從無到有開創製造產品，企業家必須不斷創新，利潤 (profit) 才會繼續存在。(C)李媽媽對小吃口味的更新屬於「企業才能」。

難易度 中

類似題 《學測新導向·公民與社會》第 295 頁第 12 題、第 15 題、第 16 題

13. 某工廠發生爆炸事件，衍生成地方抗爭，凸顯出經濟發展與永續發展的衝突現象，而最後當地政府雖與該工廠達成高額賠償金的共識，仍無法獲得當地居民的認同。請問以下有關此問題的敘述何者正確？
- (A)此爆炸事件反映出共有財的悲歌（Tragedy of the Commons）問題
(B)由於雙方對爆炸原因認定不一，此乃資訊不完全而衍生之供需失衡現象
(C)此乃該工廠與當地居民對於爆炸所造成的外部成本之影響認知不同所致
(D)這是私有財產權界定不明確所致，透過政府的介入與立法規範即可解決

答案 (C)

命題出處 第四冊第七課／經濟與環境的永續發展

測驗目標 了解外部效果造成的市場失靈

- 解析**
- (1) 任何經濟個體（個人或廠商）的行為對於不相關的第三者產生影響，就存在外部性。如果產生好的影響，就是外部效益（或稱正的外部性）。例如：在自家陽臺種花，就是提供外部效益給路過的行人；如果產生壞的影響，就是外部成本（或稱負的外部性），例如：工廠發生爆炸事件就是外部成本。
 - (2) 題幹中提及：「工廠發生爆炸事件，衍生成地方抗爭」，這就是外部性。
 - (3) 題幹中提及：「當地政府雖與該工廠達成高額賠償金的共識，仍無法獲得當地居民的認同。」表示該工廠認為爆炸所造成的外部成本自己已經支付高額賠償金，但此舉顯然無法獲得當地居民的認同。
 - (4) 「共有財的悲歌」（tragedy of commons）；或說是「無主物的悲劇」：原本是大家的東西，常常變成沒有人的東西，所以共有財與無主物有相同的問題。個人在沒有限制之下，追求個人的最大利益，會導致長期的環境破壞、對他人造成傷害，最後也會傷害到自己。
 - (5) 「財產權」就是對於財產的擁有、使用與交換的權利。當財產權界定清楚以後，資源的擁有者就會有效使用該項資源，因為資源價值的降低，就是個人的損失。這也說明無財產權的資源，都會因為個人保育資源的效益被他人所分享而使得大眾缺乏保育的誘因。
 - (6) 「資訊不完全」是指買賣雙方所掌握的商品訊息差異量很大，也就是「資訊不對稱」。這種資訊不透明的情形會妨礙市場交易，甚至有可能沒有任何交易產生，即使有交易，也會傷害某一方的利益。

難易度 難

類似題 《學測新導向·公民與社會》第 343 頁第 16 題

14. 我國影片在國內整體電影票房的占有率長期偏低。雖說電影發展的好壞與票房占有率並無直接對等關係，國內是否要採行保護政策亦多所爭議，但僅就經濟邏輯來看，不考量觀眾的偏好、所得等其他條件，請問下列何種政策最有可能提高我國影片的國內票房占有率？

- (A)調降隨電影票課徵之娛樂稅
- (B)對外國影片之進口採配額限制
- (C)加強盜版影片的查緝，並加重處罰
- (D)與外國簽署協定，增進雙方電影貿易

答案 (B)

命題出處 第四冊第六課／國際貿易與國際金融

測驗目標 認識國際貿易政策

- 解析**
- (1) 題幹中提及：「我國影片在『國內整體電影票房』的占有率長期偏低。……國內是否要採行『保護政策』亦多所爭議」，顯然是針對「外國影片」在我國的電影票房之衝擊。
 - (2) 問題聚焦在「提高我國影片的『國內』票房占有率」。所以(A)調降隨電影票課徵之娛樂稅，雖可降低消費者的支出成本，而增加消費者買票看電影的消費數量，但其影響也包括外國片的票房，並非僅限於本國國片。
 - (3) 而(C)加強盜版影片的查緝，並加重處罰，其影響也包括外國片的票房，並非僅限於本國國片。
 - (4) 而(D)與外國簽署協定，增進雙方電影貿易，就是主張要自由貿易，所以並非在保護我國電影的國內市場，也可能因此而增加更多外片來搶國內市場。

難易度 難

類似題 《學測新導向·公民與社會》第 355 頁第 25 題

15. 某大學男女學生十人，為抗議該校調漲學費，相約於中午 12 點在學校操場集合，持空碗，扮乞丐，遊行校園一周；行動途中還舉起抗議海報，呼喊口號，表達心中不滿。這些大學生的抗議行為本身是在行使《憲法》所保障的何種基本權利？

- (A)結社自由
- (B)受教育權
- (C)人身自由
- (D)言論自由

答案 (D)

命題出處 第二冊第四課／憲法與人權

測驗目標 知道憲法保障的基本權利

- 解析** (1) 「言論自由 (freedom of speech)」與講學自由、著作自由及出版自

由，概稱為「意見自由」，亦稱之為「思想自由」；指的是不受檢查及限制的表意自由。言論自由的同義詞是「表述自由」（freedom of expression），特別用於不僅是言語說話，也包括利用各式媒介來找尋、接受、傳遞訊息或想法的行動自由。因此，「大學生的抗議行為」之「目的」或許是在爭取（維護）「受教育權」，而「抗議行為本身」則是在「行使憲法所保障的言論自由」。

- (2) 至於「結社自由」乃指人民有組織永恆團體之自由；「人身自由」亦稱「人身不可侵犯權」，即人民身體不受國家權力的非法侵犯。二者皆與題幹所述之「大學生的抗議行為本身」無涉。

難易度 中

16. 某員警進行巡查時，隨機攔檢機車騎士，並要求出示證件。有騎士不願接受盤查，大聲咆哮；員警先拉其下車，再以擒拿術壓制，限制行動，最後將之帶回警局訊問。該員警執行職務的行為違反下列哪項法治國基本原則？
 (A)比例原則 (B)平等原則 (C)行政中立原則 (D)信賴保護原則

答案 (A)

命題出處 第二冊第五課／行政法與生活

測驗目標 了解行政法的一般原理原則

- 解析 (1) 臨檢是警察為維持公共秩序、防止危害發生，依法在公共場所、指定路段、處所，對不特定的一般人所為之盤查、檢查、取締等行為。這些行為，在在影響人民的行動自由、財產權和隱私權。因而，警察臨檢的行為，應當受到國家法律的限制。
- (2) 大法官釋字第 535 號解釋指出：「除法律另有規定外，警察人員執行場所之臨檢勤務，應限於已發生危害或依客觀、合理判斷易生危害之處所、交通工具或公共場所為之，其中處所為私人居住之空間者，並應受住宅相同之保障；對人實施之臨檢則須以有相當理由足認其行為已構成或即將發生危害者為限，且均應遵守比例原則，不得逾越必要程度。臨檢進行前應對在場者告以實施之事由，並出示證件表明其為執行人員之身分。臨檢應於現場實施，非經受臨檢人同意或無從確定其身分或現場為之對該受臨檢人將有不利影響或妨礙交通、安寧者，不得要求其同行至警察局、所進行盤查。」為了落實該解釋保障人權的精神，於是制定了《警察職權行使法》，藉以規範警察職權的行使。
- (3) 《警察職權行使法》第 3 條規定：「警察行使職權，不得逾越所欲達成執行目的之必要限度，且應以對人民權益侵害最少之適當方法為之。」此即所謂的「比例原則」，而衡諸題幹所述，「該員警執

行職務的行為」已明顯的違反此項「法治國基本原則」。至於(B)平等原則、(C)行政中立原則和(D)信賴保護原則等三者，雖皆為「法治國基本原則」，但「該員警執行職務的行為」卻與此無關。

難易度 中

類似題 《學測新導向·公民與社會》第 124 頁第 21 題、第 352 頁第 6 題

17. 小偷在竊取路邊車輛的音響時，被巡邏員警逮個正著，並帶回警局訊問。關於接下來的刑事法律程序，下列敘述何者正確？
- (A) 警察機關訊問完畢後可以移送法院，並提起公訴
 - (B) 起訴後，警察機關可以拘留行竊者等候法院審理
 - (C) 行竊者在警局接受訊問時可以要求聘請律師在場
 - (D) 遭竊者可依《犯罪被害人保護法》要求政府補償

答案 (C)

命題出處 第二冊第七課／刑法與生活

測驗目標 認識犯罪的追訴及處罰

- 解析**
- (1) (A)「公訴」是指由檢察官代表國家，向法院起訴被告的程序。故「提起公訴」應屬檢察官之職權，而非警察機關。
 - (2) (B)「拘留」乃指依警察作用而將違反《社會秩序維護法》者拘束於拘留所；係屬行政罰。本案既屬刑事案件，警察機關當無權拘留行竊者。
 - (3) (C)刑事訴訟雖然重視對於犯罪的追訴，但是對於被告人權的保障也相當注意。由於一般人並不具有足夠的法律知識，因此，面對檢警機關的訊問時，除了有權保持緘默外，也有聘請律師來為自己辯護的權利。
 - (4) (D)《犯罪被害人保護法》第 1 條明白揭示，本法係「為保護因犯罪行為被害而死亡者之遺屬、受重傷者及性侵害犯罪行為被害人，以保障人民權益，促進社會安全」而制定。因此，本案的被害人（遭竊者）不可依《犯罪被害人保護法》要求政府補償。

難易度 中

類似題 《學測新導向·公民與社會》第 158 頁第 20 題

18. 《民法》上所稱的行為能力是指當事人能夠獨立為有效法律行為的能力，例如：獨立與他人成立買賣契約。下列有關行為能力的敘述，何者正確？
- (A)年滿十八歲為《民法》上之成年人，有完全行為能力
 - (B)剛滿十歲的國小三年級學生，因未達十四歲，故無行為能力
 - (C)剛滿十四歲之人，得不經法定代理人允許，購買考試用參考書
 - (D)男滿十六歲即可與他人為有效的結婚行為，毋須法定代理人同意

答案 (C)

命題出處 第二冊第六課／民法與生活

測驗目標 了解民法的核心概念——行為能力

- 解析**
- (1) 在《民法》上，所謂的「行為能力」係指得以進行獨立的意思表示，使行為產生法律效果的資格或地位。
 - (2) 我國《民法》對於人的行為能力，依據其年齡分為三種：完全行為能力人（指年滿 20 歲的成年人，以及未成年但已結婚者）、限制行為能力人（指滿 7 歲以上之未婚的未成年人）、無行為能力人（指未滿 7 歲之未成年人，以及受監護宣告之人）。
 - (3) 《民法》規定：無行為能力人不能獨立行使法律行為，必須由法定代理人代行法律行為；限制行為能力人的法律行為，原則上須經法定代理人同意（包括事前允許和事後承認），但是為求社會交易的方便，《民法》也規定，限制行為能力人在有限度的範圍內，某些行為（如：純獲法律上利益，或依其年齡及身份、日常生活所必需者）不必經由法定代理人的允許，就具有法律的效力。
 - (4) 根據上述，可知(A)應是「年滿 20 歲」才是「民法上之成年人，有完全行為能力」；(B)「滿十歲的國小三年級學生」當屬「限制行為能力人」，其法律行為原則上須經法定代理人同意；(C)「滿十四歲之人」雖屬「限制行為能力人」，但因「購買考試用參考書」符合《民法》所稱「依其年齡及身份、日常生活所必需者」，故「得不經法定代理人允許」；(D)「男滿十六歲」亦屬「限制行為能力人」，其結婚行為應得法定代理人之同意。

難易度 中

類似題 《學測新導向·公民與社會》第 145 頁第 23 題、第 158 頁第 23 題、第 24 題

19. 一群勞工因為勞資糾紛協商不成，因此申請集會遊行上街抗議，街旁某唱片行則大聲播放歌曲支持這群勞工。執勤的警察分局長認為唱片行的做法有礙秩序，即率員警進入店內，拉下鐵門，並取走音響裡的 CD 光碟，告誡店家後率隊離去。關於此事件，以下敘述何者正確？
- (A)警察取走 CD 光碟是為維護社會秩序，符合法治國原則的要求
 - (B)唱片行大聲播放歌曲，表達對抗議群眾的支持，屬於人身自由的展現
 - (C)如果警察分局長是在檢察官的指揮下率隊進入店家，就是合法的執行職務行為
 - (D)警察進入店家並取走 CD 光碟是一種搜索扣押，應取得法院核發的搜索票才算合法

答案 (D)

命題出處 第二冊第四課／憲法與人權、第二冊第五課／行政法與生活、第二冊第八課／糾紛處理與權利救濟

測驗目標 認識刑事訴訟制度的內涵—偵查程序

- 解析**
- (1) 在刑事偵查過程中，為釐清犯罪事實與蒐集證據，常有搜索、扣押或羈押之必要，但為避免對人民的隱私權、人身自由與財產權等權利造成侵害，各國皆明文採取令狀主義。因此，檢、警於實施搜索時，應出具法院核發的搜索票，搜索範圍應限於搜索票上記載的範圍。故(D)所述為正確的做法。
 - (2) 承前項，可知(A)所述「警察取走 CD 光碟」之行為，自不符「法治國原則的要求」；而(C)若無「法院核發的搜索票」，即使「警察分局長是在檢察官的指揮下率隊進入店家」仍屬不合法。
 - (3) 至於(B)所述「唱片行大聲播放歌曲，表達對抗議群眾的支持」，應屬「意見自由」而非「人身自由的展現」。

難易度 中

類似題 《學測新導向·公民與社會》第 354 頁第 16 題

20. 某校 21 歲的張生經常受到陳生欺凌。陳生後來要求張生參加黑道喪禮，張生不願，陳生警告他到時不去就要把他「埋了」！張生忍無可忍，動手砍殺陳生。對於這個法律事件，下列分析何者不正確？
- (A)張生是具有完全責任能力之人
 - (B)法院判決時不必考慮張生所受的委屈
 - (C)張生雖然遭受委屈，但他的殺人行為仍不被法律允許
 - (D)本案顯示：犯罪的成因可能很複雜，不一定可以把責任完全歸給行為人

答案 (B)

命題出處 第二冊第七課／刑法與生活

測驗目標 認識犯罪的追訴及處罰

- 解 析**
- (1) (A)一般而言，年滿 18 歲以上的精神健全之人即有完全責任能力。張生年滿 21 歲，故屬之。
 - (2) (B)《刑法》第 57 條明示，科刑時應以行為人之責任為基礎，並審酌一切情狀，尤應注意下列事項（包括：犯罪之動機、目的；犯罪時所受之刺激；……犯罪後之態度等），為科刑輕重之標準。因此，「法院判決時應考慮張生所受的委屈」。
 - (3) (C)所述「殺人行為」係屬《刑法》上「侵害個人法益罪」，需接受國家刑事制裁，故「張生的殺人行為仍不被法律允許」。
 - (4) (D)造成犯罪的原因複雜而多樣，包括個人內在心理和社會外在環境等因素，往往無法用單一的理論或原因來解釋犯罪成因。就本案例而言，若非「張生經常受到陳生欺凌」而「忍無可忍」當不致於「動手砍殺陳生」，因此，「不一定可以把責任完全歸給行為人」。

難 易 度 中

類 似 題 《學測新導向·公民與社會》第 158 頁第 21 題

21、22 為題組

- ◎ 我國政府制定《特種貨物及勞務稅條例》（即是俗稱的「奢侈稅」），從民國 100 年 6 月起實施，其中一個目的是希望能夠壓低近年來不斷上漲的房價，尤其是針對交通便利的都會地區。
21. 按照現代民主理論，我國課徵「奢侈稅」的做法可說是符合了「國家的目的與功能」中的「落實社會正義」這一項目。以下何者是這種論點的最主要理由？
- (A) 一個正義的社會，不應存在奢侈的消費行為
 - (B) 都會地區房價若是下降，可改善城鄉區域發展的差距
 - (C) 傳統上認為節儉是美德，所以政府有責任導正人民消費習慣
 - (D) 民主政府應照顧人民的福祉及基本生活需求，包括居住的權利

答 案 (D)

命題出處 相關時事＋第三冊第一課／國家的組成與目的

測驗目標 知道國家存在的目的

- 解 析**
- (1) 國家各種政策的制訂，除消極地確保個人權益不受侵害外，更應積極地提供各種福利制度，以照顧社會上和經濟上的弱勢者，就是要落實「社會正義」。
 - (2) 奢侈稅（luxury tax）是消費稅的一種，(A)一個正義的社會，政府針對奢侈消費行為進行課徵，就是要讓稅制符合社會公平原則。

- (3) (B)都會地區房價若是下降，並非為了改善城鄉區域發展的差距，而是想要抑制特種貨物在短期內轉手交易的以錢滾錢的行為。所以規定：非自用住宅如果在一年內轉手，則課徵 15 % 的奢侈稅；在一至兩年間轉手，則課徵 10 % 的奢侈稅。
- (4) 政府制定《特種貨物及勞務稅條例》是在照顧人民的福祉及基本生活需求，有縮短貧富差距的功能；但並非如(C)所言，是要導正人民消費習慣。

難易度 中

類似題 《學測新導向·公民與社會》第 186 頁第 9 題

22. 假設「奢侈稅」造成買方預期豪宅價格將下跌，導致市場需求減少，賣方因政策的衝擊而不願將豪宅賣出，造成市場供給減少；請問在這樣的情況下，豪宅的市場均衡價格與均衡數量會如何變動？
- (A) 價格一定下跌，但數量不一定增加
 (B) 數量一定減少，但價格不一定提高
 (C) 價格一定上漲，但數量不一定減少
 (D) 數量一定增加，但價格不一定降低

答案 (B)

命題出處 相關時事 + 第四冊第二課 / 市場經濟制度

測驗目標 知道市場均衡的變動

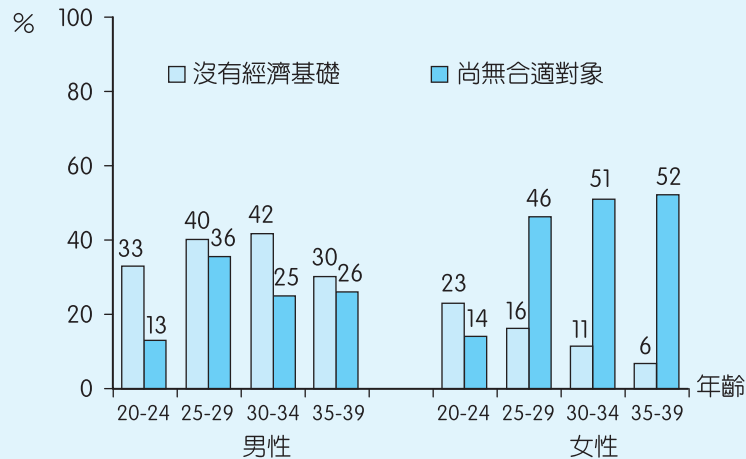
- 解析** (1) 題幹提及：「市場『需求減少』（整條需求線往左移）、『供給減少』（整條供給線也往左移）」，如此一來，市場上的交易數量一定相對減少，所以均衡數量一定減少。
- (2) 如果供給減少的幅度大於需求減少的幅度，則會形成「供不應求」，價格一定上漲，如果供給減少的幅度小於需求減少的幅度，則會形成「供過於求」，價格一定下跌。
- (3) 但因為題幹並未提及需求與供給減少的幅度何者較大，所以「價格不一定提高」。

難易度 難

類似題 《學測新導向·公民與社會》第 358 頁第 37 題、第 38 題

23、24 為題組

- ◎ 某國為了解年輕人結婚意願與生育率變低的原因，其研究機構調查 20 至 39 歲民眾對婚姻的態度（如圖二）。圖中數據顯示，有結婚意願的男性與女性中，尚未結婚的原因主要有「沒有經濟基礎」與「尚無合適對象」兩個理由。



圖二

23. 根據圖中數據，下列敘述何者最不合理？

- (A) 很多未婚男性認為養家是男人的責任
 (B) 經濟條件不是影響某國年輕人結婚意願的唯一因素
 (C) 對未婚女性而言，年紀愈輕，結婚意願愈不易受到經濟壓力的影響
 (D) 就未婚男性而言，其結婚意願受到無合適對象的影響較女性來得小

答案 (C)

命題出處 第一冊第三課／婚姻與家庭

測驗目標 體認現代社會變遷下的婚姻與家庭之問題

- 解析 (1) 圖中數據顯示，有結婚意願的男性與女性中，尚未結婚的原因主要有「沒有經濟基礎」與「尚無合適對象」兩個理由，顯然(B)經濟條件不是影響某國年輕人結婚意願的唯一因素。
 (2) 針對「沒有經濟基礎」的原因，判讀資料顯示：不管哪個年齡層的男性，受此因素以致尚未結婚的比例，都高於該年齡層的女性，應可推判(A)很多未婚男性認為養家是男人的責任。
 (3) 針對「尚無合適對象」的原因，判讀資料顯示：不管哪個年齡層的男性，受此因素以致尚未結婚的比例，都低於該年齡層的女性，應可推判(D)就未婚男性而言，其結婚意願受到無合適對象的影響較女性來得小。

難易度 中

24. 如果政府為了鼓勵民眾提高結婚與生育意願，推動平價社會住宅、生育補貼、公辦幼兒托育及減免國小學童學費等政策。請問圖中哪群人的結婚意願最可能受這些政策影響？

- (A) 30 至 34 歲的未婚男性 (B) 25 至 29 歲的未婚女性
(C) 35 至 39 歲的未婚男性 (D) 20 至 24 歲的未婚女性

答案 (A)

命題出處 第一冊第三課／婚姻與家庭

測驗目標 體認現代社會變遷下的婚姻與家庭之問題

- 解析** (1) 題幹提及：「如果政府推動平價社會住宅、生育補貼、公辦幼兒托育及減免國小學童學費等政策」，顯示是針對「沒有經濟基礎」的問題提出解決方案。
- (2) 針對「沒有經濟基礎」的原因，判讀資料顯示：未婚男性與女性中，受此因素影響而尚未結婚的，以 30 至 34 歲的未婚男性比例（42%）最高。

難易度 易

25. 一位民意代表主張：「今日臺灣發電條件豐富，政府應研究鐵路電氣化的可能性，其經濟效益可提高人民所得。」主管交通的官員答覆：「關於鐵路電氣化問題，美援會研究認為需再慎重，本案中央繼續研究中。」這位民意代表最可能是：

- (A) 1930 年代，街庄協議會的議員 (B) 1960 年代，臺灣省議會的議員
(C) 1980 年代，立法院的立法委員 (D) 1990 年代，國會中的國大代表

答案 (B)

命題出處 第一冊第 4 章當代的臺灣與世界（第 1 節政治：從戒嚴到解嚴）

測驗目標 了解戰後臺灣政治經濟發展的幾個重要階段與美援對臺灣經濟重建的影響

- 解析** 解題之關鍵為「美援會」，其設立的時間可追溯至 1948 年 7 月，中華民國政府與美國在南京簽訂《中美經濟援助協定》，中華民國政府遂在行政院底下設置「美援運用委員會」，直至 1963 年 9 月，「美援會」改組為「行政院國際經濟合作發展委員會」，「美援會」的名稱正式走入歷史。若不知道「美援會」存在的時間，則需以削去法的方式解答。
- (A) 1930 年代為日治時期，不可能有美援。(B) 美援的時代歷經 1950、1960 年代。(C) 1980 年代、(D) 1990 年代，美國已經於 1979 年斷絕與中華民國之外交關係，故不可能出現美援。另外，國大代表的職權為選舉、罷免總統、副總統、修改《憲法》、複決立法院所提之《憲法》修

正案，故提出交通問題議案並不在其職權範圍內，尤不該選(D)。

難易度 中

26. 春秋晚期，鄭國的執政大夫子產將刑法鑄於銅鼎，公布法律條文使國人周知。此舉引發鄰近晉國貴族之疑慮，認為人民可有成文法律做為靠山，據此爭取自身權益，極可能威脅既有的社會穩定及政治秩序。子產的改革與晉國貴族的疑慮，可以說明當時社會的哪種現象？

- (A)平民興起漸成為國家中堅力量 (B)政府的行政權萎縮，民權增強
(C)貴族立法鎮壓百姓以維護封建 (D)司法解釋與裁量改由人民主導

答案 (A)

命題出處 第二冊第 1 章華夏世界的形成（遠古、三代至秦漢）（第 2 節封建體制的興衰）

測驗目標 了解春秋戰國時期平民崛起與社會經濟的變革

解析 西元前 536 年，鄭國子產將刑法鑄於鼎上，是中國歷史上公布成文法的始例，卻引來晉國大夫叔向的極力反對，認為應該用道義、政令、禮儀、信用、仁愛來管理人民，並以忠誠、獎賞及正確的態度來教化人民，法律反而會促使人民捍衛自己的權益，毀棄傳統的禮儀。子產「鑄刑書」象徵「刑不上大夫，禮不下庶人」的封建時代正式結束；「尊尊」、「親親」的禮治傳統面臨崩解，法治思潮隨之而起。這種現象其實是時代的趨勢，春秋晚期的平民地位逐漸崛起，試圖取代傳統貴族所擁有的宗法特權，若有成文法律作為依據，則可以保障新取得的地位及累積的財富。對執政者而言，有利於中央集權及打擊舊有的貴族勢力，對維護社會治安則有明確的法律作為後盾，可加強對人民的控制。(B)政府的行政權應會加強。(C)打壓貴族的權益、破壞封建法規。(D)政府主導司法解釋及實施。(B)(C)(D)皆不可選，故應選(A)。

難易度 中

27. 歷史上某一時期，甲乙雙方舉行效忠儀式：甲方向乙方保證，願以自由人身分，終身服事乙方，絕不脫離乙方保護，如有違背，願以金錢賠償；乙方則保證，宣誓之後，將終身保護甲方。這個效忠儀式最可能在何時何處舉行？

- (A)八世紀前期君士坦丁堡的皇宮 (B)十二世紀中期法國北部的莊園
(C)十六世紀後期英國南部的城堡 (D)十九世紀後期美國南部的棉田

答案 (B)

命題出處 第三冊第 2 章普世宗教與中古文明（第 2 節基督教會與中古歐洲）

測驗目標 了解西歐中古封建制度盛行的時間、地區、內容與重要儀式

解析 臣服禮是西歐中古時期確認領主與附庸之間權利與義務的一種儀式，題幹中的甲是附庸，乙是領主。西歐中古時期戰亂頻仍，許多農民將自己的土地獻給大地主，以求獲得大地主（通常是貴族）的武力保護。在封建制度底下，農民被束縛於莊園制度之中，必須對莊園的領主奉行屬於附庸的義務。西歐封建制度形成於西元八世紀，十一世紀逐漸達到成熟穩定狀態，十三世紀中葉後逐漸衰落，卻在西歐社會的各個層面留下深厚的影響力。(A)君士坦丁堡位於博斯普魯斯海峽西側，介於歐亞大陸之間，不在西歐封建制度盛行的區域之內。(C)(D)十五世紀後，封建制度逐漸被民族國家的中央集權政治取代。故答案應選(B)。

難易度 中

28. 媒體報導：「波蘭國會於本月中通過加入北大西洋公約組織（簡稱北約）案，波蘭預定在三月間與捷克及匈牙利同時成為北約新會員。」這則報導出現的時代背景為何？

- (A) 二戰結束時，美蘇兩國在東歐對峙，美國拉攏波、捷等國加入北約
- (B) 韓戰結束後，法國欲擴大在歐洲勢力，企圖說服東歐各國加入北約
- (C) 越戰爆發時，西歐欲打擊華沙公約組織，勸說波、捷等國加入北約
- (D) 蘇聯解體後，東歐向西方靠攏，波、捷、匈牙利等國家欲加入北約

答案 (D)

命題出處 第四冊第 4 章世界霸權的爭奪（第 1 節第二次世界大戰、冷戰的形成及東亞世界）

測驗目標 了解蘇聯瓦解與冷戰時期結束的世界局勢變遷

解析 1949 年，美國與西歐國家為了防止受到蘇聯及東歐共產國家的攻擊，於美國華盛頓簽署《北大西洋公約》後成立北大西洋公約組織。1955 年歐洲共產主義陣營國家在波蘭首都華沙簽署《華沙公約》，成立華沙公約組織。1989 年柏林圍牆被推倒，東歐共產集團逐漸瓦解。1990 年，東德在與西德完成統一後退出華沙公約組織，轉而參加北大西洋公約組織。華沙公約組織在 1991 年 7 月正式宣布解散。1991 年 8 月，蘇聯逐漸瓦解。12 月，蘇聯正式解散。1999 年，捷克、匈牙利、波蘭等原先是蘇聯共產集團的國家加入北約組織。(A) 1945 年，美蘇兩大強權對峙的局面逐漸形成，但是北約尚未成立。(B) 1953 年韓戰結束，冷戰期間，波蘭在內政外交政策上一直追隨蘇聯，故不可能被法國說服參加北約。(C) 1959 年，越戰爆發，戰事發生在中南半島，與華沙公約組織國家沒有直接關係，且波蘭、捷克等國不是在此時加入北約。故應選(D)。

難易度 難

29. 一位作家呼籲：希望作家不要身處危難，卻仍然成天做著新式或舊式的鴛鴦蝴蝶夢。我們要關心現實，寫我們的現實，主要一點便是反買辦、反崇洋媚外、反分裂的地方主義。這段話反映哪個時期臺灣的文學思潮？
- (A) 1950 年代的反共文學 (B) 1960 年代的現代文學
(C) 1970 年代的鄉土文學 (D) 1980 年代的浪漫文學

答案 (C)

命題出處 第一冊第 4 章當代的臺灣與世界（第 3 節社會：變遷與多元）

測驗目標 了解戰後臺灣文學發展的重要階段及其重要內容

解析 鴛鴦蝴蝶派指的是中國現代文學中的一種流派，內容偏向「哀情」、「香閨」、「豔情」等以愛情為主題的小說，在 1919 年五四運動期間受到知識分子的批評，1949 年後，大陸地區提倡文學應為政治服務，故鴛鴦蝴蝶派逐漸消失，但在臺灣、香港地區仍頗為流行，如瓊瑤的言情小說。但本題的主要解答關鍵是「關心現實，寫我們的現實，主要一點便是反買辦、反崇洋媚外、反分裂的地方主義」。就臺灣文學的發展過程而言，(A)反共文學又稱為戰鬥文學，其主軸為反共產黨。(B)現代文學即現代主義文學，主要有象徵主義、表現主義、意識流、意象、超現實主義等內容。(C) 1970 年代，現實主義的文學觀點逐漸滲入鄉土文學作家的作品中，產生重要的鄉土文學作家，如陳映真、黃春明等人，其風格為質樸與寫實，描寫鄉土生活的景象，在 1977 年與受歐風美雨影響的現代主義文學展開一場論戰。(D)浪漫文學是西方近代文學的兩大流派之一，強調創作的絕對自由，現代主義文學的諸流派可說是繼承浪漫主義文學的精神。但浪漫主義文學源自西方，與題幹「反崇洋媚外」明顯不符。故選(C)。

難易度 中

30. 某個帝國，在十一世紀初是歐洲最強盛的國家，十四世紀以後，境內諸侯紛紛追求自身利益，互相攻伐，國勢漸衰。十七世紀，又因宗教問題，造成內部分裂。十九世紀初，帝國甚至遭拿破崙解散。這個帝國是指：
- (A)俄羅斯帝國 (B)拜占庭帝國 (C)神聖羅馬帝國 (D)鄂圖曼帝國

答案 (C)

命題出處 第三冊第 2 章普世宗教與中古文明（第 2 節基督教會與中古歐洲）

測驗目標 了解歐洲歷史上的重要帝國及其盛衰

解析 比較四個帝國，俄羅斯帝國是 1721 年以後俄羅斯的正式國號，在十一世紀時尚未出現俄羅斯帝國，故不能選(A)。拜占庭帝國即東羅馬帝國，十一世紀起，因國內皇權之爭及國外突厥人的進攻，國勢衰退，不能稱

為是歐洲最強盛的國家，不能選(B)。鄂圖曼土耳其帝國約於十三世紀末才崛起，故不能選(D)。神聖羅馬帝國存在的時間為 962 年到 1806 年，在表面上承認皇帝擁有最高權威，但實際上地方公國、侯國、宗教領主擁有行政權，隨著日耳曼地區各地諸侯分裂活動加劇，神聖羅馬帝國皇帝的地位不斷下降。十七世紀初，日耳曼地區爆發三十年戰爭，境內諸侯更進一步享有自主權。1806 年，在拿破崙的威逼利誘下，神聖羅馬帝國正式解散。故應選(C)。

難易度 中

31. 十六世紀起，歐亞間的海上貿易興起，許多歐洲國家紛紛前來亞洲經商。歐洲某國王室出資組成船隊，前往印度與東亞地區貿易。國王為反制抗議教派，避免其擴張，還願與教廷合作，免費將傳教士送往商船所到之處傳教。這位國王是：

- (A)西班牙國王菲利普 (B)英格蘭王伊莉莎白
(C)俄國皇帝彼得大帝 (D)瑞典國王古斯塔夫

答案 (A)

命題出處 第三冊第 3 章世界文明的蛻變與互動（第 2 節世界文明的交匯）

測驗目標 了解西歐宗教革命後新舊教勢力的分布及其勢力消長

解析 抗議教派即抗議教宗、基督教新教。根據題意可知，此國國王站在天主教的立場反對新教，努力於天主教（舊教）勢力的擴張行動。(A)十六世紀西班牙有兩位菲利普國王，一位是菲利普二世（1556～1598 年在位），另一位是菲利普三世（1598～1621 年在位），兩位皆是哈布斯堡王朝的國王，也都擁有堅定的天主教信仰。(B)伊莉莎白一世（1558～1603 年在位），是都鐸王朝最後一位君主，她恢復聖公會（英國國教派）的國教地位，再次立法否定羅馬天主教。(C)彼得大帝（1682～1725 年在位），俄國信仰的是東正教，且此時派遣船艦前往印度及亞洲地區的是西歐大西洋沿岸的國家，並未包含俄國。(D)瑞典國王有兩位國王名叫古斯塔夫，分別是古斯塔夫二世（1611～1632 年在位）、古斯塔夫三世（1771～1792 年在位），瑞典是一個以路德教派為主要宗教的國家。故以上四個選項中，西班牙國王菲利普是唯一一位支持天主教的國王，故選(A)。

難易度 中偏難

32. 一篇論文裡的關鍵詞有：中日關係、山東問題、胡適、巴黎和會。這篇論文討論的主題最可能是：

- (A)庚子拳亂 (B)五四運動 (C)瀋陽事變 (D)七七事變

答案 (B)

命題出處 第二冊第 5 章中華民國的建立與發展（第 2 節新文化與新思潮）

測驗目標 了解中國五四運動發生的背景及其影響

解析 (A)庚子拳亂與胡適、巴黎和會之間並無直接關係。(C)瀋陽事變即為九一八事變，與山東問題、胡適、巴黎和會之間並無直接關係。(D)七七事變即為盧溝橋事變，與山東問題、胡適、巴黎和會之間並無直接關係。(B)五四運動起因於巴黎和會將山東權益轉讓給日本，引發學生愛國運動，進而加速西化運動的推展，胡適等人在北大校長蔡元培的領導下，培養學生獨立自主及開放進步的思想與精神，是為五四新文化運動。故選 (B)。

難易度 易

33. 一位商人自述：家中原本頗有積蓄，曾經擁有一家運輸公司。後因為投資股票，一夜之間，家財全部化為烏有。他為了養家活口，只得到碼頭當搬運工，但工作並不固定，收入有限。許多朋友則因無法繳付房貸，住家遭銀行查封，只得跟許多人一起在公園搭帳棚，領失業救濟金，不相信政府能解決他們的困境。這種情形最可能是：

- (A) 1800 年拿破崙戰爭後的巴黎 (B) 1918 年第一次大戰後的倫敦
(C) 1932 年經濟蕭條時期的紐約 (D) 1950 年第二次大戰後的上海

答案 (C)

命題出處 第四冊第 3 章歷史的轉折（第 1 節西方世界的迷失、改革、激進和大戰）

測驗目標 了解 1930 年代美國經濟蕭條時期的景況

解析 此題之解題關鍵為「投資股票，一夜之間，家財全部化為烏有」，歷史上最顯著的例子即為 1929 年至 1933 年間發生的世界經濟大恐慌，又稱為大蕭條。1929 年 10 月 29 日，美國紐約華爾街股市崩盤，導致毀滅性的經濟災難發生，銀行倒閉、工廠關門、工人失業等問題嚴重。城市中的失業者面臨無家可歸的困境，將簡陋的木板、鐵皮搭建成臨時住宅，被稱為「胡佛村」。直到 1933 年羅斯福總統上任後實施一系列的經濟政策（統稱為「新政」），加強政府對經濟的直接或間接干預，才逐漸改善大蕭條的困境。

難易度 易

34. 臺灣原本不產耕牛，主政者在南北兩路各設「牛頭司」，負責引進牛隻繁殖，以用於耕作。主政者並在各地修築水利設施，提供耕牛、農具與種籽；又大量招募「中土遺民」前來開墾。這是何時的情況？
 (A)荷蘭時期 (B)清領初期 (C)日治時期 (D)戰後初期

答案 (A)

命題出處 第一冊第 1 章早期臺灣（第 2 節荷、西與明鄭）

測驗目標 了解荷蘭據臺時期鼓勵農業開墾的措施及其影響

解析 1624 年，荷蘭聯合東印度公司占領大員後，積極從事農業開發，設立優惠的條件吸引大陸移民來臺開墾，由公司提供農具、耕牛、資金，並協助開墾水圳、保護漢人免受原住民襲擊。荷蘭當局在臺灣南北兩路設置牛頭司，致力於黃牛的繁殖以增加開墾土地的動力。另外，「中土遺民」指的是來自大陸地方的前朝人民，即(A)明末清初許多漢人移民來臺開墾。(B)清領初期已是 1684 年以後了，距離 1644 年明朝滅亡已近四十年，較不符合「中土遺民」的定義。(C)日治時期並未大力招募漢人來臺開墾。(D)戰後初期並未符合「中土遺民」的條件，且臺灣不需要引進牛隻繁殖。故選(A)。

難易度 易

35. 某一時期，立國的理念是：「國家應由受過良好教育、擁有財產的人來管理；他們可以制訂法律，保護人民財產，維持社會安寧。人民應當遵守法律、熱愛國家。」所有法律也都依據這樣的理念制訂。這應當是下列哪個時期的觀念？
 (A)秦始皇統一六國時期的「法家」思想
 (B)拜占庭帝國《查士丁尼法典》的主張
 (C)英格蘭王約翰簽署〈大憲章〉的概念
 (D)法蘭西帝國《拿破崙法典》立法精神

答案 (D)

命題出處 第四冊第 1 章遽變的時代（第 1 節美國獨立革命與法國大革命）

測驗目標 了解十九世紀初期拿破崙法典與啟蒙運動之間的關係

解析 《拿破崙法典》是基於啟蒙運動思想的基礎，奠基於個人主義思想及自由平等的觀念，且採用了《查士丁尼法典》的法學結構，內容注重保障人民的財產及所有權。題幹中「國家應由受過良好教育、擁有財產的人來管理」，意指中產階級是國家政權的重要支柱，而中產階級在十八世紀末因工業革命而實力大增，故可推知題幹內容為法蘭西第一帝國時期（1804 ~ 1814 年）的重要思潮與立國基礎。(A)法家思想注重的是君王的威勢、統治的手段、嚴格執行的法律。(B)《查士丁尼法典》於六世紀

時完成，集羅馬法之大成，反映出當時羅馬帝國的現實狀況，尚未出現「中產階級為國家管理者」的觀念。

難易度 易

36. 學者指出：某個時期的農州市鎮主要分布在黃河中、下游和長江三角洲；黃河中、下游的市鎮數量很多，但每個市鎮的貿易額卻不大；長江三角洲的情況恰好相反，市鎮數量少，但每個市鎮的貿易額都很大。不過，政府在兩個地區所收的商業稅大致相等。這種經濟現象最可能出現於何時？

- (A)唐代前期，江南地區漸次開發 (B)北宋時期，商業繁榮市鎮興起
(C)蒙元時期，華北經濟漸趨沒落 (D)明代時期，江南市鎮經濟擴大

答案 (B)

命題出處 第二冊第 2 章中古的變革（魏晉南北朝、隋唐）（第 1 節從分裂到統一）

測驗目標 了解中國歷史上經濟重心南移的幾個重要階段及其進程

解析 解題關鍵在於「中國經濟重心南移」的幾個重要階段，一是魏晉南北朝時期，一是唐中葉安史之亂，另一是北宋末年的靖康之難。魏晉南北朝期間發生五胡亂華後，中國經濟重心開始南移；唐朝安史之亂後，北人再度大量南移，南方的關稅、茶稅、鹽稅已經成為政府重要的財稅收入，南方商稅收入已經超越北方，但在北宋建國後，南北稅額又大致回到相等的局面；在北宋末年靖康之難發生後，南宋時期經濟重心已經完全南移，文化、政治重心也隨之南移。根據題意，該時期江南經濟已逐漸繁榮，但是商業稅仍未超越北方，約與北方相等。故可知該時期居於南北經濟消長的關鍵時期、南北商業稅大致相等，為北宋時期的特色故應選(B)北宋時期。

難易度 中偏難

37. 日本軍方在一份布告書中說：「我軍所向，蕃人懾服。」但當要與清國議和之際，清國政府生出異議，未能立刻達成和議。「現在，兩國商議已決，即將接受清國請求而撤軍，並將該地人民交還清國。」這份布告書應當是：

- (A)牡丹社事件後日軍的公告 (B)日軍占領琉球之後的公告
(C)甲午戰後日軍對臺的公告 (D)日俄戰爭期間對東北公告

答案 (A)

命題出處 第一冊第 2 章清代的長期統治（第 3 節外力衝擊與近代化）

測驗目標 了解牡丹社事件時日軍侵臺的經過及其結果

解析 從日本軍方的布告書可知日本軍隊已經擊敗臺灣的原住民，且在征服原住民部落之後展開與清國的議和行動，但在議和的過程中遭遇阻撓，最

後達成之決議為日本軍隊退出該地區，由清國接管。1874 年發生牡丹社事件，日本出兵攻打臺灣南部恆春半島的原住民部落，獲得壓倒性的勝利，卻因染病者人數眾多及耗費軍費過鉅而展開與清國的談和，起初清國態度強硬，後因英國介入，最後簽訂《北京專約》，清國賠款五十萬兩白銀，日軍退出臺灣南部地區。故應選(A)。

難易度 易

38. 一位官員指出：為舒緩市場銅錢不足問題，政府應當禁止民間鑄造銅器。經大臣討論後，向皇帝建議：除銅鏡之外，禁止民間以銅為原料，鑄造器物。此事最可能發生於：
- (A)秦朝，統一六國後，為促進商業活動，鼓勵民間自鑄銅錢
 - (B)西晉，因漢末大亂後，百廢待舉，政府希望擴大銅錢流通
 - (C)晚唐，因商業漸繁榮，貨幣不足，必須確保銅錢供應充足
 - (D)清中期，因白銀流失日趨嚴重，朝廷下令，擴大銅錢流通

答案 (C)

命題出處 第二冊第 2 章中古的變革（魏晉南北朝、隋唐）（第 1 節從分裂到統一）

測驗目標 了解晚唐經濟興盛對民間貨幣及國家財政措施的影響

解析 根據題幹可知此時國內銅錢嚴重不足，政府下令將製造銅器（銅鏡除外）的銅原料，皆用於鑄造銅幣。(A)秦始皇統一天下後，統一貨幣與度量衡，故不可能鼓勵民間私自鑄造貨幣；秦朝重視「上農除末」，鼓勵農業生產，打擊商業活動，故(A)不可選。(B)大亂之後，銅錢流通量少，不會產生銅錢不足的現象。(C)晚唐因商業繁榮，造成銅錢不足的現象，各地普遍出現錢荒的現象，政府才會下達限制鑄造銅器的命令。(D)白銀流失嚴重，銅錢的價格及流通量自然增加，故不需要政府下令擴大銅錢的流通。故應選(C)。

難易度 中偏易

39. 古董商販售一批聲稱是從河南安陽出土的甲骨文書，指出：這批書寫於牛肩胛骨的文物，主要內容為土地交易契約。幾位同學發表看法，下列何種說法最可信？
- (A)這批文物從河南安陽出土，又有甲骨文書，應當是真品
 - (B)刻寫在牛肩胛骨，而非書寫在龜甲，故極有可能為贗品
 - (C)甲骨文直到清末才出土，無法偽造，這批文物應為真品
 - (D)商代並無土地交易行為，自然不可能有契約，應為贗品

答案 (D)

命題出處 第二冊第 1 章 華夏世界的形成（遠古、三代至秦漢）（第 1 節從村落到國家）

測驗目標 了解甲骨文的内容及商代的社會生活

解析 甲骨文又稱為卜辭、貞卜文字，是商朝晚期王室用於占卜記事而在龜甲或獸骨上契刻的文字，是中國最早的文字系統。商朝實施封建制度，土地公有，並無土地交易的活動；中國歷史上土地私有的現象要到封建制度逐漸瓦解之後才會逐漸出現，約在西周末年，且土地交易的契約並不需要占卜，不可能出現在甲骨文之中，故此件甲骨文書應為贗品。答案應選(D)。

難易度 中

40. 一位統治者自述其生平事蹟：「19 歲那年，國家受到奸黨蹂躪，是我招募軍隊，打敗奸黨，才重建和平。元老院選我為執政官，控制所有權力，但我拒絕獨裁，不僅恢復了許多逐漸沒落的傳統，也為後代子孫立下許多典範。」這位統治者最可能是：

(A) 亞歷山大大帝

(B) 羅馬將領凱撒

(C) 羅馬皇帝屋大維

(D) 羅馬皇帝君士坦丁

答案 (C)

命題出處 第三冊第 1 章 古代文明的遺產（第 3 節西方古典文化的形成）

測驗目標 了解屋大維的崛起及對建立羅馬帝國的貢獻

解析 解題關鍵為「重建和平」、「選我為執政官，控制所有權力」、「立下許多典範」。(A) 亞歷山大並未擔任執政官。(B) 凱撒擔任執政官、獨裁官，最後也因破壞羅馬共和權力共享的原則遇刺被殺。另外，凱撒掃平亂事、擔任獨裁官時已經五十多歲，與題幹敘述不符。(D) 君士坦丁並未被元老院選為執政官，而是被軍隊推舉為奧古斯都。君士坦丁在位時，羅馬帝國已經成為軍事官僚制度的國家，並未「恢復許多逐漸沒落的傳統」。(C) 在凱撒被殺時，屋大維年僅 18 歲，他迅速平定亂事。後來，他當選執政官的職務，成為羅馬共和國的最高行政官。屋大維並未稱帝，而是自稱「第一公民」（原是古羅馬共和時期元老院的榮譽職銜）；而元老院授予他的稱號「奧古斯都」，則成為往後四百年羅馬統治者的永久性稱號。故應選(C)。

難易度 中偏難

41. 一首詩描述古埃及的農業生活，提到以下特徵：甲、尼羅河定期氾濫，使埃及生生不息；乙、河水澆灌了沙漠，養育肥美魚類；丙、河岸有牲畜覓食；丁、神廟定期舉行豐年慶典。上述哪項特徵最足以說明此詩所描述的是農業定耕生活方式？
- (A)甲 (B)乙 (C)丙 (D)丁

答案 (D)

命題出處 第三冊第 1 章古代文明的遺產（第 1 節大河與文明）

測驗目標 了解埃及農業與神廟定期儀式之間的關係

解析 解題的重點是農業定耕生活，而「甲、尼羅河定期氾濫，使埃及生生不息」，意指為埃及帶來繁盛的農業，但是並未說出埃及人進行的是「定耕生活」方式。「乙、河水澆灌了沙漠，養育肥美魚類」說明埃及尼羅河沿岸捕魚業盛行。「丙、河岸有牲畜覓食」說明埃及尼羅河沿岸的畜牧業。「丁、神廟定期舉行豐年慶典」，古埃及人「定期」在神廟舉行豐年祭典，慶祝農業的豐收，象徵「定耕」、「農業」、「生活」，故丁更能說明「農業定耕生活」。故選(D)。

難易度 中偏難

42. 十九世紀中期，一位俄國學者批評政府的某項政策，認為它「改變數百年習慣的生活方式，摧毀自古以來人民與土地的連結關係。」因此他呼籲：「讓我們根據傳統的原則，重新恢復國家與人民、人民與土地之關係。」這位學者批評的政策為何？
- (A)解放農奴 (B)組織公社 (C)農地重劃 (D)土地國有

答案 (A)

命題出處 第四冊第 3 章歷史的轉折（第 2 節俄國大革命和共產黨的極權統治）

測驗目標 了解俄國農奴制度的發展及廢除農奴制度的過程

解析 歐洲的農奴制度從十世紀中古時代中期，一直持續到十九世紀中葉，使農民受到奴役及剝削。農奴必須在莊園的土地上付出勞力努力工作，以維持生計。因此，農奴被困在莊園土地上，未得到領主批准，不得離開。1861 年，俄國沙皇亞歷山大二世簽署廢除農奴制度的法令，規定農奴在法律上擁有人身自由，有權擁有財產、擔任公職和工商業，地主不能買賣農奴和干涉農奴的生活；規定土地仍然歸屬地主所有，農奴可以得到一定數量的土地，但必須出錢向地主購買。故此題應選(A)。

難易度 中

43. 一張老相片顯示：火車站中有數列滿載士兵的火車，其中有兩列預計開赴比利時前線，另有一列即將駛往東方邊界，車廂上的標語寫著：「向沙俄宣戰！為祖國奮鬥！」這張相片最可能是何時的情景？
- (A) 1854 年的克里米亞戰爭爆發後，英軍開往前線
(B) 1870 年德法戰爭爆發，德意志聯軍向法國開拔
(C) 1914 年，第一次世界大戰爆發，德軍準備出發
(D) 1939 年歐洲大戰爆發，德軍準備進攻蘇聯之際

答案 (C)

命題出處 第四冊第 3 章歷史的轉折（第 1 節西方世界的迷失、改革、激進和大戰）

測驗目標 了解第一次世界大戰的兩大陣營及戰爭的經過

解析 題幹中有「向沙俄宣戰」，可見是第一次世界大戰前的情景，因為，1917 年俄國發生二月革命，沙皇尼古拉二世被迫退位，俄羅斯帝國被推翻，從此不再出現沙皇的名稱，故可先刪除(D)選項。(A)克里米亞戰爭發生的地點是在黑海北岸，前線並不是在比利時，與題幹敘述不符。(B)俄羅斯並未介入 1870 年的德法戰爭（即普法戰爭）。(C) 1914 年第一次世界大戰爆發時，對峙的兩大陣營是三國同盟與三國協約，俄國已經總動員出兵援助塞爾維亞，德國向俄國宣戰，並往法國進軍，比利時則宣告中立，卻受到德軍攻擊，符合題幹所說的「比利時前線」。故應選(C)。

難易度 中偏難

44. 自某個時期起，藝術創作強調恢復希臘與羅馬的傳統，藝術家精研人體結構，重視透視法。他們的地位大幅提升，非以往的工匠可比，貴族與富商都願意收購藝術作品珍藏。這個時期最可能是：
- (A)西元十二世紀 (B)西元十五世紀 (C)西元十八世紀 (D)西元十九世紀

答案 (B)

命題出處 第三冊第 3 章世界文明的蛻變與互動（第 1 節歐洲社會的蛻變）

測驗目標 了解文藝復興時期的藝術特色及透視法對繪畫的影響

解析 文藝運動是一場發生在十四世紀至十七世紀的文化運動，發源於義大利半島北部的佛羅倫斯，後來往北擴展至歐洲各國。文藝復興運動囊括了對古典文獻的重新學習，在繪畫方面則有創造空間深度的透視法。透視法是將遠處的東西畫得比較小，並且物體會因視角不同而變形。透視法的出現代表著藝術走向現實主義，藝術家進一步發展出光、影的表現法以及人體解剖的研究。故應選(B)。

難易度 中

45. 一份臺灣的考古報告記載：其居民主要住在水岸的稍高階地，已形成定居的小型聚落。他們使用石製的生產工具，如石鋤、石斧，種植根莖類的作物。這一文化分布地區廣及中國的閩南和廣東沿海。此文化遺址最可能是：
 (A)長濱文化 (B)網形文化 (C)大坌坑文化 (D)十三行文化

答案 (C)

命題出處 第一冊第 1 章早期臺灣（第 1 節臺灣原住民族）

測驗目標 了解臺灣新石器時代早期大坌坑文化的內容及其分布範圍

解析 解題關鍵是「已形成定居的小型聚落」，這是新石器時代早期的情形，新石器時代中期聚落規模已逐漸增大，晚期則已經開始出現部落聯盟。另外，新石器時代的農作物尚停留在種植根莖類作物的階段。(A)長濱文化、(B)網形文化屬於舊石器時代，尚未出現農業，不可能發現「石鋤、石斧」。(D)十三行文化屬於金屬器（鐵器）文化。故答案應選(C)大坌坑文化。

難易度 易

46. 近世臺灣開發以來，逐漸形成「大租戶—小租戶—佃戶」的土地所有與經營結構。某個時期，政府為了解決財政不足的問題，除了清查全臺土地，防止逃漏稅外，更以行政命令，剝奪某個層級地主的土地所有權，而以政府發行的公債以及現金作為補償。如此一來，政府得以向直接經營土地者徵稅，擴大徵稅對象，稅收也得以增加。這次土地所有權的變動最可能是指：
 (A)鄭成功實施屯田制 (B)劉銘傳行減四留六法
 (C)日本取消了大租權 (D)民國政府三七五減租

答案 (C)

命題出處 第一冊第 3 章日本統治時期（第 1 節殖民統治前期的特色）

測驗目標 了解臺灣一田多主土地制度的發展及其廢除的幾個重要階段

解析 (A)鄭成功時期尚未出現一田多主的現象。(B)劉銘傳進行土地改革，想要清丈土地和清理賦課，但是引起地主的反抗，土地仍然掌握在大租戶、小租戶手裡，只好退一步實施「減四留六」的方式。(C)總督府整頓地籍，確立了土地所有權的關係，其以各種公共事業的公債作為補償，迫使大租戶將土地所有權移轉給小租戶，使土地所有權的關係單純化，確立以小租戶成為課徵土地稅的唯一對象。(D)三七五減租並未造成土地所有權的變動，若是考慮耕者有其田的話，政府徵收土地之後，補償地主百分之七十的土地債券，另外百分之三十為公營事業股票，並未發放現金，故不可選(D)，答案應選(C)。

難易度 中偏難

47. 西方商人到中國貿易時，地方政府常藉各種名義收取費用，令商人不勝其擾。在一場戰爭後，中國政府同意各國商品除繳交 5 % 的進口關稅外，不用再繳納任何雜費。從此以後，各國貨物正式繳稅進口，到各處販賣。這場戰爭是：
- (A)鴉片戰爭 (B)英法聯軍 (C)甲午戰爭 (D)八國聯軍

答案 (A)

命題出處 第二冊第 4 章近代的衝擊（晚清）（第 1 節帝國的傾頹）

測驗目標 了解近代中國不平等條約的開始及其重要內容

解析 從題幹可知中國失去了關稅自主權，這是屬於主權的喪失，是不平等條約造成的結果。1843 年的《五口通商章程》中有關「海關稅則」規定：「一般貨物應納稅額，接按值百抽五核計，如欲變更，則須與英人共同協議訂定。」該約可說是 1842 年《南京條約》更細項的規定，是中國關稅自主權喪失的開始，後來其他國家以片面最惠國待遇的不平等條款，也可以享有進口關稅僅收 5 % 的優惠待遇。故應選(A)。

難易度 易

48. 「現代化的關鍵在於發展科技。我們不可能光靠空談變成現代國家，我們國內的科技、教育都比附近國家落後 20 年，我們需要有知識、有訓練的人才，就好像當初的日本。不過他們是靠新興起的資產階級，我們要靠普羅大眾。我相信我們一定會做得比日本好。」這種說法最可能出現於：
- (A) 1890 年代的俄國 (B) 1930 年代的德國
(C) 1950 年代的印度 (D) 1980 年代的中國

答案 (D)

命題出處 第二冊第 6 章共產中國與兩岸關係（第 2 節近期的經濟與社會變革）

測驗目標 了解 1980 年代中國改革開放的時代背景及其內容

解析 (A)俄國從十八世紀開始現代化並往外擴張，成為歐洲列強之一，直到二十世紀初期才開始爆發內部的問題，故十九世紀末的俄國，不會出現「比附近國家落後 20 年」的想法。(B) 1930 年代的德國在希特勒一黨專政的領導下，開始建立歐洲霸權國家，故也不會出現「國內的科技、教育都比附近國家落後 20 年」的狀況。(C)印度於 1947 年獨立，1950 年成立印度共和國，獨立後的印度馬上面臨與巴基斯坦的軍事衝突，且開始發展經濟五年計畫。但是印度政治經濟發展極為緩慢，國內教派衝突頻仍，經濟發展嚴重落後，這種狀態一直持續到 1990 年代。故 1950 年代的印度尚未開始發展科技、教育等事業。(D) 1980 年代的中國，在鄧小平的領導之下開始進行改革開放的政策，當時中國正邁出十年文革的陰影，故有「我們國內的科技、教育都比附近國家落後 20 年」的意

識出現。當時的中國最少落後日本 20 年以上，鄧小平鼓勵興建經濟特區，增加對外開放的城市，並改善進口產業結構、派遣大批留學生前往西方學習科技新知，開始從落後的狀態急起直追，故應選(D)。

難易度 中

49. 某企業於 1972 年在臺灣設廠，並成立研發部門。1992 年以後，陸續在江蘇（1992）、上海（1994）、荷蘭（1996）和四川（2004）設廠。江蘇、上海和四川廠的產品，多在該地銷售或外銷東南亞；荷蘭廠和臺灣廠的產品，多在歐洲銷售。下列哪個概念最足以說明該企業在各地設廠的過程？

(A)工業慣性 (B)區位擴散 (C)區位聚集 (D)空間移轉

答案 (B)

命題出處 第二冊第八章第四級產業區位

測驗目標 能了解重要的地理事實、名詞、概念、原則和理論

解析 題目為臺灣的廠商，在臺灣（工業母國）部分有研發中心和工廠，且臺灣廠與荷蘭廠的產品銷售經濟高度發展的歐洲，屬高階產品；中國廠多銷售中國和東南亞等開發中地區，全球不同市場的布局已大致成形，但母國工業仍未完全離開，只是向其它地區陸續發展，是「區位擴散」的概念。

難易度 中偏難

50. 臺灣曾文溪出海口附近，每年 9 月底有許多黑面琵鷺從北方陸續飛來，在潟湖區過冬覓食，次年 3 月再陸續飛返北方。某同學觀察黑面琵鷺的生態習性，並結合國內、外觀察紀錄，在無電腦製圖工具協助下，欲繪製黑面琵鷺年中遷徙路線圖。下列哪項地理科的學習成就，最有助於該同學完成遷徙路線圖？

(A)了解地圖的坐標系統
(B)認識大比例尺地形圖的圖例
(C)利用等高線判斷各種地形的技能
(D)區分空間資料和屬性資料的差異

答案 (A)

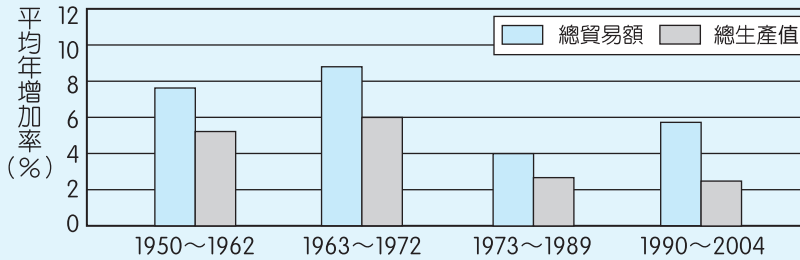
命題出處 第一冊第一單元地圖

測驗目標 能掌握解決問題的程序與步驟

解析 題目提到在無電腦製圖工具協助下，繪製遷徙路線圖，應以傳統製圖的概念為之，與其相關性最高的是了解地圖的坐標系統，才能繪製遷徙路線圖。

難易度 難

51. 圖三是世界貿易組織（WTO）公布的 1950～2004 年間四個時期，全球總貿易額和總生產值的平均年增加率圖。下列何者最能用來解讀圖三所顯示的資訊？



圖三

- (A) 全球分工盛行，使區域間相互依賴增強
- (B) 產品生命週期縮短，導致工業區位移轉
- (C) 工業區老化，引起區域經濟結構再調整
- (D) 新興資本市場興起，跨國社會空間出現

答案 (A)

命題出處 第二冊第九章跨國企業

測驗目標 能運用各種地理資訊分析、展現和解釋地理現象

解析 圖上四個時期的總貿易額和總生產值的年增率差距有增加的趨勢，但總生產值的年增率卻自 1963 年逐年下降。在全球化日趨明顯的情形下，表示各區域間分工愈趨精細，其結果是各區域間的依賴增強。

難易度 難

52、53. 為題組

◎馬利、尼日、查德、塞內加爾和布吉納法索等非洲國家，以經濟作物的出口為主要外匯來源。長期以來，經濟作物出口價格變動不大，但是進口糧食、工業產品卻愈來愈多，價格也節節高漲。為了平衡貿易赤字，這些國家以擴大經濟作物種植面積為主要政策，以致傳統農業土地利用改變。請問：

52. 從五國的環境特性判斷，其創造外匯的主體是下列哪組經濟作物？

- (A) 油棕、可可
- (B) 棉花、花生
- (C) 甘蔗、茶葉
- (D) 橡膠、香蕉

答案 (B)

命題出處 第三冊第十一章非洲

測驗目標 能解釋人類與環境間的相互關係

解析 題幹中五個國家皆為撒赫爾地區，沙漠化問題嚴重，其經濟作物應以灌溉的旱作為主，選棉花和花生。考生若不注意，容易在看到西非洲時即選擇油棕和可可，造成錯答。

難易度 中偏難

類似題 《學測週計畫·地理》第 12 週第 23、39 題

53. 該五國以經濟作物的產品出口創造外匯，利用外匯進口糧食和工業產品的現象，最適合用下列哪個概念解釋？

- (A)物流 (B)三角貿易 (C)空間分工鏈 (D)殖民地式經濟

答案 (D)

命題出處 第三冊第十一章非洲

測驗目標 能運用各種地理資訊分析、展現和解釋地理現象

解析 「經濟作物出口，但利用外匯進口糧食和工業產品」，是典型的殖民地式經濟，因經濟作物栽培，排擠糧食作物的栽培，造成糧食不足，需仰賴進口。選項(B)的三角貿易是指歐洲、西非和美洲間的關係，文中只注重非洲本身的農業和進出口情形，故此選項並不恰當。

難易度 中偏易

類似題 《學測週計畫·地理》第 12 週第 23、39 題

54～56. 為題組

◎表三是 2006 年中國一些經濟指標和原物料消耗占世界的比例。伴隨經濟發展而來的是環境問題嚴重和都市化程度迅速上升。如沙塵暴發生頻率逐年增加，空氣汙染物排放量已居世界前茅，且對全球環境影響日劇。2006 年，把在都市生活半年以上的農村流動人口也歸類為都市人口時，中國都市化程度為 43.9%，但其中至少有 1.2 億人在制度、社會地位及一些生活與文化層面，無法過實質的都市生活。若扣除這部分人口，中國都市化程度可能就只剩 33% 左右。請問：

表三

	項目	占世界 (%)		項目	占世界 (%)
經濟指標	GDP	5.5	原物料消耗	能源	15.0
	出口額	8.0		鋼	30.0
	進口額	6.4		水泥	45.0

54. 中國經濟指標與原物料消耗占世界比例的數據差異，最能反映中國的下列哪項特色？

- (A)人口數量多且分布不均 (B)作為世界工廠色彩濃厚
(C)區域貧富差距相當嚴重 (D)經濟特區發展速度減緩

答案 (B)

命題出處 第四冊第十五章中國的工業

測驗目標 能運用各種地理資訊分析、展現和解釋地理現象

解析 經濟指標代表經濟表現，但原物料消耗卻遠比經濟指標高，表示基礎建設發達，但其產值與其並不相當，題目重點在中國和世界的關係，以數

據呈現，並非探討中國內部的情形，所以是世界工廠的色彩。

難易度 難

55. 中國發生的沙塵暴和排放的空氣汙染物，在下列哪個時段最易影響到臺灣？

- (A) 初春—仲夏 (3～7月) (B) 仲夏—初冬 (7～12月)
(C) 晚秋—初春 (11～3月) (D) 仲冬—初夏 (1～6月)

答案 (C)

命題出處 第四冊第九章臺灣的區域特色與第十章臺灣的區域發展

測驗目標 能整合自然與人文因素，解釋區域特色、區域差異與互動

解析 中國的沙塵暴和空氣汙染物會影響到臺灣主要是在東北季風盛行時造成，以晚秋到初春最可能。本題(C)(D)二個答案較易造成困惑和爭議，因為一般沙塵暴易在春天侵臺，二選項1～3月重疊，所以另一個重點是空氣汙染物，只要北方空氣南下，即易對臺造成影響，以冬季為主的晚秋到初春較恰當。

難易度 難

56. 中國都市化程度雖已達 43.9%，但有許多都市人口仍無法實質享受都市生活帶來的便利，主要受哪項因素的影響？

- (A) 都市階層體系的發展 (B) 推拉因素與供需互補
(C) 都市土地利用的分區 (D) 人口的城鄉分隔制度

答案 (D)

命題出處 第四冊第十二章中國的人口與第十三章中國的都市

測驗目標 能解釋人類與環境間的相互關係

解析 都市化程度指居住都市人口占總人口數的百分率，但和實質過都市生活者相差 10.9%，表示這 10.9%並非真正設籍都市者，此為人口城鄉分隔制度造成的結果。

難易度 中偏易

57、58為題組

◎表四為 2010 年全球六大地區國外旅客到訪人數與觀光外匯收入資料表。請問：
表四

地區	到訪人數		地區	觀光外匯收入	
	百萬人	%		十億美元	%
歐洲	476.6	50.7	歐洲	406.2	44.7
亞太	203.8	21.7	亞太	248.7	27.4
北美洲	98.2	10.4	北美洲	131.2	14.4
中南美洲	51.5	5.5	中南美洲	51.0	5.6
漠南非洲	30.7	3.3	漠南非洲	21.6	2.4
西亞和北非	79.0	8.4	西亞和北非	50.3	5.5
全球	939.8	100.0	全球	909.0	100.0

57. 若要比較各地區國外旅客到訪人數，較適合採用下列哪些統計圖來展示？甲、曲線圖；乙、長條圖；丙、圓餅圖；丁、等值線圖。
(A)甲乙 (B)甲丁 (C)乙丙 (D)丙丁

答案 (C)

命題出處 第一冊第二單元地理資訊

測驗目標 能運用各種地理資訊分析、展現和解釋地理現象

解析 題目為不連續資料，比較時用長條圖，而看比例關係則適用圓餅圖。曲線圖要有時間連續性的資料比較較佳，等值線圖用在表現空間連續的資料。

難易度 中偏易

58. 從表四判斷，觀光遊憩業最發達的地區主要集中在下列哪兩種氣候區內？
(A)溫帶季風氣候區、溫帶草原氣候區
(B)熱帶雨林氣候區、熱帶莽原氣候區
(C)熱帶季風氣候區、熱帶沙漠氣候區
(D)溫帶海洋性氣候區、溫帶地中海型氣候區

答案 (D)

命題出處 第一冊第十一章地表風系與氣候分類

測驗目標 能分析地理現象的空間特性

解析 表中到訪人數和觀光外匯收入都是歐洲最高，表示觀光業最發達的地方是在歐洲，西北歐為溫帶海洋性氣候區，南歐為溫帶地中海型氣候區。

難易度 易

59、60. 為題組

◎表五是臺灣四個國家風景區到訪遊客人數及其季節分配資料表。請問：

表五

國家風景區		冬 (12~2月)	春 (3~5月)	夏 (6~8月)	秋 (9~11月)	合計
甲	人數	48813	475063	985656	240808	1750340
	%	2.79	27.14	56.31	13.76	100.00
乙	人數	3485	10765	23607	16151	54008
	%	6.45	19.93	43.71	29.90	100.00
丙	人數	2347455	2817534	2396048	1579340	9140377
	%	25.68	30.83	26.21	17.28	100.00
丁	人數	382736	337170	295243	302571	1317720
	%	29.05	25.59	22.41	22.96	100.00

59. 若將「觀光遊憩業商圈」定義為「遊憩資源的遊客來源範圍」，則表五中哪個國家風景區的商圈可能最大？

- (A)甲 (B)乙 (C)丙 (D)丁

答案 (C)

命題出處 第二冊第六章遊憩活動與旅遊業（第三級產業）

測驗目標 能運用各種地理資訊分析、展現和解釋地理現象

解析 以中地的觀點，愈高等級的中地，其服務的人數最多，商品圈也最大。到訪遊客人數最多的表示在遊憩業中為最高等級的中地，其旅客來源的範圍可能最廣。

根據觀光局的資料，甲為澎湖；乙為馬祖；丙為日月潭；丁為西拉雅風景區。

難易度 易

60. 哪兩個國家風景區最可能位於離島地區？

- (A)甲乙 (B)甲丁 (C)乙丙 (D)丙丁

答案 (A)

命題出處 第四冊第九章臺灣的區域特色與第十章臺灣的區域發展

測驗目標 能整合自然與人文因素，解釋區域特色、區域差異與互動

解析 臺灣位居熱帶季風氣候和副熱帶季風氣候區，冬季東北季風盛行時，離島交通不易，因此離島地區的觀光業以夏季為主，冬夏的遊客人數差異懸殊，甲冬季到訪遊客占 2.79%，乙占 6.45%，都是冬季遊客偏少的離島地區。

難易度 易

61~63.為題組

◎中南美洲地形相當多樣，大致可以分為平原、山地、盆地、高原等地形區。有些地區地質古老，有些地區火山活動頻繁，金屬礦物資源豐富。牧業發達，農業以栽培經濟作物為主，種類繁多。大部分國家都市化程度很高，但首要型的都市體系型態顯著。請問：

61. 該大洲的金屬礦物資源，主要分布在哪兩種地形區？

- (A)平原、山地 (B)山地、高原 (C)盆地、高原 (D)平原、盆地

答案 (B)

命題出處 第三冊第十三章中南美洲（一）與第十四章中南美洲（二）

測驗目標 能分析地理現象的空間特性

解析 金屬礦產主要在古老的結晶岩和侵入式火成岩地區，南美地區的金屬礦主要在巴西高原和安地斯山區，此二者的地形是山地和高原。

難易度 易

類似題 《學測週計畫·地理》第12週第13、14、15題

62. 該大洲某地區的主要經濟作物有葡萄、柑橘、橄欖、無花果等。該地區最可能位於哪個國家？

- (A)智利 (B)烏拉圭 (C)墨西哥 (D)玻利維亞

答案 (A)

命題出處 第三冊第十三章中南美洲（一）與第十四章中南美洲（二）

測驗目標 能分析地理現象的空間特性

解析 葡萄、柑橘、橄欖、無花果等作物，都是地中海型氣候區的典型作物，南美的地中海型氣候區分布在西岸南緯30度到40間，在智利中部。

難易度 易

類似題 《學測週計畫·地理》第12週第13、14、15題

63. 「大部分國家都市化程度很高，但首要型的都市體系型態顯著。」這種現象與下列該大洲哪項區域特色的關聯性最密切？

- (A)高地都市眾多 (B)貧富不均顯著 (C)區域結盟緊密 (D)多元文化熔爐

答案 (B)

命題出處 第三冊第十三章中南美洲（一）與第十四章中南美洲（二）

測驗目標 能分析形塑地表景觀的自然與人文作用因素及其交互關係

解析 中南美的都市化程度高，主要是因為殖民的影響，土地被少數人掌控，致使農人在鄉村謀生不易。鄉村推力太大，使大量鄉村地區居民移往大都市，因為貧富不均，區域發展不均，也因此容易形成首要型的都市分

布型態。


難易度 中偏易

類似題 《學測週計畫·地理》第12週第13、14、15題

64～66為題組

◎圖四是某同學在進行「鄉土地理專題研究」時，使用網路地理資訊系統製作的交通路線圖。請問：

64. GIS 的空間資料模式可分為向量式和網格式，圖四的圖形原始資料中，何者屬於網格式資料？
- (A)比例尺
(B)經緯線
(C)衛星影像
(D)道路系統



圖四

答案 (C)

命題出處 第一冊第五章地理資訊系統

測驗目標 能了解重要的地理事實、名詞、概念、原則和理論

解析 GIS 的空間資料儲存方式可分為向量式和網格式二大類，向量式資料以明確的地理位置坐標的點線面（面的界線）為主，而連續漸進式的資料，如地形、溫度等，適合用網格式資料。選項中的(A)(B)(D)三項都有明確的位置，而(C)衛星影像則是整體呈現地貌，屬網格式資料。

難易度 中偏易

類似題 《學測週計畫·地理》第1週第24題

65. 圖四所在地區僅就其氣候類型而言，最宜規畫發展下列哪種商業性農業活動？

- (A)放牧業
(B)混合農業
(C)熱帶栽培業
(D)商業性穀物農業

答案 (C)

命題出處 第二冊第二章第一級產業的變遷及問題

測驗目標 能分析形塑地表景觀的自然與人文作用因素及其交互關係

解析 以經緯度判斷，該圖上方為東方，在東經 120 度半，北緯 22 度半附近，屬於熱帶季風氣候區，選項中只有熱帶栽培業適合，其它均為溫帶地區的農業方式。

難易度 中偏易


66. 圖五是四個地區的數值立體地形圖。何者最能展示圖四的地形實況？

(A)甲

(B)乙

(C)丙

(D)丁



圖五

答案 (C)

命題出處 第一冊第三章地形的展示及判讀

測驗目標 能運用各種地理資訊分析、展現和解釋地理現象

解析 圖四的上半部是山地，下半部是平原，只有丙較適合。甲的四周有高山，中間為平地，為一盆地；乙的河川獨流，較像西部的台地邊緣；丁在中央的河流兩側有高山，為峽谷地形。

難易度 難

67.~69.為題組

◎聯合國歷年發布的「人類發展程度指標 (HDI)」，是用來衡量各國的發展水準。表六是四個國家 2010 年人口密度、HDI 及一些社會指標資料。請問：

表六

國家	人口密度 (人/km ²)	HDI	平均壽命	性別比	國民平均 就學年數	老年人口比例 (%)
甲	403	0.385	51.1	96.4	3.3	2.98
乙	126	0.385	54.6	100.1	4.3	3.41
丙	111	0.719	76.9	100.3	10.4	11.04
丁	8	0.719	67.2	86.1	8.8	15.26

67. 表中哪兩個國家的都市化程度較低？

- (A)甲乙 (B)甲丁 (C)乙丙 (D)丙丁

答案 (A)

命題出處 第三冊第一章世界的劃分

測驗目標 能運用各種地理資訊分析、展現和解釋地理現象

解析 一般而言，人類發展程度指標 (HDI) 較低者，都市化程度較低；HDI 較高者都市化程度較高。表中的 HDI 以甲乙二者較低，表示都市化程度低，選(A)。

根據聯合國 2010 年的資料，甲為盧安達；乙為馬拉威；丙為阿爾巴尼亞；丁為俄羅斯。

難易度 中偏易

68. 就人口轉型過程的四個階段而言，表中哪兩個國家最可能已經進入「低穩定階段」？

- (A)甲乙 (B)甲丁 (C)乙丙 (D)丙丁

答案 (D)

命題出處 第二冊第十章人口成長與人口轉型

測驗目標 能運用各種地理資訊分析、展現和解釋地理現象

解析 人口轉型模式中，從早期到晚期分別是高穩定、早期擴張、晚期擴張、低穩定等階段，在愈後面的階段，發展程度愈好，丙丁二者的 HDI 較甲乙高，表示其位在人口轉型模式較後段的階段。

難易度 中偏易

69. 表中四個國家的平均每人國民生產毛額，若按 HDI 的概念來推估，則從高到低的排列順序為何？

- (A)甲丁丙乙 (B)乙丁甲丙 (C)丙丁甲乙 (D)丁丙甲乙

答案 (D)

命題出處 第三冊第一章世界的劃分

測驗目標 能歸納與處理地理資料

解析 $HDI = (\text{預期壽命指數} + \text{教育指數} + \text{生產毛額指數}) / 3$ ，一般 HDI 有顯著差距者，以 HDI 高者，其平均每人國民生產毛額較高。題目中出現平均壽命和平均就學年數，但問的是平均每人國民生產毛額，所以 HDI 相同的國家，平均壽命和平均就學年數較低者，其平均每人國民生產毛額高，所以平均每人國民生產毛額丁比丙高，甲比乙高，排序為丁丙甲乙。

難易度 難

70.~72.為題組

◎照片一是臺灣公路系統上的四個路標。請問：



照片一

70. 就臺灣公路系統編號慣例，單數表示公路起迄點的相對位置為南北向。四個路標所顯示的四條南北向公路路線，其中哪一條最可能位於中央山脈與海岸山脈之間？

- (A)臺 1 線 (B)臺 3 線 (C)臺 9 線 (D)臺 61 線

答案 (C)

命題出處 第四冊第九章臺灣的區域特色與第十章臺灣的區域發展問題

測驗目標 能運用各種地理資訊分析、展現和解釋地理現象

解析 根據照片上的地名顯示，甲距臺南 26 公里，距橋頭 3 公里，應為高雄市；乙距鳳林較近，且鳳林在花蓮南方，應在花蓮縣光復鄉；丙在臺 3

線上，距霧峰 3 公里，南投 19 公里，應為距霧峰較近的臺中市；丁距新豐較近，距新竹較遠，而新豐鄉在新竹縣最北方，所以丁應在桃園縣。在中央山脈和海岸山脈間的是花蓮和臺東，選(C)。

各地點如下：

甲：臺 1 線北上 370.5 公里處，在臺 1 線（高楠公路）剛過華中街口，google 定位約為（22.712562，120.325645），行政區屬高雄市楠梓區。

乙：臺 9 線北上 250 公里處，在臺 9 線（中興路）剛過光復路口，google 定位約為（23.669522，121.422679），行政區屬花蓮縣光復鄉。

丙：臺 3 線南下 190 公里處，在臺 3 線（國光路二段）近大里路口，google 定位約為（24.101021，120.682221），行政區屬臺中市大里區。

丁：臺 61 線西濱公路南下 54.5 公里，過 114 縣道（中山路三段）約 100 公尺處，google 定位約為（24.98671，121.020187），行政區屬桃園縣新屋鄉。

難易度 中偏難

71. 就臺灣四大區域而言，哪個「路標座落的地點」所屬區域是臺灣最重要的蔬菜和花卉等農產品供應地？

- (A)甲 (B)乙 (C)丙 (D)丁

答案 (C)

命題出處 第四冊第九章臺灣的區域特色與第十章臺灣的區域發展

測驗目標 能分析地理現象的空間特性

解析 以區域專業化而言，臺灣中部地區是最重要的蔬菜和花卉供應地，應選中部的丙。

難易度 中偏易

72. 這四個「路標座落的地點」，由低緯往高緯的排列順序為何？

- (A)甲乙丙丁 (B)甲丙丁乙 (C)乙甲丙丁 (D)丁丙乙甲

答案 (A)

命題出處 第四冊第九章臺灣的區域特色與第十章臺灣的區域發展

測驗目標 能分析地理現象的空間特性

解析 由低緯往高緯即為自南向北，北回歸線經過嘉義和花蓮，所以最南的是高雄，再來是花蓮，再來是臺中市，最後為桃園縣。

難易度 中偏難