

翰林

105學測 精彩解析



$f(x)$

亮言：先
創業未半，而
中道崩殂。今
天下三分，益
州疲弊，此誠
存亡之秋也。



社會考科

公民與社會：名師·陳金榜 老師
臺南一中·廖翠雲 老師
歷史：蘭陽女中·汪栢年 老師
名師·郭子儀 老師
地理：名師·峻堯 老師
萬芳高中·周岳虹 老師

【試題·答案】依據大考中心公布內容

發行人 / 陳炳亨

總召集 / 周耀琨

總編輯 / 蔣海燕

主編 / 江欣穎

校對 / 高中社會領域編輯

美編 / 黃素美·蘇昭禎

◎ 本書內容同步刊載於翰林我的網

出版 / 民國一〇五年二月

發行所 / 70248 臺南市新樂路 76 號

編輯部 / 70252 臺南市新忠路 8-1 號

電話 / (06) 2619621 #314

E-mail / periodical@hanlin.com.tw

翰林我的網 <http://www.worldone.com.tw>

NO.00847



Z X C V



前言

整體而言，今年的公民與社會科試題難易度仍屬中等程度，部分題目感覺似曾相識，應是如大考中心在 99 年所表示的一樣，會建立題庫以維持題目的穩定度，從這幾年來的大考題目應可見端倪。依各冊的特色而言，社會學仍維持結合社會統計數字，只要能分析其意涵，題目算是相當簡單。政治學則呼應今年剛舉行的總統與立委大選，與 104 學測結合九合一選舉類似，都是串聯時事，題目不難。法律學與經濟學一般是同學較擔憂的部分，此兩冊都著重觀念的理解大於死背，今年若要說有難度的題目應屬此兩冊，部分題目需要正確的基礎觀念，並且須讀懂選項敘述，加以冷靜判斷才能正確解題。整個公民與社會科的命題方向仍維持「時事性」與「生活化」。隨著時間的累積，公民與社會學科的學測試題已算是趨於穩定，未來考生依舊可從課綱的內容與 101 年以後的歷屆學測試題，做為應考與模擬練習的準備方向。

公民與社會科在整個「社會考科」考題中占 24 題，今年各冊題目分布稍稍與往年平均分布（各冊皆為 6 題）不同，第一冊社會學與第三冊法律學單元皆為 6 題，但第二冊政治學則為 5 題，第四冊經濟學則達到 7 題。見下表所示：

冊別	題號	考題概念	各冊統計
第一冊	1	學生人權（對結社權的非法限制）	6 題
	2	性別議題（《民法》的自由處分金）	
	3	文化議題（文化不平等影響媒體觀點）	
	4	志願結社（公民社會的參與）	
	a	公共利益（私益與公益的包容互補）	
	d	人權發展	
第二冊	5	選舉制度（我國立法委員的選舉制度）	5 題
	6	我國的地方制度（區與鄉的差異）	
	7	憲政體制（我國修憲的程序）	
	8	兩岸關係	
	f	民主政治（〈獨立宣言〉中的民主概念）	

第三冊	g	司法人權	6 題
	O	民法婚姻（結婚的實質要件）	
	q	行政訴訟的程序	
	w	刑事訴訟（檢察官的職權）	
	e	紛爭解決	
	s	法律原則（行政法基本原則）	
第四冊	r	市場機能（供需法則）	7 題
	t	政府財政收支	
	y	共有財產	
	u	比較利益、機會成本	
	i	市場機能（政府干預、價格管制）	
	o	公平與效率	
	p	永續發展	



第一冊社會學

1 熱門考題

今年的學生人權、性別平等議題、我族中心主義、公共利益與志願結社都是過去幾年經常出現的題目。社會學題目歷年來常會搭配統計圖表，今年也不例外，第2題就以某國婦女「沒有可自由使用之零用錢」的調查數據，讓考生解讀各項數據，判斷該國婦女即使有收入，也未能確保女性擁有完全經濟自主。整體而言，社會學的題目平易近人，且前四題就有兩題圖表題，這也是社會學題目的特色之一。

2 考題分析

每年幾乎都會出現的性別平等議題，今年仍不例外，一題以圖表方式出現，在考婦女與經濟自主權的關聯性；另一題則是考學生在校的相關基本權利，從這幾年的考題來看，性別或同志議題的重要性在未來仍不容小覷。至於也是考題常客的媒體識讀題型，今年與文化結合，考媒體報導背後涉及的我族中心主義，算是簡單且屬基本概念的題型。此外，第4題則是多次出現的民眾參與社會團體的考題，以比較我國、日本和韓國民眾參加不同社會團體之比例，來讓學生判讀表格中各項數據的意涵，答案是「相對於政治團體，三國民眾皆較樂意於參與社會服務團體」。另外，在題組中也有搭配第一冊的題目，其中第a題以「農產品產銷履歷制度」考公益與私益關係中的「古典自由主義」。第d題則是近來較少見的類歷史的題目，考西方人權的發展歷程，此題可經由文意加以判讀，具有測驗學生閱讀理解能力的意味。

3 未來趨勢

第一冊的重點在未來學測中仍應集中在「自我形成的相關理論」、「性別平等」、「人權議題」、「志願結社」、「媒體識讀」、「社會運動（含公民不服從）」、「公共利益與私人利益」、「全球化議題」及「多元文化（含文化位階與我族中心主義等概念）」的相關議題上。



三 第二冊政治學

1 熱門考題

104 學測考臺灣的九合一選舉，今年則有熱門的總統、立委大選（雖然在大選前題目早已命好，但熱門度不變），因此第5題結合時事考我國的立委選舉制度。此外，還有第6題我國的地方制度、第7題降低投票年齡涉及的憲政制度，以及第8題兩岸關係等，都屬政治學內容的重要基本題。

2 考題分析

第5題以立委選舉的政黨票與區域立委選票考我國選舉制度的特色；第6題則是繼100年學測五都議題之後（臺北、新北、臺中、臺南與高雄市，後來又增加桃園市為六都），再次出現地方制度的考題，測驗學生對地方制度與地方自治的基本概念，只要能掌握直轄市與傳統省轄市下轄的區域（區或鄉）之差異，應是不難的題目。另外，去年熱門的時事「降低投票年齡至18歲」的議題也成為考題，主要是在考學生對此一做法涉及的憲政體制（修憲程序）。至於今年第8題的兩岸關係，不是考兩岸領導人對臺或對大陸政策之比較的記憶類型題目，而是與前幾年較熱門的ECFA有關的題目，算是與時事有關聯但不算難的題目，只要同學記得兩岸曾經簽署過ECFA，就可把有誘答性的選項先刪除，而選出正確答案。而搭配題組出題的第f題，則是考1776年美國的〈獨立宣言〉中所涉及的民主政治思想與其所包含的民主政治之概念。

3 未來趨勢

第二冊未來在準備方向上仍要留意的是「國家的目的與統治的正當性」、「政府體制」、「審議式民主理論」、「責任政治」、「我國憲政體制」、「地方制度」「政黨體制」與「選舉制度」（通常是以選舉結果搭配成題組題，計算席次與該國的政府或政黨體制）等單元、「兩岸關係」（特別是新總統上任之後對中國大陸政策及其重要發言）。



四 第三冊法律學

1 熱門考題

今年第三冊法律學內容的命題方式主要偏重在考法律的基本內涵，不像前兩年是著重在考法律學的基本原則。整體而言，《憲法》、《民法》、《刑法》、行政法以及訴訟法（含民事、刑事、行政訴訟）都有題目出現。此次要說熱門考題應屬第e題「食安問題」涉及的訴訟與民事求償制度。至於第9題《憲法》或《刑事訴訟法》對人權的保障、第q

題的訴願與行政訴訟以及第w題檢察官的職權等，都屬常見的基本題型，只要同學能掌握第三冊法律學的重要基本概念，應可正確作答。

2 考題分析

此次第三冊法律學的題目包含刑事訴訟中對被告人權的保障與基本概念（第9題）、《民法·親屬編》的結婚實質要件（第o題，本題對同學而言應是較難的）、權利救濟中的行政訴訟基本原則（第q題）、刑事訴訟制度中檢察官的職權（第w題）、食安問題涉及的私法救濟制度（第e題）、行政法基本原則（第s題）等。除第o題是課堂上較不會討論到的鄉土劇劇情外，其餘幾乎都屬概念式的題目，應是同學在學校段考、模擬考或做歷屆學測試題時常見的題目。

3 未來趨勢

未來考生要留意的第三冊重點主要還是「釋憲制度」、「憲法保障的基本人權與自由權的限制」、「正當行政程序」、「行政法」、「民法」與「刑法」的基本原則與內涵、刑事訴訟的基本概念（如對被告人權的保障、法官與檢察官的職權）以及「權利救濟」等。

五 第四冊經濟學

1 熱門考題

比較利益與機會成本、市場機能、政府財政收支、外部性中的共有財悲歌、永續發展，都算是中規中矩的題目，104學測完全沒有題目出現的市場機能（供需法則），今年則出現2題，另有一題（第o題）是以公平與效率的題型出現，應屬第6章公共財中「政府效能」的內容。

2 考題分析

今年第四冊經濟學部分題目著重在概念。例如第r題以經濟學者對原油可能耗盡的能源危機表達之看法出題，此依據經濟學的「供需法則」就是市場機能可以解決，只要價格變高消費者就會少買，價格低消費者就會多買，因此原油減少，油價就會高漲，進而影響消費者的購買意願（需求量減少）。第t題則是考政府收支之判斷，除正確答案外其餘選項都屬前後矛盾的敘述，因此不難作答。第y題則考抽取「地下水」的問題，因為地下水的財產權不明確，因此容易形成共有財的悲歌，也屬基本概念題。而第u題以「臺灣曾經是鞋子王國，現在則是資訊產品王國」考機會成本與比較利益的概念，選項敘述看似拗口，但只要掌握「生產具有比較利益的产品再出口」就不容易被搞混，因此現在生產的資訊產品具有「比較利益」（代表機會成本降低），但過去生產的鞋子已經不具比較利益了（代表機會成本提高）。第i題與o題同屬題組題，主要測驗考生對政府介入醫療市場的價格管制會產生經濟福祉的損失，以及「效率」以外政府必須考慮的「公平」問題，這幾題其實都涉及市場機能的內容。第p～s題則是考「農產品產銷履歷制度」的題組題，包含了永續發展、公益與私益問題（雖屬第一冊公共利益的範圍，但考的是亞當斯密古典自由主義的主張）。

3 未來趨勢

以教學經驗而言，課本外部成本與外部利益所提到的社會福祉減損的圖型常是考生最大的夢魘，但其實至目前為止尚未出現外部性圖形的考題，主要仍是以外部性的概念出題為主，考生不須過度焦慮。第四冊經濟學未來要注意的重點題型包括：「機會成本與生產可能線」、「市場機能（供需法則）」、「經濟全球化的問題」、「自由貿易（含WTO）」、「經濟發展要素」、「GDP 計算與缺失」、「外部性」（如外部成本或外部效益的基本定義、外部性問題的解決等）、「公共財與政府收支」、「市場失靈」、「政府效能與政府失靈」等。

歷史

蘭陽女中 ◀ 汪栢年 老師



一 試題分布

105 學測試題的配置（見表一）將以往把歷史試題編在g ~* 題的排法做一更動：g ~S 題為 20 題歷史單選題，另將G、H題、J、K題、L、: 題、Z、X題等四組題組題設計成歷史與地理的跨學科試題。因此，105 學測試題的題型仍是與往年相同的單選題與題組題。但是，跨學科的題組題命題成為今年學測社會科試題的創舉。

就試題分布而言，第二冊 9 題題數最多，第三冊僅有 4 題，是命題數量最少的一冊（見表二）。105 學測歷史試題與 104 學測歷史試題相同，命題偏重第二冊中國史（見表三）。最近兩年的學測試題，中國史的題數皆超過平均題數，代表中國史不僅上課內容繁多，也是命題的焦點。但在高一歷史僅每週兩堂課的情況下，歷史老師往往無法好好地將一個觀念交代清楚，就要在趕課的壓力下儘快將課本的重點向學生交代完畢，學生在面對中國史的試題時，若不知道事件的來龍去脈，將無法選出正確的答案。例如第z 題：

清朝末年，一位外交官員前往某國參觀該國閱兵，回北京後報告：這個國家改變制度，「擇（他國）長（處）為師，悉命人譯。飛砲霹靂，軍容強盛。有輕氣球，凌風千尺。」他有感而發，希望兩國能和平相處，「玉帛相見，互相輔弼」。這位外交官員參訪的國家最可能是：

A 德國

B 日本

C 英國

D 土耳其

若歷史老師因為上課時數不夠，通常沒辦法在上課時交代清廷派官員赴日本考察、日本明治維新的重要改革內容、清日兩國的互動關係等概念，學生若無法把明治維新與清朝的改革運動進行概念整合的話，就可能無法得出正確答案（日本）了。

表一 105 學測歷史科試題分布

題目	冊次	主題	題型	性質
25	第二冊	外力的衝擊與清朝的因應：英法聯軍	史料分析	軍事
26	第三冊	十字軍東征及其帶來東、西方文明的接觸與影響	歷史理解	經濟

27	第一冊	抗清事件：林爽文事件	史料分析	軍事
28	第二冊	晚清之外患頻仍：中法戰爭	歷史理解	軍事
29	第四冊	法國大革命與拿破崙帝國的興亡	歷史理解	政治
30	第四冊	第二次世界大戰的戰後經濟	歷史理解	經濟
31	第二冊	自強、變法與立憲	史料分析	政治
32	第二冊	鄭和下西洋	歷史理解	政治
33	第三冊	大航海時代與菸草的流行	歷史理解	經濟
34	第一冊	政府退出聯合國的過程	歷史理解	政治
35	第四冊	日本的鎖國與開國	時序觀念	社會
36	第三冊	早期伊斯蘭帝國的擴張	時序觀念	政治
37	第四冊	第一次大戰前後婦女的社會地位	史料分析	社會
38	第一冊	日本在臺灣的農業政策	歷史解釋	經濟
39	第一冊	我國政府與美國斷交的過程	歷史理解	政治
40	第二冊	漢武帝的經濟政策	歷史理解	經濟
41	第二冊	鮮卑的漢化政策及其影響	歷史理解	政治
42	第二冊	科舉與士紳階級的形成與影響	歷史理解	政治
43	第二冊	三省六部制度的內容	歷史理解	政治
44	第一冊	1930 年代的「工業臺灣、農業南洋」	歷史理解	經濟
65	第三冊	促成地理大發現的原因	歷史理解	經濟
67	第二冊	唐、宋、元、明的海外貿易制度	歷史理解	經濟
69	第四冊	新帝國主義在東南亞的殖民	歷史理解	經濟
71	第四冊	英國在印度的殖民	歷史理解	社會

表二 105 學測的冊別分析

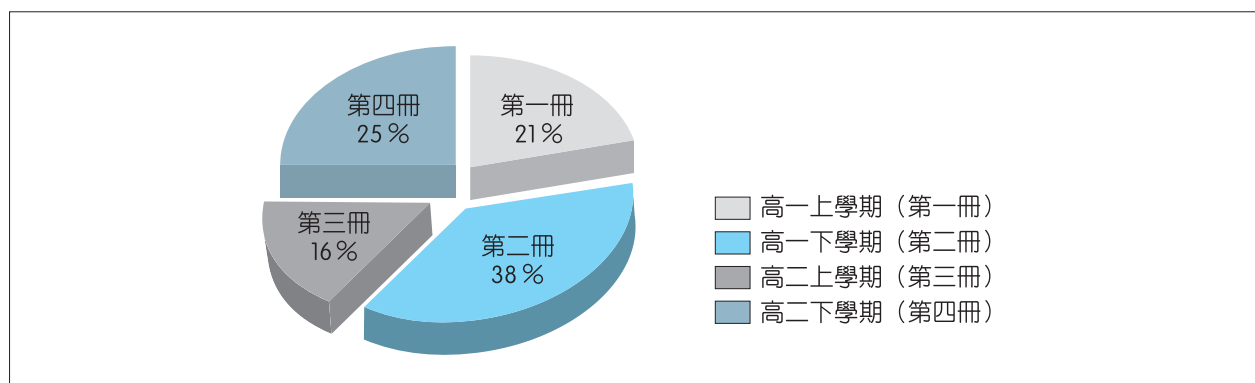
冊別	題目	題數	比例
第一冊	27、34、38、39、44	5	21 %
第二冊	25、28、31、32、40、41、42、43、67	9	38 %
第三冊	26、33、36、65	4	16 %
第四冊	29、30、35、37、69、71	6	25 %

表三 104 學測的冊別分析

冊別	題目	題數	比例
第一冊	25、28、36、43、45	5	21 %
第二冊	26、27、33、35、37、38、41、44、48	9	38 %
第三冊	29、31、32、39、40、42	6	25 %
第四冊	30、34、46、47	4	16 %

高中學生在高一學習的臺灣史與中國史，總命題數為 14 題，約占 59 %；高二學習的中國近現代史與西洋史，總命題數為 10 題，約占 41 %（見表四）。和去年學測的分布狀況相同，今年的試題仍偏重在高一。意味學生在高一一定要奠定學習歷史的興趣，尤其是中國史。根據 105 學測的冊別分析可知，各階段歷史的重要性依次為：中國史（上古至晚清）→世界近現代史→臺灣史→（世界上古史+中國近現代史）。

表四 105 學測各冊題數分布



104 學測在中國近現代史的「五、中華民國的建立與發展」、「六、當代中國與臺海兩岸關係」兩單元僅考一題。然而，105 學測卻連一題都沒有（見表五）。高二上學期有八週的時間是在上中國近現代史的第五、六單元，這兩單元與第一冊臺灣史、第二冊中國史有「承先啟後」、「前呼後應」的關係。況且，老師花了一個半月的時間進行教學，學生也積極準備考試，近兩年來的學測卻僅出現一題，呈現教學現場與考試測驗無法配合的情形。

表五 第三冊單元比重分析

單元	題目	題數	比例
中華民國的建立與發展	無	0	0
當代中國與臺海兩岸關係	無	0	0
文明的興起與交會	26、36	2	50 %
近代世界的轉變	33、65	2	50 %

104 學測的第一冊著重第一單元「早期臺灣」（占第一冊 40 %），但是，今年剛好相反，連一題都沒有（見表六）。反而是「清朝統治時期」、「日本統治時期」、「中華民國時期：當代臺灣」都有出題。可見，臺灣史四個單元都不可掉以輕心，必須等同看待。

表六 第一冊單元比重分析

單元	題目	題數	比例
早期臺灣	無	0	0
清朝統治時期	27	1	20 %
日本統治時期	38、44	2	40 %
中華民國時期：當代臺灣	34、39	2	40 %

與 104 學測相同的是，第二冊第一單元的「先秦時代」完全沒考（見表七）。而第二單元「秦漢至隋唐」占了 4 題，去年則是「宋、元、明與盛清」考了 5 題。「秦漢至隋唐」的命題數和第三冊的 4 題一樣，甚至占 105 學測總題數的 16.6 %，可說是本次試題的焦點之一。

表七 第二冊單元比重分析

單元	題目	題數	比例
先秦時代	無	0	0
秦漢至隋唐	40、41、43、67	4	45 %
宋、元、明與盛清	32、42	2	22 %
晚清之變局	25、28、31	3	33 %

104 學測的第四冊試題僅有 4 題，且「歐美國家的變革」沒有題目，但 105 學測則各單元皆有試題（見表八）。與去年相同，第四冊的命題焦點為「世界霸權的爭奪與衝突」。此單元共有 4 題，在整份試卷中與「秦漢至隋唐」題數相同。今年學測，若同學能掌握「秦漢至隋唐」、「世界霸權的爭奪與衝突」這兩單元的試題，就可拿到歷史 48 分中的 16 分了。

表八 第四冊單元比重分析

單元	題目	題數	比例
歐美國家的變革	29	1	17 %
世界霸權的爭奪與衝突	35、37、69、71	4	66 %
從對立到多元世界	30	1	17 %

二 試題內容及題型分析

將 105 學測的內容分成政治、經濟、社會、軍事等四大類，可以看出政治題與經濟題的比例最高（見表九），各占總題數的 38%，兩者合占總題數的 76%。可知，105 學測歷史試題偏重政治、經濟等制度層面，缺乏思想、宗教等精神文化的試題。就重要性而言，依序為：政治、經濟→軍事、社會。

表九 題幹內容性質分析

性質	題目	題數	比例
政治	29、31、32、34、36、39、41、42、43	9	38%
軍事	25、27、28	3	12%
經濟	26、30、33、38、40、44、65、67、69	9	38%
社會	35、37、71	3	12%

104 學測重視「歷史理解」與「歷史解釋」等兩類題型（見表十）。然而，105 學測的「歷史解釋」題僅有一題（見表十一），「歷史理解」題卻從 12 題增至 17 題。一般而言，「歷史解釋」題的難度會高於「歷史理解」題。105 學測的「歷史理解」題所占比例高達 71%，可見今年學測考題的難度不會比去年難。考生在面對「歷史理解」題時，只要融會貫通相關的歷史概念，即可獲得正確答案；光靠死背，不能保證能夠拿到高分。

表十 104 學測歷史試題題型分析

題型	題目	題數	比例
歷史理解	26、27、31、35、36、39、40、41、43、46、47、48	12	50%
歷史解釋	25、28、29、30、33、34、44	7	29%
史料分析	32、37、45	3	13%
時序觀念	38、42	2	8%

表十一 105 學測歷史試題題型分析

題型	題目	題數	比例
歷史理解	26、28、29、30、32、33、34、39、40、41、42、43、44、65、67、69、71	17	71%
歷史解釋	38	1	4%
史料分析	25、27、31、37	4	17%
時序觀念	35、36	2	8%

令人耳目一新的「跨學科題組題」

與去年學測相同，今年並未出現令人期待已久的「閱讀題型」。然而，卻在地理試題出現了融入地理概念的「跨學科題組題」。這是否意味與 PISA 試題有異曲同工之妙的「閱讀題型」已被「跨學科題組題」的新題型取代了呢？

筆者認為，「閱讀題型」仍是大考中心研發試題的目標，但是，在真正的「閱讀題型」出現之前，摘引自一手史料或二、三手史料的「史料分析」雖然題數不多，但在 105 學測試題中仍占有一定的重要性。因為整份試題以「歷史理解」題占大多數，故這四題具鑑別度的「史料分析」題將成為是否拿高分的關鍵題。

「跨學科題組題」雖然是今年學測的創新題型，但實際上，「跨學科題組題」的第一小題問的是歷史，第二小題問的是地理。歷史、地理題目雖在同一個題組題中出現，但對解題不會造成任何困擾，仍可分別利用歷史、地理知識解題。

除了「跨學科題組題」外，105 學測歷史試題仍有下列特色：

- 1 各冊重要性依次為：中國史（上古至晚清）→世界近現代史→臺灣史→（世界上古史＋中國近現代史）。
- 2 命題焦點為第二冊「秦漢至隋唐」、第四冊「世界霸權的爭奪與衝突」兩單元。
- 3 偏重政治、經濟等制度層面，缺乏思想、宗教等精神文化的試題。
- 4 考生必須要融會貫通相關的歷史概念，才可獲得正確答案。

地 理

名 師  峻堯老師

前 言

就 105 年度學科能力測驗科目的施測，可算是 99 課綱正式實行以來漸趨成熟的時間點，在經歷幾年下來，針對 99 課綱命題與觀念的掌握原則，經過半年以上的準備，對應屆高三的學生們於應試時多半有參考依循來作答。但是筆者仔細檢視今年的題目卻發現：本次試題在命題規則與單元取捨的面向上，卻有別於以往，對於穩扎穩打、循規蹈矩的學生來說，似乎會比較無所適從。這是由於今年命題方向對照以往有較大幅度的差異；還有在呼應 99 課綱的命題單元內容比重上，與往昔概念性的命題方向相似度較低，試題內容似乎也圍繞著「氣候、洋流、殖民特性」的小部分單元居多，較無全面性。

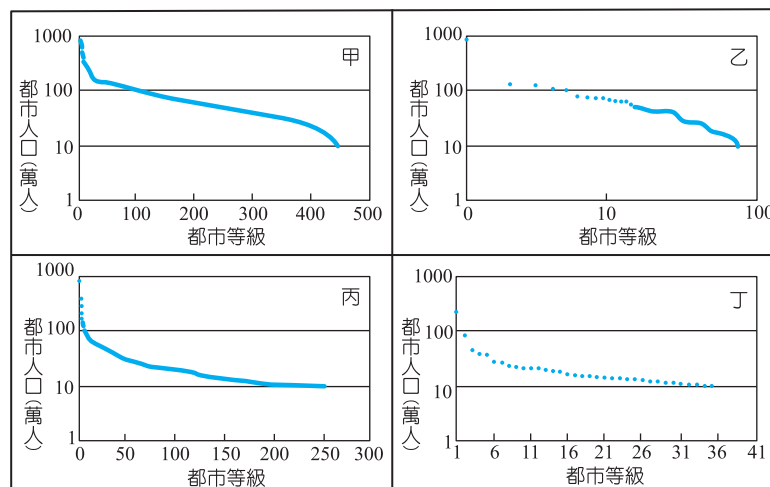
雖然對照過往歷屆的命題趨勢部分比較抓不到規則，但就整體而言，本次試題設計難度也屬居於中間值程度，同時也並不是太偏頗艱澀到完全無法回答。以下為筆者針對本次學測地理科的試題特色加以說明：

試題特色與評析

關於今年試題特色，個人先針對於整體特色大致說明後，其次再對照 99 課綱將各小題命題特性以表格整理呈現如後。

首先有別於既往的學測科目分項的命題方式，今年的學測在社會科試題方面有著相當大的突破：即是結合歷史與地理單元整合跨科目的命題方式。依循前例，其實學測這樣的命題方式早已不是第一次出現了。會這樣說的原因是筆者檢視近十年來的學測考題，有觀察到在 95 學年度學測時，於地理部分「都市階層」單元命題設計時就曾出現過，當時題目如下所示：

◎ 下圖甲、乙、丙、丁四圖分別表示 1990 年時四個國家十萬人口以上都市的規模分布圖，請問：



： 甲、乙、丙、丁四圖中，哪一幅最可能是 1990 年中國大陸的都市規模分布型態？

A 甲 B 乙 C 丙 D 丁

Z 哪一個國家「經濟高度依賴世界價格」的色彩最濃厚？

A 甲 B 乙 C 丙 D 丁

X 在中國歷史上，北宋的都市規模分布型態，和上圖中的哪一種型態最類似？

A 甲 B 乙 C 丙 D 丁

仔細檢視題目，當時的第 X 題題目就考倒許多當時的考生，在答題的答錯率稍高。因為就整合學科性的題目而言，往往對學生作答慣例而言通常都是比較陌生的。但若詳細分析當時的題目解題設計，本質上還是以偏地理學科角度命題概念為主，呼應著北宋「強幹弱枝、中央集權」的政策，都市自然集結相對較多的人口，根據線索不難判斷出北宋為「首要型」的都市階層型態，所以題目勉強只可說是命題者依循歷史素材背景來設計的。

而延續以往，如此許久未曾出現的整合命題模式，卻於今年學測再次出現，這算是種突破，也多少會導致學生在作答時較不熟練，易失掉分數（如第 G ~ X 題題組題目）。另外，值得一提的是本次的史、地學科融合主要是針對文化背景的條件上多加著墨，題組編排上歷史題與地理題是各自獨立的，所以在以往學測地理科的分配從（題題號順序開始，今年的測驗則因為學科融合緣故調整成自 % 題肇始，算是一種較為新穎的命題方法，也是種大膽的突破，是否往後能獲得青睞而保留，是相當值得商榷的。

再者是筆者於前言中提及的，此次的學測命題趨向與 99 地理課綱核心精神的對照來說，整體是屬於比較少部分的連結。大抵而言，本次命題大方向均偏頗在「氣候、洋流、農業、服務業、世界劃分與開發中國家（非洲、中南美洲、東南亞）的背景」等幾個部分單元中，較以往更少了全面性的題型比重分配。

以通論地理部分來說，其中「氣候」主題部分雖於當今是相當重要的課綱課題，但題目取材方向整體多偏重於此，再加上結合「洋流」相關概念與歷史大航海時期背景所延續時間序列下來的各開發中國家群地區的概況來說，雖然可以看的出命題者希冀用心整合通論與區域地理的目的與企圖心；但是相關命題的題目比例多達 10 多題之多數，在每每學測題目 24 題的地理單元的比例上似乎稍嫌多了些；反而是關於地圖、地理資訊系統、地形、農業等通論地理單元命題取捨就相對較少，多半只有 1 ~ 2 題的概念；甚至有部分單元，例如：製造業、知識經濟等，再加上人口、都市、實察單元 1 題都沒有的情形，反倒是更突顯今年題目的比例稍微狹隘了些。

而區域地理的面向，除了筆者於前述通論部分評析的：這部分命題多半以開發中國家為命題核心概念外，事實上實際扣準 99 地理課綱的比例部分關連性整體也嫌略少。一樣仔細對照區域地理各單元，雖然整體在內容上有結合時事作為命題素材（如：登革熱、聖嬰現象、TPP、2014 世足賽等），但同樣的，在開發中國家的比例甚高，已開發國家國家的命題比例偏低的狀態（如：東非與大西洋航海貿易、東非馬拉威湖的位置與特色、南亞印度發展特性、東南亞印尼殖民歷史地理整合命題的題組等）；臺灣地理的比重部分稍多（如：登革熱、崙的空間分布、臺灣交集板塊、臺灣的天氣等），正規中國地理一題都沒有的整體設計上，於題目取材上取捨的比重也偏重僅僅幾項單元，說來也實屬可惜。

另外要特別注意的，本次試題題型還有另一項特色，就是題目設計要求學生作答時針對多數國家屬性分類的統計歸納題型的出現率也偏高，主要篇幅占區域地理施測的比重也稍重了點。例如：在第) 題 TPP 加入國家對照世界文化區的分類交集，請學生歸納分類選出國家數量最多；第 U ~ O 題石油輸出國、國際組織隸屬與參與國、官方語言配對和 2014 年世足賽參與的國家交集的分類配對……等，學生必須要完完全全地知道並條列出各國國家屬性與特徵、使用的官方語言、參與國際組織與否等，才能明確的回答。事實上，在教學現場的經驗中，這類對於學生作答來說，一旦有不了解或不知道的項目類型，便往往淪為猜猜樂，自然在答題時的答對率也相對較低，也失去了學測評量的意義。

總體而言，回歸學科本體，以下筆者即針對 105 年學測社會科題目 45 題之後相關地理單元延伸的題目，將各題命題主要概念與重點，簡單整理如下表，以供各位先進參考，如有未盡之事宜，還請海涵。

題號	題型 / 試題特性	主要 (對照課綱) 概念	說明與備註
%	單選 / 時事 / 通論	氣候要素 (霧霾、颱風)、聖嬰現象	
^	單選 / 情境 / 通論	氣候要素 (鋒面、寒潮、氣旋、高壓)	
&	單選 / 圖表 / 通論	地理資訊系統、環域分析、商品圈	
*	單選 / 鄉土 / 區域	地形特性、臺灣的區域特色 (地理區)	
(單選 / 圖表 / 通論	氣候要素、氣候類型、氣候圖表判讀	
)	單選 / 時事 / 區域	區域的劃分、文化區、國際組織	歸納題型
Q	單選 / 情境 / 區域	氣候要素、洋流系統、聖嬰現象	
W	單選 / 鄉土 / 通論	中地階層	
E	單選 / 照片 / 區域	板塊構造 / 臺灣的區域特色	
R	題組 / 圖表 / 通論	農業類型 / 農業經營特色	

T	題組 / 圖表 / 通論	農業系統	
Y	題組 / 情境 / 通論	自然景觀帶、農業區位	
U	題組 / 圖表 / 區域	西亞、歐盟、中南美洲、非洲、石油	歸納題型
I	題組 / 圖表 / 區域	西亞、歐盟、中南美洲、非洲、區域的劃分、國際組織	歸納題型
O	題組 / 圖表 / 區域	西亞、歐盟、中南美洲、非洲、區域的劃分、語言分區	歸納題型
P	題組 / 照片 / 區域	圖網方格坐標、非洲的自然環境	
A	題組 / 情境 / 區域	非洲的區域特色、農業經營特色	
S	題組 / 圖表 / 通論	氣候要素（鋒面、寒潮、颱風、降雨）	
D	題組 / 圖表 / 區域	氣候要素（鋒面、寒潮、颱風、降雨）、臺灣的緣海、臺灣的位置	
F	題組 / 圖表 / 區域	氣候要素（地方風系）	
G	題組 / 情境 /	海上貿易、大航海時代	歷史題型
H	題組 / 情境 / 通論	大圓航線、洋流系統、氣候要素（地方風系、行星風系）、宗教	
J	題組 / 情境	海上貿易、大航海時代	歷史題型
K	題組 / 情境	海上貿易、大航海時代	歷史題型
L	題組 / 情境 / 區域	殖民地式經濟、中南美洲、非洲、東南亞、北美洲、印尼	歷史題型
:	題組 / 情境 / 區域	中南美洲、非洲、東南亞、北美洲、印尼	
Z	題組 / 情境	南亞、宗教、殖民地式經濟	歷史題型
X	題組 / 情境 / 區域	南亞、都市化程度、人類發展指數	歷史題型

根據上表整理的結果，我們也大致可以了解此次命題比重整體偏重區域地理的命題，而有別於以往通論地理比重平衡的命題方向；情境命題的方式對照圖表命題、概念命題的方式比重亦高出許多；而另外較特殊的是此次的照片題型僅有 1 ~ 2 題：一為臺灣東部的橋梁照片，另外為東非馬拉威湖的航照圖，相對較少。



三 未來準備方向與建議

對照歷屆試題來說，本次的學測命題其實做了蠻大的突破。跳脫 99 課綱精神，除了前述的試題特色（歷史地理合科命題、偏重區域地理、情境題比例高等）外，從總體題目設計上，也大致解讀本次題目施測重點企圖使地理學逐漸轉換成讓學生從生活當中去汲取知識與獲得驗證的部分，但可惜的是仍未盡成熟。

未來學測命題的方向推測基本上還是會依循 99 課綱的基本精神，並持續結合生活經驗，與時事接軌。學生應當還是要熟稔課綱當中的主要概念，在今次未出現或比重較低的單元上多加著墨，顧及全面性。唯有如此，才能在下一次的挑戰獲得高分。

公民 臺南一中 ◀ 廖翠雯 老師
歷史 名 師 ◀ 郭子儀 老師
地理 萬芳高中 ◀ 周岳虹 老師

單選題 (占 144 分)

說明：第 1 題至第 X 題皆計分，每題有 4 個選項，其中只有一個是正確或最適當的選項，請畫記在答案卡之「選擇題答案區」。各題答對者，得 2 分；答錯、未作答或畫記多於一個選項者，該題以零分計算。

- 1 根據報導，某國政府教育部近來發布規定，禁止中學成立同性戀社團，並透過學校向家長宣導，如果家中孩童熱愛穿 V 領上衣，便可能具有同性情欲傾向，應小心多加防範。此規定與宣布受到人權團體批評。請問下述批評何者最可能為人權團體之訴求？
- A 該國做法有違兩性平等的原則
 - B 該國做法限制消費者選擇自由
 - C 該國做法侵犯家長之親權行使
 - D 該國做法違反學生之結社自由

答 案 D

命題出處 公民與社會第一冊第二章：人己關係與分際

測驗目標 對結社權的非法限制

詳 解 教育部發布命令直接禁止中學成立同性戀社團，這是對於言論自由與結社自由的直接侵害。並且透過學校向家長宣導「孩童若愛穿 V 領上衣，可能具有同性戀傾向」，這是藉由禁止成立同性戀社團後延伸出的歧視同性戀的作為，不僅侵害同性戀者的結社自由，亦是對愛穿 V 領上衣者貼上刻板印象的標籤；顯示該國是一個異性戀霸權的國家，同時違反性別主流化。整體來看，主要的焦點在於禁止中學成立同性戀社團，再衍生出對同性戀的歧視，因此人權團體的批評應該是先針對主要的作為——禁止中學成立同性戀社團，提出侵犯學生結社自由的抗議。

難 易 度 中

- 2 某國針對婦女「沒有可自由使用之零用錢」現象進行調查，而所謂可自由使用之零用錢意指家庭必須花費外，婦女可自行決定如何支配之金錢。此項調查結果如表 1：

表 1

年度	全體婦女人口中沒有可自由使用零用錢之比例	有收入婦女中沒有可自由使用零用錢之比例	無收入婦女中沒有可自由使用零用錢之比例
2006	37 %	36 %	54 %
2010	44 %	37 %	55 %

根據以上資料，有關該國社會現況的描述與解釋，下列敘述何者較為合理？

- A 對照有無收入婦女的相關數據，顯示有收入仍未能確保女性擁有完全經濟自主
- B 無收入婦女中，沒有可自由使用零用錢的比例高於五成，顯示他們較不善理財
- C 有收入婦女中，有近四成沒有可自由使用的零用錢，顯示女性有過度消費問題
- D 全體婦女中沒有可自由使用零用錢的比例呈現上升，乃因愈來愈多婦女掌管家庭經濟

答案 A

命題出處 公民與社會第一冊第二章：人己關係與分際、第三冊第六章：民法與生活

測驗目標 《民法》的自由處分金、性別平等

詳解 A 有收入婦女中沒有可自由使用零用錢之比例約 36 ~ 37 %，顯示約 1 / 3 有收入的婦女，無法擁有經濟自主，自己賺的錢無法自己隨意花用。B 無收入婦女中，沒有可自由使用零用錢的比例高於五成，並不是因為無收入婦女較不善理財，而是沒有經濟自主權。C 有收入婦女中，有近四成沒有可自由使用的零用錢，是因為沒有經濟自主權，而不是有過度消費問題。D 全體婦女中沒有可自由使用零用錢的比例呈現上升，背後可能的原因是家中男性掌握經濟分配權，造成愈來愈少婦女掌管家庭經濟。

有關《民法》自由處分金的相關法條如下：

第 1018-1 條	夫妻於家庭生活費用外，得協議一定數額之金錢，供夫或妻自由處分。
------------	---------------------------------

難易度 易

- 3 第一次波斯灣戰爭時，曾有美國雜誌報導：伊拉克為貧瘠之地，其歷史中也少有豐富文化與偉大信念。但文化評論者卻指出，伊拉克是兩河文明發源地，土地肥沃物產富饒，此報導之描述，明顯表現美國社會普遍存在對伊拉克的既有刻板印象。請問以下敘述何者最能說明此評論者的觀點？
- A 媒體報導往往未經查證，向來為人所詬病
 B 媒體常以我族中心主義觀點詮釋國際事務
 C 美國軍事強權擴張，阻礙各文化相互涵化
 D 媒體屬大眾文化，報導往往缺乏深度內涵

答案 B

命題出處 公民與社會第一冊第六章：媒體識讀、第七章：文化與位階

測驗目標 媒體報導的觀點、文化不平等

詳解 A 媒體報導通常會進行查證，只是有無徹底或全面性查證。B 美國媒體雜誌對於伊拉克的報導，是以美國文化為標準檢視，因此存在著我族中心主義觀點詮釋國際事務。C 此報導並無談論到美國的軍事強權擴張，也未論及是否阻礙各文化相互涵化。D 媒體是屬大眾文化，但是會製播新聞專題，進行深度報導與評論，仍具有深度內涵。

難易度 易

- 4 根據某項東亞三國的社會調查，中華民國、日本、南韓民眾參加不同社會團體之比例（百分比）如表 2：

表 2 單位：%

參加團體類型	國家別		
	中華民國	日本	南韓
政治團體	0.4	4.4	5.5
社團（村里）管理委員會	2.4	60.7	26.4
社會服務團體（志工）	4.0	7.6	16.5
宗教團體	9.8	10.3	29.2
校友會	1.3	44.8	47.8
工會	2.9	10.9	7.0
至少參加一個團體的民眾比例	36.7	83.2	76.1

根據表 2，以下敘述何者正確？

- A 南韓民眾參加校友會的人數，為三國之中最高
 B 我國民眾宗教團體參與低，可見宗教自由度低於日韓
 C 就民眾參與社會團體比例而言，我國的社會資本高於日本
 D 相對於政治團體，三國民眾皆較樂意於參與社會服務團體

答案 D

命題出處 公民與社會第一冊第五章：公民社會的參與

測驗目標 公民社會的參與

詳解 A 南韓民眾參加校友會的比例為 47.8 %，高於我國的 1.3 %，日本的 44.8 %，為三國之中最高；但題目並沒有提供各國總人口數的資料，無法研判各國參與校友會人口數的高低。B 我國民眾宗教團體參與低，但是參與度低與宗教自由度並無直接關聯，且我國為宗教自由的國家，並未限制人民的宗教自由。C 我國民眾參與社會團體比例都比日本低，因此透過結社而產生的社會資本（能信任他人並願意與他人合作的能力），應該會低於高度參與社會團體的日本。D 三國民眾參與社會服務團體的比例都高於政治團體，顯示三國民眾相對於政治團體，皆較樂意參與社會服務團體。

難易度 中

5 我國某屆立法委員選舉的選票設計如圖 1，關於選票之相關敘述，下列何者正確？

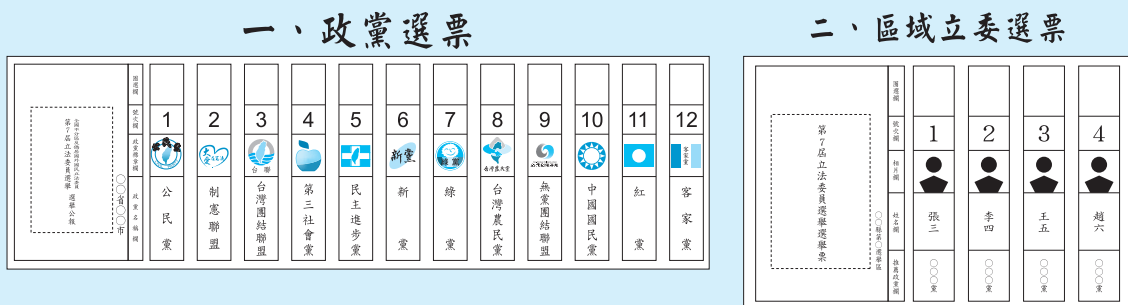


圖 1

- A 原住民身分選民與其他選民同為領取圖中區域立委選票
- B 無法從選票設計看出這是以並立制計算席次的選舉制度
- C 在政黨選票上，選民可以投兩個政黨，也就是所謂的兩票制
- D 為爭取政黨票，各政黨須提出相同數額的不分區候選人名單

答案 B

命題出處 公民與社會第二冊第六章：人民的參政

測驗目標 我國立法委員的選舉制度

詳解 A 原住民身分選民將依據身分領取山地原住民選票或是平地原住民選票，無法再領取區域立委選票。B 由於選票設計只是讓選民投票，並未具體說明選票的計算方式，因此無法從選票設計看出我國立委是採取並立制計算席次的選舉制度。C 在政黨選票上，並未具體說明選民可以投幾個政黨，但是我國立委採單記，也就是政黨票只能投一票的單記投票

制；我國立委的兩票制，是指一票投人（區域立委或原住民立委）、一票投黨。D為爭取政黨票，各政黨提出的不分區候選人名單並無最低人數限制，但是各政黨會依據政治實力以及評估的得票率，提出不分區候選人名單，並未規定各政黨皆須提出相同數額的不分區候選人名單。

難易度 中

- 6 我國《地方制度法》對於行政層級的劃分和所轄的次級地方組織，都有詳細的規定。下列有關「桃園市大園區」與「臺東縣池上鄉」之敘述，何者正確？
- A 前者為市府派出單位，後者為地方自治團體
 - B 兩者皆為縣級行政單位所轄的次級地方組織
 - C 前者之首長為區長，後者之首長為鄉長，均由選舉產生
 - D 前者設區民代表會，後者設鄉民代表會，兩者皆為立法機關

答案 A

命題出處 公民與社會第二冊第三章：政府的體制

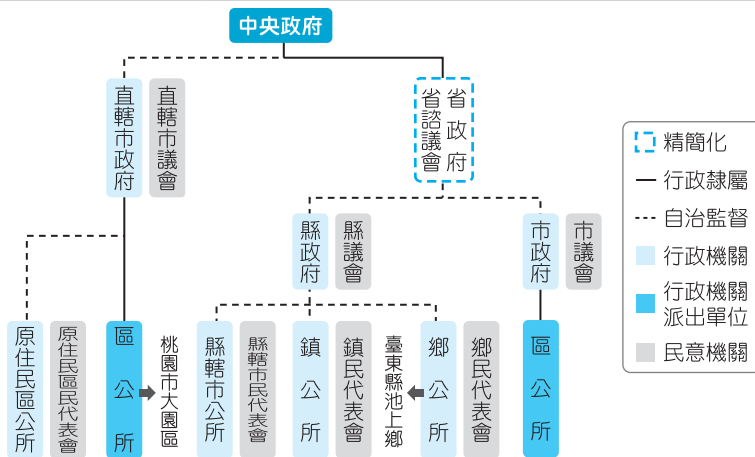
測驗目標 我國的地方制度

詳解 A 桃園市屬於直轄市，下轄的大園區為桃園市政府的派出單位；臺東縣池上鄉擁有民選的鄉長與鄉民代表，為地方自治團體，同時是最基層的地方自治組織。B 桃園市大園區為直轄市級行政單位的派出行政組織，臺東縣池上鄉為縣級行政單位所轄的次級地方組織。C 桃園市大園區之首長為區長，為桃園市市長直接任命；臺東縣池上鄉之首長為鄉長，由池上鄉民直接選舉產生。D 桃園市大園區為桃園市政府的派出單位，因此並無設置區民代表會；臺東縣池上鄉為地方自治團體，因此由池上鄉民直選產生鄉民代表會，此為立法機關。

	桃園市大園區	臺東縣池上鄉
性質	1 桃園市為直轄市 2 大園區為桃園市派出的行政機關	1 臺東縣為縣級的地方自治組織 2 池上鄉為臺東縣下轄的地方自治團體
首長產生方式	區長由市長直接任命	鄉長由鄉民直接選舉產生
民意機關	沒有設置區民代表會	鄉民代表會為地方立法機關，鄉民代表由鄉民直接選舉產生

《地方制度法》相關法規如下：

第 3 條	地方劃分為省、直轄市。 省劃分為縣、市（以下稱縣（市））；縣劃分為鄉、鎮、縣轄市（以下稱鄉（鎮、市））。 直轄市及市均劃分為區。 鄉以內之編組為村；鎮、縣轄市及區以內之編組為里。村、里（以下稱村（里））以內之編組為鄰。
第 5 條	省設省政府、省諮議會。 直轄市設直轄市議會、直轄市政府；縣（市）設縣（市）議會、縣（市）政府；鄉（鎮、市）設鄉（鎮、市）民代表會、鄉（鎮、市）公所，分別為直轄市、縣（市）、鄉（鎮、市）之立法機關及行政機關。 直轄市、市之區設區公所。 村（里）設村（里）辦公處。
第 33 條第 1 項	直轄市議員、縣（市）議員、鄉（鎮、市）民代表分別由直轄市民、縣（市）民、鄉（鎮、市）民依法選舉之，任期四年，連選得連任。
第 57 條第 1 項	鄉（鎮、市）公所置鄉（鎮、市）長一人，對外代表該鄉（鎮、市），綜理鄉（鎮、市）政，由鄉（鎮、市）民依法選舉之，每屆任期四年，連選得連任一屆；其中人口在三十萬人以上之縣轄市，得置副市長一人，襄助市長處理市政，以機要人員方式進用，或以簡任第十職等任用，以機要人員任用之副市長，於市長卸任、辭職、去職或死亡時，隨同離職。
第 58 條第 1 項	直轄市、市之區公所，置區長一人，由市長依法任用，承市長之命綜理區政，並指揮監督所屬人員。



難易度 中

- 7 最近社會大眾討論是否應將我國選舉權的年齡降至年滿 18 歲。根據現行法規，如欲修改此項投票年齡門檻，必須透過何種程序始能達成？
- A 可直接經由舉辦全國性公民投票決議通過
 - B 須經由中央選舉委員會決議之後公告實施
 - C 行政院透過內政部頒布行政命令即可實施
 - D 須經我國修憲的程序才可將投票年齡降低

答案 D

命題出處 公民與社會第二冊第二章：民主政治與憲政主義

測驗目標 我國修憲的程序

詳解 選舉權的年齡是《憲法》所規定，因此要降低投票年齡必須透過修憲；而我國修憲為立法院提案→公告半年→公民投票複決。

相關憲法條文如下：

《憲法》第 130 條	中華民國國民年滿 20 歲者，有依法選舉之權，除本憲法及法律別有規定者外，年滿 23 歲者，有依法被選舉之權。
《憲法增修條文》 第 12 條	憲法之修改，須經立法院立法委員 1 / 4 之提議，3 / 4 之出席，及出席委員 3 / 4 之決議，提出憲法修正案，並於公告半年後，經中華民國自由地區選舉人投票複決，有效同意票過選舉人總額之半數，即通過之，不適用《憲法》第 174 條之規定。

難易度 易

- 8 兩岸關係一向是我國政治上重要的議題之一，這些年來此問題隨著時間產生了一些變化。有關兩岸關係問題，下列敘述何者正確？
- A 兩岸為敵對狀態，故未能簽訂任何經貿協議
 - B 目前兩岸呈現分治狀態，雙方互不承認主權
 - C 民國 60 年我國退出聯合國後開始出現兩岸關係問題
 - D 中國制定《反分裂國家法》後始出現兩岸關係問題

答案 B

命題出處 公民與社會第二冊第八章：臺海兩岸關係的演變

測驗目標 臺海兩岸關係的問題

詳解 A 兩岸雖為敵對狀態，但是從 1993 年海基會與海協會的辜汪會談之後，開始進行事務性的協商；在馬政府階段，2010 年通過「海峽兩岸經濟合作架構協議」（ECFA），並推動簽署「海峽兩岸服務貿易協議」（立法院審議中，尚未生效），因此已經簽訂多個經貿協議。B 兩

岸呈現分治狀態，雙方互不承認主權；這是因為承認主權等同認定對岸是個主權獨立的國家；陸委會對於「如何看待國家定位與國家主權問題？」的回答如下：「一、中華民國是主權國家，政府一貫堅持在中華民國憲法架構下，維持臺海『不統、不獨、不武』的現狀，發展兩岸和平、穩定的關係，維護區域的安定與臺灣的利益，這不僅符合大多數臺灣人民的期待，也受到國際社會的支持與歡迎。二、我們主張在維持現狀下追求和諧的兩岸關係。雙方在『擱置爭議，追求雙贏』的原則下，務實推動兩岸良性的互動與交流。目前兩岸兩會的制度化協商機制已常態化進行，未來將透過對話協商，逐步建立互信，增進臺海的和平與穩定，以實現互利共榮、互惠雙贏的目標。」C D 民國 38 年國民政府撤退來臺後，就開啟臺海兩岸關係的問題。2005 年中國制定《反分裂國家法》後，賦予武力攻臺的法源依據。

《反分裂國家法》的相關法條如下：

第 8 條

「臺獨」分裂勢力以任何名義、任何方式造成臺灣從中國分裂出去的事實，或者發生將會導致臺灣從中國分裂出去的重大事變，或者和平統一的可能性完全喪失，國家得採取非和平方式及其他必要措施，捍衛國家主權和領土完整。
依照前款規定採取非和平方式及其他必要措施，由國務院、中央軍事委員會決定和組織實施，並及時向全國人民代表大會常務委員會報告。

難易度 中

- 9 國家應維護人民之人性尊嚴，不得將人民當作達成特定目的之工具。依前所述，國家下列行為，何者已侵害人民之人性尊嚴？
- A 為調查犯罪事實及證據而搜索犯罪嫌疑人住處
 - B 為迅速查明犯罪的主謀而對共犯連夜進行偵訊
 - C 為預防傳染病擴散而命令疑似感染者在家隔離
 - D 為維護公共安全社會秩序而禁止人民集會遊行

答案 B

命題出處 公民與社會第三冊第四章：憲法與人權

測驗目標 人性尊嚴之內涵

詳解 人性尊嚴是指每個人無論出身、外表、社會地位或成就等，都具有同樣的價值，皆應獲得同樣的重視；個人透過自由意志的表現，以實現其人生理想。因此人性尊嚴是所有基本權利的核心，憲法的目的在保障基本權利，國家所有的作為都必須思考如何維護人性尊嚴。A 我國目前對於

搜索採令狀主義，檢警必須向法官聲請獲准後，拿到搜索票後，才能為調查犯罪事實及證據而搜索犯罪嫌疑人住處。B 目前我國規定，除非經過犯罪嫌疑人同意或是法律規定的特殊情況外，否則不得進行夜間偵訊。C 基於《憲法》第 23 條為維護公共利益、避免緊急危難的公益原則，政府得為預防傳染病擴散而命令疑似感染者在家隔離。D 集會遊行為人民的集會自由權，目前我國採許可制；但是不會因為維護公共安全社會秩序，而禁止人民集會遊行。

相關法條如下：

<p>《刑事訴訟法》 第 100-3 條</p>	<p>司法警察官或司法警察詢問犯罪嫌疑人，不得於夜間行之。但有左列情形之一者，不在此限：</p> <p>一、經受詢問人明示同意者。</p> <p>二、於夜間經拘提或逮捕到場而查驗其人無錯誤者。</p> <p>三、經檢察官或法官許可者。</p> <p>四、有急迫之情形者。</p> <p>犯罪嫌疑人請求立即詢問者，應即時為之。</p> <p>稱夜間者，為日出前，日沒後。</p>
<p>《刑事訴訟法》 第 128-1 條</p>	<p>偵查中檢察官認有搜索之必要者，除第 131 條第 2 項所定情形外，應以書面記載前條第 2 項各款之事項，並敘述理由，聲請該管法院核發搜索票。</p> <p>司法警察官因調查犯罪嫌疑人犯罪情形及蒐集證據，認有搜索之必要時，得依前項規定，報請檢察官許可後，向該管法院聲請核發搜索票。</p> <p>前二項之聲請經法院駁回者，不得聲明不服。</p>
<p>《憲法》第 23 條</p>	<p>以上各條列舉之自由權利，除為防止妨礙他人自由、避免緊急危難、維持社會秩序，或增進公共利益所必要者外，不得以法律限制之。</p>
<p>《集會遊行法》 第 9 條</p>	<p>室外集會、遊行，應向主管機關申請許可。但左列各款情形不在此限：</p> <p>一、依法令規定舉行者。</p> <p>二、學術、藝文、旅遊、體育競賽或其他性質相類之活動。</p> <p>三、宗教、民俗、婚、喪、喜、慶活動。</p> <p>室內集會無須申請許可。但使用擴音器或其他視聽器材足以形成室外集會者，以室外集會論。</p>

《集會遊行法》 第 10 條第 1 項	室外集會、遊行，應由負責人填具申請書，載明左列事項，於 6 日前向主管機關申請許可。但因不可預見之重大緊急事故，且非即刻舉行，無法達到目的者，不受 6 日前申請之限制。
------------------------	--

難易度 中

- 甲男與丙女是夫妻，乙是甲之弟。甲死亡後，30 歲未婚之乙與丙結婚。下列關於乙丙間婚姻效力之敘述，何者正確？
- A 甲死亡後，乙丙無親屬關係，故乙丙之婚姻有效
 B 乙與丙輩分相同且親等相近，故乙丙之婚姻無效
 C 丙為乙之兄嫂，二人結婚有違倫常，故婚姻無效
 D 乙丙未違反近親不得結婚的規定，婚姻合法有效

答案 D

命題出處 公民與社會第三冊第六章：民法與生活

測驗目標 民法的婚姻關係

詳解 A 甲死亡後，依據《民法》與法務部的見解，乙、丙仍具有姻親之親屬關係，但不在禁婚親規定之內，故乙、丙之婚姻有效。B 乙與丙屬於旁系姻親二親等，輩分相同，不在禁婚親之內，故乙、丙之婚姻有效。C 丙雖為乙之兄嫂，但是二人結婚並未違倫常，故婚姻屬有效。

《民法》第 983 條	與左列親屬，不得結婚： 一、直系血親及直系姻親。 二、旁系血親在六親等以內者。但因收養而成立之四親等及六親等旁系血親，輩分相同者，不在此限。 三、旁系姻親在五親等以內，輩分不相同者。 前項直系姻親結婚之限制，於姻親關係消滅後，亦適用之。 第一項直系血親及直系姻親結婚之限制，於因收養而成立之直系親屬間，在收養關係終止後，亦適用之。
法務部 96 年 3 月 5 日法律決字第 0969997136 號	認定「有關夫死後，其妻再行改嫁，就現行《民法》規定，妻與亡夫兄弟原具有之姻親關係仍未消滅。」

難易度 難

q 憲法保障人民有請願、訴願及訴訟之基本權利。下列有關人民依法得提起權利救濟的方式，何者正確？

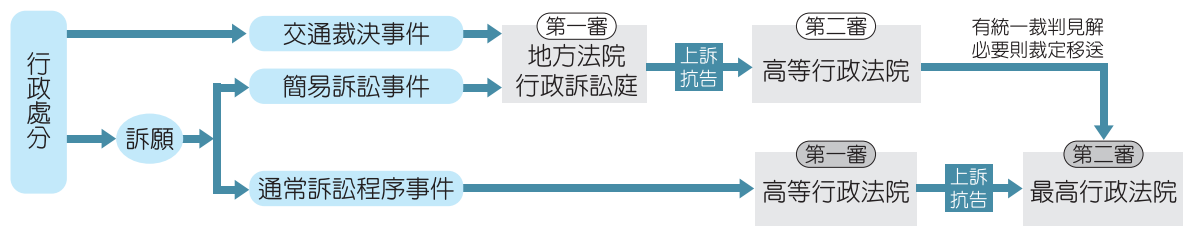
- A 不服市政府違建拆除大隊拆除自家違建，得向法院提出請願
- B 向縣政府申請低收入戶補助遭駁回，得直接向法院提起訴訟
- C 不服交通裁決單位所作裁決，得向地方法院行政訴訟庭提起訴訟
- D 主張《公民投票法》之規定不合理，得向中央主管機關提起訴願

答案 C

命題出處 公民與社會第三冊第八章：紛爭解決機制

測驗目標 權利救濟的途徑

詳解 A 人民不服市政府違建拆除大隊拆除自家違建的行政處分時，必須先向市政府提出訴願，不服再向法院提出行政訴訟。B 向縣政府申請低收入戶補助遭駁回，人民對此行政處分不服時，必須先向縣政府提出訴願，不服再向法院提起行政訴訟。D 主張《公民投票法》之規定不合理，得向中央主管機關提起請願，要求行政院或立法院提出法律修正案。



難易度 中

w 公務員甲涉嫌收受賄款，由檢察官乙進行偵查。下列何者屬於檢察官乙後續依法可行使之權限？

- A 立即帶領警察進入甲之辦公室及住宅，進行搜索
- B 如認定甲之行為並不構成犯罪，作成緩起訴處分
- C 偵查後認為甲之犯罪嫌疑重大，向法院聲請羈押
- D 代表國家向法院提起自訴，並且負擔起舉證責任

答案 C

命題出處 公民與社會第三冊第七章：刑法與生活

測驗目標 犯罪的追訴程序

詳解 A 我國對於搜索採令狀主義，因此檢察官必須向法官聲請搜索令後，才能帶領警察進入甲之辦公室及住宅進行搜索。B 如認定甲之行為並不構成犯罪，檢察官必須做出不起訴處分；檢察官若是認定犯罪嫌疑人的罪責很輕，在一定條件下，令犯罪嫌疑人遵守或履行一定事項（立悔過書、向公庫支付一定金額、社會勞動、支付損害賠償等），可作成緩起

訴處分，來取代提起公訴。D 檢察官代表國家向法院提起公訴，擔任原告角色並且負擔起舉證責任。

《刑事訴訟法》相關法條如下：

第 101 條	<p>被告經法官訊問後，認為犯罪嫌疑重大，而有左列情形之一，非予羈押，顯難進行追訴、審判或執行者，得羈押之：</p> <p>一、逃亡或有事實足認為有逃亡之虞者。</p> <p>二、有事實足認為有湮滅、偽造、變造證據或勾串共犯或證人之虞者。</p> <p>三、所犯為死刑、無期徒刑或最輕本刑為五年以上有期徒刑之罪者。</p> <p>法官為前項之訊問時，檢察官得到場陳述聲請羈押之理由及提出必要之證據。</p> <p>第 1 項各款所依據之事實，應告知被告及其辯護人，並記載於筆錄。</p>
第 128-1 條	<p>偵查中檢察官認有搜索之必要者，除第 131 條第 2 項所定情形外，應以書面記載前條第 2 項各款之事項，並敘述理由，聲請該管法院核發搜索票。</p> <p>司法警察官因調查犯罪嫌疑人犯罪情形及蒐集證據，認有搜索之必要時，得依前項規定，報請檢察官許可後，向該管法院聲請核發搜索票。</p> <p>前 2 項之聲請經法院駁回者，不得聲明不服。</p>
第 251 條	<p>檢察官依偵查所得之證據，足認被告有犯罪嫌疑者，應提起公訴。</p> <p>被告之所在不明者，亦應提起公訴。</p>
第 253-2 條	<p>檢察官為緩起訴處分者，得命被告於一定期間內遵守或履行下列各款事項：</p> <p>一、向被害人道歉。</p> <p>二、立悔過書。</p> <p>三、向被害人支付相當數額財產或非財產上之損害賠償。</p> <p>四、向公庫支付一定金額，並得由該管檢察署依規定提撥一定比率補助相關公益團體或地方自治團體。</p> <p>五、向該管檢察署指定之政府機關、政府機構、行政法人、社區或其他符合公益目的之機構或團體提供 40 小時以上 240 小時以下之義務勞務。</p>

第 253-2 條	<p>六、完成戒癮治療、精神治療、心理輔導或其他適當之處遇措施。</p> <p>七、保護被害人安全之必要命令。</p> <p>八、預防再犯所為之必要命令。</p> <p>檢察官命被告遵守或履行前項第 3 款至第 6 款之事項，應得被告之同意；第 3 款、第 4 款並得為民事強制執行名義。</p> <p>第 1 項情形，應附記於緩起訴處分書內。</p> <p>第 1 項之期間，不得逾緩起訴期間。</p> <p>第 1 項第 4 款提撥比率、收支運用及監督管理辦法，由行政院會同司法院另定之。</p>
第 264 條	<p>提起公訴，應由檢察官向管轄法院提出起訴書為之。</p> <p>起訴書，應記載左列事項：</p> <p>一、被告之姓名、性別、年齡、籍貫、職業、住所或居所或其他足資辨別之特徵。</p> <p>二、犯罪事實及證據並所犯法條。</p> <p>起訴時，應將卷宗及證物一併送交法院。</p>

難易度 中

e 甲公司因涉嫌使用不合法原料生產食品，經檢察官向法院起訴，法院認為相關事證無法證明甲公司違法，判決甲公司無罪確定。消費者乙對於此判決結果不滿，欲採取其他行動以達到制裁甲公司的效果。關於此判決及乙可能採取之行動，下列敘述何者正確？

- A 法院依據罪疑唯輕原則判決甲公司無罪，是法律保留原則的表現
- B 如行政機關接到乙之檢舉，應依據信賴保護原則而不處罰甲公司
- C 乙主張健康受損，依《公平交易法》向甲求償，但應證明其故意
- D 如乙提起民事訴訟求償，訴訟中與甲和解，可聲請法院強制執行

答案 D

命題出處 公民與社會第三冊第五章：行政法與生活、第六章：民法與生活、第七章：刑法與生活、第八章：紛爭解決機制

測驗目標 法律與權利救濟的方式

詳解 A 法院依據法律獨立審判，因此法官依照罪疑唯輕原則判決甲公司無罪，是依法審判的表現；依法行政屬於行政法的原理原則。B 如行政機關接到乙之檢舉，應依據依法行政原則，同時依據法院的判決結果，而不處罰甲公司。C 乙主張健康受損，依《消費者保護法》向甲求償，甲

公司具有無過失責任，也就是不管故意或過失，若造成乙健康受損，都必須負起賠償責任；但是公司若能證明無過失，法院會減輕其賠償責任。D如乙提起民事訴訟求償，訴訟中與甲和解，效力將等同法院判決，若是甲日後並未履約，乙則可以聲請法院強制執行。

相關名詞定義如下：

罪疑唯輕原則	證據不夠明確時，法官應朝對被告有利之方向審理，甚至做出對被告有利的方向解釋，以保障被告人權	
依法行政原則	政府行政行為應受法律及行政法的一般法律原則之約束	
	法律優越原則	行政行為不得牴觸法律，又稱為消極的依法行政；下級法位階規範不得牴觸上級法位階規範
	法律保留原則	行政行為必須有法律明文規定做為依據，又稱為積極的依法行政；應以法律規定事項，不得以命令為之
信賴保護原則	人民因信賴政府之行政行為而為相對應之措施，應受到政府保護	

相關法律如下：

《消費者保護法》第7條	從事設計、生產、製造商品或提供服務之企業經營者，於提供商品流通進入市場，或提供服務時，應確保該商品或服務，符合當時科技或專業水準可合理期待之安全性。 商品或服務具有危害消費者生命、身體、健康、財產之可能者，應於明顯處為警告標示及緊急處理危險之方法。 企業經營者違反前二項規定，致生損害於消費者或第三人時，應負連帶賠償責任。但企業經營者能證明其無過失者，法院得減輕其賠償責任。
《民事訴訟法》第380條第1項	和解成立者，與確定判決有同一之效力。
《強制執行法》第4條	強制執行，依左列執行名義為之：…… 三、依民事訴訟法成立之和解或調解。

難易度 中

r 原油耗盡的能源危機是現代社會的重大問題，但是有經濟學家認為，依據經濟學的法則，原油不會用完，無需過於擔心。請問下列何種理由最適合解釋此一論點？

- A 開採技術進步，未來原油供給遠大於需求，供給數量有增無減
- B 價格愈來愈高，供過於求使原油有所剩餘，而剩餘將持續增加
- C 替代能源愈來愈多，導致原油價格下跌，需求數量進一步減少
- D 原油若因數量稀少而變得愈來愈貴，市場需求數量自然會減少

答案 D

命題出處 公民與社會第四冊第二章：市場機能

測驗目標 市場機能運作機制

詳解 當原油的產量減少時，價格自然高漲，消費者對原油的需求量將減少，同時會出現替代性能源。A 由於原油的儲存量是固定的，即使開採技術進步，也無法增加供應量；因此不會造成未來原油供給遠大於需求的現象，供給數量仍會持續下降。B 價格愈來愈高，有可能會造成供過於求，並導致石油降價的現象；但是降價後會造成需求量增加，因此原油原則上不會發生剩餘的現象。C 替代能源愈來愈多，有可能導致原油價格下跌，但是原油降價，對原油的需求數量則會提高。D 基於需求法則，價格與數量呈現反比關係，原油若因數量稀少而變得愈來愈貴，市場需求數量自然會減少。

難易度 中

t 過去 30 年間，許多因素造成我國政府各種項目的收入有所增減。下列敘述何者正確？

- A 受全球化影響，我國出口大幅衰退，關稅逐年減少
- B 雖然歷經幾次景氣循環，但消費稅的收入不受影響
- C 雖經民營化浪潮，公營事業收入仍為歲入重要來源
- D 由於人口老化的關係，汽機車牌照稅收入大幅下跌

答案 C

命題出處 公民與社會第四冊第六章：公共財與租稅

測驗目標 政府收入

詳解 A 受全球化影響，國際貿易興盛，我國以出口為導向，出口大幅成長，關稅是一種對進出口的貨物和物品徵收的稅，因此關稅收入會逐年提高。B 在景氣衰退時，市場將萎縮，造成消費減少，因此消費稅的收入會隨之減少。C 我國在 50 年代營業盈餘及事業收入占政府收入的 11.1%；雖經民營化浪潮，在 90 年代仍提高到 15.4%，再加上政府收入的

總額有提高，因此公營事業收入仍為歲入重要來源。D 由於國人擁有的汽機車數量持續增加，因此汽機車牌照稅收入大幅提高。

難易度 中

y 大量抽取地下水養殖水產或做為工業用途，可能造成地層下陷，此現象與「地下水」的財貨屬性有關。關於地下水，下列敘述何者正確？

- A 地下水屬於公共財，理應由政府統一管制分配
- B 地下水具排他性，其價格必須反應市場的需求
- C 地下水的財產權不明確，易形成共有財的悲歌
- D 地下水為私有財，因上方之土地財產權很明確

答案 C

命題出處 公民與社會第四冊第六章：公共財與租稅

測驗目標 地下水與共有財的悲歌

詳解 地下水具有不能排他性、獨享性，屬於準私有財性質，容易發生共有財的悲歌。A 地下水屬於準私有財，若政府要進行管制，可以採取私有化或是統一管制分配。B 地下水不具排他性，因此無法產生市場價格，大家都是免費使用。D 地下水在地表下是流通狀態，為準私有財性質，即使上方之土地財產權很明確，仍不屬於上方之土地擁有者的財產。

難易度 中

u 臺灣曾經是鞋子王國，現在則是資訊產品王國。下列何者可以說明此種轉變？

- A 鞋子的機會成本降低，資訊產品的比較利益增加
- B 鞋子的機會成本增加，資訊產品的比較利益下降
- C 鞋子的比較利益降低，資訊產品的機會成本下降
- D 鞋子的比較利益增加，資訊產品的機會成本增加

答案 C

命題出處 公民與社會第四冊第一章：經濟學基本概念

測驗目標 機會成本與比較利益

詳解 當各國進行專業分工時，會挑選機會成本較低、比較利益較高的項目；因此我國從鞋子王國轉向資訊產品王國時，鞋子的機會成本應該是提高、比較利益降低；資訊產品的機會成本降低、比較利益提高。

難易度 中

i、o 為題組

◎ 某國醫院及診所主要由民間經營，再由政府進行價格管制。該國政府為避免一般民眾因醫療服務昂貴而怯於就醫，將醫療價格抑制在市場均衡價格的三分之一。這樣的政策照顧到人們的醫療需求，並提升國民健康，但也造成正反兩面的後果。雖說民眾對現有政策堪稱滿意，但政府為了解決部分問題，計畫將價格上調到均衡價格的二分之一，此舉引來民眾的不滿，而醫療產業也有意見。

i 下列敘述何者最可能是抑制醫療價格所導致的正面或負面效果？

- A 醫療價格雖然受到抑制，但許多民眾仍無法負擔醫藥費
- B 醫療價格太低，醫院診所可能倒閉，民眾就醫選擇減少
- C 醫療價格雖低，但科技進步還是會使醫療服務供過於求
- D 價格低需求量大，醫師職業更顯重要，吸引更多從業者

答案 B

命題出處 公民與社會第四冊第二章：市場機能

測驗目標 政府干預、價格上限管制

詳解 A 醫療價格受到抑制，能負擔醫療費用的民眾將增加。B 醫療價格太低，醫院診所可能倒閉，造成醫療的供給量減少，民眾就醫選擇將隨之減少。C 醫療價格低，將直接造成醫院診所減少，即使科技進步能彌補部分醫療不足之處，但是還是會使醫療服務產生供不應求現象。D 價格低、需求量大，醫師職業更顯重要，但是受到醫療費用價格管制的影響，醫療從業者應該會減少。

難易度 中

o 政府計畫將醫療價格提高，引發各方不滿，最有可能的原因為何？

- A 雖然醫療價格提高了，但民眾認為新政策愈加違反使用者付費精神
- B 雖然醫療的市場效率提高，但也引發不利於經濟弱勢者就醫的擔憂
- C 新政策提高醫療價格，將使更多醫療院所加入競爭，醫療品質堪慮
- D 新政策只利於舊有的醫療院所，不利於新加入的醫療院所及就醫者

答案 B

命題出處 公民與社會第四冊第二章：市場機能

測驗目標 市場機能

詳解 A 醫療價格提高是反映使用者付費精神。B 價格提高，有助於醫療的市場效率提高，但是經濟弱勢者恐負擔不起提高後的醫療費用，造成就醫的擔憂。C 新政策提高醫療價格，將使更多醫療院所加入競爭；在有競爭的情況下，醫療品質自然必須隨之提高，才能吸引病患就醫。D 新政策將全面適用於所有的醫療院所，不論新舊醫療院所及就醫者均適用。

難易度 中

p~s 為題組

- ◎ 所謂「農產品產銷履歷制度」有兩項特色：首先、必須確保產品產銷過程都要符合法定或自訂的規範；其次、消費者也可回溯生產過程，選擇自己信任或喜好生產者的產品。此制度需要獨立公正的驗證機構保證其可信賴度。另外，獲得履歷登記證明的產品，因為產銷過程力求符合環保生態要求，因此不僅成本較高，產品選擇也較少，但相對而言，生產者與消費者卻也都能獲得較多保障，不僅能提升生產者的產品形象，不受黑心商品牽連，也減少環境破壞與產品不安全風險。
- p 依上所述，此驗證制度主要是為了實現下列何項公共利益？
- A 避免農民被中盤經銷商所剝削
B 協助生產者提升農業生產技術
C 促進農業生產經營的永續發展
D 提升農業主管機關的行政效率

答案 C

命題出處 公民與社會第四冊第二章：市場機能、第四章：永續發展的經濟課題

測驗目標 綠色農業與永續發展

詳解 A 此「農產品產銷履歷制度」與農民是否遭中盤經銷商所剝削，無直接關聯。B 「農產品產銷履歷制度」主要是讓消費者了解選購農產品的履歷資訊，與協助生產者提升農業生產技術無關。C 透過「農產品產銷履歷制度」，農民必須在產銷過程力求符合環保生態要求，因此將有利於農業生產經營的永續發展；同時也是賦予農產品履歷身分證，能較吸引消費者選購。D 農業主管機關的行政效率提升必須透過績效評估與政府再造，與「農產品產銷履歷制度」無直接關係。

難易度 易

- a 如無其他特別誘因，當產品相近時，市場經濟制度下的消費者會選擇價格較便宜者。若上述履歷制度順利運作，則符合下列何者關於公共利益之敘述？
- A 提高交易成本增加公共利益
B 降低生產成本增加公共利益
C 個人利益和公共利益可同步增進
D 公共利益為公共財效益的極大化

答案 C

命題出處 公民與社會第一冊第四章：公共利益、第四冊第五章：外部效果

測驗目標 私益與公益的包容互補、外部效益

詳解 產銷過程力求符合環保生態要求，未來消費者在選購農產品時，將能透過履歷制度得知產品相關訊息，減少資訊不對稱現象，有利於採買時的選擇，將增進消費者的私人利益；而產銷履歷制度的建立，不僅有利於綠色農業、永續發展，更可促進社會資本，此部分則有利於公共利益的實現，因此可同時促進公益與私益。

難易度 易

- S 農產品產銷履歷制度涉及產銷生產者與消費者之權益，驗證機構證明農產品符合相關規範要求，且驗證機構須經政府認證符合資格。下列敘述，何者正確？
- A 如強制農產品應通過產銷履歷驗證，已限制產銷生產者隱私權
 - B 產銷履歷制度雖公開農產品資訊，但不適用政府資訊公開的規定
 - C 驗證機構並非行政機關，驗證行為不須受誠實信用原則之拘束
 - D 農產品產銷履歷制度應符合行政機關依職權自行訂定之法規命令

答案 B

命題出處 公民與社會第二冊第四章：政府的運作、第三冊第五章：行政法與生活

測驗目標 民間機構與政府的行政行為

詳解 A 基於讓消費者了解農產品產銷履歷的公共利益，因此強制農產品應通過產銷履歷驗證，是可以依法公開產銷生產者相關資訊，並不會侵害其隱私權。B 產銷履歷制度公開農產品資訊，屬於獨立公正的驗證機構所為行為，此為民間機構，因此不適用對政府機關所制定的政府資訊公開之相關規定。C 驗證機構須經政府認證符合資格，因此驗證機構雖然不是政府所屬的行政機關，仍為政府授權的機關，其驗證行為必須受行政行為的原理原則所拘束，包括誠實信用原則在內。D 農產品產銷履歷制度得依專業自行制定相關規定，不受限於行政機關依職權所訂定之法規命令。

難易度 中

d、f 為題組

◎ 1776 年美國的〈獨立宣言〉是西方民主理論演進歷史上的重要文獻。在其〈前言〉中有以下一段文字：「……我們認為下面這些真理是不言而喻的：造物者創造了平等的個人，並賦予他們若干不可剝奪的權利，其中包括生命權、自由權和追求幸福的權利。為了保障這些權利，人們才在他們之間建立政府，而政府之正當權力，則來自被統治者的同意。任何形式的政府，只要破壞上述目的，人民就有權利改變或廢除它，並建立新政府；新政府賴以奠基的原則，得以組織權力的方式，都要最大可能地增進民眾的安全和幸福……」。

- d 有關上文中涉及的民主政治思想，以下何者正確？
- A 這是西方天賦人權觀念的起始
 B 民主政體須經由革命才能產生
 C 如果政府任意沒收人民財產，人民可以抗爭或要求改革
 D 政府權力若來自被統治者的同意，就可以保障人民幸福

答案 C

命題出處 公民與社會第一冊第三章：人與人權、第二冊第二章：民主政治與憲政主義

測驗目標 人權與民主政治

詳解 A 這是 1776 年美國的〈獨立宣言〉，承襲西方天賦人權的觀念；西方天賦人權是 17 世紀洛克與盧梭所共同導引出。B 早期人民透過革命推翻專制政治，建立民主政體；近年來則是透過定期選舉，選出民主政府，例如波蘭在 1989 年國會大選，團結工會大勝，選舉首位非共產黨總理；因此並非一定要經由革命才能產生民主政體。C 如果政府任意沒收人民財產，將違反人民對政府的授權，依文中引述的主張，人民有權抗爭或要求改革。D 政府權力雖來自被統治者的同意，但是若是政府濫權，就無法保障人民幸福。

難易度 易

f 下列哪個關於民主政治的概念並未出現在前述宣言的描述？

- A 被治者同意權 B 政府的正當性 C 反抗統治者權 D 多數統治原則

答案 D

命題出處 公民與社會第二冊第二章：民主政治與憲政主義

測驗目標 民主政治的概念

詳解 「政府之正當權力來自被統治者的同意」一句，反映出 A 被統治者同意權與 B 政府的正當性。「任何形式的政府，只要破壞上述目的，人民就有權利改變或廢除它，並建立新政府」一句則反映出 C 反抗統治者權。

難易度 易

g 一位德國人旅行某地時，寫下：「這裡有奇妙的園林、寶塔、大理石橋，一切都接近盡善盡美，世界沒有任何地方可以與之相比。但是數千個英國人能在七天內將之徹底毀壞。」這位德國人描述的最可能是：

- A 1840 年英軍攻打舟山群島
- B 1860 年英、法劫掠圓明園
- C 1863 年，英艦炮轟鹿兒島
- D 1868 年，英軍攻擊安平港

答案 B

命題出處 歷史第二冊第四篇：晚清之變局

測驗目標 英法聯軍與圓明園

詳解 1860 年，英法聯軍攻破北京城，縱火焚燒圓明園。圓明園始建於康熙年間，其後不斷擴建，華麗非凡，被西方傳教士稱為萬園之園。然而圓明園經英法聯軍一役，園中無數的佛塔、石橋、園林造景多付之一炬，即如外國人也有不少批評。A 指的是鴉片戰爭。C 指的是日本薩摩藩與英國之間的衝突。D 指的是中英樟腦事件。舟山群島、鹿兒島、安平港均沒有如此壯麗的園林建築。

難易度 易

h 一幅畫作描繪某地羊毛市集的景象：各地來的商人熙來攘往，好不熱鬧，主教在廣場上為市民祝福，羊毛商人把貨品陳列攤位上，供人選購，還有幾個攤位專門提供兌換貨幣的服務。這種景象最早可能出現於：

- A 一世紀的雅典
- B 四世紀的羅馬
- C 十二世紀米蘭
- D 十六世紀巴黎

答案 C

命題出處 歷史第三冊世界史第一篇：文明的興起與交會

測驗目標 歐洲商業復甦與新興城市

詳解 歐洲自十一世紀以來，商業逐漸復甦，許多城市因貿易興起，其中著名者如法蘭德斯、威尼斯、米蘭等。這些城市多位處交通要道，商旅往來，貨幣經濟也應運而生。A 一世紀時基督教才創立不久，尚未形成主教制度。B 四世紀的羅馬正遭逢外族入侵，內憂外患不斷，不可能有如此繁榮的景象。D 由於題目是問「最早」，因此可將此選項排除。

難易度 中

j 歷史記載：「金娘，下淡水番婦，習符咒，為人治病。大軍攻鳳山時，聘請她為軍師。臨陣作戰時，要她唸符咒，祈求神佑。」後來大軍攻破鳳山城，大家都說金娘立了大功，被封為「一品柱國夫人」。金娘後遭生擒，送往北京。金娘參與的是：

- A 鄭成功抗清 B 林爽文事件 C 乙未抗日軍 D 二二八事件

答案 B

命題出處 歷史第一冊第二篇：清朝統治時期

測驗目標 林爽文事件的過程

詳解 乾隆年間，林爽文聚眾於臺灣中部起事，攻下彰化縣城。不久，亂事蔓延，北部的新竹、南部的鳳山一帶均有響應。其中鳳山地區的抗清部隊，據傳有金娘相助，林爽文因此封她為一品柱國夫人。亂平後，金娘被送往北京伏法。A 鄭成功與清廷的對抗，主要發生在中國大陸地區。鄭成功攻克臺灣後不久即死去，故金娘不可能在臺灣參與鄭成功抗清的活動。C 金娘如為乙未抗日軍的一分子，則被捕後應交送日本人審判，而非送往清朝治下的北京。D 二二八事件發生時，臺灣已脫離清朝統治 50 餘年，不可能會出現如「一品柱國夫人」的舊官銜。

難易度 中

k 某國一位國會議員批評某次軍事行動，認為當初遠東軍司令部表示：只要派幾艘軍艦在海面行駛，中國就會退兵。現在我們派了這麼多軍艦前往中國，也不見中國退兵。司令部還說，如果能占領臺灣，中國必定派人求和，現在我們也攻打臺灣，還沒有聽說中國有求和的意思。這場戰爭的軍費，就讓遠東軍自行負擔，國會不應當為這次軍事行動付錢。該國會議員所提的軍事行動是：

- A 1840 年鴉片戰爭 B 1856 年英法聯軍
C 1874 年牡丹社事件 D 1884 年中法戰爭

答案 D

命題出處 歷史第二冊第四篇：晚清之變局、第四冊第四篇：世界霸權的爭奪與衝突

測驗目標 中法戰爭與法國的對外政策

詳解 1883 年，清朝與法國由於越南問題爆發戰爭，戰事從越南蔓延至中國東南沿海，法軍甚至出兵臺灣，企圖逼迫清廷讓步。然而，清軍在越南取得勝利，在臺灣則賴劉銘傳等人力抗法軍，法軍久戰不下，徒然耗費大量人力與物力，國會遂有反對繼續作戰之聲浪。A B 中國在鴉片戰爭與英法聯軍中均戰敗求和。C 日本的國會於 1889 年制定憲法後才成立。

難易度 中

詳解 二戰結束後，歐洲國家普遍陷入經濟困境，尤以物資缺乏的情形最為嚴重。物資缺乏導致通貨膨脹，其中又以匈牙利的情況最為惡劣。1946年匈牙利發行一億兆的貨幣，為史上面額最高的貨幣，惡性通貨膨脹之情形可見一斑。A 題幹提及德國，而德國於 1871 年普法戰爭後才成立，因此不可能是 1815 年拿破崙戰爭後的現象。B 當時德國才剛打敗法國，國勢正盛，未有題幹所述的情形。C 一戰後的匈牙利脫離奧匈帝國，獨自發行貨幣，其幣值相對穩定，未有惡性通貨膨脹。

難易度 難

z 清朝末年，一位外交官員前往某國參觀該國閱兵，回北京後報告：「這個國家改變制度，「擇（他國）長（處）為師，悉命人譯。飛砲霹靂，軍容強盛。有輕氣球，凌風千尺。」他有感而發，希望兩國能和平相處，「玉帛相見，互相輔弼」。這位外交官員參訪的國家最可能是：

A 德國

B 日本

C 英國

D 土耳其

答案 B

命題出處 歷史第四冊第四篇：世界霸權的爭奪與衝突

測驗目標 明治維新與日本的崛起

詳解 引文之關鍵在於「改變制度」、「擇（他國）長（處）為師」兩句。日本在明治維新之後，革除傳統的封建制度，走向君主立憲，並翻譯外文書籍，學習西方長處，使得國力迅速提升。A C 德（普魯士）、英兩國均位處歐洲，工業革命發生得較早，應為被學習的國家，而非學習他國長處的國家。D 土耳其在近代長期積弱不振，直到一戰後才在凱末爾的帶領下走向現代化。

難易度 易

x 某次，中國政府派兵前往國外，全軍包括軍官與士兵等，共約 28,000 人，並設置醫官、醫士、通譯、買辦等職官。拜訪了 30 多個國家和地區，途中曾與某國發生衝突，指揮官帶領官兵破城，生擒該國國王及家屬，送回京師。這是：

A 漢代，張騫出使西域

B 宋代，富弼出使漠南

C 明代，鄭和出使南洋

D 民國，國軍前往滇緬

答案 C

命題出處 歷史第二冊第三篇：宋、元、明與盛清

測驗目標 鄭和下西洋

詳解 明朝永樂至宣德年間，鄭和率領龐大的艦隊七次遠航。根據記載，鄭和的艦隊擁有 200 多艘船隻，軍官、士兵、買辦、通譯、醫官、醫士、太監共 27,000 餘人。此行目的之一，在於宣揚國威，遇有不從者，則加以征討，形同一種遠征部隊，故有題幹所述的情形。A 張騫出使西域、富弼出使漠南，隨行人員均不過數百人，遠遠不及鄭和下西洋的規模。D 八年抗戰期間，國軍遠征滇緬，旨在阻止日軍，沒有必要拜訪 30 多個國家。

難易度 中

C 某書提到：「此物」自十六世紀引入歐洲後，廣為流傳。1604 年，英王指出：此物「惡臭難聞，有礙觀瞻，更傷害腦部」，為避免其進口，特別提高關稅。明中葉以後，中國也自呂宋引進，開始於閩粵地區種植。1637 年，明朝政府針對此物下令，如有私種私售者，擬斬首示眾。兵部尚書卻上奏說「遼東士卒，嗜此若命」，建議暫緩施行。「此物」是：

A 菸草 B 鴉片 C 咖啡 D 胡椒

答案 A

命題出處 歷史第三冊世界史第二篇：近代世界的轉變

測驗目標 大航海時代與菸草的流行

詳解 十六世紀以來，隨著西班牙人在中南美洲的殖民活動，許多美洲物產被引入歐洲與亞洲地區，包括馬鈴薯、番薯、番茄、菸草等。其中菸草於十七世紀時已廣泛流行於歐洲社會，而中國則藉由西班牙的殖民地呂宋，引進菸草，開始於閩粵地區種植。菸草的流行，引來正反不一的評價，因而有題幹所述的情形。B 鴉片在明代主要做為藥用，甚至是種貢品，朝廷並未限制其種植或販售。C 明代並不流行咖啡。D 胡椒對西方人而言是種珍貴的香料，不會有「惡臭難聞」、「傷害腦部」的描述。

難易度 中

v 民國 50 年代，中華民國政府開始推動「外交下鄉，農業出洋」的國際合作計畫，邀請非洲友邦領袖來臺參訪農村，也派出農業專家與援外技術團隊到非洲。這個計畫的主要目的是：

A 爭取非洲國家支持中華民國在聯合國的席位
B 開發當地天然資源，供應中華民國所需原料
C 輸出民主制度，促進非洲當地政治的現代化
D 推廣中華民國成功經驗，體現儒家學說價值

答案 A

命題出處 歷史第一冊第四篇：中華民國時期：當代臺灣

測驗目標 民國 50 年代的外交政策

詳解 1960 年以來，大量的非洲國家脫離殖民統治，獨立建國，並取得聯合國的席位。這些非洲國家雖然國力有限，但在聯合國中席次眾多，足以左右表決結果，因此中共與中華民國均大力拉攏，藉此爭奪或鞏固在聯合國中的席位。B 非洲大部分國家開發落後，若要協助開發當地的天然資源，勢必所費不貲，不如直接向他國購買原料。C 當時中華民國仍處於戒嚴狀態，沒有民主制度可言。D 非洲國家有其固有的文化傳統，中華民國沒有必要將儒家學說強加在他們身上。

難易度 易

b 某人回憶：長崎「現在」滿街都是洋文招牌，但當我數十年前初到此求學時，才第一次見到 ABC。求學期間，我認識一位來自薩摩藩的醫生，奉其藩主之命，遠從鹿兒島前來長崎，學習荷蘭醫學。還說：當時如果想學習炮術，只能閱讀荷蘭文的書籍。此人所說的「現在」最可能是：

- A 1590 年代，豐臣秀吉統一日本時
- B 1630 年代，日本頒布鎖國令之前
- C 1860 年代，美國海軍進入日本後
- D 1940 年代，日本戰敗宣布投降後

答案 C

命題出處 歷史第四冊第四篇：世界霸權的爭奪與衝突

測驗目標 黑船事件與明治維新

詳解 自從 1633 年江戶幕府實施鎖國政策以來，西方國家中僅有荷蘭獲准與日本進行合法的貿易。因此，西方學術的發展，也只能透過荷蘭引介到日本，故西學又稱為「蘭學」。蘭學的內容包括醫學、法律、軍事等，在日本開國之前，一直是日本接觸西方文化的窗口。1853 年，美國東印度艦隊司令培里，率軍叩關，終於打開日本的貿易大門。從此之後，西方文化快速傳入日本，乃有題幹所述的現象。A 當時蘭學尚未形成。B 當時的江戶幕府對西方文化持保留態度，不可能會有滿街都是洋文招牌的景象。D 當時日本已現代化，與西方文化接觸頻繁，許多外文書籍早已翻譯成日文，不會有題幹所述的現象。

難易度 易

- n 一座教堂，原本建築在羅馬神廟的遺址上，八世紀時，改建成清真寺；十三世紀時，又改為羅馬教會的主教座堂；十六世紀時，重新修建。這座教堂因經歷不同的歷史發展，被聯合國列為世界遺產。這座教堂最可能位在：
- A 巴爾幹半島
 - B 猶加敦半島
 - C 阿拉伯半島
 - D 伊比利半島

答案 D

命題出處 歷史第三冊世界史第二篇：近代世界的轉變

測驗目標 從中古到近代，伊比利半島的歷史轉變

詳解 伊比利半島曾為羅馬帝國的領土，八世紀時，受到穆斯林（奧瑪亞王朝）的入侵，成為伊斯蘭世界。十一世紀時，隨著後奧瑪亞王朝的崩潰，穆斯林勢力逐漸退出伊比利半島，基督教國家取而代之。十三世紀時，除了半島南端的格拉納達，伊比利半島基本上已為基督徒所掌握，許多伊斯蘭的建築物因此改建為教堂。十六世紀，西班牙哈布斯堡王朝的國勢達於鼎盛，這些教堂再加以重修，反映了歷史的變遷。A 八世紀的巴爾幹半島仍為東羅馬帝國的領土，較不可能有清真寺出現。B 八世紀的猶加敦半島為馬雅人所占據，不可能會有清真寺。C 阿拉伯半島未曾受到羅馬的統治。

難易度 中

- m 閱讀以下兩段資料：

資料一：當時，最普遍的工作就是家庭幫傭，幾十萬名婦女從事這種工作；也有許多婦女在紡織工廠做工，最糟糕的是許多婦女必須從事苦力活，按件計酬，沒有保障。

資料二：我原本在人家中幫傭，每天從上午 6 點做到晚上 9 點，極為厭惡這種工作。後來一家軍火工廠招工，我前往應徵，負責製作彈藥引信，一天工作 12 個小時，薪水是原本薪水的兩倍半。

這兩段資料最適當的主題是：

- A 南北戰爭期間的黑人婦女勞工
- B 《拿破崙法典》實施後的婦女勞動
- C 一次世界大戰前後的婦女就業
- D 東歐地區社會主義與婦女問題

答案 C

命題出處 歷史第四冊第四篇：世界霸權的爭奪與衝突

測驗目標 一戰前後的婦女就業情形

詳解 一戰以前，婦女地位低下，工作缺乏保障。一戰爆發後，由於成年男子多被徵召入伍，工廠缺乏人力，許多婦女遂進入工廠工作，負責製造武器相關的零件，其待遇與地位隨之提升。A 從資料中無法判斷這些婦女的種族。B 《拿破崙法典》並未特別規定婦女的勞動問題。D 在社會主義制度下，生產活動應由國家統籌規劃，較不可能出現薪水差距如此大的現象。

難易度 易

，臺灣總督府發布命令，強制收購輸出的蓬萊米，收購價格比市場價格低一、二成左右，但又高於島內主要消費米的在來米價。這道命令的主要目的是：

- A 維護臺灣人食用在來米的文化傳統
- B 官方訂定價格，維護臺灣農民權益
- C 增加稻米輸出，確保總督府的收入
- D 管控輸往日本的稻米數量以及價格

答案 D

命題出處 歷史第一冊第三篇：日本統治時期

測驗目標 日治臺灣時期的稻米管控

詳解 1920 年代，隨著蓬萊米的研發成功，日本自臺灣大量輸出蓬萊米，以供應日本國內所需。至於臺灣本土所需稻米，仍以傳統的在來米為主。為平衡蓬萊米與在來米的市場，日本強力控制稻米的價格與貿易量，以使日本得到最大的利益。A B 做為殖民者，日本優先考量的是本國的利益，而非殖民地的文化傳統或農民權益。C 增加臺灣稻米輸出，即使有利於總督府，卻可能因此破壞日本的米價。因此日本的政策應是在日本與臺灣的市場中取得一種平衡，而非一味增加臺灣的稻米輸出。

難易度 易

。一位美國總統改變原有的外交策略，親自訪問某國，結束韓戰以來雙方隔離的狀態，以緩和兩國之間的緊張關係。此舉不僅影響了亞洲，甚至是世界的局勢。這是：

- A 艾森豪訪問臺北
- B 尼克森訪問北京
- C 卡特訪問東京
- D 柯林頓訪問莫斯科

答案 B

命題出處 歷史第三冊中國史第二篇：當代中國與臺海兩岸關係、第一冊第四篇：中華民國時期：當代臺灣

測驗目標 尼克森與美國對華政策的轉變

詳解 1969年，尼克森就任美國總統。有鑑於1960年代的越戰對美國經濟帶來的傷害，以及美蘇冷戰遲遲無法突破僵局，尼克森決定改變外交策略，拉攏中共，擴展中國市場，同時「聯中制蘇」。為此，尼克森於1972年親自訪問中國，與毛澤東、周恩來等人會面，並簽署了〈上海公報〉。兩國自韓戰以來的敵對關係，至此結束，彼此走向合作，對臺灣的政局，乃至世界的冷戰局勢均產生深刻的影響。A艾森豪為1953～1961年間的美國總統，當時美國仍堅決反對中共政權。C卡特為1977～1981年間的美國總統，其任內中美正式建交，但這與他訪問東京並無直接的關係。D柯林頓為1993～2001年間的美國總統，當時蘇聯已經瓦解，柯林頓訪問莫斯科並未造成太大影響。

難易度 易

／ 兩派人討論施政方向，有人認為：殷代的盤庚住茅屋，舜故意把黃金藏起來，漢高祖也禁止商賈當官，就是要遏止貪鄙之俗。也有人表示：各地設置運輸官員，方便運送貨品，可以賤買貴賣，平抑物價，都是便民的做法，有何不好？這兩派人討論的情況最可能是：

A 漢代的經濟措施

B 宋代的商業稅收

C 明代的海外貿易

D 清代的自強新政

答案 A

命題出處 歷史第二冊第二篇：秦漢至隋唐

測驗目標 漢代的平準法與均輸法

詳解 漢武帝時，實施「均輸法」與「平準法」。前者是將各國進貢京師之貨物，運往價高地出售；後者則是收購天下貨物，賤買貴賣，與均輸法都有平衡物價的功用。然而，由於漢初曾有重農抑商之政策，因此均輸法與平準法受到了部分官員的反對。BC宋代的商業稅收與明代的海外貿易，目的均在增加國庫收入，與平抑物價沒有直接的關係。D自強新政旨在富國強兵，與平抑物價沒有直接的關係。

難易度 中

！ 兩個鮮卑大臣議論國政時發生爭執，一人口操漢語，引用儒家理念發表議論，另一人責罵他為「漢兒」。這個現象最早可能發生在：

- A 北朝後期，實施漢化改革政策後
- B 隋、唐前期，種族融合形成之後
- C 五代十國，契丹南下打草穀之時
- D 北宋初年，北亞民族南下中原時

答案 A

命題出處 歷史第二冊第二篇：秦漢至隋唐

測驗目標 北朝的胡漢衝突

詳解 北朝為鮮卑人政權，但自北魏孝文帝實施漢化政策以來，許多鮮卑貴族習染漢文化，招致另一派鮮卑人的不滿。漢化與鮮卑本位主義，遂成北朝一直以來的爭執。B 隋唐皇室兼有漢人與鮮卑人血統，族群融合，已較無種族歧視問題。C D 五代十國到北宋初年時，鮮卑人已沒落，較不可能出現鮮卑大臣。

難易度 易

@ 某一時期中，有些人擁有「特殊身分」，他們雖不能任官，卻可免除徭役，不被胥吏侵擾；他們與士人相同，可以用官禮參見官員，也可免於笞打等刑罰。因此，人們讀書不一定要求取官職，倒是希望獲得「身分」，可以保障身家。這種「身分」是指：

- A 漢代的孝廉
- B 唐代的明經
- C 宋代的禁軍
- D 明代的生員

答案 D

命題出處 歷史第二冊第三篇：宋、元、明與盛清

測驗目標 明清的科舉制度與生員之特權

詳解 明清的生員，即俗稱的秀才，指的是經過考試，取得入學資格的讀書人。成為生員即代表有了「功名」，雖然還不能任官，但擁有許多特權，包括免除徭役、見知縣時不用下跪、免於笞打等刑罰。因此，許多讀書人不求當官，但求取得生員身分，即可在地方安居。A 孝廉是漢代察舉制度的一種常見的科目，被舉為孝廉者，一般都能擔任官職。B 唐代的明經與進士是科舉制度中最常見的兩種科目，通過明經科考試者，即具備任官的資格。C 宋代的軍人地位低下，不可能會有這些特權。

難易度 中

明末清初的西洋傳教士在中國傳教，往往必須借助於傳教以外的學識，才能受到朝廷的重視。如耶穌會教士南懷仁因擁有西方學問技藝而擔任許多職務，除為大家所熟知的欽天監外，他最可能還在哪個政府部門任職？

- A 吏部
B 戶部
C 禮部
D 工部

答案 D

命題出處 歷史第二冊第三篇：宋、元、明與盛清、第二冊第二篇：秦漢至隋唐

測驗目標 明末清初的傳教士與六部關係

詳解 隋唐以來，六部成為定制，其中吏部掌管官吏的任免、考核，戶部掌管土地、戶籍、賦稅，禮部掌管典章、科舉、外交禮儀，兵部掌軍事，刑部掌法律，工部則負責各種工程相關的事務。明末清初的西洋傳教士，由於擁有西方學問技藝，可協助許多工程的測量、規劃、施工、校勘等事務，因此最可能在工部任職。

難易度 易

S 一個經濟發展程度較高的國家常會利用各種手段，將其鄰近地區的經濟生產內容導引至為其提供廉價原料和勞動力的方向。以下在 1930 年代發生的幾個事件中，何者最足以說明這種經濟發展模式？

- A 臺灣總督府推動臺灣工業化，建立工業
B 甘地反對食鹽公賣制度，號召自行晒鹽
C 中國與列強交涉，關稅自主，裁撤釐金
D 羅斯福推動新政，發展公共事業及農業

答案 A

命題出處 歷史第一冊第三篇：日本統治時期

測驗目標 日治臺灣時期的殖民經濟政策

詳解 日治臺灣時期，臺灣做為日本的殖民地，經濟發展程度較日本低，日本乃將臺灣的經濟生產導引至為其提供廉價原料和勞動力的方向。因此，總督府在臺灣推動的多項經濟建設，包括工業化，其最終目的均在方便日本獲取臺灣的資源，屬於典型的殖民經濟體制。B 甘地的行為旨在反抗英國的殖民統治，與題幹所述的情形相反。C 關稅自主旨在擺脫列強的經濟控制，與題幹所述的情形相反；裁撤釐金則有助於中國工商業的發展，同樣與題幹所述不符。D 新政旨在復甦國內的經濟，降低失業率，與鄰近地區的經濟生產無直接關係。

難易度 易

- & 圖 3 為某便利商店評估其擇址區位的地理資訊系統分析結果圖。該圖的分析指標最可能是便利商店哪種經營條件？
- A 400 公尺範圍內的商店服務圈
 - B 店面樓地板面積在 20 ~ 40 坪之間
 - C 300 公尺內同業商店的數量與分布
 - D 位址在三角窗或三角窗隔壁 1 至 2 間



圖 3

答案 A

命題出處 地理第二冊：第 5 章 第三級產業概論

測驗目標 能處理與歸納地理資料

詳解 由題圖觀察，圖中的點為便利商店，以便利商店為中心往外繪製出相同大小的範圍。A 「400 公尺範圍內的商店服務圈」比較接近圖中呈現的現象。B 從圖中無法找到樓地板面積相關訊息。C 圖中以便利商店為中心繪製出的範圍之內沒有便利商店。D 說明便利商店的位置，卻無法解釋圖中範圍代表的意義。

難易度 易

- * 臺灣有許多聚落的名稱，係以當地地形特徵作為命名依據。其中以「崙」命名的聚落，在下列哪一地形區最普遍？

A 花東縱谷 B 桃園台地 C 埔里盆地 D 濁水溪沖積扇

答案 D

命題出處 地理第四冊：第 11 章 臺灣的位置與環境特色

測驗目標 能分析地理現象的空間特性

詳解 D 「崙」為沙丘之意，常見於臺灣西部沙岸地區。

難易度 易

- (圖 4 為某 4 個臨海都市的氣候圖，假設 4 都市皆有一高度相同的尖塔。在 12 月 22 日正午 12:00 時，4 都市上空皆萬里無雲，則哪個都市的尖塔陰影最長且朝向正北？

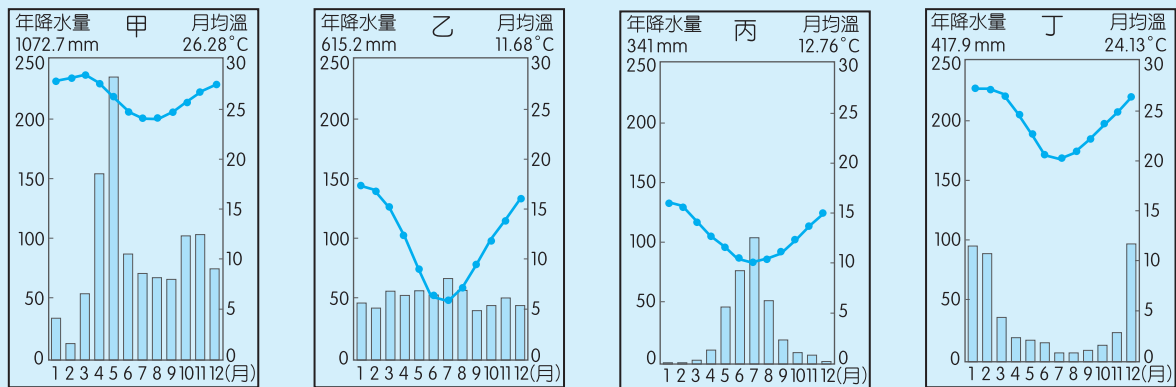


圖 4

A 甲

B 乙

C 丙

D 丁

答 案 A**命題出處** 地理第一冊：第 11 章 地表風系與氣候分類**測驗目標** 能分析地理現象的空間特性

詳 解 根據「12月22日」可知為冬至，推論太陽直射南回歸線；再由「都市的尖塔陰影……朝向正北」推論該都市位於南回歸線以北，其影子才會朝北；最後由「都市的尖塔陰影最長」推論距離南回歸線愈遠者，其陰影愈長。A 甲地年溫差最小，平均氣溫最高，位置最接近赤道，故為最適合的答案。

難 易 度 難

-) 跨太平洋夥伴協定 (The Trans-Pacific Partnership, TPP) 共有美國、新加坡、韓國、日本、越南、馬來西亞、汶萊、紐西蘭、澳洲、加拿大、墨西哥、祕魯等 12 個成員國，目前臺灣正積極準備爭取加入。TPP 的成員國中，以哪個文化區的國家為數最多？

A 南亞文化區

B 西方文化區

C 東南亞文化區

D 大洋洲文化區

答 案 B**命題出處** 地理第三冊：第 1 章 世界的劃分**測驗目標** 能處理與歸納地理資料

詳 解 美國、紐西蘭、澳洲、加拿大、墨西哥、祕魯屬於西方文化區 (6)；新加坡、越南、馬來西亞、汶萊屬於東南亞文化區 (4)；韓國、日本屬於東亞文化區 (2)。

難易度 易

◎ 西元八、九世紀開始，阿拉伯人在東非肯亞（Kenya）、坦尚尼亞（Tanzania）等沿海建立許多販奴據點，透過不同季節的盛行風向，將買來的奴隸利用帆船運到阿拉伯半島和南亞諸國販售。「不同季節的盛行風向」的成因，和下列哪兩項因素關係最密切？

- 甲、行星風帶的季節移動；
- 乙、洋流系統的季節變化；
- 丙、大範圍海陸性質的差異；
- 丁、聖嬰和反聖嬰現象的交替。

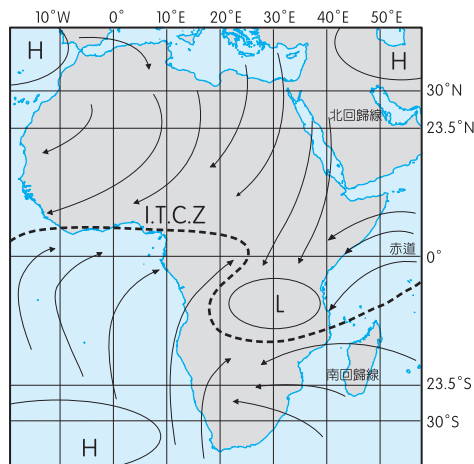
A 甲乙 B 甲丙 C 乙丁 D 丙丁

答案 B

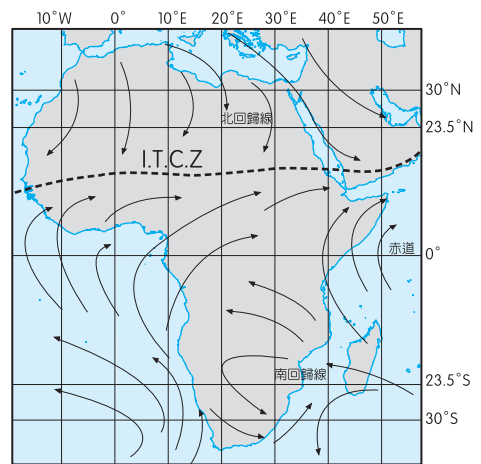
命題出處 地理第一冊：第 10 章 天氣與氣候

測驗目標 能解釋人類與環境間的相互關係

詳解 每年 11 月至隔年 4 月，人類利用東北季風駕帆船從阿拉伯半島到肯亞；每年 6 ~ 10 月，利用西南季風從肯亞返航到阿拉伯半島。季風（如下圖）的形成原因有二：一為行星風帶隨著季節移動（甲），導致冬、夏季的風向相反；另一則為大範圍海陸差異（丙），其導致陸地與海洋的冬、夏兩季氣壓高（如下圖）。



▲ 1 月



▲ 7 月

難易度 易

W 表 3 為 2014 年臺北市中正區、彰化縣彰化市、雲林縣四湖鄉、南投縣埔里鎮 4 個行政區便利商店的數量分布。南投縣埔里鎮為表 3 中的哪個行政區？

表 3

	甲	乙	丙	丁
便利商店總數（家）	82	135	2	46

A 甲

B 乙

C 丙

D 丁

答案 D**命題出處** 地理第二冊：第 5 章 第三級產業**測驗目標** 能以地理概念、原則和理論分析重要的地理事實

詳解 臺灣行政區按人口規模大小排序，直轄市的區 > 縣轄市 > 鎮 > 鄉。若根據行政區人口規模以及中地理論「等級愈低者，數量愈多，等級愈高者，數量愈少」等概念判斷，題目 4 個行政區便利商店的數量分布多寡依序為臺北市中正區、彰化縣彰化市、南投縣埔里鎮、雲林縣四湖鄉，故選 D。

難易度 易

E 照片 1 是臺灣某座橋梁上的標誌。該照片的拍攝地點，最可能位於下列哪條河川的流域？

A 大甲溪

B 濁水溪

C 高屏溪

D 秀姑巒溪



照片 1

答案 D**命題出處** 地理第四冊：第 14 章 臺灣的區域特色與發展問題**測驗目標** 能知道或記憶重要的地理事實及名詞

詳解 菲律賓海板塊與歐亞板塊交接帶位於臺灣花東縱谷平原，故選 D 秀姑巒溪。實際上，題目照片地點為花蓮縣玉里鎮舊鐵橋自行車道上，鐵橋跨越秀姑巒溪。

難易度 易

R ~ Y 為題組

◎ 圖 5 是某種農業活動的作物，從農場生產到外銷國外的運輸流程；圖 6 是四種農業活動的農業系統示意圖。請問：

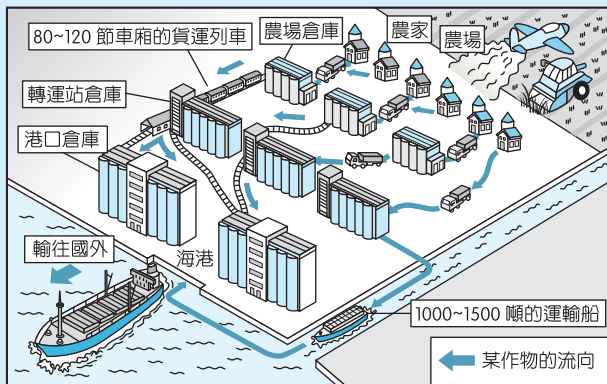


圖 5

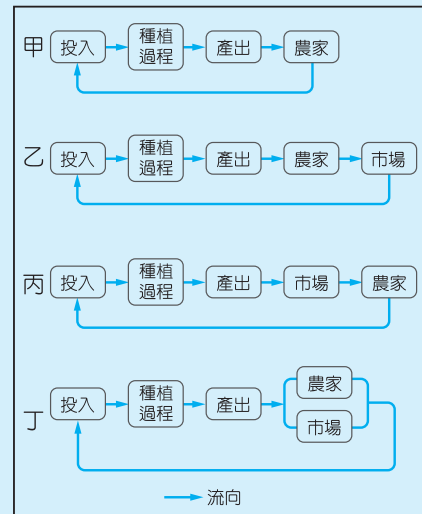


圖 6

R 根據圖 5 中右上方所示的耕作方式，該種農業活動最可能具有下列何種特徵？

- A 生產集約程度高
- B 農牧業混合經營
- C 產地先行部分加工
- D 單位勞動力產量高

答案 D

命題出處 地理第二冊：第 1 章 第一級產業

測驗目標 能運用適當方法，觀察重要地理現象與獲取地理資料

詳解 由圖 5 中的飛機噴灑農藥、機器收割農作物、農場設置倉庫、鐵路網運送作物、運輸船將作物銷往外國……等特徵，推論應為商業性穀物農業，該農業以純作物為經營方向、產地不先進行部分加工、單位勞動力的產量高，故選 D。

難易度 易

T 圖 6 中哪個農業系統示意圖，最能夠代表圖 5 所示的農業活動？

- A 甲
- B 乙
- C 丙
- D 丁

答案 C

命題出處 地理第二冊：第 1 章 第一級產業

測驗目標 能理解或應用重要的地理事實、名詞、概念、原則和理論

詳解 圖 5 中農業產出藉由運輸船大量輸往國外市場，可知此農業活動以市場為導向。再者，根據農業系統：投入、過程、產出與回饋等流程，此農業活動的作物（產出）進入市場，農民把賺取的部分現金再投入農業系統，故以圖 6 中，C 丙圖較為適合。圖 6 中，甲圖農業活動的產出進入

農家，農家再投入農業系統，經營目的以自給性為主；乙圖農業活動的產出進入農家，由市場將資金投入農業系統；丁圖農業活動的產出進入農家與市場，由農家與市場將賺取的資金投入農業系統，皆與圖 5 中狀況不符合。

難易度 易

Y 圖 5 所示的農業活動，在下列哪個自然景觀帶最為盛行？

- A 熱帶雨林景觀帶 B 熱帶莽原景觀帶
C 溫帶草原景觀帶 D 溫帶灌木林景觀帶

答案 C

命題出處 地理第一冊：第 15 章 自然景觀帶

測驗目標 能分析地理現象的空間特性

詳解 承上題解析，該農業活動為商業性穀物農業，穀物以小麥為主，分布於美國中部、阿根廷、歐洲大平原等地區，氣候類型大致屬於溫帶半乾燥和溫帶大陸性氣候，其相對應的自然景觀帶為 C 溫帶草原或溫帶落葉林。

難易度 易

U~O 為題組

◎ 表 4 是 2014 年巴西舉辦足球世界盃 32 強的分組名單。請問：

表 4

2014 年世界盃足球賽 32 強分組名單			
A 組	B 組	C 組	D 組
巴西	西班牙	哥倫比亞	烏拉圭
克羅埃西亞	荷蘭	希臘	哥斯大黎加
墨西哥	智利	象牙海岸	英格蘭
喀麥隆	澳大利亞	日本	義大利
E 組	F 組	G 組	H 組
瑞士	阿根廷	德國	比利時
厄瓜多	波士尼亞－赫塞哥維納	葡萄牙	阿爾及利亞
法國	伊朗	迦納	俄羅斯
宏都拉斯	奈及利亞	美國	南韓

U 世界只有少數國家盛產石油並可輸出餘油。表 4 的國家分組名單中，哪兩組加起來的石油輸出國數量最多？

- A A 組、B 組 B C 組、E 組 C D 組、G 組 D F 組、H 組

答案 D

命題出處 地理第四冊：第 8 章 西亞（一）

測驗目標 能知道或記憶重要的地理事實及名詞；能處理與歸納地理資料

詳解 石油輸出國家組織成員國包括阿爾及利亞、安哥拉、厄瓜多、印尼、伊朗、伊拉克、科威特、利比亞、奈及利亞、卡達、沙烏地阿拉伯、阿拉伯聯合大公國、委內瑞拉。各選項的石油輸出國家組織成員國數量如下：A A、B 組：0 個。B C、E 組：厄瓜多，1 個。C D、G 組：0 個。D F、H 組：伊朗、奈及利亞、阿爾及利亞，3 個。

難易度 中

I 2014 年世界盃足球賽 32 強中，下列哪個國際組織的球隊數量最多？

A 歐洲聯盟（EU）

B 非洲聯盟（AU）

C 亞太經合會（APEC）

D 南美洲國家聯盟（UNASUR）

答案 A

命題出處 地理第三冊：第 1 章 世界的劃分

測驗目標 能知道或記憶重要的地理事實及名詞；能處理與歸納地理資料

詳解 2014 年世界盃足球賽 32 強中，各國際組織涵蓋的球隊數量如下：

歐洲聯盟（10）	克羅埃西亞、西班牙、荷蘭、希臘、義大利、法國、德國、葡萄牙、比利時、英格蘭
非洲聯盟（5）	喀麥隆、象牙海岸、奈及利亞、迦納、阿爾及利亞
亞太經合會（6）	墨西哥、澳大利亞、日本、美國、俄羅斯、南韓
南美洲國家聯盟（6）	巴西、智利、哥倫比亞、烏拉圭、厄瓜多、阿根廷

難易度 中

O 2014 年世界盃足球賽 32 強中，使用下列哪種語言作為官方語言最為普遍？

A 英語

B 法語

C 西班牙語

D 葡萄牙語

答案 C

命題出處 地理第四冊：第 1 章 中南美洲（一）

測驗目標 能知道或記憶重要的地理事實及名詞；能處理與歸納地理資料

詳解 C 西班牙、墨西哥、智利、哥倫比亞、烏拉圭、厄瓜多與阿根廷等 7 個國家以西班牙語為官方語言，數量較多。

難易度 易

P、A 為題組

◎ 圖 7 為某地的衛星影像圖，戊地北方的深色部分為湖泊。請問：

P 圖 7 中戊地北方的湖泊，其成因最可能為何？

- A 火山噴發形成的火口湖
- B 板塊張裂形成的構造湖
- C 冰河侵蝕形成的冰蝕湖
- D 河岸崩塌阻塞的堰塞湖

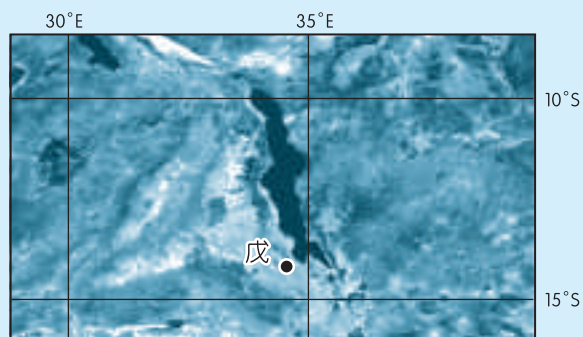


圖 7

答案 B

命題出處 地理第四冊：第 3 章 非洲（一）

測驗目標 能知道或記憶重要的地理事實及名詞

詳解 根據題圖 $30^{\circ}\text{E}\sim 35^{\circ}\text{E}$ 、 $10^{\circ}\text{S}\sim 15^{\circ}\text{S}$ 推論此區位於非洲東側，該區位於板塊張裂帶，板塊運動會發生斷層、褶曲等現象，產生陷落窪地而後積水成湖，故當地的湖泊為構造湖，選 B。

難易度 中

A 農業是圖 7 中湖泊西側居民的主要經濟活動。下列哪組農作物在該地區最為普遍？

- A 小麥、葡萄、橄欖
- B 菸草、甘蔗、棉花
- C 燕麥、樹薯、柑橘
- D 稻米、黃豆、櫻桃

答案 B

命題出處 地理第四冊：第 3 章 非洲（一）

測驗目標 能解釋人類與環境間的相互關係

詳解 B 圖 7 中的湖泊為馬拉威湖，湖泊西側的馬拉威居民主要種植菸草、甘蔗、棉花、咖啡、茶葉等作物，其中菸草、糖與茶葉為主要出口作物。

難易度 難

S ~ F 為題組

◎ 表 5 為臺灣某年度 4 個氣象測站的降水（單位：mm）與氣溫（單位：°C）日變化資料。請問：

表 5

天氣 / 日期	5 / 15	5 / 16	5 / 17	5 / 18	5 / 19	5 / 20	5 / 21	5 / 22	5 / 23	5 / 24	
臺北	降雨	32.5	1.5	0.0	1.0	11.0	171.5	242.0	6.0	2.5	0.5
	氣溫	26.1	24.1	27.6	28.2	26.2	24.7	19.4	23.5	24.8	27.3
臺中	降雨	220.4	16.3	0.0	39.1	99.0	67.2	52.0	0.4	8.6	0.0
	氣溫	26.4	26.6	27.8	26.1	24.6	25.0	24.5	26.3	25.7	27.4
恆春	降雨	0.0	0.0	0.0	0.0	2.5	3.0	3.0	0.0	0.0	0.0
	氣溫	28.7	28.9	28.8	29.2	28.7	28.0	26.2	28.2	27.3	29.4
臺東	降雨	0.0	0.8	0.0	0.1	3.9	5.8	1.7	0.0	0.0	0.0
	氣溫	30.6	26.2	28.3	28.1	27.4	26.9	25.2	26.8	27.1	27.8

S 根據表 5 的降水及氣溫資料，臺灣在該年 5 月 15 日至 24 日期間，最可能出現何種天氣現象？

- A 鋒面滯留
- B 寒流過境
- C 颱風來襲
- D 熱對流旺盛

答案 A

命題出處 第四冊：第 11 章 臺灣的位置與環境特色

測驗目標 能以地理概念、原則和理論分析重要的地理事實

詳解 A 從表 5 推論，降水事件從 5 / 15 臺中逐漸移到 5 / 20 臺北，且時間長達 5 天以上，比較接近鋒面滯留可能發生的現象。B 根據中央氣象局定義：「寒流是指在 48 小時內氣溫驟降 4°C 或 4°C 以上，且低溫在 14°C 以下。」表格中的氣溫變化非如此。C 降水事件影響臺灣時間長達 5 天以上，非颱風的特徵。D 熱對流非僅出現於臺北與臺中兩地。

難易度 中

D 依照 5 月 18 日至 24 日的日降水量與日均溫變化趨勢，5 月 24 日降雨的中心區域最可能移動至哪個地區？

- A 南海
- B 東海
- C 菲律賓海
- D 巴士海峽

答案 B

命題出處 地理第四冊：第 11 章 臺灣的位置與環境特色

測驗目標 能運用適當方法，觀察重要地理現象與獲取地理資料

詳解 由表 5 中知，5 / 15 臺中降水量最多、5 / 20 ~ 5 / 21 以臺北降水量最多，降水中心由臺中往臺北移動，因此推論 5 / 24 降水中心移動到 B 北方海域——東海。

難易度 中

F 根據表 5 的資料判斷，臺灣在該年 5 月 15 日至 24 日期間，下列何日的西南季風最為強勁？

A 5 月 15 日

B 5 月 18 日

C 5 月 20 日

D 5 月 24 日

答案 A

命題出處 地理第四冊：第 11 章 臺灣的位置與環境特色

測驗目標 能運用適當方法，觀察重要地理現象與獲取地理資料

詳解 西南季風迎風面降雨最明顯地區為臺中，但 A 5 月 15 日高達 220mm 的降水量，主要來自鋒面滯留帶來的降水，此時，滯留鋒面位在臺灣，鋒面北方的高壓會抑制西南季風的勢力。

難易度 難

G、H 為題組

◎ 1492 年，哥倫布率領 3 艘帆船從西班牙帕洛斯港（37°N，6°W）出海，經加那利群島（28°N，16°W）向西橫渡大西洋，於 10 月 12 日登陸美洲，陸續繞經附近地區，完成首航。一行人於 1493 年啟程返航，此後陸續有人前往美洲，帶回許多新物種，並傳播到各地，促成「物種大交換」。請問：

G 哥倫布於出發前，表示可以帶回下列什麼物品，才說服西班牙王室出資？

A 美洲白銀

B 印度香料

C 玉米花生

D 南亞蔗糖

答案 B

命題出處 歷史第三冊世界史第二篇：近代世界的轉變

測驗目標 大航海時代與哥倫布發現新大陸

詳解 十五世紀時，由於鄂圖曼土耳其帝國阻斷了西方人前往東方貿易的路線，迫使西方人向外探求前往東方的新航線。當時對西方人來說，東方的香料包括豆蔻、胡椒、肉桂、丁香等物品，價值不斐，堪比黃金。哥倫布即是以香料為餌，說服西班牙王室出資，讓他向外尋找前往東方的新航線。這也是為什麼當哥倫布抵達新大陸（美洲）時，誤以為他到了印度的原因。A C 在哥倫布抵達美洲以前，歐洲人並不知道美洲的存

在，哥倫布自然也不可能以美洲的白銀，或是美洲原生的玉米做為目標。D 歐洲本身即有甜菜糖，對於南亞蔗糖的需求，遠不如香料來得殷切。

難易度 易

H 哥倫布首航美洲的海上探險，其航路的選擇和哪兩項因素的關係最密切？

- 甲、大圓航線；
- 乙、洋流系統；
- 丙、季風交替；
- 丁、宗教信仰；
- 戊、行星風帶。

A 甲丙

B 乙丁

C 乙戊

D 丙丁

答案 C

命題出處 地理第一冊：第 11 章 地表風系與氣候分類

測驗目標 能以地理概念、原則和理論分析重要的地理事實

詳解 帆船運行由風力吹動，為了增加航行速度，應考量洋流（乙）與風向（戊）；哥倫布首航美洲的海上探險，其航路選擇與加那利涼流、赤道洋流、東北信風有密切關係。

難易度 易

J、K 為題組

◎ 某一時期，朝廷重視海路互市，開放沿海地區，以便與阿拉伯半島的大食、印度半島的注輦（Chola）、東南亞的蘇門答臘、爪哇、占城等地貿易，商人甚至遠從麥加前來。政府因此在廣州、泉州、杭州、明州、密州等港口設市舶司，發給貿易執照，徵收貨物稅。請問：

J 政府設立機構管理海上貿易活動，最早始於何時？

A 唐代

B 宋代

C 元代

D 明代

答案 A

命題出處 歷史第二冊第二篇：秦漢至隋唐

測驗目標 唐代的市舶司與海外貿易

詳解 七世紀以來，阿拉伯商人往來於印度洋與中國東南沿海一帶貿易，中國稱之為回商。唐高宗時，於廣州設立市舶司，管理海上貿易活動，其功能相當於今日的海關。其後，宋元明清均延續此一制度，市舶司愈來愈多，包括泉州、杭州、明州（寧波）、密州（青島）、溫州等地，均曾

設有市舶司。

難易度 易

K 引文所述的海上貿易活動，與下列哪個南洋群島的現象關係最密切？

- A 都市化的勃興
B 人口轉型的出現
C 伊斯蘭教的傳播
D 殖民地式經濟的建立

答案 C

命題出處 地理第四冊：第4章 東南亞（一）；歷史第三冊世界史：第一篇 文明的興起與交會

測驗目標 能分析自然與人文因素，以解釋區域特色、區域差異與互動

詳解 七世紀伊斯蘭教創立以來，迅速向外傳播，其方式主要有兩種：一是藉由武力征服，另一是藉由貿易往來。南洋群島原已有印度教與佛教的信仰，加上距離阿拉伯半島遙遠，故伊斯蘭教最初未能在此建立大規模的政權。C大食是中國唐、宋時期對阿拉伯帝國的稱呼，根據題目的「商人從麥加前來」加以推論，這些來自阿拉伯半島的穆斯林商人透過經商過程將伊斯蘭教帶入東南亞。

難易度 中

L、： 為題組

◎ 某殖民國家在殖民地推行「強迫種植制度」，農民被迫將良田種植咖啡、甘蔗、茶、菸草、胡椒等經濟作物，並規定：總耕地面積至少要有五分之一種植經濟作物。殖民政府將收穫全部運往歐洲銷售，賺取巨大財富。直到二十世紀中期，這個殖民地經由武裝抗爭才取得獨立。請問：

L 這種「強迫種植制度」最可能是什麼時候，在哪個地區的殖民地推行？

- A 十六世紀北非
B 十七世紀北美
C 十八世紀中南美
D 十九世紀東南亞

答案 D

命題出處 歷史第四冊第二篇：世界霸權的爭奪與衝突

測驗目標 新帝國主義國家在東南亞地區的殖民

詳解 十九世紀時，荷蘭為解決財政問題，在印尼推行「強迫種植制度」，藉此搜刮殖民地的資源。強迫種植制度為荷蘭帶來大量的財富，但也使印尼人民對荷蘭的統治更加不滿。二戰期間，印尼為日本所占據。二戰結束後，荷蘭企圖重新控制印尼，遭到印尼人的激烈反抗。經過四年戰爭，印尼終於在1949年取得獨立地位，結束荷蘭人的殖民統治。A胡椒主要種植於熱帶地區，較不可能出現在北非。B北美殖民地於十八世

紀即已獨立建國（即美國獨立革命）。C 中南美洲的殖民地，大部分於十八世紀初即已獨立建國。

難易度 中

： 該殖民地獨立後，具有下列哪項區域特色？

- A 居民的宗教信仰種類繁多 B 國家經濟泡沫化日趨嚴重
C 伊波拉病毒感染頻繁爆發 D 人口成長進入低穩定階段

答案 A

命題出處 地理第四冊：第 4 章 東南亞（一）

測驗目標 能分析自然與人文因素，以解釋區域特色、區域差異與互動

詳解 A 承上題解析，已知該區域為東南亞，在十五世紀以後，因新航路和新帝國主義興起，西班牙、葡萄牙、荷蘭、英國、法國、美國等國家，陸續進入東南亞建立殖民地，影響該區域的經濟發展，同時也將宗教信仰（天主教與基督教）帶入本區，加上十五世紀以前已存在的佛教、印度教、伊斯蘭教，東南亞宗教信仰更多元。

難易度 易

Z、X 為題組

◎ 某一國家，宗教色彩相當濃厚，居民除 80 % 左右信奉該國的主流宗教外，其餘 20 % 則各有不同的信仰，宗教類別與內涵相當豐富多樣。居民使用的語言也很複雜，該國憲法除規定 2 種全國通用的語言外，還認可 15 種以上的官方語言。全國有 60 % 左右的人口務農，將近半數的人口生活於聯合國訂定的貧窮線之下。2014 年該國人類發展程度指標（HDI）只有 0.609，世界排名第 130。請問：

Z 該國具有下列哪兩項特質？

- 甲、世界古文明的發源地之一；
乙、猶太教和伊斯蘭教的發源地；
丙、1858 ~ 1947 年間曾受英國殖民統治；
丁、葡萄牙引進黑奴在該國發展熱帶栽培業；
戊、生產的白銀曾於明朝中葉以後大量流入中國。

- A 甲丙 B 甲戊 C 乙丁 D 丙戊

答案 A

命題出處 歷史第三冊世界史第一篇：文明的興起與交會

測驗目標 印度的宗教特色與殖民歷史

詳解 題幹所述的國家為印度。印度有 80 % 的人口信仰印度教，其餘 20 % 的人口則可能信奉伊斯蘭教、錫克教、佛教、耆那教、基督教等各種宗教。同時，由於印度歷史上屢遭外族入侵，加上幅員廣大，因此各地的方言眾多。今印度人口已逾十億，貧富差距極大，多數人口生活在貧窮線之下，成為印度經濟發展的一大難題。選項中甲、丙為正確的敘述：印度為四大古文明之一；1858 ~ 1947 年間曾受英國殖民統治。乙、猶太教的發源地為巴勒斯坦，伊斯蘭教的發源地為阿拉伯半島。丁、應為巴西。戊、應為中南美洲的國家。

難易度 中

× 該國「2014 年人類發展程度指標 (HDI) 只有 0.609，世界排名第 130。」和下列哪兩項因素關係最密切？

- 甲、都市化程度低；
- 乙、國民平均預期壽命短；
- 丙、國內生產毛額 (GDP) 低；
- 丁、國民平均受學校教育年數短。

A 甲乙

B 甲丙

C 乙丁

D 丙丁

答案 C

命題出處 地理第三冊：第 1 章 世界的劃分

測驗目標 能以地理概念、原則和理論分析重要的地理事實

詳解 聯合國於 2010 年已將人類發展程度指標 (HDI) 公式定為根據教育指數 (受教育年限)、健康指數 (預期壽命)、生活水準指數 (人均 GNI) 計算。題幹中提到該國「人類發展程度指標只有 0.609」，此現象應與國民平均預期壽命較短、人均國民所得較低、國民平均受學校教育年限較短有關係。

難易度 易