

公民 臺南一中 ◀ 廖翠雯 老師
 歷史 名 師 ◀ 郭子儀 老師
 地理 名 師 ◀ 林 菲 老師

單選題 (占 144 分)

說明：第 1 題至第 72 題皆計分，每題有 4 個選項，其中只有一個是正確或最適當的選項，請畫記在答案卡之「選擇題答案區」。各題答對者，得 2 分；答錯、未作答或畫記多於一個選項者，該題以零分計算。

1. 臺灣有許多公民自發性成立的非營利組織，已推動多項重大法律修正，促進人權落實，其重要成果包括犯罪嫌疑人人權以及集會遊行權保障等。以下對於公民組織的行動及其與人權保障的相關敘述何者正確？
- (A) 人權保障為憲法核心內容，公民團體的介入顯示臺灣民主尚未成熟
 (B) 僅仰賴政府無法善盡人權保障，故需公民組織參與並推動人權立法
 (C) 公民關注人權的行動僅限於國內議題，無法涉及國際人權議題保障
 (D) 公民推動人權法案未獲民眾支持時，即形成公民不服從的合理基礎

答案 (B)

命題出處 公民與社會第一冊第三章：人與人權、第五章：公民社會的參與

測驗目標 公民行動與人權保障的相關性

詳解 (A) 人權保障為憲法核心內容，在民主國家中，公民團體介入人權保障為常態，民主程度愈高的國家，公民團體愈容易介入。(B) 政府受限於法令、人事、經費，因此較無法善盡人權保障，故需公民組織來協助政府，彌補政府的不足，因此公民團體常參與並推動人權立法。(C) 公民關注人權的行動為全面性，包括國內外人權議題的保障。(D) 公民推動人權法案未獲民眾支持，背後因素複雜；但是不能說未獲民眾支持就是形成公民不服從的合理基礎；公民不服從是指基於良知、公開、非暴力、故意的違法行為，目標在於突顯法律的不正義與政府的政策作為。

難易度 易

2. 世界上有許多國際性的非政府組織，致力於促進與維護人類文明的基本價值，例如無國界記者、國際特赦組織、綠色和平組織等。以下有關國際非政府組織的敘述，何者正確？
- (A)這類非政府組織具有非營利性質，可向會員酌收會費以維持運作
 - (B)這類組織監督的對象以各國政府為主，民營企業並不在監督之列
 - (C)如能納入各國政府代表加入組織運作，可以提升執行事務的效率
 - (D)為了向政府募款以維持組織存續，應盡量避免批判各國政府政策

答案 (A)

命題出處 公民與社會第一冊第五章：公民社會的參與；第二冊第七章：國際政治與國際組織

測驗目標 國際非政府組織的性質與運作

詳解 (A)非政府組織具有非營利性質，經費來源包括會員的會費、民間募款、企業捐贈、基金孳息等。(B)這類組織監督的對象，包括各國政府、民營企業、甚至其他非營利組織，都在監督之列。(C)由於非營利組織屬於民間性質，因此組織不納入各國政府代表，以維持民間性質；由於非營利組織屬於民間性質，不會像政府機關受制於依法行政，因此較具彈性，有助於提升執行事務的效率。(D)為了維持非政府組織的獨立性與監督政府的特性，非政府組織不會向政府募款或接受經費援助，以避免喪失公正性；免去「拿人手短、吃人嘴軟」的困境後，得以全力批判各國政府政策。

難易度 易

3. 一夫一妻以及有血緣關係的子女所組成的核心家庭，以往一直被認為是常態的家庭。但是根據臺灣近年的官方統計資料，單親家庭（如父親過世，母親與未婚子女共同生活）、隔代家庭（如祖父母與未婚孫子女共同生活）及無親屬關係的家庭（如男女朋友租屋共同生活）等的家戶組成增長快速。對於臺灣面臨上述的家庭型態轉變，下列敘述何者正確？
- (A)隔代家庭數量的成長，反映了臺灣目前的生育率正處於下降的狀態
 - (B)家庭如果不健全，容易導致子女的偏差行為，政府應積極介入輔導
 - (C)由家庭型態的轉變可以看出，血緣關係並不是家庭唯一的構成要件
 - (D)為了避免單親家庭增加，政府應修法讓離婚與未婚生子變得更困難

答案 (C)

命題出處 公民與社會第一冊第二章：人己關係與分際；第三冊第六章：民法與生活

測驗目標 臺灣家庭型態轉變、民法的父母子女



詳解 (A)隔代家庭數量的成長，反映臺灣的社會變遷與經濟狀況，讓父母無法親自照顧子女，而必須交由祖父母照顧；無法看出隔代家庭與生育率之間的直接影響。(B)家庭不健全不一定會導致子女的偏差行為；政府應該積極介入輔導可能或已經產生問題的家庭。(C)由家庭型態的轉變可以看出，無親屬關係的家庭（如男女朋友租屋共同生活）等的家戶組成增長快速，因此血緣關係並不是家庭唯一的構成要件。(D)單親家庭是現代社會不可避免的家庭型態，政府應該去了解背後的成因，而不是透過修法讓離婚與未婚生子變得更困難；因為單親家庭只是一種家庭型態的選擇，不是負面的家庭型態。

難易度 易

4. 近年來，臺灣媒體過度渲染「腥膻色」的特定事件，導致新聞品質的庸俗化與弱智化，引發公眾不滿。如果我國要改善這樣的現象，下列哪種做法最為適切？
- (A)強化商業媒體競爭，使其追逐市場占有，提升媒體自律
 - (B)成立閱聽人消費者團體，加強對各種媒體的監督與施壓
 - (C)強化民選官員的權責，授予其權力關閉傷風敗俗的媒體
 - (D)將商業性媒體公共化，禁止私人財團經營新聞傳播產業

答案 (B)

命題出處 公民與社會第一冊第六章：媒體識讀

測驗目標 媒體營利性質、閱聽人監督媒體

詳解 臺灣媒體為財團所經營（公視等部分媒體除外），因此媒體以營利為目的；當報導「腥膻色」等特定事件時，收視率提升，廣告效益浮現；若是媒體經營者短視近利，將會導致新聞品質的庸俗化與弱智化；民眾對此不滿時，可向行政院獨立機構國家通訊傳播委員會（NCC）投訴，要求政府管制，最嚴重處分為撤照；或是拒看，讓收視率下降，廣告效益降低，媒體自然不會常播「腥膻色」等特定事件。(A)若強化商業媒體競爭，使其追逐市場占有，將以收視率為唯一考量，因為收視率等同廣告收益，自然會降低媒體自律，成為以營利為唯一目的的媒體。(B)成立閱聽人消費者團體，加強對各種媒體的監督與施壓，能有系統、及實際的參與媒體的改造。(C)媒體基於政治考量，與民選官員的關係通常良好，呈現「水幫魚、魚幫水」的狀態；因此若授權民選官員有權力關閉傷風敗俗的媒體，不僅無法達成效果，甚至媒體將受到民選官員的要脅，而無法善盡監督政府的功能。(D)將商業性媒體公共化，禁止私人財團經營新聞傳播產業，將無法讓新聞多元化，容易產生一言堂的現象。

難易度 中

5. 根據人類學研究的文獻，某些民族早期的傳統富含文化的意義與價值。例如，某民族的青年男子在通過生存考驗後，可以在臉上紋面，以象徵自主與責任；而青年女子則在織布技術純熟時紋面，然後就可以開始尋覓如意郎君。針對上述的現象，以下敘述何者正確？
- (A)紋面係具有通過儀式的功能 (B)紋面是當時流行的大眾文化
(C)紋面前後的社會角色不會改變 (D)紋面在當時是青少年的次文化

答案 (A)

命題出處 公民與社會第一冊第一章：自我的成長與準備成為公民、第七章：文化與位階

測驗目標 成年禮的通過儀式、民間文化

詳解 (A)青年男子通過生存考驗，可以紋面，以象徵自主與責任；青年女子織布技術純熟時紋面，可以尋覓如意郎君；因此紋面具有成年的作用，具成年禮的通過儀式功能。(B)大眾文化是指工業革命後，透過大量複製產出的產品，具有規格化、商品化的特性；紋面屬於民間自發性產生的民間文化。(C)紋面前是未成年人，紋面後是成年人，因此社會角色會改變，權利義務隨之轉變。(D)紋面在當時應該是主流文化、民間文化、成年禮的通過儀式。

難易度 易

6. 某國有「童婚」傳統，許多未滿 15 歲少女成為父母財產，被迫結婚而失去受教育機會。近年來國際人權團體批評此傳統剝奪女孩受教權，違反《國際人權公約》，因此屢向該國施壓，要求立法禁止，卻遭到該國政府反彈，呼籲外界應尊重其傳統文化。從人權保障觀點檢視前述國際人權團體的作為，下列何項看法最適當？
- (A)應該，人權公約尊重各國傳統，但童婚現象違反基本人權，超越文化尊重原則
(B)不應該，人權團體雖然追求基本人權保障，但仍應尊重各國主權不可干涉內政
(C)應該，舊式文化與進步的人權精神有違，不符世界的價值潮流，必須加以破除
(D)不應該，人權團體雖秉持普世價值，仍須尊重各國國情，接受社會的文化差異

答案 (A)

命題出處 公民與社會第一冊第三章：人與人權、第八章：多元文化社會與全球化

測驗目標 基本人權與傳統文化的衝突



詳解 童婚將剝奪女童的童年時光及未來，也就是童婚侵犯了女童人權；目前《國際人權公約》、眾多國家的法律均禁止童婚；但是，在發展中國家，童婚問題依然非常普遍。雖然有人指稱應該尊重當地文化傳統，但是人權為普世概念，任何文化的發展不得牴觸基本人權，也不得以文化差異做為違背人權的理由。

難易度 易

7. 一般而言，國際難民可區分為因政治迫害或戰亂遷徙的政治難民，以及謀求脫離貧困或更佳生活條件的經濟難民。請根據圖 1 資料判讀何者最為正確？

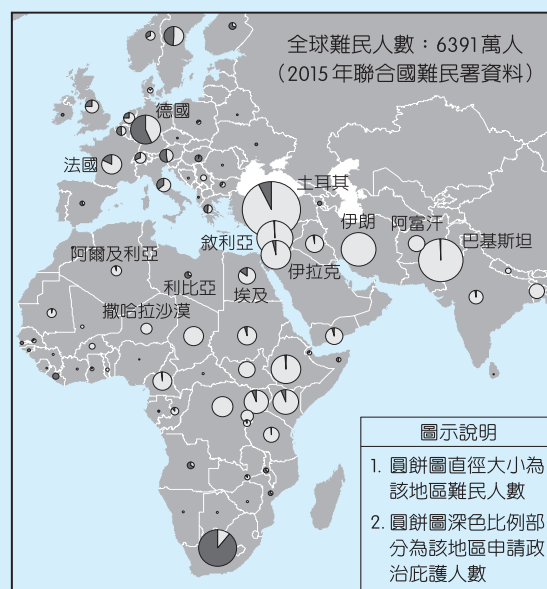


圖 1 2015 年聯合國難民署 (UNHCR) 全球難民分布圖

- (A) 歐洲難民問題主要原因乃是兩極體系之國際政治結構所致
- (B) 圖中所示，德國乃受理難民申請政治庇護人數最多的國家
- (C) 土耳其與巴基斯坦難民數最多，乃該兩國統治合法性不足
- (D) 圖 1 資料的提供者是一個強調人道救援的政府間國際組織

答案 (D)

命題出處 公民與社會第二冊第七章：國際政治與國際組織

測驗目標 國際難民與政治庇護

詳解 進入歐洲國家的難民，主要來自西亞和北非地區，其中大多數難民來自敘利亞、利比亞等戰亂地區。(A)目前國際政治體系為一超多強，美國是唯一的超級強國；從國際政治的角度來看，美國應該為歐洲難民危機負最大責任，因為美國對敘利亞、阿富汗等地區發動直接或間接戰爭，進而產生難民。(B)圖中所示，德國受理難民申請政治庇護的比例為第二高，第一名為南非；由於無法得知實際人數，因此無法從比例研判難民

真實人數，且南非的圓餅圖（代表人數）也比德國大。(C)土耳其與巴基斯坦難民數最多，應該是受到地緣關係，土、巴兩地鄰近難民人數最多的敘利亞、阿富汗等地區；無法從資料研判是否與該兩國統治合法性有關聯。(D)聯合國難民署（UNHCR）是圖 1 資料的提供者，聯合國難民署是一個負責保護和支持難民的聯合國機構，宗旨是領導和協調保護難民，以及解決難民問題的國際行動。在當地政府或聯合國本身的要求下，難民署會向當地難民提供援助。本署的總部設於瑞士日內瓦，並且是聯合國發展集團的成員，是一個強調人道救援的政府間國際組織。

難易度 中

8. 美國一直扮演兩岸關係發展的關鍵角色，且奉行「一個中國政策」。關於此項政策的主要內容與作為，下列敘述何者正確？
- (A)海峽兩岸分治之後隨即實施該政策
 - (B)反對軍售臺灣以和平解決兩岸問題
 - (C)與中國大陸的「一個中國原則」相同
 - (D)制定《臺灣關係法》維持臺美非官方關係

答案 (D)

命題出處 公民與社會第二冊第八章：臺海兩岸關係的演變

測驗目標 美中臺的三角關係

詳解 (A) 1949 年海峽兩岸分治，美國與臺灣仍有邦交，1972 年中美簽屬〈上海公報〉，公報重點之一為美國「認知」一個中國原則臺灣屬於中國的一部分，就此奉行一個中國政策。(B) 1979 年臺美斷交後，美國國會通過《臺灣關係法》，承諾將使臺灣獲得足以維持自衛能力的防衛物資與技術，成為美國日後軍售臺灣的法源依據；美國不同意中國以武力解決臺灣問題，主張兩岸和平解決臺海問題。(C)美國的「一個中國原則」，法律依據是 1952 年《舊金山和平條約》、1979 年《臺灣關係法》；與中國大陸的「一個中國原則」，仍存在部分歧異。(D)《臺灣關係法》的前言：「本法乃為協助維持西太平洋之和平、安全與穩定，並授權繼續維持美國人民與在臺灣人民間之商業、文化及其他關係，以促進美國外交政策，並為其他目的。」藉以維持臺美非官方關係。

難易度 易



9. 選舉政治之「選區劃分」，關係著政黨與候選人的競爭方式：單一選區通常引起政黨間競爭；而複數選區則產生政黨內競爭。形成此種競爭差異的主要因素為下列何者？

- (A)選舉區的面積不同 (B)各選區候選人人數
(C)選區應選名額人數 (D)相對與絕對多數決

答案 (C)

命題出處 公民與社會第二冊第六章：人民的參政

測驗目標 單一選區與複數選區

詳解 根據每個選區的應選名額，可以分為單一選區與複數選區兩種。單一選區又稱為小選區，是指選區的應選名額為一名，在相對多數決制中由得票最高者當選，另外，在絕對多數決制中，則由得票率過半者當選，因此每個政黨只會推出一名候選人，由上述可知相對多數決制與絕對多數決制皆會引起政黨間競爭。複數選區又稱為複數名額選區，可分為中選區（應選名額 2～5 名）和大選區（應選名額 6 名以上），候選人將依得票高低依序當選，因此政黨在同一選區內會提名多人，候選人將與其他政黨候選人搶票，也和同選區同黨候選人搶票，因此會產生政黨內的競爭。

難易度 易

10. 針對層出不窮的食安問題，某大學舉辦食安問題研討會，邀請跨院、跨部會的政府官員研擬解決辦法。表 1 為與會代表的發言內容，依其內容判斷，何者所屬機關具有「提出憲法修正案」的職權？

表 1

發言機關	建議食品安全處理措施
甲	本機關將加速審判不法商人，藉以伸張社會正義
乙	本機關會糾正相關失職部會，藉以改善行政流程
丙	本機關將加強取締違法工廠，防制劣質食品流竄
丁	本機關排定審查《食安法》修正案，以安定社會人心

- (A)甲 (B)乙 (C)丙 (D)丁

答案 (D)

命題出處 公民與社會第二冊第三章：政府的體制

測驗目標 我國中央政府的職權

詳解 我國《憲法增修條文》規定，立法院擁有修憲提案權。因此丁應為立法院。

中央機關職權	基於職權提出的建議食品安全處理措施
司法院掌審判權	本機關將加速審判不法商人，藉以伸張社會正義
監察院掌彈劾、糾舉、糾正之權	本機關會糾正相關失職部會，藉以改善行政流程
行政院負責政策執行，並取締非法、防制違法	本機關將加強取締違法工廠，防制劣質食品流竄
立法院負責通過法律案	本機關排定審查《食安法》修正案，以安定社會人心

相關法律條文如下：

《憲法增修條文》 第 12 條	憲法之修改，須經立法院立法委員 1 / 4 之提議，3 / 4 之出席，及出席委員 3 / 4 之決議，提出憲法修正案，並於公告半年後，經中華民國自由地區選舉人投票複決，有效同意票過選舉人總額之半數，即通過之，不適用《憲法》第 174 條之規定。
--------------------	---

難易度 中

11. 「公民與社會」課堂討論公務員的政治中立，老師要同學提出違反政治中立的實例，請問下列實例何者最符合討論主題？
- (A) 總統任命同黨黨員為考試院部會首長
 (B) 某部長懲處為在野黨公開助選的司長
 (C) 某縣政府大樓張貼支持縣長連任標語
 (D) 直轄市長假日為同黨議員候選人助選

答案 (C)

命題出處 公民與社會第二冊第四章：政府的運作

測驗目標 政治中立

詳解 政治中立是指常任文官（事務官）在執行公務中，不偏袒特定政黨或團體，以公平、客觀的態度執行工作職責。政務官則因為經由選舉或政黨推薦而產生，為貫徹政黨理念或競選承諾，勢必要制定相關政策以回應選民的託付。(A) 總統任命同黨黨員為考試院部會首長，是總統的人事任命權行使。(B) 某部長（政務官）懲處為在野黨公開助選的司長（事務官），是依法行政的懲處行為，因為事務官不得公開助選，除非依《公務人員行政中立法》第 9 條第 4 項，公職候選人之配偶及二親等以內血親、姻親只具名不具銜者，不在此限。(C) 某縣政府大樓張貼支持縣長連任標語，屬於政府機關支持特定候選人，明顯違背不得對個人有差別待



遇、不得介入黨政派系紛爭的規定。(D)直轄市市長為民選首長，但在非勤務時間，假日可為同黨議員候選人助選。

《公務人員行政中立法》相關法律條文如下：

第 4 條	公務人員應依法公正執行職務，不得對任何團體或個人予以差別待遇。
第 5 條	公務人員得加入政黨或其他政治團體。但不得兼任政黨或其他政治團體之職務。 公務人員不得利用職務上之權力、機會或方法介入黨派紛爭。 公務人員不得兼任公職候選人競選辦事處之職務。
第 7 條	公務人員不得於上班或勤務時間，從事政黨或其他政治團體之活動。但依其業務性質，執行職務之必要行為，不在此限。前項所稱上班或勤務時間，指下列時間： 一、法定上班時間。 二、因業務狀況彈性調整上班時間。 三、值班或加班時間。 四、因公奉派訓練、出差或參加與其職務有關活動之時間。
第 9 條	公務人員不得為支持或反對特定之政黨、其他政治團體或公職候選人，從事下列政治活動或行為： 一、動用行政資源編印製、散發、張貼文書、圖畫、其他宣傳品或辦理相關活動。 二、在辦公場所懸掛、張貼、穿戴或標示特定政黨、其他政治團體或公職候選人之旗幟、徽章或服飾。 三、主持集會、發起遊行或領導連署活動。 四、在大眾傳播媒體具銜或具名廣告。但公職候選人之配偶及二親等以內血親、姻親只具名不具銜者，不在此限。 五、對職務相關人員或其職務對象表達指示。 六、公開為公職候選人站臺、助講、遊行或拜票。但公職候選人之配偶及二親等以內血親、姻親，不在此限。 前項第一款所稱行政資源，指行政上可支配運用之公物、公款、場所、房舍及人力等資源。 第一項第四款及第六款但書之行為，不得涉及與該公務人員職務上有關之事項。

12. 民主政治發展過程中，間接民主的議會政治取代直接民主，下列何者為最主要原因？

- (A) 工業革命之後走向專業分工，產生專業的政治工作者
- (B) 公民直接參政社會成本太高，代議政治較為省時有效
- (C) 人民選舉投票就是直接民主，議員只是代行人民職權
- (D) 議會代表比人民熟悉議事規則，更能夠爭取人民權益

答案 (B)

命題出處 公民與社會第二冊第二章：民主政治與憲政主義、第六章：人民的參政

測驗目標 間接民主的議會政治取代直接民主

詳解 (A)間接民主的議會政治取代直接民主，主要是因為人口增加，人人積極理性參政的理想難以達成，且群眾容易出現非理性的行為。因此透過定期選舉，產生政治菁英，來組織政府做出決策。公民將公共事務交由具專業知識與經驗的議員來管理，較能確保決策品質。(A)工業革命之後走向各行各業的專業分工，但是專業的政治工作者原本就已存在，王公貴族、大臣等皆屬之。(B)在人口眾多情況下，公民直接參政的社會成本太高，因此透過定期選舉產生代議政治，較為省時有效。(C)人民選舉投票是指選出政府首長與民意代表，公民投票才是直接民主，議員當選後將依專業行使職權，有時也會違背民意。(D)議會代表比人民熟悉議事規則，但是不一定更能夠爭取人民權益。

難易度 難

13. 有關國家行政權運作的國內公法總稱為行政法，與我們日常生活息息相關。下列敘述何者屬於「應適用行政法」之事件？

- (A) 遇路邊臨檢，駕駛人某丁以無照駕駛而遭罰
- (B) 因感情糾紛，某乙唆使某丙打傷其室友挨告
- (C) 房東發函追討租屋房客某甲所積欠之房租金
- (D) 依法院民事確定判決，強制執行「拆屋還地」

答案 (A)

命題出處 公民與社會第三冊第五章：行政法與生活、第六章：民法與生活、第七章：刑法與生活、第八章：紛爭解決機制

測驗目標 日常行為與適用法律

詳解 (A)遇警察路邊臨檢，駕駛人某丁以無照駕駛而遭警方依照《道路交通管理處罰條例》開罰單，《道路交通管理處罰條例》是行政法規，警方開罰單是行政處分。(B)因感情糾紛，某乙唆使某丙打傷其室友挨告，打人屬於《刑法》的普通傷害罪，為告訴乃論之罪。(C)房東發函追討租屋房



客某甲所積欠之房租金，屬於《民法》的租賃糾紛。(D)依法院民事確定判決，強制執行「拆屋還地」，若是聲請法院執行，是由當事人向法院聲請後，法院依《強制執行法》進行拆屋還地，《強制執行法》性質為國內法、公法、程序法。

相關法律條文如下：

<p>《道路交通管理處罰條例》 第 21 條</p>	<p>汽車駕駛人，有下列情形之一者，處新臺幣六千元以上一萬二千元以下罰鍰，並當場禁止其駕駛：</p> <ul style="list-style-type: none"> 一、未領有駕駛執照駕駛小型車或機車。 二、領有機車駕駛執照，駕駛小型車。 三、使用偽造、變造或矇領之駕駛執照駕駛小型車或機車。 四、駕駛執照業經吊銷、註銷仍駕駛小型車或機車。 五、駕駛執照吊扣期間駕駛小型車或機車。 六、領有學習駕駛證，而無領有駕駛執照之駕駛人在旁指導，在駕駛學習場外學習駕車。 七、領有學習駕駛證，在駕駛學習場外未經許可之學習駕駛道路或規定時間駕車。 八、未領有駕駛執照，以教導他人學習駕車為業。 九、其他未依駕駛執照之持照條件規定駕車。 <p>前項第九款駕駛執照之持照條件規定，由交通部定之。</p> <p>未滿十八歲之人，違反第一項第一款或第三款規定者，汽車駕駛人及其法定代理人或監護人，應同時施以道路交通安全講習。</p> <p>第一項第三款、第四款之駕駛執照，均應扣繳之；第五款並吊銷其駕駛執照。</p> <p>汽車所有人允許第一項第一款至第五款之違規駕駛人駕駛其汽車者，除依第一項規定之罰鍰處罰外，並記該汽車違規紀錄一次。但如其已善盡查證駕駛人駕駛執照資格之注意，或縱加以相當注意而仍不免發生違規者，不在此限。</p>
<p>《刑法》 第 227 條</p>	<p>傷害人之身體或健康者，處三年以下有期徒刑、拘役或一千元以下罰金。</p> <p>犯前項之罪因而致人於死者，處無期徒刑或七年以上有期徒刑；致重傷者，處三年以上十年以下有期徒刑。</p>

<p>《民法》 第 421 條</p>	<p>稱租賃者，謂當事人約定，一方以物租與他方使用收益，他方支付租金之契約。 前項租金，得以金錢或租賃物之孳息充之。</p>
<p>《民法》 第 439 條</p>	<p>承租人應依約定日期，支付租金；無約定者，依習慣；無約定亦無習慣者，應於租賃期滿時支付之。如租金分期支付者，於每期屆滿時支付之。如租賃物之收益有季節者，於收益季節終了時支付之。</p>
<p>《民法》 第 440 條</p>	<p>承租人租金支付有遲延者，出租人得定相當期限，催告承租人支付租金，如承租人於其期限內不為支付，出租人得終止契約。 租賃物為房屋者，遲付租金之總額，非達二個月之租額，不得依前項之規定，終止契約。其租金約定於每期開始時支付者，並應於遲延給付逾二個月時，始得終止契約。 租用建築房屋之基地，遲付租金之總額，達二年之租額時，適用前項之規定。</p>
<p>《民事訴訟法》第 508 條</p>	<p>債權人之請求，以給付金錢或其他代替物或有價證券之一定數量為標的者，得聲請法院依督促程序發支付命令。 支付命令之聲請與處理，得視電腦或其他科技設備發展狀況，使用其設備為之。其辦法，由司法院定之。</p>
<p>《強制執行法》第 4 條</p>	<p>強制執行，依左列執行名義為之： 一、確定之終局判決。 二、假扣押、假處分、假執行之裁判及其他依《民事訴訟法》得為強制執行之裁判。 三、依民事訴訟法成立之和解或調解。 四、依公證法規定得為強制執行之公證書。 五、抵押權人或質權人，為拍賣抵押物或質物之聲請，經法院為許可強制執行之裁定者。 六、其他依法律之規定，得為強制執行名義者。 執行名義附有條件、期限或須債權人提供擔保者，於條件成就、期限屆至或供擔保後，始得開始強制執行。 執行名義有對待給付者，以債權人已為給付或已提出給付後，始得開始強制執行。</p>



《強制執行法》第 100 條	房屋內或土地上之動產，除應與不動產同時強制執行外，應取去點交債務人或其代理人、家屬或受僱人。無前項之人接受點交時，應將動產暫付保管，向債務人為限期領取之通知，債務人逾限不領取時，得拍賣之而提存其價金，或為其他適當之處置。前二項規定，於前條之第三人適用之。
《強制執行法》第 125 條	關於動產、不動產執行之規定，於前二條情形準用之。

難易度 中

14. 刑事訴訟程序著重追訴處罰犯罪，講求勿枉勿縱與真實發現，並相當重視程序面的人權保障，包含刑事被告及犯罪嫌疑人的權利保障。就刑事訴訟程序而言，下列敘述何者不正確？
- (A)檢察官訊問竊嫌時，應告知其可以保持緘默
 (B)為了避免黑箱作業，犯罪偵查過程應予公開
 (C)未經審判確定被告為有罪前，推定其為無罪
 (D)在犯罪偵查階段，被告可以主張聘請辯護人

答案 (B)

命題出處 公民與社會第三冊第七章：刑法與生活

測驗目標 刑事訴訟程序

詳解 (A)依《刑事訴訟法》規定，犯罪嫌疑人（或被告）得以對自己不利的事情行使緘默權，以保障人權；被告於訊問前，檢察官應告知被告得行使緘默權，此為緘默權行使。(B)在刑事偵查階段，犯罪嫌疑人是否真的有犯罪行為無法明確知悉，如果公開偵查程序，將使犯罪嫌疑人的名譽、信用受到影響，因此規定犯罪偵查過程不得公開，此為偵查不公開原則。(C)〈世界人權宣言〉將無罪推定原則列為人類的重要基本人權之一，我國制定《刑事訴訟法》的目的之一也是為了保障被告人權；因此未經審判確定被告為有罪前，推定其為無罪，此為無罪推定原則。(D)為保障被告排除國家對其不利的指控，《刑事訴訟法》規定被告得隨時選任辯護人，檢察官訊問被告前，也應告知犯罪嫌疑人有選任辯護人的權利，此為律師辯護制度。

相關法律條文如下：

<p>《刑事訴訟法》 第 95 條</p>	<p>訊問被告應先告知下列事項：</p> <p>一、犯罪嫌疑及所犯所有罪名。罪名經告知後，認為應變更者，應再告知。</p> <p>二、得保持緘默，無須違背自己之意思而為陳述。</p> <p>三、得選任辯護人。如為低收入戶、中低收入戶、原住民或其他依法令得請求法律扶助者，得請求之。</p> <p>四、得請求調查有利之證據。</p> <p>無辯護人之被告表示已選任辯護人時，應即停止訊問。但被告同意續行訊問者，不在此限。</p>
<p>《刑事訴訟法》 第 245 條</p>	<p>偵查，不公開之。</p> <p>被告或犯罪嫌疑人之辯護人，得於檢察官、檢察事務官、司法警察官或司法警察訊問該被告或犯罪嫌疑人時在場，並得陳述意見。但有事實足認其在場有妨害國家機密或有湮滅、偽造、變造證據或勾串共犯或證人或妨害他人名譽之虞，或其行為不當足以影響偵查秩序者，得限制或禁止之。</p> <p>檢察官、檢察事務官、司法警察官、司法警察、辯護人、告訴代理人或其他於偵查程序依法執行職務之人員，除依法令或為維護公共利益或保護合法權益有必要者外，偵查中因執行職務知悉之事項，不得公開或揭露予執行法定職務必要範圍以外之人員。</p> <p>偵查中訊問被告或犯罪嫌疑人時，應將訊問之日、時及處所通知辯護人。</p> <p>但情形急迫者，不在此限。</p> <p>第一項偵查不公開作業辦法，由司法院會同行政院定之。</p>
<p>《刑事訴訟法》 第 154 條</p>	<p>被告未經審判證明有罪確定前，推定其為無罪。</p> <p>犯罪事實應依證據認定之，無證據不得認定犯罪事實。</p>



<p>《刑事訴訟法》 第 27 條</p>	<p>被告得隨時選任辯護人。犯罪嫌疑人受司法警察官或司法警察調查者，亦同。</p> <p>被告或犯罪嫌疑人之法定代理人、配偶、直系或三親等內旁系血親或家長、家屬，得獨立為被告或犯罪嫌疑人選任辯護人。</p> <p>被告或犯罪嫌疑人因精神障礙或其他心智缺陷無法為完全之陳述者，應通知前項之人得為被告或犯罪嫌疑人選任辯護人。但不能通知者，不在此限。</p>
<p>《刑事訴訟法》 第 29 條</p>	<p>辯護人應選任律師充之。但審判中經審判長許可者，亦得選任非律師為辯護人。</p>

難易度 易

15. 甲男與懷孕之妻返家時，驚覺陌生人入宅行竊；竊嫌持利刃攻擊甲男之妻以利脫逃。為保護妻子，甲男奮力奪刃時不慎造成竊嫌手臂扭傷脫臼。依我國《刑法》規定，下列敘述何者正確？
- (A)甲男可主張正當防衛，但對竊嫌之受傷仍須負完全刑事責任
 (B)甲男可主張正當防衛，若成立則不構成犯罪而無須負擔刑責
 (C)財物損失與致使竊嫌受傷不成比例，甲男不可主張正當防衛
 (D)竊嫌係攻擊甲男之妻，非攻擊甲男，甲男不可主張正當防衛

答案 (B)

命題出處 公民與社會第三冊第七章：刑法與生活

測驗目標 犯罪構成要件的違法性

詳解 犯罪構成要件為構成要件該當性、行為違法性、行為有責性，犯罪的認定必須同時符合此三項要件。依《刑法》規定，正當防衛是基於正在進行的不法侵害，為防衛自己或他人的權利而採取的行為，不罰。因此當竊賊攻擊甲妻時，甲男得以反擊，此為正當防衛，若成立，則不必負擔刑責。此題目與 2015 年時事有關，何男為保護孕妻，將屋內行竊的竊賊壓制在地後不幸勒斃，地方法院認定防衛過當，判決有期徒刑 3 個月，緩刑 2 年。(A)甲男可主張正當防衛，若成立則對竊嫌之受傷，不必負刑事責任。(B)甲男可主張正當防衛，若成立則不構成犯罪而不罰，將無須負擔刑責。(C)財物損失與致使竊嫌受傷的比例，與甲男可否主張正當防衛無直接關係。(D)竊嫌係攻擊甲男之妻，非攻擊甲男，甲男出於防衛甲妻，可主張正當防衛。

相關法律條文如下：

《刑法》 第 23 條	對於現在不法之侵害，而出於防衛自己或他人權利之行為，不罰。但防衛行為過當者，得減輕或免除其刑。
《刑法》 第 283 條	聚眾鬥毆致人於死或重傷者，在場助勢而非出於正當防衛之人，處三年以下有期徒刑，下手實施傷害者，仍依傷害各條之規定處斷。

難易度 中

16. 小潘隨隊出國比賽，機場安檢時，戲稱：「我行李有炸彈」，迅即遭移送法辦。縱使小潘解釋此純屬玩笑，行李也查無炸彈，仍因散布危害飛航安全之不實訊息，已涉嫌犯罪而面臨法律制裁及當日無法隨隊出境之後果。關於小潘個人基本權利的限制，下列敘述何者正確？
- (A)為了避免緊急危難，小潘個人的言論自由可以受到法律限制
 (B)雖為增進公共利益，小潘個人的遷徙自由仍不得受法律限制
 (C)為了維護社會秩序，小潘個人的遷徙自由可以受到行政規則限制
 (D)為防止妨礙他人自由，小潘個人的人身自由可受到行政規則限制

答案 (A)

命題出處 公民與社會第三冊第四章：憲法與人權

測驗目標 自由權的界限

詳解 由於行李有炸彈，將影響飛行安全，會造成緊急危難，因此不得以言論自由為理由而謊稱行李有炸彈。基於《憲法》第 23 條，為避免緊急危難（飛行安全），國家能以法律（《民用航空法》）限制人民的權利（言論自由）；也就是說，基於避免造成飛行安全或空難事件，國家制定《民用航空法》，限制人民不得攜帶炸彈上飛機，即便是謊稱也不行。此題目與近年來有國人出國，在機場航空櫃臺托運行李時謊稱有放置炸彈有關，航警除當場逮捕當事人外，全機行李拖出重新全面安檢、飛機也會延遲飛行，對於航空公司與當次航班旅客造成莫大損失，謊報亦會面臨刑責的追訴，不是一句「開玩笑」就可卸責。

相關法律條文如下：

《憲法》 第 23 條	以上各條列舉之自由權利，除為防止妨礙他人自由、避免緊急危難、維持社會秩序，或增進公共利益所必要者外，不得以法律限制之。
----------------	---



<p>《民用航空法》 第 43-1 條</p>	<p>《槍砲彈藥刀械管制條例》所定槍砲、刀械或其他有影響飛航安全之虞之物品，不得攜帶進入航空器。但因特殊任務需要，經航空警察局核准，並經航空器使用人同意之槍砲，不在此限。</p> <p>前項其他有影響飛航安全之虞之物品名稱，由民航局公告之。</p>
<p>《民用航空法》 第 101 條</p>	<p>以強暴、脅迫或其他方法危害飛航安全或其設施者，處七年以下有期徒刑、拘役或新臺幣二十一萬元以下罰金。</p> <p>因而致航空器或其他設施毀損者，處三年以上十年以下有期徒刑。</p> <p>因而致人於死者，處死刑、無期徒刑或十年以上有期徒刑；致重傷者，處五年以上十二年以下有期徒刑。</p> <p>第一項之未遂犯罰之。</p>

難易度 中

17. 某國規定人民須購買專用垃圾袋以處理垃圾，否則清潔隊將不予清運，違反或任意傾倒垃圾者，將處以高額罰款。請問某國此措施的最主要動機為何？
- (A)刺激民間消費
(B)減緩景氣波動
(C)將外部成本內部化
(D)改善政府財政問題

答案 (C)

命題出處 公民與社會第四冊第五章：外部效果

測驗目標 外部效果內部化

詳解 民眾在日常生活中所產生的垃圾是由政府清運，會產生外部成本；因此政府規定民眾必須購買專用垃圾袋來處理垃圾，藉此讓民眾自付處理垃圾的成本，而不是轉嫁給政府，此即外部成本內部化作為。至於違反或任意傾倒垃圾者，政府處以高額罰款，是透過直接管制的政策工具來執行與監督此政策。此題目與臺北市的垃圾隨袋徵收政策相同。

難易度 中

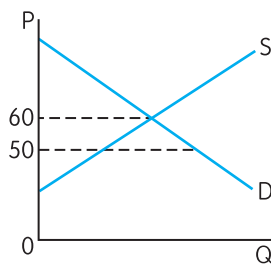
18. 某國政府為避免米價過低影響農民生計與生產意願，規定米價每公斤不得低於 50 元。在其他情況不變下，請問有關此措施實施後對米市場影響的敘述，何者正確？
- (A) 當米的市價為每公斤 60 元時，此措施將不會影響農民的福利
 - (B) 當米的市價低於每公斤 50 元時，市場將出現需求大於供給的現象
 - (C) 此類價格上限的價格管制，將會降低消費者剩餘、提高生產者剩餘
 - (D) 米的市價為每公斤 40 元時，農民將惜售並囤積米糧，使市場出現無謂損失

答案 (A)

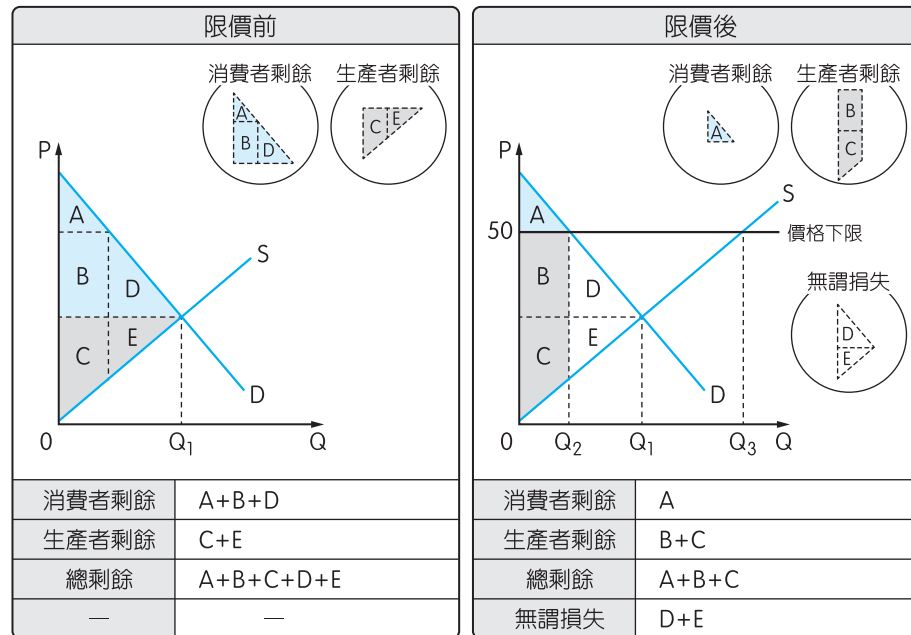
命題出處 公民與社會第四冊第二章：市場機能

測驗目標 政府的價格管制

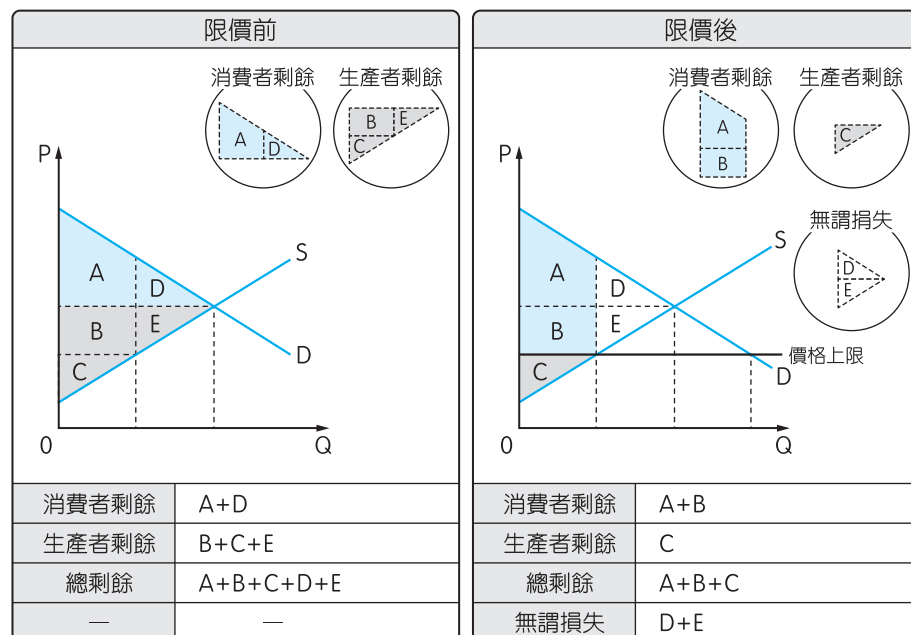
詳解 (A)如下圖所示：當米的市價為每公斤 60 元時，政府規定米價每公斤不得低於 50 元，是價格下限管制，也就是米價可以高於 50 元，不得低於 50 元，由於市場均衡價格為 60 元，因此市場仍將維持 60 元的均衡價格，該措施將不會影響農民的福利，屬於無效的價格下限管制，不會影響市場運作。



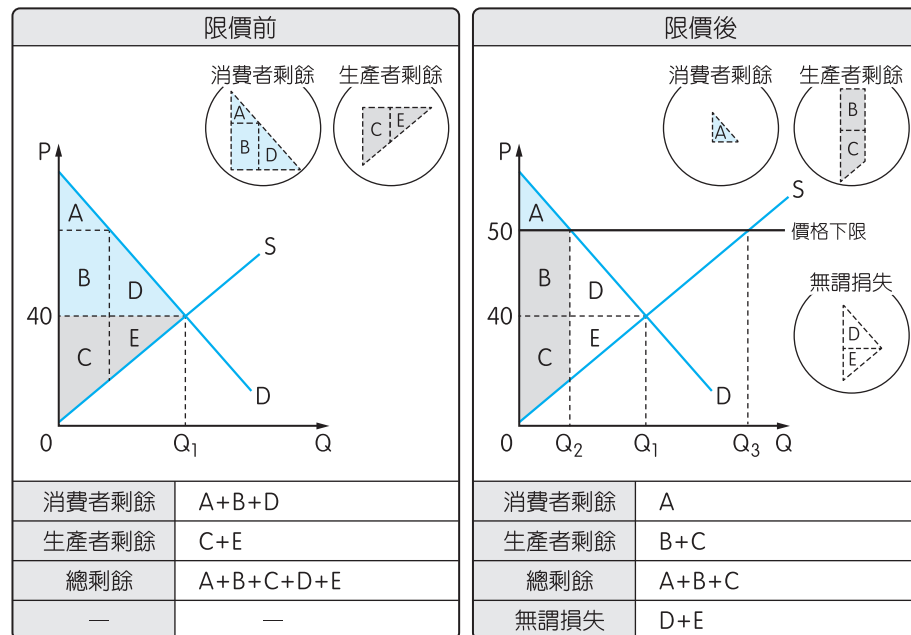
(B)如下頁圖所示：當米的市價低於每公斤 50 元時，政府規定米價每公斤不得低於 50 元，是價格下限管制，也就是米價必須提高到 50 元，不得低於 50 元，此時市場價格將被抬高到 50 元，消費者剩餘將減少 ($A+B+D \rightarrow A$)，生產者剩餘增減不一定 ($C+E \rightarrow B+C$)，產生無謂損失 ($D+E$)，總剩餘將減少 ($A+B+C+D+E \rightarrow A+B+C$)；也就是說，此措施將讓市價提高為 50 元以上，對消費者不利，對生產者農民的福利影響不一定，總剩餘減少，產生無謂損失。由於價格提高，生產者願意生產的供給數量為 Q_3 ，消費者的需求數量為 Q_2 ，供給量 $Q_3 >$ 需求量 Q_2 ，因此產生供給大於需求的過剩現象。



(C)如下圖所示：此類價格上限的價格管制，必須低於市價，才是有效的價格管制，對消費者剩餘的影響不一定（ $A+D \rightarrow A+B$ ），生產者剩餘減少（ $B+C+E \rightarrow C$ ），產生無謂損失（ $D+E$ ），總剩餘下降；若是價格上限管制高於市價，則在市價時，市場將產生均衡，因此為無效的價格管制。



(D)如下頁圖所示：米的市價為每公斤 40 元時，農民將惜售並囤積米糧，使市場出現無謂損失，當米的市價為 40 元，政府規定 50 元的價格下限，也就是米價不得低於 50 元，此時農民願意提供給數量為 Q_3 ，消費者願意購買數量為 Q_2 ，農民將願意出清米糧，不會囤積。



難易度 難

19. 經濟學常使用「共享性」與「排他性」兩種概念來說明財貨的特性，請問就這兩種概念的應用分析何者正確？
- (A) 校長週會演講內容，因學生每人領悟與學習成效不同，故不具有共享性
 - (B) 政府投入預算改善都市治安，因未繳稅居民亦可享受，故不具有排他性
 - (C) 公立圖書館閱覽室人人均可進出，縱使座位一位難求，依然具有共享性
 - (D) 商業賣場可以自由進出，但達一定人數流量後管制進場，故具有排他性

答案 (B)

命題出處 公民與社會第四冊第六章：公共財與租稅

測驗目標 財貨性質的分類（公共財、私有財）

詳解 (A) 校長週會演講內容，屬於共享、無法排他性質，與學生領悟與學習成效無關，因此為純公共財性質。(B) 政府投入預算改善都市治安，因未繳稅居民亦可享受，故不具有排他性，屬於純公共財性質。(C) 公立圖書館閱覽室人人均可進出，屬於無法排他性質；但是座位一位難求，因此具有獨享性；公共圖書館閱覽室屬於準私有財性質。(D) 商業賣場可以自由進出，但達一定人數流量後管制進場，故具有獨享性；因為不必付費即可進出，具有無法排他性，為準私有財性質。

共享性	是指一種產品或服務可同時提供大眾共同消費，即使多增加一人消費該產品或服務，也不會減損其他任何人消費該產品或服務的效用
-----	--



獨享性	是指一種產品或服務可同時提供大眾共同消費，但是隨著同時消費的人數增加，個人消費該產品或服務的效用下降，即具備擁擠性，稱為獨享性
無法排他性	是指無法排除他人不付出代價而使用該產品或服務
可排他性	是只有權排除他人不付出代價而使用該產品或服務

	無法排他性	可排他性
共享性	純公共財	準公共財
獨享性	準私有財	純私有財

難易度 中

20. 某國原本不屬於進出口商品之甲、乙商品，在該國開放市場進行貿易後，甲商品成為出口商品，而乙商品也可自國外輸入。若其他情況維持不變，請問在開放市場後，有關該國甲、乙商品市場之敘述，何者正確？
- (A) 甲商品市場消費者剩餘與乙商品市場生產者剩餘均將提高
 - (B) 甲商品市場的生產者剩餘提高，消費者剩餘的增減則不明
 - (C) 乙商品市場的消費者剩餘提高，生產者剩餘則是減少的
 - (D) 甲、乙商品市場之社會福利變化，前者提高而後者減少

答案 (C)

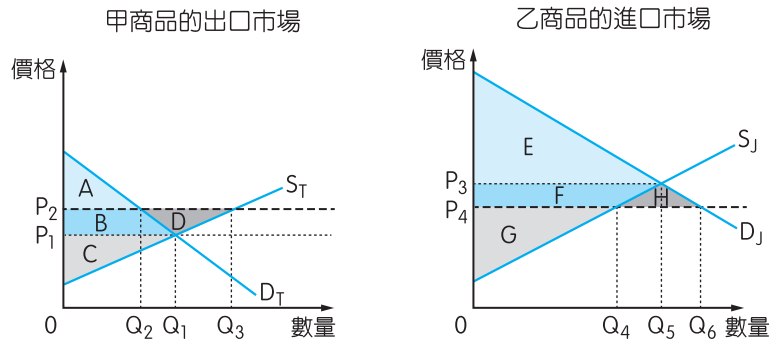
命題出處 公民與社會第四冊第三章：全球化與地球村

測驗目標 國際貿易的進出口市場之影響

詳解 甲商品為出口市場，乙商品為進口市場；(A)甲商品市場（出口市場）消費者剩餘將下降、乙商品市場（進口市場）生產者剩餘將提高。(B)甲商品市場（出口市場）的生產者剩餘提高，消費者剩餘將下降。(C)乙商品市場（進口市場）的消費者剩餘提高，生產者剩餘則是減少的。(D)甲、乙商品市場之社會福利變化，均因為貿易利得而提高。

	甲商品（出口）			乙商品（進口）		
	貿易前	貿易後	影響	貿易前	貿易後	影響
均衡價格	P_1	P_2	↑	P_3	P_4	↓
均衡數量	Q_1	國內均衡數量 Q_2 （生產者願意供給 Q_3 ）	↓	Q_5	國內均衡數量 Q_6 （國內生產者願意供給 Q_4 ）	↑
消費者剩餘	A+B	A	↓	E	E+F+H	↑
生產者剩餘	C	B+C+D	↑	F+G	G	↓

總剩餘	$A+B+C$	$A+B+C+D$	↑	$E+F+G$	$E+F+G+H$	↑
貿易利得	—	D	有	—	H	↑



	甲商品			乙商品		
	貿易前	貿易後	變化	貿易前	貿易後	變化
消費者剩餘						
生產者剩餘						
總剩餘						

難易度 難

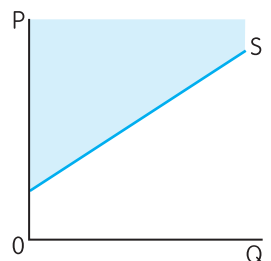
21. 某新款智慧型手機上市引起排隊購買潮。若此手機售價為 10,000 元，甲心中最高願意支付 3,000 元託人排隊代買，經與有意代買之乙、丙商討，最後由乙收取甲代買費用 1,000 元，為甲購得此手機。請問以下有關機會成本的設算，何者正確？
- (A) 甲購買此智慧型手機的機會成本為 13,000 元
 (B) 乙為人排隊代買手機之機會成本為 2,000 元
 (C) 丙為人排隊代買手機之機會成本大於 4,000 元
 (D) 甲自己排隊買手機之機會成本至少高於 3,000 元

答案 (D)

命題出處 公民與社會第四冊第一章：經濟學基本概念

測驗目標 機會成本

詳解 機會成本 = 外顯成本（付出去的） + 隱藏成本（沒賺到的）；成本為願意供給的最低價格，供給線 = 成本線，價格高於成本線，才有成交的可能性（藍色區域）。(A) 甲購買此智慧型手機的成本為 10,000 + 1,000 = 11,000 元。(B) 乙為人排隊代買手機之最低





成本為 1,000 元，因此願意收取 1,000 元為甲排隊代購手機。(C)丙為人排隊代買手機之成本大於 1,000 元，因此才會由較低價的乙（1,000 元）取得為甲排隊代購手機的機會。(D)甲自己排隊買手機之機會成本至少高於 3,000 元，因此才會願意出錢委由他人排隊代購手機。

難易度 中

22. 為刺激景氣提振經濟，政府推出低利貸款鼓勵民間消費與廠商投資，而政府本身也積極投入公共建設與都市更新。請問下列因低利貸款與政府措施而帶動之經濟活動，對國內生產毛額（GDP）影響的敘述何者最為正確？

- (A) 家戶單位因低利而增加購買成屋的支出皆計入 GDP
- (B) 企業因擴建廠房而添購全新設備的支出不計入 GDP
- (C) 政府成功推動都市更新使老屋翻新有助於提振 GDP
- (D) 政府動支預算修繕維護各級道路並無助於提高 GDP

答案 (C)

命題出處 公民與社會第四冊第四章：永續發展的經濟課題

測驗目標 GDP 的計算

詳解 從支出面來看 GDP， $GDP = C$ 民間消費 + I 投資 + G 政府支出 + (X 出口 - M 進口)。 (A) 家戶單位因低利而增加購買成屋的支出不計入 GDP，購屋是消費支出，建商投資興建則屬投資行為，房地產對 GDP 絕對是有貢獻，只是貢獻度高低；但是成屋完成時，就已經算入 GDP，因此家戶單位購買成屋，不會再計入 GDP，這是這一題最大的陷阱。(B) 企業因擴建廠房而添購全新設備的支出計入 GDP，屬於 I 投資部分。(C) 政府成功推動都市更新使老屋翻新，翻新將增加民間消費支出，因此有助於提振 GDP。(D) 政府動支預算修繕維護各級道路，屬於政府支出，有助於提高 GDP。

難易度 中

23、24為題組

◎ 某甲婚前生活奢華，積欠夜店逾百萬元債務多年不還，且在欠債時結婚，與妻未依法約定夫妻財產制，婚後共生一子兩女，其中長子經商有成，長女已出嫁，么女未滿 20 歲。之後某甲為了躲債離家出走，其妻則經營小吃店維生。

23. 有關某甲積欠夜店逾百萬元債務清償問題，下列敘述何者正確？

- (A) 夜店債主向某甲索討未果，大可基於夫妻關係轉向甲妻請求清償債務
- (B) 縱某甲出走，夜店債主可以某甲為被告，請求法院裁判某甲清償債務
- (C) 夜店債主得以俗稱「父債子還」為由，請求某甲之子女替父清償債務
- (D) 夜店債主向某甲索討未果，可至甲妻小吃店取走值錢財物以抵償債務

答案 (B)

命題出處 公民與社會第三冊第六章：民法與生活

測驗目標 《民法》的夫妻財產制度、繼承制度

詳解 若甲與妻子未約定財產制，則適用法定財產制，婚後財產各自管理，債務也各自處理。(A)夜店債主向某甲索討未果，由於債務是甲所積欠，因此甲妻不必代為償還，債主也無權向甲妻請求清償債務。(B)縱某甲出走，甲只要還活著，夜店債主就能以某甲為被告，請求法院裁判某甲清償債務；甲若去世，債主也可要求以遺產來清償債務。(C)由於債務是甲積欠，與甲之子女不存在權利義務關係，因此夜店債主不得以「父債子還」為由，請求某甲之子女替父清償債務；即使請求，甲之子女無義務清償。(D)因為甲的債務與甲妻無關，若債主強行取走甲妻小吃店值錢財物以抵償甲的債務，將涉嫌《刑法》的搶奪罪。

相關法律條文如下：

《民法》 第 1005 條	夫妻未以契約訂立夫妻財產制者，除本法另有規定外，以法定財產制，為其夫妻財產制。
《民法》 第 1023 條	夫妻各自對其債務負清償之責。 夫妻之一方以自己財產清償他方之債務時，雖於婚姻關係存續中，亦得請求償還。
《民法》 第 1030-2 條	夫或妻之一方以其婚後財產清償其婚前所負債務，或以其婚前財產清償婚姻關係存續中所負債務，除已補償者外，於法定財產制關係消滅時，應分別納入現存之婚後財產或婚姻關係存續中所負債務計算。 夫或妻之一方以其前條第一項但書之財產清償婚姻關係存續中其所負債務者，適用前項之規定



<p>《刑法》 第 325 條</p>	<p>意圖為自己或第三人不法之所有，而搶奪他人之動產者，處六月以上五年以下有期徒刑。</p> <p>因而致人於死者，處無期徒刑或七年以上有期徒刑，致重傷者，處三年以上十年以下有期徒刑。</p> <p>第一項之未遂犯罰之。</p>
-------------------------	--

難易度 中

24. 某甲離家出走不久即遭車禍身亡，有關某甲婚前積欠夜店逾百萬元債務是否仍存在，以及是否該由其家人清償的問題，下列敘述何者正確？
- (A) 某甲既已身亡，法律上權利義務主體不存在，積欠夜店債務隨之消滅
- (B) 積欠夜店債務由甲妻與長子長女負清償責任，未成年的么女不必負責
- (C) 長女既已出嫁，所欠夜店債務不得要求「非屬甲之家人」的長女清償
- (D) 甲妻及其子女都是某甲的法定繼承人，皆可依法拋棄繼承，以期免責

答案 (D)

命題出處 公民與社會第三冊第六章：民法與生活

測驗目標 《民法》的繼承制度

詳解 甲妻與甲之一子兩女，四人將均分甲的遺產，依照現行的限定繼承方式，甲之遺產必須先償還債務後，具有繼承資格的甲妻與其子女才能繼承剩下的遺產，若遺產不足以償還債務，甲妻與其子女不必代為償還剩下的債務。(A) 某甲既已身亡，雖然法律上權利義務主體不存在，但是必須以遺產先行償還積欠夜店債務。(B) 甲妻與其三名子女只要以甲留下之遺產償還欠夜店的債務即可，不足部分不必代為清償。(C) 長女雖已出嫁，仍是甲之家人，但是債務不必父債子還，只要以甲之遺產償還即可。相關法律條文如下：

<p>《民法》 第 1138 條</p>	<p>遺產繼承人，除配偶外，依左列順序定之：</p> <p>一、直系血親卑親屬。</p> <p>二、父母。</p> <p>三、兄弟姊妹。</p> <p>四、祖父母。</p>
<p>《民法》 第 1148 條</p>	<p>繼承人自繼承開始時，除本法另有規定外，承受被繼承人財產上之一切權利、義務。但權利、義務專屬於被繼承人本身者，不在此限。</p> <p>繼承人對於被繼承人之債務，以因繼承所得遺產為限，負清償責任。</p>

難易度 中

25. 某人覺得自己犯了罪過，便依照教會要求，前往指定教堂悔罪，還要申請贖罪。一位修士則給予憑證，赦免教會對他的處罰。這位修士最可能屬於：
- (A) 德意志路德教會
 - (B) 尼德蘭改革教會
 - (C) 英格蘭國教會
 - (D) 羅馬天主教會

答案 (D)

命題出處 歷史第三冊世界史第二篇：近代世界的轉變

測驗目標 比較天主教與基督新教的不同

詳解 本題的關鍵在於「教會」。歐洲中古以來，教會的制度與權責愈來愈完備，歐洲人的日常生活中處處可見教會人員的身影，正如題幹所述。宗教改革後，新教的教派普遍質疑教會的權威，這包括教會是否有權赦免人的罪罰。選項中(A)德意志路德教會、(B)尼德蘭改革教會（屬於喀爾文教派）、(C)英格蘭國教會均屬於新教，故答案選(D)羅馬天主教會。

難易度 易

26. 《資治通鑑》記載：唐僖宗乾符二年（西元 875 年）七月，「蝗自東而西，（數量多到可以）蔽日，所過赤地（一片焦土）。京兆尹楊知至奏：『蝗不食（莊）稼，皆抱荊棘而死。』宰相以下皆賀。」我們如何理解這段資料？
- (A) 《資治通鑑》表達唐僖宗受到臣下蒙蔽猶不自知
 - (B) 《資治通鑑》為重要史書，蝗蟲抱荊棘之事可信
 - (C) 宰相必須稟報實情，官員楊知至所奏事應為實情
 - (D) 《資治通鑑》特別記載此事以說明各種奇聞軼事

答案 (A)

命題出處 歷史第二冊第二篇：秦漢至隋唐

測驗目標 唐朝的政治亂象與資料判讀

詳解 本題為典型的文本閱讀題。在《資治通鑑》這段記載中，先描述蝗害嚴重的情形，再陳述官員上奏「蝗蟲沒有吃農作物，而是抱著荊棘死去。」兩相對照之下，可知官員蒙蔽了皇帝。(B)《資治通鑑》在這段記載中只有轉錄當時官員的說法，至於官員說法是否可信，必須再比對其他資料才能確定。(C)宰相也有可能隱瞞實情，且根據引文一開始所載，楊知至所奏確實並非實情。(D)《資治通鑑》此處的記載，重點應在於蝗害的嚴重，以及官員隱瞞實情，說明奇聞軼事並非其重點。

難易度 中



27. 一位美國空軍人員回憶：某處基地駐紮了各型新式戰機，都是循著軍售管道或從我國的軍事顧問團獲得。這些戰機停滿了機場待命區，隨時準備升空，迎擊入侵的敵機。這個場景應當是：
- (A) 1938 年重慶 (B) 1944 年上海 (C) 1970 年臺中 (D) 1995 年臺南

答案 (C)

命題出處 歷史第一冊第四篇：中華民國時期：當代臺灣

測驗目標 《中美共同防禦條約》下的臺灣

詳解 1954 年，韓戰（1950～1953 年）甫結束不久，中華民國與美國簽訂《中美共同防禦條約》，臺灣成為美國圍堵共產勢力的一環。根據《中美共同防禦條約》，美國提供臺灣各種軍事援助，以對抗中共的武力侵略，因而有題幹所述的情形。(A)美國於 1941 年珍珠港事變後才加入二戰，在此之前，美國不會對中國（重慶的國民政府）提供直接的軍事援助。(B)上海在 1944 年已被日本控制，不可能會有題幹所述的情形。(D)《中美共同防禦條約》於中共與美國建交的隔年（1980 年）廢除，題幹所述的情形隨之消失。

難易度 難

28. 某人建議：您控制的領域農業發達，天然資源豐富，土地比德、法兩國加起來還大。您跟令尊一樣深獲百姓支持，如果與中央合作，頂多是稱雄一方，不如自己創造一番事業。我國願意傾全力支持您，完成建國大業。這個對話的場景最可能是：
- (A) 1921 年，英國首相向凱末爾建議
(B) 1928 年，日本特使與張學良談判
(C) 1948 年，蘇聯領袖對毛澤東指導
(D) 1949 年，美國國務卿提醒蔣介石

答案 (B)

命題出處 歷史第三冊中國史第一篇：中華民國的建立與發展

測驗目標 張學良與國軍的北伐

詳解 1928 年，蔣中正北伐的國軍推進到華北，只要再攻克東北，全國即可達到形式上的統一。日本為阻止中國統一，遊說東北的張學良，認為他與其父張作霖一樣深受百姓支持，既有東北豐富的農、工資源與廣大的土地，加上日本的幫助，定能獨立建國，不必與中央合作（即歸順蔣中正）。(A)(C)(D)均無法解釋「跟令尊一樣深獲百姓支持」，且凱末爾、蔣中正本身即代表中央，也不符合「與中央合作」的敘述。

難易度 中

29. 日本史書記載：一艘我國船隻利用季風之便，抵達中國，在大運河邊的一個重要港口下錨。船員在此港中見到舟楫林立，商業繁榮，各種商品琳琅滿目。城中有許多外國商人，購買各種貨品。沿運河北上，便可抵達首都。這個港口是：
- (A)唐代的揚州 (B)宋初的廣州 (C)元代的泉州 (D)清初的上海

答案 (A)

命題出處 歷史第二冊第二篇：秦漢至隋唐

測驗目標 唐代的運河與對外貿易

詳解 本題的關鍵在於「大運河邊的一個重要港口」。唐代的揚州位於大運河畔，地理位置重要，貿易發達，而有「揚一益二」（揚州、益州均為當時中國數一數二的大城市）之說。並且，從揚州循大運河北上，經山陽瀆、淮河、通濟渠、黃河、廣通渠可達首都長安，亦符合題幹所述。(B)(C)宋元時期的廣州、泉州雖然貿易也很發達，但當時大運河最南僅達於浙江杭州、寧波一帶，未及於福建泉州、廣東廣州。(D)清初的上海並不繁榮，直到 1842 年《南京條約》簽訂後，開港通商，才迅速發展起來。

難易度 難

30. 某人評論：今日之俄如同七國時期之秦，而英則像是齊，土則是魏也。「秦人不得志於魏，則不能掎（牽制）六國，俄人不得志於土，不能掎歐洲。」「英人陽（表面）護土而陰蔽歐洲。俄之不得志於歐洲，英為之也。」這位人士評論何時的情勢？
- (A)拿破崙戰爭 (B)克里米亞戰爭 (C)第一次世界大戰 (D)第二次世界大戰

答案 (B)

命題出處 歷史第四冊第二篇：世界霸權的爭奪與衝突

測驗目標 巴爾幹局勢與克里米亞戰爭

詳解 19 世紀俄國積極往歐洲擴張，當時占據巴爾幹半島的鄂圖曼土耳其國勢衰弱，加上巴爾幹半島上有不少斯拉夫人，鄂圖曼土耳其遂成為俄國侵略的目標。然而，英國不願俄國勢力進入巴爾幹半島，進而危害到英國在地中海的貿易利益，因此支持鄂圖曼土耳其對抗俄國。1853～1856 年間，克里米亞戰爭爆發，英、法等國幫助鄂圖曼土耳其擊退俄國的入侵，使得俄國無法「得志於土（耳其）」，進而無法「得志於歐洲」。(A)拿破崙戰爭為拿破崙治下的法國與反法聯盟之間的對抗，但題幹完全沒有提及法國。(C)第一次世界大戰與巴爾幹局勢息息相關，但主要的問題在於奧國（日耳曼人）與俄國（斯拉夫人）之間對於巴爾幹半



島的爭奪，與英國較無直接關係。(D)一戰後土耳其的勢力幾乎已完全退出歐洲，至二戰時不可能再對歐洲產生如此大的影響。

難易度 中

31. 某一時期，周天子因財政困難，必須派遣大臣向諸侯要求金援。齊、晉兩國也經常派遣使臣朝覲周天子，以提高自己的地位；原本與周天子關係最密切的魯國反而漸漸疏遠。這種現象最可能的原因是：

- (A) 周人滅商，始建國家，但基礎不穩
- (B) 西周末年，外族常入侵，政局惡化
- (C) 春秋時代，周王室衰微，霸主興起
- (D) 戰國時期，大國崛起，戰爭頗頻繁

答案 (C)

命題出處 歷史第二冊第一篇：先秦時代

測驗目標 春秋時代封建制度的瓦解

詳解 春秋時代，周天子的王畿遠比西周時小，致使財政困難，甚至出現周天子向諸侯要求金援的現象。天子威望既低，諸侯權力相對提高，齊、晉等強大的諸侯遂以「尊王」為名，表面上派遣使臣朝覲周天子，實際上則藉此提高自己的地位，成為諸侯之間的霸主。即如原本關係密切的魯國，也因年代久遠，與周天子的血緣關係愈來愈淡，彼此日漸疏遠。凡此均顯示現出春秋時代周王室衰微，諸侯爭霸的現象。(A)周人滅商後，王室威望高漲，未有如題幹所述的現象。(B)齊、晉兩國藉由「尊王」而稱霸發生於春秋時代，西周末年未有如此的現象。(D)戰國時代，晉國為韓、趙、魏三家瓜分，晉國不復存在。

難易度 易

32. 一部書記載：祖宗設立某個官職，只不過是文學侍從，其職務至多止於在奏章上簽註處理的建議，呈請皇帝裁決。這個官職獲得委任的權力，和前代宰相絕不相同，以不具實權之官職，卻攬權在手，其勢必敗，歷來擔任這個官職者無美名，其故在此。此處所指的官職是指：

- (A) 漢代的博士官
- (B) 唐代的中書令
- (C) 明代的內閣大學士
- (D) 清代的軍機大臣

答案 (C)

命題出處 歷史第二冊第三篇：宋、元、明與盛清

測驗目標 明代的內閣及其權責

詳解 明太祖廢相後，設立殿閣大學士，做為皇帝的顧問，幫助皇帝處理政

務，漸成內閣之制。內閣的主要工作在於處理奏章，草擬意見（稱之為「票擬」或「條旨」），呈請皇帝裁決。其權責雖大，猶如過去的宰相；但品秩低微，遠不及宰相。簡言之，內閣位低而權重，這種矛盾性是題幹認為「其勢必敗」、「無美名」的原因。(A)漢代博士官主要負責傳授經學，而非處理奏章。(B)唐代中書令掌管決策，位同宰相，位高而權重。(D)清代的前代為明代，而明代已廢相，則不會有「前代宰相」的敘述。

難易度 易

33. 一份文書指出：「政府曾發布命令，教導大家崇敬諸神，卻使基督教徒陷於危險和苦難之中，甚至有人喪失性命，許多人至今不能公開參加他們的宗教活動。我們應本著寬大宗旨，開恩處理這件事。今後，他們可以自由表達想法，不受干擾地自由集會，但得尊敬法律和政府。」這份文書是：
- (A)君士坦丁發布的《米蘭詔令》
(B)英國約翰王公布的《大憲章》
(C)拿破崙頒行的《拿破崙法典》
(D)聯合國公布的〈世界人權宣言〉

答案 (A)

命題出處 歷史第三冊世界史第一篇：文明的興起與交會

測驗目標 《米蘭詔令》與基督教的發展

詳解 公元 313 年，君士坦丁頒布《米蘭詔令》，使基督教合法化。在此之前，基督教長期受到羅馬帝國的迫害，「基督教徒陷於危險和苦難之中」、「不能公開參加他們的宗教活動」。詔令頒布後，基督徒得以公開傳教。(B)《大憲章》頒布於 1215 年，旨在限制王權，與基督教沒有直接關係。(C)《拿破崙法典》頒布於 1804 年，當時基督教早已是歐洲普遍的宗教信仰，不可能會有「許多基督教徒至今不能公開參加他們的宗教活動」的現象。(D)〈世界人權宣言〉頒布於 1948 年，也不符合「許多基督教徒至今不能公開參加他們的宗教活動」的敘述。

難易度 易

34. 1920 年代，一位人士在法院受審時的答辯書中指出：製糖會社極盡榨取蔗農們的膏血，以致農民赤貧如洗；會社中的勞動者，一日勞動的報酬，不能維持家計，其慘澹的生活，令時常目擊的我，感到無限傷心，為此決定加入組織奮鬥。文中這位人士所提到的問題最主要是：
- (A)家庭的崩潰 (B)司法的迫害 (C)族群的矛盾 (D)經濟的剝削



答案 (D)

命題出處 歷史第一冊第三篇：日本統治時期

測驗目標 二林蔗農事件

詳解 1925年，彰化二林地區的蔗農因不滿林本源製糖株式會社的甘蔗收購價格太低，群起抗爭，後來與糖廠人員、警察爆發肢體衝突，史稱二林蔗農事件。事件發生後，簡吉、李應章等支持二林蔗農的知識分子遭到逮捕、審問，而有題幹所述的答辯詞。從答辯詞中「製糖會社極盡榨取蔗農們的膏血」可知問題主要在於「經濟的剝削」。

難易度 易

35. 以下三段資料為三個不同時期的中國知識分子對傳統與西方文化的看法：

資料甲：我們要拋棄傳統中國的四書五經、打倒那吃人的禮教，專心學習西方的民主與科學。

資料乙：我們要拒絕汙染心靈的西方文化，更要唾棄傳統中國的文化遺毒，知識青年應該下鄉向農民學習。

資料丙：我們可以仿效西方國家的科學與技術，但是，仍要堅持維護中國的綱常、名教與聖人之道。

上述資料依時序先後應是：

(A)甲乙丙

(B)乙丙甲

(C)丙甲乙

(D)丙乙甲

答案 (C)

命題出處 歷史第二冊第四篇：晚清之變局、歷史第三冊中國史第一篇：中華民國的建立與發展、歷史第三冊中國史第二篇：當代中國與臺海兩岸關係

測驗目標 近現代中國的思想變化

詳解 資料甲為民國初年的新文化運動，當時許多知識分子揚棄中國傳統文化，宣稱要「打倒吃人的禮教」，迎接西方的「德先生」（民主）、「賽先生」（科學）。資料乙為文化大革命（1966～1976年），當時知識分子同樣唾棄中國傳統文化，並出現「上山下鄉」運動，號召知識青年向農民學習。資料丙為清朝末年許多知識分子的看法，他們並未否定中國傳統文化，而是主張「中學為體，西學為用」，一方面學習西方的科學與技術，一方面堅持中國傳統的名教綱常。綜合以上所述，三段資料依序為(C)丙甲乙。

難易度 中

36. 老師上課時，根據歷史資料繪製成圖 2，以說明中國歷史上某個時期政府在全國兵力部署的比重。根據圖中訊息判斷，這應是何時的情況？

- (A) 秦初
- (B) 唐初
- (C) 宋初
- (D) 明初

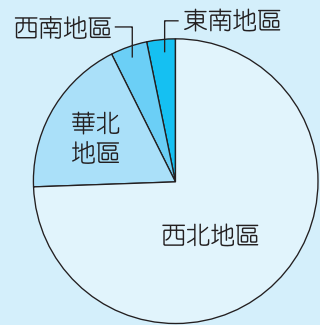


圖 2

答案 (B)

命題出處 歷史第二冊第二篇：秦漢至隋唐

測驗目標 唐朝府兵制與關中本位政策

詳解 唐朝之建立，受惠於府兵制度，而府兵制度以關隴地區（位於中國的西北地區）為核心，大部分兵力部署於此，藉此護衛中央（長安），並形成以關隴地區為政治、軍事中心的態勢，此即史家所稱的「關中本位政策」。(A) 秦朝曾大舉征討百越，其東南地區的兵力部署比重應更高。(C) 宋初首都位於開封，則華北地區的兵力部署比重應更高。(D) 明初首都先在南京，後在北京，均不會出現西北地區兵力部署比重如此之高的現象。

難易度 中

37. 中國歷史上某地居民的職業結構如下：十分其民，而工商居其四（占四成）；十分其農，而佃戶居其六；十分其力，而傭工（雇傭勞動）居其五。上述的現象最可能發生於：

- (A) 西漢的關中地區
- (B) 唐初的華北地區
- (C) 清初的長江地區
- (D) 清領前期的臺灣

答案 (C)

命題出處 歷史第二冊第三篇：宋、元、明與盛清

測驗目標 清初的社會與經濟

詳解 首先，清初長江地區延續明代以來的發展，工商業發達，因而有「十分其民，而工商居其四」的現象。其次，宋代以來，租佃制度日益成熟，農民多承租土地耕種，至清初佃戶已占農民人口的六成。最後，唐德宗以來，推行兩稅法，到了明代萬曆年間，又有一條鞭法，這些稅法均具有「以雇傭工取代義務性力役」的精神，使得清初「傭工居其五」。



(A)(B)宋代以後租佃制度才逐漸成熟，漢、唐時不可能會有如此多的佃戶。(D)清領前期的臺灣工商業尚不發達，較不可能出現「工商居其四」的現象。

難易度 易

38. 某一時期，許多學者寫了不同的手冊，教導年輕人舉止要合宜，吃飯有禮貌，學習文學、音樂、藝術，才能成為有趣的社交分子。這些手冊一經出版，便銷售一空，說明當時社會重視禮儀規範。這個時期最早出現於何時？

- (A)古典希臘時期 (B)羅馬共和時期
(C)文藝復興時期 (D)啟蒙運動時期

答案 (C)

命題出處 歷史第三冊世界史第二篇：近代世界的轉變

測驗目標 文藝復興時期的人文教育

詳解 文藝復興時期（約 14～16 世紀），人文主義昂揚，人們崇尚古典時代（希臘、羅馬時代）的文藝風格與人文精神，重視個人的品格、修養、禮儀與談吐，視西塞羅等雄辯家為典範。人們為此學習文法、修辭、邏輯、音樂、藝術、禮儀等，稱為「人文教育」，希望藉此成為談吐不凡、舉止合宜的社交分子。同時，相關的教材也透過出版業大量印行（1450 年代古騰堡發明活字印刷術）而迅速普及。(A)(B)希臘、羅馬時代雖然也強調人文教育，但當時出版業並不發達，較不可能有題幹所述的現象；(D)啟蒙運動時期也可能出現如題幹所述的現象，但由於題目問的是「最早出現於何時」，故答案選(C)。

難易度 易

39. 一位作者討論當時中國的社會情況，重要內容包括：論修治道路、論綏靖地方、懲戒奢侈、清除鴉片流弊、嚴禁買賣奴婢、禁溺女嬰等。這種想法最可能出現於下列何書中？

- (A)明代的《職方外紀》 (B)清初的《大義覺迷錄》
(C)清末的《自西徂東》 (D)抗戰時期的《中國之命運》

答案 (C)

命題出處 歷史第二冊第四篇：晚清之變局

測驗目標 清末的社會與鴉片問題

詳解 題目的關鍵在於「清除鴉片流弊」，鴉片自清代中葉以來，逐漸成為嚴重的社會問題，故答案以清末最為適合。《自西徂東》是清末來華的德國傳教士花之安（Ernst Faber）的著作，花之安在此書中對比中西文

明，並點出中國社會的問題與弊病。(A)明代鴉片問題並不嚴重。《職方外紀》為明代傳教士艾儒略的著作，該書主要在介紹世界地理。(B)清初鴉片問題尚不嚴重。《大義覺迷錄》為雍正皇帝所頒行的書籍，旨在為其政策辯護。(D)抗戰時期的中國，鴉片問題已不如清末嚴重。《中國之命運》為蔣中正的著作，內容以三民主義為核心，並強調中國國民黨的重要。

難易度 易

40. 一份文書中，中國政府表示：「前次所有遇害難民之家，中國定給撫卹銀兩，貴國所有在該處修道、建房等件，中國願留自用，先行議定籌補銀兩。所有此事兩國一切往來公文，彼此撤回、註銷。至於該處『生番』，中國自宜設法妥為約束，以期永保航客，不能再受凶害。」這份文書應與哪一事件有關？
- (A)中國與日本有關牡丹社事件的討論 (B)中國因法國侵略安南，與法國交涉
(C)中德因德國企圖占領膠州灣的協議 (D)中國與各國就解決義和團事件商議

答案 (A)

命題出處 歷史第一冊第二篇：清朝統治時期

測驗目標 牡丹社事件

詳解 1874年，日本以琉球船難者遭到臺灣原住民（題幹中的「生番」）殺害為由，出兵臺灣，清廷為此派遣沈葆楨來臺，並調淮軍支援，此即牡丹社事件。後來中日雙方談判，清廷答應給予十萬兩的撫卹金，以及四十萬兩的補償金（補償日方在臺灣所修造的道路、房屋費用），並允諾將妥善約束原住民，以確保類似事件不再發生。(B)為中法戰爭，中國並未給予法國撫卹金或補償金。(C)膠州灣位於山東，不符合「生番」的敘述。(D)義和團成員多為清廷治下的子民，不會稱為「生番」。

難易度 易

41. 某一時期，政府為了吸收民間存款，特別制定《臺灣省各行庫舉辦優利儲蓄存款辦法》，規定每次存入金額不得低於新臺幣 300 元，存期不得少於 1 個月，利率為月息 7 分（即每百元每月 7 元，年利率為 84 %，按複利折合年率為 125.08 %）。這個政策實施之後，儲蓄風氣盛行，物價上漲的速度立刻減緩。這種政策的背景是：
- (A) 1946 年，政府因國共內戰需軍費，以高利率吸收民間存款
(B) 1950 年，政府積極壓抑通貨膨脹，建立民眾對新臺幣信心
(C) 1951 年，政府籌募公地放領的經費，高利率吸引民間資金
(D) 1971 年，政府陸續推動大型交通建設，急需民間資金挹注



答案 (B)

命題出處 歷史第一冊第四篇：中華民國時期：當代臺灣

測驗目標 遷臺初期的通貨膨脹與新臺幣政策

詳解 戰後臺灣受到國共內戰的影響，通貨膨脹嚴重，此一情形直到 1949 年，以黃金、外匯做為準備金發行新臺幣才得到明顯改善。1950 年，為建立民眾對新臺幣的信心，政府制定《臺灣省各行庫舉辦優利儲蓄存款辦法》，以高利率吸引民眾存款，有效減少市場上的通貨，物價上漲的速度隨之減緩。(A)新臺幣於 1949 年才發行。(C)公地放領旨在改善農村問題，與減緩物價上漲沒有直接關係。(D) 1971 年，新臺幣發行已有 20 餘年，幣值早已穩定，也沒有嚴重的通貨膨脹問題。

難易度 難

42. 1154 年，埃及法提馬王朝統治者在一封致比薩大主教的信中說：只要你們承諾不與法蘭克人合作，我方可同意你們的商人運送貨品來我方貿易。除了亞歷山卓城外，你們也可以在開羅建立據點，但需繳交關稅；木材、鐵、樹脂這三項貨品，我方保證以市價購買。埃及法提馬王朝統治者寫這封信的目的最可能是：

- (A) 埃及希望與比薩形成商業同盟
- (B) 防止比薩大主教與十字軍合作
- (C) 保護埃及木材、鐵、樹脂產業
- (D) 歡迎比薩商人可以在埃及定居

答案 (B)

命題出處 歷史第三冊世界史第一篇：文明的興起與交會

測驗目標 法提馬王朝與十字軍東征

詳解 比薩為義大利的城市，法提馬王朝為位於埃及的伊斯蘭政權。12 世紀時，十字軍運動蓬勃發展，法提馬王朝等伊斯蘭政權成為十字軍攻擊的目標。然而，當時義大利許多商人與穆斯林之間有貿易關係，埃及的亞歷山卓與開羅均為義大利商人重要的貿易對象。因此，法提馬王朝企圖以貿易利益做為交換，說服比薩大主教不要與十字軍（法蘭克人）合作。(A)(D)無法解釋為何法提馬王朝要求比薩大主教不要與法蘭克人合作。(C)法提馬王朝向外國買入木材、鐵、樹脂，不僅無法保護埃及的木材、鐵、樹脂產業，更可能危害之。

難易度 中

43. 表 2 是 1951 年到 1961 年間臺灣農戶數百分比的統計表格，我們如何理解這段期間臺灣農戶資料的變化？

- (A) 實施耕者有其田政策的成果
- (B) 工業發展，使半自耕農減少
- (C) 肥料價格上漲，自耕農棄耕
- (D) 政府不斷鼓勵佃農放棄農業

表 2

時間	自耕農	半自耕農	佃農
1951	38	25	37
1953	55	24	21
1955	59	23	18
1957	60	23	17
1959	62	23	15
1961	65	21	14

答案 (A)

命題出處 歷史第一冊第四篇：中華民國時期：當代臺灣

測驗目標 耕者有其田政策的影響

詳解 民國 42 年（1953 年），政府實施「耕者有其田」政策，強迫大地主必須釋出超過定額的土地，由政府徵收，再放領給農民。農民領地後，定期向政府繳納實物，期滿則獲得土地的所有權，許多佃農因此成為自耕農，故表中自耕農比例從 1953 年開始逐漸上升，相對的佃農比例則逐年下降。(B) 半自耕農的比例變化並不大，無法充分說明工業發展對於農戶身分的影響為何。(C) 表中的自耕農比例不斷上升，未有棄耕之現象。(D) 從自耕農與佃農的相對關係可知佃農比例的減少，應是轉為自耕農之故，而非放棄農業。

難易度 中

44. 一位淡水海關稅務官員的報告中提到：臺北盆地修築了城牆，也蓋了新的衙門，又透過丹麥電氣工程師的協助，衙門裡裝設了電燈，各主要街道也架起了電燈。判斷這份報告在 1880 年代的主要依據是：

- (A) 修城牆、電燈
- (B) 海關、外國顧問
- (C) 新衙門、海關
- (D) 外國顧問、街道

答案 (A)

命題出處 歷史第一冊第二篇：清朝統治時期

測驗目標 清領臺灣晚期的現代化建設

詳解 1884 年，臺北城竣工。隔年，臺灣正式建省，首任巡撫劉銘傳推行現代化建設，架設電燈。修城牆與架設電燈均為 1880 年代的事情，答案選(A)。其餘選項中，海關在 1860 年代臺灣開港通商後即已出現，外國顧問也是在此時大量進入臺灣。至於新衙門與街道，在清領臺灣早期即可能出現，無法做為確切的時間判斷標準。



難易度 易

45. 「溪底寮」為臺灣常見的聚落名稱，源自於早年當地有民眾利用河川枯水期在乾涸河床從事開墾，並在其地搭建簡單工作寮房。考量臺灣的氣候和河川特色，下列縣市中何者具有最多的溪底寮地名？

- (A) 新北市
- (B) 苗栗縣
- (C) 嘉義縣
- (D) 宜蘭縣

答案 (C)

命題出處 地理第四冊：第 14 章 臺灣的區域特色與區域發展問題

測驗目標 能分析地理現象的空間特性

詳解 題目敘述河川有明顯枯水期，以西南部的河川最明顯，四個區域以(C)嘉義縣的位置在最西南側，乾溼季最明顯，以「溪底寮」為地名最多。

難易度 中偏易

46. 2000 年修訂之《農業發展條例》放鬆農地買賣管制，根據宜蘭縣政府農舍數量統計，2000～2014 年間宜蘭縣農舍約增加 7,600 幢，許多農地消失。這個現象除了政策因素外，與下列何者的關係最密切？

- (A) 都市發展
- (B) 土地退化
- (C) 交通革新
- (D) 農業企業化

答案 (C)

命題出處 地理第四冊：第 14 章 臺灣的區域特色與區域發展問題

測驗目標 能整合自然與人文因素，解釋區域特色、區域差異與互動

詳解 房舍增加而農地消失，主要是人口大量遷入的結果。(C) 2006 年 6 月雪隧通車，使大量西部人口移入置產，造成上述的結果。

難易度 中偏易

47. 郁永河的《裨海紀遊》一文記載：「二十五日，買小舟登岸，近岸水益淺，小舟復不進，易牛車，從淺水中牽挽達岸。」下列敘述的產業景觀，何者最可能出現在郁永河登陸地點附近？
- (A)大者數十甲，引海水而入以飼虱目
(B)鋸板抽藤兼以採取木料，以供軍用
(C)儼然身到崇安道，山北山南遍種茶
(D)溪南溪北草痕肥，山前山後布穀飛

答案 (A)

命題出處 地理第四冊：第 11 章 臺灣的位置與環境特色

測驗目標 能解釋人類與環境間的相互關係

詳解 該文後為「……詣臺邑二尹蔣君所下榻。計自二十一日大旦門出洋以迄臺郡，凡越四晝夜」，所記是郁永河登岸地，為臺南地區。(A)出自連橫《臺灣語典》，為臺南的虱目魚養殖。(B)出自《臺灣通史》，指屏東到恆春。(C)為清代林占梅所作〈過南港茶巖〉，指臺灣北部。(D)為全卜年所作〈蘭陽即事〉八首之四，描寫宜蘭地區。

難易度 難

48. 表 3 為某地區的氣候資料（雨量單位：mm，溫度單位： $^{\circ}\text{C}$ ），請問盛行於該氣候區的主要農業類型為何？

表 3

月分	一	二	三	四	五	六	七	八	九	十	十一	十二
溫度	24	23	21	18	16	13	12	14	16	17	20	23
月雨量	5	5	15	40	120	160	162	140	90	60	20	18

- (A)放牧業
(B)酪農業
(C)熱帶栽培業
(D)地中海型農業

答案 (D)

命題出處 地理第一冊：第 10 章 天氣與氣候、地理第一冊：第 12 章 水文概述

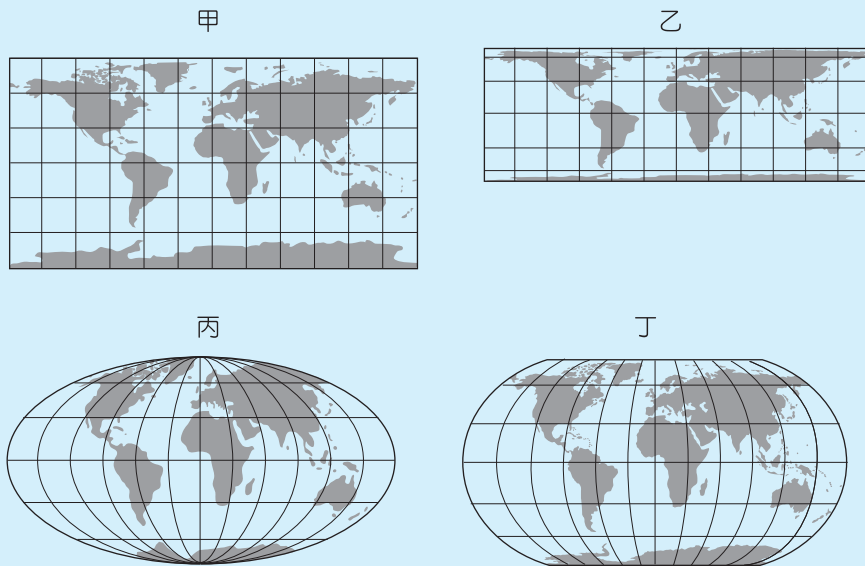
測驗目標 能運用各種地理資訊分析、展現和解釋地理現象

詳解 1 月 24°C ，7 月 12°C ，可判斷為南半球暖溫帶；月雨量 1 月 5 mm，7 月 162 mm，夏乾冬雨，可判斷為南半球溫帶地中海型氣候區。(D)該地為地中海型農業。

難易度 中偏易



49. 點子圖經常被用來表現人口分布疏密，繪製時必須選擇面積比例正確的投影。下列投影地圖的經線和緯線間距各為 30 度，根據經線和緯線長度判斷，哪組地圖的面積比例最接近正確？



- (A)甲丙 (B)甲丁 (C)乙丙 (D)乙丁

答案 (C)

命題出處 地理第一冊：第 1 章 認識地圖

測驗目標 能運用各種地理資訊分析、展現和解釋地理現象

詳解 甲為等距圓柱投影（沿經線等距）。乙為等積圓柱投影（經線調整使成等積）。丙為莫爾威投影，為等積投影。丁為蘭伯特投影，為折衷投影。題目所指面積比例最接近正確，為等積投影法，選(C)乙丙。

難易度 難

50. 2016 年初全臺各地設有 79 個空氣品質監測站，環保署每小時公布各站監測資料，這些資料可用來推估全臺空氣品質狀況及地區差異。下列何者最適合用來表現這些資料所呈現的全臺各地空氣品質狀況？

- (A)點子圖 (B)風花圖 (C)面量圖 (D)等值線圖

答案 (D)

命題出處 地理第一冊：第 5 章 地理資訊系統

測驗目標 能運用適當方法，觀察重要地理現象與獲取地理資料

詳解 空氣品質為連續性的空間資料，可由 79 個測站資料，以統計方法求得，這些測站不一定在同一行政區內，因此以(D)等值線圖表現最佳。

難易度 易

51. 臺灣烏龍茶出口曾經歷很長的衰退期，近年來透過 DNA 檢驗以阻低劣茶混充，並配合客製化和文化行銷手段，提升茶葉附加價值，使得烏龍茶產業再度振興。這種振興過程最適合以下列哪種概念來說明？
 (A)專業分工 (B)知識經濟 (C)休閒農業 (D)商業性農業

答案 (B)

命題出處 地理第二冊：第 7 章 資訊化社會與高科技知識產業

測驗目標 能知道重要的地理事實、名詞、概念、原則和理論

詳解 DNA 檢驗和文化行銷有別於傳統製茶業，是以現代的方式提高附加價值，為(B)知識經濟的表現。

難易度 中偏易

52. 2011 年日本 311 大地震之後，除日本產業受到重創外，亞股、歐股和美股股價亦出現跌勢。此一事實和下列哪個現象關係最密切？
 (A)跨國空間分工鏈發達 (B)產品的生命週期縮短
 (C)區位移轉的趨勢加速 (D)新興的資本市場增多

答案 (A)

命題出處 地理第二冊：第 7 章 資訊化社會與高科技知識產業

測驗目標 能知道重要的地理事實、名詞、概念、原則和理論

詳解 一地發生天災，使其他地區也受影響，表示各地間的關係密切，為國際分工的結果，選(A)。

難易度 中偏難

53. 圖 3 是某種農業活動的產銷流程示意圖。此圖最符合下列哪種農業活動的特徵？




圖 3

- (A)酪農業 (B)混合農業
 (C)熱帶栽培業 (D)商業性穀物農業

答案 (D)

命題出處 地理第二冊：第 1 章 第一級產業概論



測驗目標 能分析形塑地表景觀的自然與人文作用因素及其交互關係

詳解 圖中開始以機械化耕作，再來為農業商品化，運至大穀倉，最後以輪船運出，為(D)商業性穀物的生產流程。

難易度 易

54. 中國的空氣汙染問題嚴重，而近年有多項國際重要活動在中國舉行。為了改善活動期間的空氣品質，政府要求周遭地區兩、三百公里內的工廠停工，並管制汽車交通。這些措施使得當時空氣品質大為改善，重現藍天。網路民眾乃稱 2014 年北京 APEC 會議期間有所謂的「APEC 藍」，而 2016 年杭州 G20 世界高峰會時有所謂的「G20 藍」。請問，因為 APEC 會議和 G20 會議而受到生產管制的工廠，分別位於中國的哪個經濟圈？

(A) 渤三角；長三角

(B) 渤三角；珠三角

(C) 長三角；珠三角

(D) 珠三角；渤三角

答案 (A)

命題出處 地理第四冊：第 9 章 中國的工業

測驗目標 能分析地理現象的空間特性

詳解 (A)北京在渤三角，杭州在長三角。

難易度 易

55. 圖 4 是某地區的自然景觀帶素描圖。該自然景觀帶內最主要發生的土壤化育作用為何？

(A) 鈣化作用

(B) 灰化作用

(C) 鹽化作用

(D) 聚鐵鋁化作用



圖 4

答案 (D)

命題出處 地理第一冊：第 15 章 自然景觀帶

測驗目標 能運用各種地理資訊分析、展現和解釋地理現象

詳解 照片樹木繁茂且有板根，藤蔓叢生，為溼熱的環境，以(D)聚鐵鋁化作用為主。

難易度 中偏易

56. 受全球化的影響，近十多年來美國製造產業比重持續下滑、工作機會流失，這種情形在某些地區尤為嚴重。2016 年美國總統大選，共和黨候選人川普提出「美國製造」的政見，誓言將工作機會帶回美國。川普原本不被看好，但在這些地區卻獲得大量白人勞工支持，因而意外當選。這些幫助川普逆轉勝的白人勞工，最可能位居圖 5 中何區？

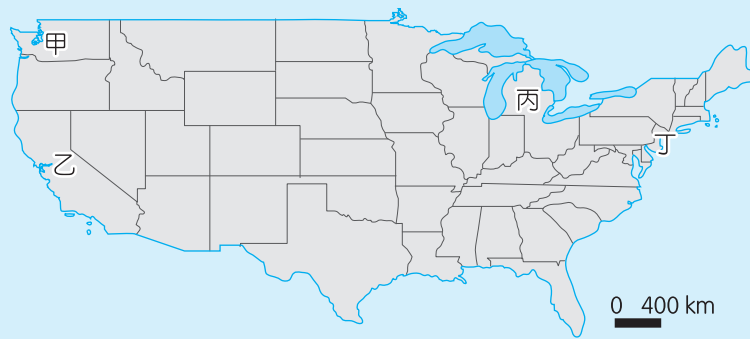


圖 5

- (A)甲 (B)乙 (C)丙 (D)丁

答案 (C)

命題出處 地理第三冊：第 13 章 北美洲（一）

測驗目標 能運用各種地理資訊分析、展現和解釋地理現象

詳解 圖中甲為西雅圖，乙為舊金山，丙為底特律，丁為紐約市。其中底特律為傳統製造業中心，以汽車聞名，白人勞工比例高，故選(C)。甲、乙所在的西岸為高科技產業，丁的紐約市為商業中心，均非傳統製造業中心。

難易度 難

57. 非洲馬達加斯加島的人口絕大多數為馬來人和東非人通婚的後裔，稱為亞非人。下列哪一項敘述可顯示該島具有東南亞文化的內涵？

- (A)人口出生率高 (B)耕地大多種水稻
(C)信仰基督教為主 (D)居民多從事第一級產業

答案 (B)

命題出處 地理第三冊：第 4 章 東南亞（一）

測驗目標 能分析形塑地表景觀的自然與人文作用因素及其交互關係

詳解 (B)非洲以採集漁獵和旱作農業為主，東南亞傳統文化以水稻為主。(A)非洲的人口出生率較東南亞高。(C)東南亞的南洋群島以伊斯蘭教為主。(D)非洲的第一級產業比例較東南亞高，因此(A)(C)(D)三者皆非東南亞的特徵。

難易度 難



58. 圖 6 是某一宗教信徒舉行宗教儀式的建物。下列哪些地區的人口組成中，該宗教信徒的比例較高？

- 甲、巴爾幹半島
- 乙、東印度群島
- 丙、西印度群島
- 丁、撒赫爾地區
- 戊、美索不達米亞平原

- (A) 甲乙丙
- (B) 甲丙丁
- (C) 乙丁戊
- (D) 丙丁戊



圖 6

答案 (C)

命題出處 地理第三冊：第 1 章 世界的劃分

測驗目標 能分析地理現象的空間特性

詳解 照片為清真寺，屬伊斯蘭教文化，(C)乙丁戊地區屬之。甲、巴爾幹半島以東正教為主，部分為伊斯蘭教；丙、西印度群島為拉丁文化的殖民區，以天主教為主。

難易度 中偏易

59、60. 為題組

◎ 圖 7 是日治時期花蓮港廳壽區（約略在今花蓮縣壽豐鄉）一帶的地形圖，此圖北方朝上，每個方格面積為 1 平方公里，等高線間距為 10 公尺。請據以回答下列問題：

59. 圖中的山下聚落因地下水豐富，於北側和東北側墾成水田。該地主要位於何種地形的邊緣，因此擁有豐富的水資源？

- (A) 台地
- (B) 河階
- (C) 沖積扇
- (D) 三角洲

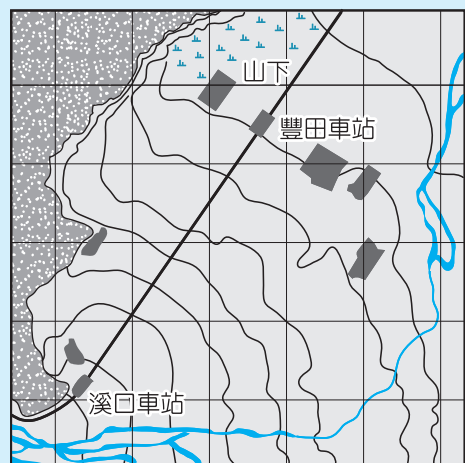


圖 7

答案 (C)

命題出處 地理第一冊：第 3 章 地形的展示與判讀

測驗目標 能運用適當方法，觀察重要地理現象與獲取地理資料

詳解 由圖中等高線分布和河流可知此為(C)沖積扇，山下聚落在沖積扇的扇緣，易形成地下水湧出。

難易度 中偏難

60. 若搭乘火車由豐田火車站至溪口火車站，鐵道的坡度變化最接近下列何者？
 (A)上升 0.7 % (B)上升 1.6 %
 (C)下降 0.7 % (D)下降 1.6 %

答案 (B)

命題出處 地理第一冊：第 3 章 地形的展示與判讀

測驗目標 能歸納與處理地理資料

詳解 豐田在扇緣，位置較低；溪口在扇頂，位置較高。由豐田到溪口，漸漸上升。兩地在圖上距離約 4 格，計 4,000 公尺；高差為 7 個間隔，共 70 公尺， $(70 / 4,000) \times 100 \% = 1.75 \%$ ，最接近 1.6 %，選(B)。

難易度 中偏難

61、62 為題組

- ◎ 澳洲商業化農業發達，是世界主要的穀物和肉類出口國之一。圖 8 是該國主要農業區分布圖。請問：



圖 8

61. 下列哪個農業帶的人口最密集、經濟最繁榮？
 (A)甲 (B)丁
 (C)戊 (D)庚

答案 (C)

命題出處 地理第三冊：第 6 章 澳洲與紐西蘭



測驗目標 能分析地理現象的空間特性

詳解 澳洲人口最密集的精華區在東南部。甲為粗放羊毛區，乙為低度使用區，丙為粗放肉牛區，丁為混合農業區，戊為商業性穀物區，己為酪農區，庚為熱帶栽培業。人口最密集處在戊、己兩區，選項僅(C)戊符合。

難易度 中偏易

62. 庚區的農作物最常受到下列哪種自然災害的影響？

- (A)寒潮 (B)龍捲風 (C)火山爆發 (D)熱帶氣旋

答案 (D)

命題出處 地理第三冊：第 6 章 澳洲與紐西蘭

測驗目標 能分析形塑地表景觀的自然與人文作用因素及其交互關係

詳解 庚為熱帶栽培業，緯度低，最易受(D)熱帶氣旋影響。(A)寒潮在高緯度區域。(B)龍捲風在大陸內部。(C)澳洲地層古老穩定，沒有火山。

難易度 中偏難

63、64. 為題組

◎ 圖 9 為 1940 年日惹地區 (7°48" S, 110°21" E) 華人移民合資雕刻的紀念碑，其目的在慶祝日惹王國統治者即位，藉以維持雙方的友好關係。請問：

63. 該石碑豎立地點的所在國家，目前其國民最主要的宗教信仰為何？

- (A)道教
(B)天主教
(C)印度教
(D)伊斯蘭教

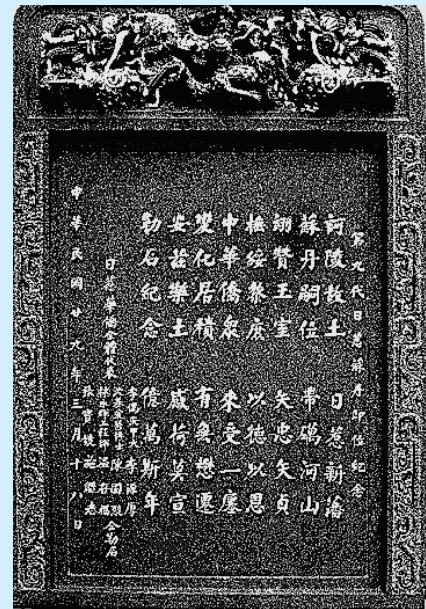


圖 9

答案 (D)

命題出處 地理第三冊：第 4 章 東南亞 (一)

歷史第三冊世界史第一篇：文明的興起與交會

測驗目標 能運用各種地理資訊分析、展現和解釋地理現象；東南亞地區的伊斯蘭信仰

詳解 從題幹所示的經緯度判斷，可知日惹地區位於印尼。明代以來雖然有大量華人移居東南亞地區，並帶入道教、佛教等宗教信仰，但由於伊斯蘭教在印尼早已根深蒂固，故至今印尼的主要宗教信仰仍為伊斯蘭教。

難易度 中

64. 若從交通及地理位置來思考該區華人移民的原鄉，可知原鄉當地最可能受到下列哪種災害的影響，導致短期的糧食歉收，人口壓力變大？

- (A) 颱風頻繁，農田作物流失 (B) 龍捲風過境，襲捲屋舍人畜
(C) 西風帶來豪雨，河水暴漲成災 (D) 地震頻仍，毀壞橋梁水利設施

答案 (A)

命題出處 地理第三冊：第4章 東南亞（一）

測驗目標 能整合自然與人文因素，解釋區域特色、區域差異與互動

詳解 東南亞的華人移民主要來自閩、粵地區，最可能受(A)颱風影響。(B)龍捲風在大陸內部較易發生，但閩、粵靠海。(C)西風帶在較高緯度區域，閩、粵為副熱帶到熱帶季風氣候區。(D)閩、粵以結晶岩為主，較無地震問題。

難易度 易

65、66. 為題組

◎ 1776年，北美洲殖民地人民要求獨立，在某城市發表宣言，指出：「我們不是沒有顧念我們的英國弟兄。我們一再警告，但他們的立法機關仍企圖把無理的管轄權加到我們頭上。」

65. 宣言中所指的「無理的管轄權」最可能是指

- (A) 殖民地不得發行報紙 (B) 殖民地禁止蓄養黑奴
(C) 禁止設立銀行與郵局 (D) 未經同意便強行徵稅

答案 (D)

命題出處 歷史第四冊第一篇：歐美國家的變革

測驗目標 稅收問題與美國獨立革命

詳解 稅收問題是美國獨立革命的導火線，當時殖民地人民認為英國國會沒有殖民地人民的代表，便沒有權力向殖民地人民徵稅。因此，對殖民地人民而言，英國在殖民地所徵收的糖稅、印花稅、茶葉稅都是一種「未經同意就強行徵收的稅」。(A)(B)(C)均未有如此規定。

難易度 易



66. 發表該宣言之城市的外圍地區，日後最可能發展的商業性農業活動為何？

- (A)酪農業 (B)放牧業
(C)熱帶栽培業 (D)商業性穀物農業

答案 (A)

命題出處 地理第三冊：第 13 章 北美洲（一）

測驗目標 能分析地理現象的空間特性

詳解 北美獨立由新英格蘭地區肇始，位在美國東北部，目前是世界最大的都會帶，氣候冷溼但人口密集，今日以(A)酪農業為主。

難易度 易

67.、68. 為題組

◎ 表 4 為 2013 年法國、阿富汗、馬來西亞、俄羅斯四個國家的統計資料表。請問：

表 4

國家	X	平均國民所得（美元）	預期壽命（歲）	HDI
甲	99.9	1,904	60.9	0.468
乙	19.0	22,617	68.0	0.778
丙	10.0	36,629	81.8	0.884
丁	60.4	21,824	75.0	0.773

67. 計算人類發展指標（HDI）時，應當運用下列哪項資料？

- (A)人口粗出生率 (B)家用電腦普及率
(C)每百人擁有的病床數 (D)六歲以上兒童預期受教育的年數

答案 (D)

命題出處 地理第三冊：第 1 章 世界的劃分

測驗目標 能歸納與處理地理資料

詳解 計算 HDI 主要以生活水準指數（平均國民所得）、預期壽命指數、教育指數三者為主。(D)六歲以上兒童預期受教育年數可代表教育指數。

難易度 難

68. 表 4 中的 X 項統計資料的內容應當是

- (A)穆斯林人口占總人口之百分比 (B)工業占全國生產總值之百分比
(C)白人移民占全國人口之百分比 (D)共產黨員數占當地人口百分比

答案 (A)

命題出處 歷史第四冊第三篇：從對立到多元世界

地理第三冊：第 1 章 世界的劃分

測驗目標 伊斯蘭教在世界各地的發展；能運用各種地理資訊分析、展現和解釋地理現象

詳解 歷史詳解：題幹所列的四個國家中，阿富汗的經濟發展程度最低，其平均國民所得自然也是最低，可知甲為阿富汗。再從阿富汗推測 X 項的統計資料，則只有(A)選項最為適合。阿富汗為伊斯蘭國家，境內幾乎所有人民都信奉伊斯蘭教。(B)阿富汗的開發程度甚低，工業生產總值不可能如此之高。(C)阿富汗未有如此多的白人移民。(D)冷戰結束以來，阿富汗的共產勢力衰微，不可能會有如此多的共產黨員。

地理詳解：表中四國的 HDI 可看出最發達為丙—法國，最差為甲—阿富汗，乙、丁相差不大，但預期壽命以俄羅斯較低，所以乙為俄國，丁為馬來西亞。該統計中阿富汗最高，馬來西亞其次，法、俄明顯偏低，故 X 項統計資料最可能為(A)。

難易度 難

69、70. 為題組

◎ 圖 10 為 2016 年某國際組織會員國分布圖，圖中深色區域為會員國的位置。請問：



圖 10

69. 該國際組織在相同信仰下，促成會員國經濟、社會和文化等方面的合作，並消滅殖民主義，維護尊嚴。在會員國境內，下列哪種文化景觀最為常見？
- (A)大象造型的壁飾浮雕 (B)火焰造型的教堂屋頂
(C)六角星形的神聖圖騰 (D)頭巾長袍的穿衣風格

答案 (D)

命題出處 地理第三冊：第 1 章 世界的劃分

測驗目標 能運用各種地理資訊分析、展現和解釋地理現象

詳解 圖為伊斯蘭合作組織，以西亞、北非、東南亞為主，最多的文化景觀為(D)頭巾長袍的衣著。(A)為印度教。(B)指哥德式建築，為基督教文化區特色。(C)為猶太教特色。

難易度 中偏難



70. 這個國際組織所涵蓋的區域中，在歷史上曾經出現哪個帝國？

- (A)神聖羅馬帝國 (B)鄂圖曼帝國 (C)蒙兀兒帝國 (D)奧匈帝國

答案 (B)

命題出處 歷史第三冊世界史第二篇：近代世界的轉變

測驗目標 伊斯蘭教與鄂圖曼帝國

詳解 鄂圖曼帝國最盛時期，其疆域包括小亞細亞、巴爾幹半島、美索不達米亞、巴勒斯坦、紅海沿岸與北非等地，此一區域除巴爾幹半島外，均為題幹所示的區域所涵蓋。(A)神聖羅馬帝國位於今日的德國、奧地利一帶，題幹所示的區域並未涵蓋之。(C)蒙兀兒帝國位於今日的印度，絕大部分未被題幹所示的區域所涵蓋。(D)奧匈帝國位於今日的奧地利、匈牙利一帶，題幹所示的區域並未涵蓋之。

難易度 易

71、72. 為題組

◎ 圖 11 顯示某國農業土地利用隨著高度增加而變化。請問：

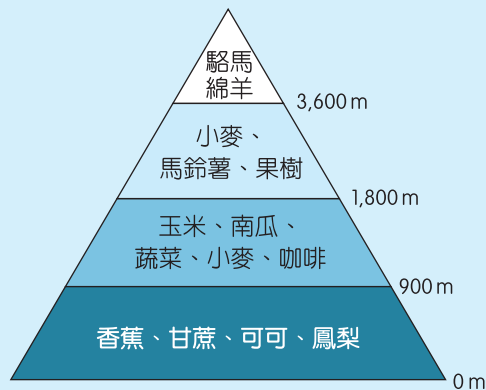


圖 11

71. 該國家最可能位於下列哪組經緯度涵蓋範圍內？

- (A) (45°N ~ 50°N, 20°E ~ 27°E) (B) (25°N ~ 30°N, 80°E ~ 87°E)
 (C) (35°S ~ 40°S, 58°W ~ 65°W) (D) (0° ~ 5°S, 80°W ~ 87°W)

答案 (D)

命題出處 地理第四冊：第 1 章 中南美洲（一）

測驗目標 能運用各種地理資訊分析、展現和解釋地理現象

詳解 (A)在東歐羅馬尼亞。(B)在北美佛羅里達。(C)在阿根廷彭巴草原。(D)為南美厄瓜多。該圖為垂直土地利用方式，並有駱馬出現，為南美北段安地斯山地區，選(D)。

難易度 難

72. 圖中，中低海拔地區大規模專業化栽培香蕉、甘蔗、可可、鳳梨等作物的情況，最可能始於何時？

- (A) 15 ~ 16 世紀物種大交換時期 (B) 18 世紀中葉工業革命開始時
(C) 19 ~ 20 世紀帝國主義發展時 (D) 20 世紀晚期簽訂世貿組織時

答案 (C)

命題出處 歷史第四冊第二篇：世界霸權的爭奪與衝突

測驗目標 新帝國主義對於中南美洲的經濟掠奪

詳解 從圖示的「駱馬」、「玉米」、「可可」、「馬鈴薯」等產業，可知此國位於中南美洲。中南美洲在大航海時代後引入歐亞大陸的小麥、甘蔗等作物，並輸出玉米、馬鈴薯等作物，史稱「物種大交換」或「哥倫布大交換」。然而，由於題幹問的是「大規模專業化栽培」，這是新帝國主義時代的現象，故答案以(C)較適合。

難易度 難

翰林

106 學測 精彩解析

社會考科

公民與社會：名 師／陳金榜 老師
臺南一中／廖翠雲 老師
歷 史：蘭陽女中／汪栢年 老師
名 師／郭子儀 老師
地 理：名 師／菌 搖 老師
名 師／林 菲 老師

【試題·答案】依據大考中心公布內容

發行人／陳炳亨
總召集／陳彥良
總編輯／蔣海燕
主 編／江欣穎
校 對／高中社會領域編輯
美 編／李湘悌·柯渝玟
◎本書內容同步刊載於翰林我的網

出 版／民國一〇六年二月
發行所／70248 臺南市新樂路 76 號
編輯部／70252 臺南市新忠路 8-1 號
電 話／(06)2619621 #312
E-mail / periodical@hanlin.com.tw
翰林我的網 <http://www.worldone.com.tw>



00847-04

翰 林 出 版

一 前言

整體而言，今年的公民與社會科試題難易度應屬近 5 年來最簡單的一年，沒有單純記憶或枝微末節的刁鑽題目，大多都是基本概念延伸的試題。從各冊的特色而言，今年題型與往年略有不同，社會學未見圖表（往年會結合社會統計數字），題目從基本人權、家庭型態變遷、成年禮（通過儀式）、非政府組織到媒體識讀，都算是相當基本且重要的概念。政治學部分題目結合時事，題目也算不難，預期中的選舉制度單純考單一選區與複數選區的差異，而未見席次計算題，對考生而言應屬簡單；另外熱門的「一中原則」與時事的難民問題也入題，其他如政治中立、代議民主與立法院職權也都屬基本概念題。而同學較擔心的法律學與經濟學，今年也未見太難或太細的題目，都是著重觀念的理解。法律題目完全集中在《憲法》、《民法》、《刑法》、《刑事訴訟法》與行政法五大重要主題。例如題組連兩題考《民法·親屬編》的「夫妻財產制」與「遺產繼承」的基本概念，只要掌握現行夫妻結婚時未登記財產制者皆採「法定財產制」與遺產繼承採「全面限定繼承」的規定就可正確作答；《刑法》與《刑事訴訟法》題目，也只要掌握犯罪構成要件中的「阻卻違法事由（正當防衛）」與被告基本權利保障之基本概念就可取分。經濟學則是六章平均都有出題，從機會成本、政府干預（價格下限）、國際貿易的福祉、GDP 到市場失靈的外部性與公共財都以基本觀念題出現。大致上，今年公民與社會科的題目以「生活化」與「基本概念」方向命題。公民與社會科的學測試題隨著時間的累積，題目已算是趨於穩定，未來考生依舊可從課綱的內容與 101 年以後的學測歷屆題型做為應考與模擬練習的準備方向。

公民與社會科在整個「社會考科」題目中占 24 題，今年各冊題目分布平均（各冊皆為 6 題）。分析如下：

冊別	題號	考題概念	各冊統計
第一冊	1.	人權保障	6 題
	2.	非政府組織	
	3.	家庭變遷	
	4.	媒體識讀	
	5.	通過儀式	
	6.	人權與文化	



第二冊	7.	聯合國與人道救援	6 題
	8.	一個中國原則與美中臺關係	
	9.	選舉制度	
	10.	修憲制度與立法院職權	
	11.	政治中立	
	12.	間接民主與直接民主	
第三冊	13.	行政法	6 題
	14.	《刑事訴訟法》	
	15.	《刑法》犯罪構成要件	
	16.	《憲法》之公益原則	
	23.	《民法》夫妻財產制	
	24.	《民法》遺產繼承	
第四冊	17.	外部性	6 題
	18.	政府干預	
	19.	公共財	
	20.	國際貿易	
	21.	機會成本	
	22.	國內生產毛額	



二 第一冊社會學

1 熱門考題

整體而言，今年社會學的題目顯得平易近人，沒有特別時事性的題目，在過往常出現的性別平等議題與多元文化皆未見入題，即便如此，入題的也都是課程中相當重要且基本的主題，例如：基本人權保障、非政府組織的性質與運作、家庭型態的轉變、媒體識讀、成年禮與通過儀式，以及童婚的文化傳統對上人權普世價值的衝突等。其中人權保障、媒體識讀與非政府（或非營利）組織在往年算是常見的題型，也是在歷年命題趨勢中所預測過的單元，但通過儀式與家庭型態的轉變算是公民與社會納考後首次出現，但題型基本而生活化，故對考生而言應不難得分。特別的是第 6 題以某國的童婚文化傳統對上人權團體致力於普世基本人權保障的價值衝突，應是本次社會學題目中的亮點，引導考生進行思考與判斷。

2 單元分析

今年第一冊社會學單元除公共利益該課未見題目外，其餘各單元皆平均出題。上段分析中所提到的第 6 題，則是整合第 3 章的人權與第 8 章多元文化出題，但其實也可說是第一冊文末所提及全球公民意識的展現。

3 未來趨勢

社會學單元在未來學測中仍應將重點集中在「自我形成的相關理論」、「性別平等」、「人權議題」、「志願結社」、「媒體識讀」、「社會運動（含公民不服從）」、「公共利益」、「全球化」及「多元文化」等相關議題上。特別是未來若婚姻平權通過立法，一定是該年度的熱門考題，同學可多加留意立法過程。此外，國民年金改革可能涉及各單元相關內容，考生也應稍加留意，但這類型的題目對高中生而言，不會是考制度改革的實質內涵，考生只要能掌握政府年金改革的精神與目的，或可能涉及的利益衝突即可。社會學題目歷年來常會搭配統計圖表，雖然今年並未出現，但未來無論指考或學測，考生仍應多加留意，此種題目只要能正確判讀圖表或數字的變化趨勢應可正確作答。最後，如今年第 6 題（童婚與人權保障）此種跨章節或跨領域的概念整合題目在過去歷屆試題中都曾出現過，因此在未來也仍應多加留意。



第二冊政治學

1 熱門考題

一如預期的近幾年來相當熱門的選舉制度今年再度入題，但題目相當簡單，考單一選區與複數選區的基本定義，對於熟悉聯立制與並立制這兩類混合制席次計算的考生而言，應該會覺得相當可惜，因為基本定義題多數考生應都可正確作答。今年政治學題目要說時事或熱門的大概是第 7 題的聯合國與國際難民問題，雖然圖片乍看之下不易判讀，但答案就藏在地圖角落中，反而花時間在判讀地圖中難民人數圓餅圖的考生可能吃虧。此外，原本預期可能會考的「一中各表」議題並未出現，但以涉及美中臺關係的「一個中國原則」與《臺灣關係法》出題，也勉強屬於今年的時事題。

2 單元分析

今年政治學也是各章平均出題，除上述所提的選舉制度僅考基本的單一選區與複數選區的差異外，未見近年來常出現的以選舉結果考席次計算搭配政府體制的題組題。整體而言，多屬觀念比較題型，未見死記或背誦的題目。例如：間接民主與直接民主的差異、單一選區與複數選區的差異、「一個中國原則」與《臺灣關係法》的關係、修憲程序與立法院職權（選項包含司法、監察、行政與立法院）、是否違反政治中立的「判斷」等。

3 未來趨勢

政治學單元未來命題仍要留意的是「國家的目的與統治的正當性」、「審議民主理論」、「責任政治」、「政治中立（或行政中立）」、「我國憲政體制」、「地方（自治）制度」。此外，「政府體制」、「政黨制度」與「選舉制度」要留意題組題（以選舉



結果搭配計算席次與該國的政府或政黨體制)等單元、「兩岸關係(國家領導人的兩岸政策)」,特別是蔡英文總統上任之後對大陸政策及其重要發言,與美國新總統川普上任之後的「中國政策」與對臺政策或立場,以及新的國際政治局勢。

四 第三冊法律學

1 熱門考題

整體而言,今年法律學單元的命題完全聚焦在大主題上,如《憲法》(公益原則)、《民法》、《刑法》(阻卻違法事由與司法人權的保障)、行政法。題型都是在考法律的基本內涵與概念,並未見太細的法律概念,對考生而言應是相當樂見。

2 單元分析

如上文所述,今年完全以《憲法》、《民法》、《刑法》、《刑事訴訟法》與行政法平均出題,未見刁鑽或冷僻題目。《憲法》部分考國家在四種要件下(即公益原則)得以法律限制人民的自由。過往考生的罩門在於行政程序,今年只是簡單判斷選項中何者應適用「行政法」,同學只要具備基本法學概念應都可輕鬆得分。《刑法》則考犯罪構成要件中,阻卻違法事由之「正當防衛」的判斷;《刑事訴訟法》則是考刑事司法人權保障的基本概念(第14題),無論題意或選項判斷都屬基本而簡單的題型。《民法》則以題組題考〈親屬編〉中的夫妻財產制(第23題),本題若考生不知夫妻結婚未登記財產制時應適用「法定財產制」的話,可能不易作答,與遺產繼承目前採全面「限定繼承」(第24題),亦即財產減掉債務至零為止,避免父債子還的現象發生。因此法律學單元以《民法》兩題為決勝關鍵,若知道基本的「法定財產制」與「限定繼承」概念就可正確作答。

3 未來趨勢

未來考生要留意的法律學重點主要還是「釋憲制度」、「憲法保障的基本人權與自由權的限制」、「正當行政程序」、「行政法」、「民法」與「刑法」的基本原則與內涵、刑事訴訟的基本概念(如對被告人權的保障、法官與檢察官的職權)以及「權利救濟」等。

五 第四冊經濟學

1 熱門考題

機會成本、政府的價格干預、國際貿易對社會福祉的影響、國內生產毛額(GDP)、外部性與公共財等,經濟學共六章,平均每章皆考出一題,且都是基本概念題,算是中規中矩的題目,考生只要知道基本定義都可正確解題,應算是經濟學單元近年來最簡單的題目。

2 單元分析

今年經濟學單元的題目著重在基本概念。第17題以購買專用垃圾袋考外部成本內部化的概念,這對臺北市考生而言應算是生活中的一部分吧!第18題考政府干預(價格下

限)，內容為大多數老師上課常會提醒同學必須注意的重要概念，即實施價格干預時，若採價格上限，線段要落在原均衡價格以下才有意義；反之，若採價格下限，線段要落在原均衡價格以上才有意義，本題只要能掌握到此一原則即可正確解題。第19題考公共財基本定義，只要能釐清「共享性」與「無法排他性」的基本意涵就不難作答。第20題考國際貿易後對兩國市場的影響（消費者剩餘與生產者剩餘），也屬基本概念題。第21題考機會成本，第22題則是考GDP的基本概念。

3 未來趨勢

以教學經驗而言，外部成本與外部利益造成社會福祉減損的圖型常是考生最大的夢魘，但其實至目前為止尚未出現外部性圖形的考題，主要仍是以外部性的概念出題為主，今年仍不例外，考生毋須過度焦慮。經濟學未來要注意的重點題型包括「機會成本與生產可能線」、「市場機能（供需法則或政府干預造成的損失）」、「經濟全球化的問題」、「自由貿易（含WTO）」、「經濟發展要素」、「GDP的計算與缺失」、「外部性」（如外部成本或外部效益的基本定義、外部性問題的解決等）、「公共財（共享性、無法排他性，或政府提供公共財的好處）」、「市場失靈」、「政府失靈」等。

歷史

蘭陽女中 ◀ 汪栢年 老師



一 試題分布

106學測試題的配置（見表一）延續105學測的做法，將部分題目與地理科試題合組成跨學科的題組題。就試題分布而言，前三冊皆在平均值6題之上，唯獨第四冊僅有4題，比例稍微偏低（見表二）。若以學期分布來看，高一兩學期所學的臺灣史與中國史，總命題數為 $13\frac{1}{3}$ 題（見表二註），占55%，高二兩學期所學的中國近現代史與西洋史，總命題數為 $10\frac{2}{3}$ 題，占45%（見圖一），高一、高二學習內容約各占一半，分布仍算平均。

表一 106學測歷史科的試題分布

題目	冊次	主題	題型	性質
25	第三冊	近代世界的轉變：宗教改革	歷史理解	宗教
26	第二冊	秦漢至隋唐：政治與財稅制度的變革	歷史解釋	政治
27	第一冊	中華民國時期：當代臺灣——國際關係與兩岸關係的演變	時序觀念	軍事
28	第三冊	中華民國的建立與發展：北伐以前的中外關係	歷史解釋	政治
29	第二冊	秦漢至隋唐：政治與財稅制度的變革	歷史理解	經濟



30	第四冊	世界霸權的爭奪與衝突：帝國主義國家的競逐	歷史解釋	軍事
31	第二冊	先秦時代：春秋戰國時期	歷史理解	政治
32	第二冊	宋、元、明與盛清：皇權的擴張	歷史理解	政治
33	第三冊	文明的興起與交會：基督教的發展與傳播	史料分析	宗教
34	第一冊	日本統治時期：具有殖民性質的經濟發展	歷史理解	經濟
35	第二冊 第三冊	晚清之變局：自強、變法與立憲 中華民國的建立與發展：北伐以前的中外關係 當代中國與臺海兩岸關係：文化大革命	時序觀念	社會
36	第二冊	秦漢至隋唐：從魏晉到隋唐的政局演變	史料分析	軍事
37	第二冊	宋、元、明與盛清：工商業興盛與貨幣經濟的發展	史料分析	經濟
38	第三冊	近代世界的轉變：文藝復興	歷史理解	文化
39	第二冊	晚清之變局：帝國的衰微與西力衝擊	史料分析	社會
40	第一冊	清朝統治時期：外力的衝擊與清朝的因應	歷史理解	軍事
41	第一冊	中華民國時期：當代臺灣——經濟發展與挑戰	歷史解釋	經濟
42	第三冊	文明的興起與交會：歐亞文明的發展與交會	史料分析	軍事
43	第一冊	中華民國時期：當代臺灣——經濟發展與挑戰	史料分析	經濟
44	第一冊	清朝統治時期：外力的衝擊與清朝的因應	歷史理解	政治
65	第四冊	歐美國家的變革：美國獨立革命及其建國與發展	歷史理解	政治
68	第四冊	從對立到多元世界：人類社會的新貌與挑戰	史料分析	社會
70	第三冊	近代世界的轉變：鄂圖曼帝國與蒙兀兒帝國	史料分析	政治
72	第四冊	世界霸權的爭奪與衝突：新帝國主義的形成	史料分析	政治

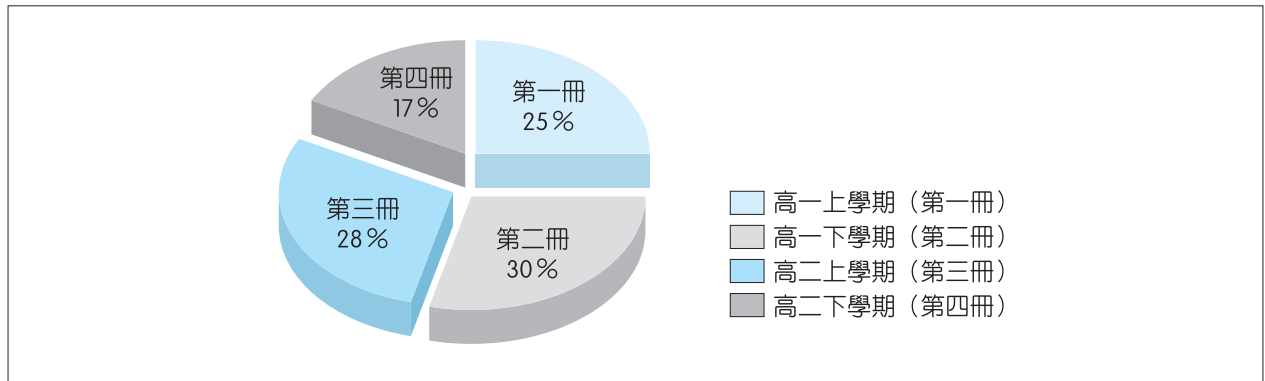
註：第 35 題題幹包含第二冊「晚清之變局」及第三冊「中華民國的建立與發展」、「當代中國與臺海兩岸關係」三部分，故此題統計時依比例計算： $\frac{1}{3}$ 題的第二冊與 $\frac{2}{3}$ 題的第三冊。

表二 106 學測歷史科的冊別分析

冊別	題目	題數	比例
第一冊	27、34、40、41、43、44	6	25 %
第二冊	26、29、31、32、35 ($\frac{1}{3}$ 題)、36、37、39	$7\frac{1}{3}$	30 %

第三冊	25、28、33、35 ($\frac{2}{3}$ 題)、38、42、70	$6\frac{2}{3}$	28 %
第四冊	30、65、68、72	4	17 %

圖一 106 學測歷史科各冊題數分布



就各冊比重分析而言，除了第一冊的「早期臺灣」沒有命題，以及第三冊的「當代中國與臺海兩岸關係」僅占 $\frac{1}{3}$ 題的比重以外，其他各冊單元皆有出題（見表三～表六）。

其中命題數較多的單元為第一冊的「中華民國時期：當代臺灣」（3 題）、第二冊的「秦漢至隋唐」（3 題）、第三冊的「近代世界的轉變」（3 題）。命題較少的單元為第一冊的「日本統治時期」、第二冊的「先秦時代」及「晚清之變局」、第四冊的「歐美國家的變革」及「從對立到多元世界」，皆只有命題約 1 題。

表三 第一冊單元比重分析

單元	題目	題數	比例
早期臺灣	無	0	0
清朝統治時期	40、44	2	33 %
日本統治時期	34	1	17 %
中華民國時期：當代臺灣	27、41、43	3	50 %

表四 第二冊單元比重分析

單元	題目	題數	比例
先秦時代	31	1	14 %
秦漢至隋唐	26、29、36	3	41 %
宋、元、明與盛清	32、37	2	27 %
晚清之變局	35 ($\frac{1}{3}$ 題)、39	$1\frac{1}{3}$	18 %



表五 第三冊單元比重分析

單元	題目	題數	比例
中華民國的建立與發展	28、35 ($\frac{1}{3}$ 題)	$1\frac{1}{3}$	20 %
當代中國與臺海兩岸關係	35 ($\frac{1}{3}$ 題)	$\frac{1}{3}$	5 %
文明的興起與交會	33、42	2	30 %
近代世界的轉變	25、38、70	3	45 %

表六 第四冊單元比重分析

單元	題目	題數	比例
歐美國家的變革	65	1	25 %
世界霸權的爭奪與衝突	30、72	2	50 %
從對立到多元世界	68	1	25 %

若就臺灣史、中國史、世界史的題數分布而言，則為 6 題：9 題：9 題。實際上，臺灣史、中國史、世界史的上課時數比例為 1：1.5：1.5，試題分布與學生上課時數相符，可見此次學測命題在試題分布上，除各冊稍有不均外，總體而言，將臺灣史、中國史、世界史的命題數合理分布，可說是 106 學測的一大特色。



二 試題內容及題型分析

就題幹內容而言，106 學測可分成政治、軍事、經濟、宗教、社會、文化等六大類，由表七可以看出，分量最多的是題數為 8 題的政治史題目，占總題數的 33 %。

表七 題幹內容性質分析

性質	題目	題數	比例
政治	26、28、31、32、44、65、70、72	8	33 %
軍事	27、30、36、40、42	5	21 %
經濟	29、34、37、41、43	5	21 %
宗教	25、33	2	8 %
社會	35、39、68	3	13 %
文化	38	1	4 %

將六大類試題區分成內容較偏記憶的「政治、軍事」類，及內容較偏思考或理解的「社會、經濟、文化、宗教」類等兩大類型的話，會發現：較偏重記憶的政治史、軍事史等題型的題目共有 13 題，占總題數的 54 %；較偏思考或理解的社會史、經濟史、文化史、宗教史亦有 11 題，占總題數的 46 %（見表八）。由上可知，106 學測的內容中，偏重記憶的試題比偏重思考或理解的試題僅多出兩題，約略呈現平均分布的狀態，這是 106 學測的另一特色。

表八 題幹性質分類

分類	題型	題數	比例
偏重記憶	政治史（8 題）、軍事史（5 題）	13	54 %
偏重思考或理解	經濟史（5 題）、宗教史（2 題）、社會史（3 題）、文化史（1 題）	11	46 %

依歷史核心能力將 106 學測歷史科試題分成「歷史理解」、「歷史解釋」、「史料分析」、「時序觀念」等四類型，可以發現今年的特色是「歷史理解」與「史料分析」兩類題型占多數。若與 105 學測相比（見表十），可以發現 106 學測的「史料分析」題大幅增加了 5 題；「歷史解釋」題也增加了 3 題。前述兩者共占 13 題，比去年增加了 8 題，這也是 106 學測被評為「中間偏難」的關鍵之一。

一般而言，「歷史理解」題算是「基礎題」，考生憑著一般的歷史知識就能夠回答出來，但是，「歷史解釋」題則需要進一步地思考，必須結合及運用之前學過的歷史知識方可順利找出正確答案。「史料分析」題則需要結合歷史閱讀素養，具有一定的文字理解能力方可順利作答。「時序觀念」題則要找出史事發生的歷史背景，方可找出對應的答案。

表九 106 學測歷史試題題型分析

題型	題目	題數	比例
歷史理解	25、29、31、32、34、38、40、44、65	9	38 %
歷史解釋	26、28、30、41	4	16 %
史料分析	33、36、37、39、42、43、68、70、72	9	38 %
時序觀念	27、35	2	8 %

表十 105 學測歷史試題題型分析

題型	題目	題數	比例
歷史理解	26、28、29、30、32、33、34、39、40、41、42、43、44、65、67、69、71	17	71 %
歷史解釋	38	1	4 %
史料分析	25、27、31、37	4	17 %
時序觀念	35、36	2	8 %



難在哪裡呢？

今年的學測歷史考題被評為「中間偏難」，打破以往「中間偏易」的學測命題慣例，一般考生也說「找不出考題的重點」或「看不懂考題」，這究竟是怎麼一回事呢？筆者認為今年學測試題對考生而言，都有不易找出答案的「難處」（見表十一）。

表十一 106 學測歷史試題的「難處」

題號	試題難處	難易度
25	大多數學生不知道備選項目中的「尼德蘭改革教會」	中
26	文本閱讀題，需了解史料背後隱喻	中
27	被「隨時準備升空，迎擊入侵的敵機」誤導，以為是第二次世界大戰期間	難
28	誤以為資料內容敘述的是已建國的國家	中
29	被「沿運河北上」誤導，而以為該港口位於中國南方	難
30	被「俄如同七國時期之秦，而英則像是齊」誤導，以為資料敘述的是第一次世界大戰期間，歐洲各國紛紛陷入戰局的景象	難
31	部分學生缺乏春秋時期「周天子因財政困難，必須派遣大臣向諸侯要求金援」的概念，誤以為是戰國時期	易
32	受到「文學侍從」誤導，以為該官職是「博士官」，或受到「不具實權之官職」誤導，認為此官職是「軍機大臣」	中
33	受到「自由表達想法，不受干擾地自由集會」誤導，以為是《大憲章》或〈世界人權宣言〉	中
34	受「農民赤貧如洗、會社中的勞動者」誤導，以為是「司法的迫害」或「族群的矛盾」	中
35	無法判知資料丙是「中體西用」，故不知資料丙是出現於晚清時期，以致無法對三段資料進行排序	中
36	對各朝代的兵力配置不熟悉，故無法根據圖中訊息找出答案	難
37	不熟悉傳統農村社會的農、工、商比例，故不能理解該地居民職業結構所展現出的歷史意義	難
38	受「文學、音樂、藝術」誤導，以為是古希臘的七藝，或受「當時社會重視禮儀規範」誤導，以為是啟蒙運動時期	難

39	對選項中的書籍感到陌生，無法根據書名找出與題幹內容相符的答案（例如《自西徂東》是清末德國傳教士花之安所撰，該書直譯應為《文明，中國與基督教》，是介紹西方文化的書籍）	難
40	受「遇害難民」、「中國定給撫卹銀兩」誤導，以為是義和團事件	中
41	學生缺乏「獎勵儲蓄」與「抑制通貨膨脹」的相關概念	難
42	學生缺乏埃及、比薩與十字軍之間的相關歷史知識	難
43	從表格中佃農數量的減少，會誤以為佃農放棄農業	中
44	學生缺乏臺灣近代化的相關背景知識	中
65	學生缺乏英國北美洲殖民地的相關知識	易
68	學生缺乏各國國內穆斯林人口比例的相關知識	難
70	學生缺乏鄂圖曼土耳其帝國疆域的背景知識	難
72	學生缺乏新帝國主義國家殖民經濟的相關知識	中

根據以上分析，可知 106 年學測歷史試題的特點如下：

1. 各冊考題分布尚稱平均；臺灣史、中國史、世界史的命題數分布合理。
2. 記憶與思考類型的試題約略呈現平均分布狀態（13 題：11 題）。
3. 歷史解釋題與史料分析題共占 13 題，比去年增加了 8 題。
4. 試題的設計偏難（難題 11 題、中題 11 題、易題 2 題）。
5. 必須扣緊題幹中的關鍵字，再結合相關歷史背景知識，方可找出標準答案。

地理

名師  茵搖老師



前言

面對現今教育政策的變異，作為大學入學考試依據的學科能力測驗亦同樣適逢轉型之際，其中包括：時間點的延遲、學生學習歷程的完整、考科範圍的選取等，目的都希冀在未來大學入學管道當中，更能夠將專門人才「適其所長」的分配。而如此的過渡期間，作為入學門檻的標準，試題的設計更是一門相當具有挑戰性的學問。

地理學科身為一門生活學科，欲作為施測標準，自然須要求學生能夠真切地掌握對周遭環境的體驗。106 年學測地理科試題大致依照過往的基準，秉持著中間偏易的評量設計，將通論地理、區域地理等高一、二所學的課程綱要重點融合，修正前年度比例分配不均的現象。當中除了雜揉了以往資料表格的判讀、閱讀理解的篩選、新聞時事的入題外，



連續兩屆與歷史學科的整合式命題方法，似乎亦成為「名副其實」的「社會科」援引範例，無疑是為未來整合學科方式提供了新的方向。

底下有關於筆者針對此次的試題分析，主要的操作說明是先將此次試題的隸屬單元分類，分各小題對照課綱的單元分配，各冊比重的統計，最後以特色命題的部分加以檢視，最後也提出個人對於本次試題的理解想法，期盼也能給予一同努力的先進們一些參考依據。



試題特色

首先先行檢視本次試題，學測於社會科地理命題的部分與前一屆同樣始於第45題，其個別單元的隸屬與測驗重點，筆者自行分類歸納如下表：

題號	題型 / 試題特性	主要課綱概念 (測驗之重點觀念)	說明與備註
45.	單選 / 鄉土 / 區域地理	臺灣的區域特色及區域發展問題 (地名判讀)	
46.	單選 / 鄉土 / 區域地理	臺灣的區域特色及區域發展問題 (區域變遷)	
47.	單選 / 鄉土 / 資料歸納	臺灣的位置及環境特色 (資料判讀)	
48.	單選 / 圖表 / 通論地理	氣候與水文 (氣候分類、農業類型)	
49.	單選 / 圖表 / 通論地理	地圖 (地圖投影原理)	
50.	單選 / 時事 / 通論地理	地理資訊 (地理資訊的應用)	
51.	單選 / 情境 / 通論地理	高科技知識產業 (知識經濟)	
52.	單選 / 情境 / 通論地理	高科技知識產業 (跨國空間分工鏈、產品生命週期、區位移轉)	
53.	單選 / 圖表 / 通論地理	第一級產業 (市場指向農業)	
54.	單選 / 時事 / 區域地理	中國的產業 (中國的產業、都市、環境問題)	
55.	單選 / 照片 / 通論地理	自然景觀帶 (土壤、自然景觀帶)	
56.	單選 / 時事 / 區域地理	北美洲 (北美洲移民、北美洲工業)	
57.	單選 / 情境 / 區域地理	東南亞、非洲 (東南亞移民、華人、非洲文化)	
58.	單選 / 照片 / 區域地理	世界的劃分 (西亞—北非文化區、伊斯蘭教)	
59.	題組 / 圖表 / 通論地理	地形 (等高線地形圖的判讀)	
60.	題組 / 圖表 / 通論地理	地圖 (坡度的計算與量測)	
61.	題組 / 圖表 / 區域地理	澳洲與紐西蘭 (澳洲核心區的發展)	
62.	題組 / 圖表 / 區域地理	澳洲與紐西蘭 (澳洲的自然條件與農業活動)	
63.	題組 / 照片 / 區域地理	東南亞 (伊斯蘭教、東南亞文化)	

64.	題組 / 照片 / 區域地理	東南亞 (華人移民)	
65.	題組 / 情境 / 資料分析	(美國獨立宣言發布背景)	歷史題型
66.	題組 / 情境 / 區域地理	北美洲 (美國的農業帶)	
67.	題組 / 圖表 / 區域地理	世界的劃分 (HDI 指標判斷)	
68.	題組 / 圖表 / 區域地理	世界的劃分 (國家對照、資料判讀)	
69.	題組 / 圖表 / 區域地理	世界的劃分 (西亞—北非文化區)	
70.	題組 / 圖表 / 資料歸納	(歷史帝國統治的判斷)	歷史題型
71.	題組 / 圖表 / 區域地理	中南美洲 (高地氣候農業垂直分層經營)	
72.	題組 / 圖表 / 資料歸納	熱帶栽培業於中南美洲發展的歷史背景	歷史題型

根據上表的整理，我們可以理解：就整體題目設計的面向來看，106 學年度的題型自 45 題之後可以區分單選題與題組題各半（各自為 14 題），比例相當；而鄉土、圖表、照片、情境、時事題的設計散布也大致平均，入題材料廣泛且豐富，相較於去年有較為回歸常態的形式；再者就單元對照課綱部分的分配，也大抵回復以往平均的立場，就這幾點的歸納，可以得知本次命題者的用心調整。

細看題目內容，臺灣本土意識題材仍是重要顯學，比重甚高。如：第 45（地名）、46（區域發展）、47（史料判讀）、50（時事）、51（產業知識經濟）、59.60（地形圖判讀）題，都直接或間接援引臺灣相關的題幹來設計問答選項。而其他此次考題較為受到重視的部分，則偏向「文化主題」概念的面向，包括：宗教、建築、地方生活方式等。這樣的題目大多以題組的設計呈現居多。如：單選題第 57（東南亞文化外傳至非洲馬達加斯加）、58（清真寺建築）題；題組第 63.64（東南亞多元文化：伊斯蘭、華人文化）、69.70（國際組織主題地圖位置判讀）、71.72（安地斯山北部熱帶高地農業的垂直分層）題等。再者是圖表閱讀理解判讀，如：第 48（溫帶地中海型氣候與農業類型）、53（商業性農業形式判斷）、67.68（HDI 指標歸納理解與國家特色對照）題等欲測驗學生的分析能力。最後是課綱對照教材的基本概念題，如：第 49（地圖投影性質判斷）、61.62（澳洲農業區與人口分布、災害對照）題；再加上時事相關題材，如：第 50（空氣品質指數指標）、54（APEC 和 G20 會議召開與中國霧霾濃度對照）、56（美國川普勝選與美國工業區老化區對照）題等，讓此次的題目內容豐富度可以說是更加深加廣。

值得一提的是，除了臺灣本土的重點強調外，中國題目僅只圍繞在一題組的面向；面對新政府的「南向政策」，東南亞地區引入題的想法也成為百家之興。

如果再以各冊比重對照，筆者將上述 28 題的概念依照題目的單元偏屬部分接合高一、二的題材，歸納如下：

冊別	題目題號
高一上（通論地理自然部分）	48. 49. 50. 55. 59. 60.
高一下（通論地理人文部分）	51. 52. 53.
高二上（區域地理世界部分）	56. 58. 61. 62. 63. 64. 66. 67. 68. 69.
高二下（區域地理世界、臺灣、中國大陸）	45. 46. 47. 54. 57. 71.

※ 其中第 65. 70. 72 題為歷史學科的題目，故上表不整理入列



結果得知：各冊比重分配大致上延續以往，通論地理的部分題目占了 9 題之多；區域地理的部分題目約莫 16 題左右，並沒有超出學測施測教材的題外部分內容，唯近兩年來的「區域地理」的比重似乎有逐步抬頭的趨勢。這彷彿也宣告：欲理解地理學科不僅僅只將高一「通論地理」的部分準備好就可以，有時在「應用」與「驗證」的立論上，也許更應該要叮嚀學生特別去注意與加強的，特別是「區域地理」所展現的特殊性。

最後筆者想談談有關於這近兩屆以來的特殊命題：歷史地理整合題型命題。筆者前次撰寫試題分析以為上屆命題出現突破之後，因為爭議性過大，此次應該會比較趨於保守或撇除命題，但是今年卻在題目當中有所承襲而有些許意外。如：在題組題中的第 65.66 題（美國獨立前宣言的發布地概況理解）、第 69.70 題（國際組織的文化對照與判斷）、第 71.72 題（安地斯山北部地區農業的經營與發展背景）等，也重新再次把這兩個社會學科的考試概念項目加以整合於命題項目中。

筆者個人猜想近兩年會有這樣命題的想法，極有可能是大考中心的重點目標是想施測學生們對於諸多歷史上事件的發生始末與過程的完整理解外，更期盼能了解到學生是否可以進一步思索其造成的結果與其所衍生的影響。然後同步配合著學生對於空間尺度的解讀，以彌補單一歷史學科時間之學科或是單一地理學科之空間的學習關漏。

而就筆者教學經驗，檢視這兩年的大考試題，發現目前這樣史地整合命題的題目設計似乎多半圍繞於「地理大發現」之後的背景條件。如：105 年（上屆）的「洋流、新航路、殖民地式經濟」的多項入題與本次 106 年的「新大陸地區的發展、熱帶栽培業的背景」等題材，試題設計本身的難易度不高，也很容易透過歸納或推理的方式來作答，之所以成為顯學的原因，個人推測可能是想讓學生透過題目檢測是否都能知悉近代的世界形勢是如何形成的？是如何發展的？是如何延續的？藉以培養訓練二十一世紀全球化世代的世界觀與國際觀，或許之後會成為常態也說不定。

以上內容，是筆者對於此次試題的分析理解與解讀。



準備方向（結論）

大抵而言，此次的學測命題，並沒有什麼太大的爭議論點出現，除了修正前次實驗性的試題，調整降低了難易度，也大致上掌握了「中間偏易」的學科概念原則來命題，想必今年學生都能透過前階段高中學習歷程於此施測歷程當中獲得相對滿意的成就。

最後筆者就今年試題的命題趨向對照，於最後提出個人的幾個對於未來學測準備方向的建議。

首先還是題材生活化的注意叮嚀：面對著歷屆試題當中生活經驗項目屢次的出現，於此特別呼籲對於周遭環境的觀察還是要多加留意，如：臺灣的地名、環境、政策等；另外，包括：近學測時間點前後時事的涉獵與了解，如：本次的美國總統大選川普大勝、APEC 和 G20 會議召開與中國環境霧霾的關注等，都成為此次試題的亮點。而令人意外的是：英國脫歐始末的發展迄今，也許已臻進行式，但未來可能也許也會成為考題。

第二步是歷屆試題的練習：「鑑古知今」是歷史脈絡所強調的，這樣的實例於現實考題檢視上也不例外。例如：連續兩屆出現的史地整合式命題、對於臺灣與東南亞單元的屢次出現、世界經緯度坐標位置地區的發展特色、全球化下產業發展、市場指向農業類型……等，於準備時抓準機會練習歷屆試題，亦能或多或少掌握住部分大考當中的命題重點。

最後是相關史地學科整合的準備。筆者於前述針對試題分析的內容有說道：史地整合入題的目標與期盼達到的預期成果，也許是希冀培養全球化世代的國際觀與世界觀的建立，當然也想訓練學生具備批判思考的能力。因此，在學科準備上，建議依照統整式的教學概念培養與訓練，應當列為首要。例如：當歷史學在講授伊斯蘭教的文化與發展時，就該要提醒學生需特別留意影響範圍與引導思考造成的影響，而地理學在講述伊斯蘭教教徒的分布空間範圍時，也該交代清楚其歷史背景與始末，如此一來，在學習歷程的完整度才能具備更加全面性的思維。