

翰林

108學測

精彩解析



社會考科

- 公民與社會：名 師·陳金榜 老師
臺南一中·廖翠雲 老師
- 地 理：名 師·林 菲 老師
- 歷 史：名 師·鄭育青 老師
名 師·陳 蓉 老師

試題答案依據大考中心公布內容

發行人 / 陳炳亨
總召集 / 陳彥良
總編輯 / 汪崇愛
主 編 / 李心筠
校 對 / 高中社會領域編輯
美 編 / 林琬晴·柯渝玟
◎ 本書內容同步刊載於翰林官網

出 版 / 民國一〇八年二月
發行所 / 70248 臺南市新樂路 76 號
編輯部 / 70252 臺南市新忠路 8-1 號
電 話 / (06) 2619621 #312
E-mail / periodical@hanlin.com.tw
翰林官網 <http://www.hle.com.tw>



00847-04

翰 林 出 版

今年學測實施方式的兩項變革

1 首次採取自由選考制度

由於今年舉辦的學測不須五科全部報名應試，只須選考其中四科，因此並非所有考生都會選考社會科。據大考中心統計資料，今年學測報考人數總計有 13 萬 8,390 人，社會科則有 12 萬 4,227 人報考，大約將近九成的總報考人數。但有 2,965 人缺考，實際參與社會科試題應答的考生為 12 萬 1,262 人。

2 調整考試時間與考科節次

因應閱讀類題型增加，社會科考試時間自以往的 100 分鐘延長為 110 分鐘，在試題數量未增加的前提之下，考生理應有較為充裕時間仔細思索作答或反覆推敲題意，但因今年跨科題目偏難，文字量又增多，導致延長 10 分鐘作答時間的效果不彰。在考科節次部分，社會科考試從去年（107 年）第一日上午第一節調整回昔日安排的第一日下午最後一節，對歷年來的應試習慣沒有太大影響。

公民與社會

名 師 陳金榜 老師

一 前言

社會考科自從 107 學測試題出現多題的社會科跨科統合題後（亦即整合歷史、地理、公民與社會其中兩科以上在同一個大題的題組裡），今年整合題的題數又再往上增加，如題組題總計 17 組，與公民與社會相關的有 10 組，其中 8 組為跨科題組題；而題型比起去年又更為多樣，有幾題出現題幹與選項都是情境判斷的敘述。整體而言難度較去年提高，屬中間偏難的程度，基礎題有之，中等程度占多數，太難或過細的題目則未見；但是有些整合題要懂得在三個科目間作轉換，考生必須具備基礎先備知識，否則題幹所提供的資訊略顯不足，進而影響答題的判斷時間會變長。

社會學題目從《勞動基準法》修法問題涉及勞工對於自身人權保障的參與、新聞自由與媒體識讀、文化與生活風格、社會運動、人民主權再到性別角色分工等，都是相當大的議題，沒有死背或瑣碎內容，皆為課程中重要概念，唯題幹的理解與選項的閱讀能力是答題正確與否的關鍵。政治學題目也不算難，近幾年，年年必出的投票制度、審議式民主與公民投票的思考等，都屬於進階思考題型；而政治學不同以往的是，今年有多題與國際政治組織相關的題目（《中美共同防禦條約》、聯合國、亞太經合會與東南亞國協等）。法律學單元過去較冷門的社會規範或習俗，今年延續出現，《民法》考婚生子女以及《民法》原則的變遷

(所有權社會化)、《刑法》則考罪刑法定主義、行政法則是要找出相同性質的法規命令，但特別的是第 2 題就考了律師與檢察官職權的判斷，嚴格來說也都是大方向題目，未見瑣碎或艱深的法律題型，往年常見的大法官釋憲今年則未考出。今年經濟學僅有 5 題，但同學若平常觀念沒有很清楚，則判讀應該會花一些時間，其中如第 6 題刻意以幾個國家互相改變貿易條件，來干擾考生如何判斷 WTO 的最惠國待遇原則；而「外部性」同樣是本次熱門考點，考外部效益及以課稅來解決外部成本等。

基本上，今年公民與社會科的題目側重「生活化」、「閱讀與思考」及「素養能力」方向命題，沒有背誦式題型。綜觀近二年的公民與社會科學測試題朝向素養導向與跨科整合應已是未來必走的道路，因此，建議來年考生務必從課綱的內容與 106 年以後的學測歷屆題型做為應考與模擬練習的準備方向。

108 學測中，公民與社會科在整個社會科考題中占 24 題，各冊題目分布及其考點概念分析如下：

題號	1. (第一冊)	2. (第三冊)	3. (第三冊)	4. (第三冊)	5. (第三冊)	6. (第四冊)	
考點概念	勞動人權	司法人員	習俗	民法親屬	刑法罪刑法定主義	WTO 最惠國待遇(不歧視原則)	
題號	7. (第四冊)	8. (第四冊)	9. (第一冊)	10. (第一冊)	11. (第三冊)	12. (第三冊)	
考點概念	外部效益	課稅解決外部成本	文化與生活風格	文化意涵	社會規範	法規命令	
題號	13. (第一冊)	14. (第一冊)	39. (第二冊)	43. (第三冊)	55. (第四冊)	56. (第二冊)	
考點概念	新聞自由	媒體識讀	審議式民主	民法原則變遷	國際貿易的福祉	選舉制度	
題號	59. (第一冊)	62. (第二冊)	63. (第四冊)	66. (第二冊)	69. (第二冊)	72. (第一冊)	
考點概念	社會運動	聯合國功能	GDP 的內涵	人民主權	國家與人民的關係	性別角色分工	
各冊總計	第一冊共 7 題		第二冊共 5 題		第三冊共 7 題		第四冊共 5 題

二 第一冊社會學

- 1 單元分析：**整體而言，今年社會學考題仍占課程中相當大比例的基本題，要說具有新聞性的大概就是《勞基法》修法與勞工權益。命題上大致可歸為幾個方向：「人權議題」、「新聞自由與媒體識讀」、「性別角色」與「文化意涵」，這類題目在歷屆試題中常出現，但不同於以往的是今年考題較著重思考與判斷，題幹要思考理解，選項敘述也還要再思考才能正確判讀，此與過去傳統題型考基本定義不太一樣。加上跨科考題，考生必須具備更多的統整能力與思索才能判斷。

- 2 未來趨勢：**社會學單元在未來學測中仍應將重點集中在「性別平等」、「人權議題」、「志願結社」、「媒體識讀」、「社會運動（含公民不服從）」、「公共利益」、「全球化」及「多元文化」的相關議題上。社會學題目歷年常會搭配數據表格或圖畫題，而這在未來也仍會是趨勢，此類題目只要能正確判讀圖表中數字或線條的變化應可正確作答，考生務必多加留意。

三 第二冊政治學

- 1 單元分析：**整體而言，今年仍是觀念判斷題型，沒有背誦、制度內容或兩岸關係的演變年代或政策題型。一如預期的近幾年來相當熱門的選舉制度再度入題，但不同的是今年的投票制度不是直接考席次的計算，而是測驗學生從各政黨得票比例與當選席次間的落差，進行選項文字與數字間連結的判斷（要懂得為何得票率與席次不成比例背後的政治學意涵，而這也需要老師授課時連帶討論，考生才較有可能具備此知識運用能力）。今年政治學題目多了與國際組織相關的題目，如聯合國的功能、區域性的國際組織等，在素養導向強調「國際化、世界觀」之下，與世界脈動相關的試題出現機率提高。
- 2 未來趨勢：**臺灣每兩年都會遇到選舉（全國性與地方選舉），因此「地方（自治）制度」、選舉制度等仍要特別留意。此外，「國家的目的與統治的正當性」、「責任政治」、「政治中立（或行政中立）」、「政府體制」、「政黨體制」與「選舉制度」，及世界局勢，如美國總統川普採行的國際戰略或兩岸相關政策等仍是命題熱點，同學務必留意。其中選舉制度與政府體制或政黨體制宜留意易出現題組題，如以選舉結果搭配計算席次、該國的政府或政黨體制特色及運作等。

四 第三冊法律學

- 1 單元分析：**整體而言，法律學單元的命題完全聚焦在大主題上，《民法》基本原則的變遷（所有權社會化）、《民法·親屬編》、《刑法》罪刑法定主義，法律人員（律師與檢察官）的職權、法規命令。題型都不難，甚至出現習俗與社會規範這類基本題目，對考生而言應是鬆了一口氣。近幾年《憲法》、《民法》、《刑法》、《刑事訴訟法》與行政法平均出題的趨勢都不是法則，而是逐漸偏向基本的法學素養方向。
- 2 未來趨勢：**未來考生要留意的法律學重點主要還是「釋憲制度」、「憲法保障的基本人權與自由權的限制」、「正當行政程序」、「民法」與「刑法」的基本原則與內涵、刑事訴訟的基本概念（如對被告人權的保障、法官與檢察官的職權）以及「權利救濟」等。

五 第四冊經濟學

- 1 單元分析：**今年經濟學題目涵蓋國際貿易（一題考對社會福祉的判斷，另一題考 WTO 的最惠國待遇原則）、對 GDP 內涵的理解與外部性（一題考外部效益，另一題考外部成本的解決），而市場機能則一題未出。但經濟學今年題目看似簡單，卻需要花時間判讀，因為其不像過往的題目只要讀完試題就知道要如何解題，今年則要多花一些時間在選項上做判斷，甚至反覆閱讀才能懂得題意以利正確作答。也因整合題多，選文及題幹敘述長，又涉及不同領域間的內容，所以許多題目都要多一些時間消化才能下筆。而其中第 8 題以某國政府計畫對含糖飲料課徵「糖稅」，考外部成本解決的基本概念，其實與過去考香菸健康捐的題型類似，題幹本身不難，但關鍵在於選項中何者是以相同手法來解決外部成本，則是考生必須要能正確判讀方能作答。
- 2 未來趨勢：**經濟學未來要注意的重點包括：「機會成本與生產可能線」、「市場機能（供需法則或政府干預造成的損失）」、「經濟全球化的問題」、「自由貿易（含 WTO）」、「GDP 計算與缺失」、「外部性」（如外部成本或外部效益的基本定義、外部性問題的解決等）、「公共財（共享性、無排他的特性或政府提供公共財的好處等）」。而近期相關的時事，如美中貿易戰、英國脫歐、CPTPP 等，也需隨時留意最新發展。

歷史

名 師 ◀ 鄭育青 老師

一 歷史科命題設計及特色

1 題材出處配置

就歷史科領域的三大範疇而言，臺灣史有 6 題，中國史有 10 題，世界史則是 8 題，臺灣史題數適中，符合四分之一教材量，中國史題數就 1.5 冊教材而言占比略高，而同樣 1.5 冊教材的世界史試題量則略少（詳見表一）。

臺灣史試題素材偏向荷治與清治時期，缺少日治時期題目；但卻在第 9 ~ 11 題公民科題組的題幹資料上，以日治後期為時代背景設計了 3 題公民科試題，以過去時序概念設計非歷史科題目是一項新的嘗試，令人耳目一新。

中國史在上古時期僅一題漢代試題，缺乏先秦時代的題目，其他主要為唐、宋和清代主題，延續這幾年略古詳今的命題原則。

世界史的略古詳今傾向更明顯，亞、非上古文明和中古時期的題目完全付之闕如，而第三冊的世界史題目只有在「近代世界的轉變」範疇中看到 16 世紀英國宗教改革 1 題，其他 7 題則取材自第四冊教材。此舉應有極大的原因是為了配合地理與公民的合科命題，

因為 8 題世界史中就有 5 題是跨科的題組題（詳見表三）。

表一：歷史科題材出處配置表

範圍	題號	題數	占分比例	備註
臺灣史	16、24、40、41、54、68	6 題	25 %	—
中國史	17、18、19、22、23、25、45、 51、53、60	10 題	42 %	第 60 題涵蓋東南亞內容
世界史	15、20、21、42、46、57、65、 71	8 題	33 %	第 20 題涵蓋中國史內容
合計	—	共 24 題	100 %	—

2 難易度與鑑別度

今年在學科界線模糊的試題中雜揉了多重不同學科屬性的資訊，考生必須在充分理解題意後還原出試題中主要評量的核心概念，透過深思熟慮去梳理出關鍵字及其意涵，對其作答應變能力是一項挑戰，因此困難度略高。

歷史科試題中也因為融入了地理科和公民科觀念，需統整運用三科概念，對於熟讀固定歷史教材內容的考生來說，不見得占有解題優勢；而對於教材內容一知半解的考生而言，部分題目只能隨機臆測答案，因此試題鑑別度約中等。

3 題幹呈現

1. 文字特徵：用字淺白，文意清楚，沒有模擬兩可的題意或艱澀難懂的古文。至於第 22 題考到唐代詩人白居易的詩句和第 67 ~ 69 題組題的廟宇對聯，雖然需要輔以國文造詣以判讀題意，但不至於造成答題上的閱讀障礙。
2. 長文敘述：去年大考中心已經明確表示素養題型是未來學測命題的發展指標，因此今年許多試題的文字描述都較長，特別是跨科題組第 60 ~ 63 題所舉出的題幹資料。對於長文題目，考生必須藉由大量資料的閱讀，再回顧所學知識、擷取題幹關鍵字，才能統合推論出正確的選項。不論是題幹或是選項的字數量都有增加傾向，特別是選項設計已完全脫離以前單詞式的呈現方式。長文資料是學測命題時勢所趨，一方面是為了接軌未來課綱的素養導向精神，另一方面則是展現試題的靈活程度及其變化性。

4 圖表題較少

今年歷史科試題的圖表量不多（整份社會科試卷的圖表多集中於地理題），大致整理如下：

表二：歷史科圖表題統計分析表

圖表類別	題號	題數	性質	說明
統計表格題	16	1	單題	以各年分數字百分比變化進行推測
地圖題	65	1	跨科題組 (第 64、65、66 題)	以圖中革命運動發生地點，推測相關歷史事件
照片題	68	1	跨科題組 (第 67、68、69 題)	此題組雖以四張廟宇照片形塑題幹情境，但主要還是需從下方顯示的對聯文字而非照片中的建築形式做為判斷解題的關鍵
合計	—	共 3 題	—	—

5 題組題增量

歷史科題組題共 13 題，已超過一半的總題數，許多題目需要融會貫通分科知識，提升考生應試的整合思辨層次。以下是歷史科相關的題組題分析整理表格，包含臺灣史、中國史和世界史都被納入了題組式命題，占該領域題數量（6 題、10 題、8 題）的百分比分別為 2/3、2/5 及 5/8，臺灣史與世界史的題組數占比幾近相當，而中國史題組數占比較少。

表三：歷史科題組題統計分析表

題組題類別	題號	命題內容	題數
純歷史題	40、41	臺灣史	一題組共 2 題
歷史、公民合科題	42、43（公） 54、55（公）	世界史 臺灣史	二題組共 2 題
歷史、地理合科題	44（地）、45 46、47（地） 51、52（地）、53	中國史 世界史 中國史	三題組共 4 題
歷史、地理、公民合科題	56（公）、57、58（地）、59（公） 60、61（地）、62（公）、63（公） 64（地）、65、66（公） 67（地）、68、69（公） 70（地）、71、72（公）	世界史 中國史 世界史 臺灣史 世界史	五題組共 5 題
合計	臺灣史（4 題）、中國史（4 題）、世界史（5 題），共 13 題		

6 罕見題材：過去關於教育的主題不多，今年則出現在第 16 題和第 19 題，這兩題分別屬於臺灣史與中國史範疇。

7 時事題：往年歷史科時事題多著眼於國際現象，今年不少人考前預測的中美貿易爭端議題則出現在第 29 題的地理題，歷史科反而沒有直接置入試題概念中的中外時事題。

8 跨科考題

1. 「題組式」跨科題

近年來多以題組模式整合不同學科之間的相關知識概念，以下小題則屬分科試題，例如今年第 43 題以歷史科題幹「英國國王下令沒收教會財產」考公民科的「現代法律保障財產權」概念；第 52 題以歷史科題幹「皇帝下令……看好天色時節行走」考地理科的氣候環境概念。雖然跨學科題組的各個子題之間不一定具有直接關聯性或作答延伸性，但此種合科的設計編排已經是學測考試的主要趨勢。

今年的題型高度結合歷史和地理、公民三科之間的關聯性，分科界線非常模糊，幾乎是以打破科際分界為目標而將許多資訊素材重組成嶄新的統合架構，新題型的內涵除了囊括三大社會學科的知識性質外，亦開發了各學科之間徹底交流的題型範本。考生在應答時必須儘可能地將綜合的思維邏輯代入跨科題型當中合併思考，因此在解題上有其難度。

2. 「單題式」跨科題

今年的命題模式較往年更優化了整合領域試題，除了跨科題組形式仍出現外，在單題中也表現了愈來愈難區分素材所屬學科的命題特徵，如第 26 題「臺灣鄉鎮市區級地名的變遷與解嚴後政府社會對多元族群及其文化的尊重態度」，既屬地理知識也包含解嚴後的歷史時序概念（地理題）；第 66 題「革命浪潮產生民選元首且擴大成年男子的選舉權」，單就歷史科知識背景可以作答，但選項設計則是以公民科知識概念做為考量依據（公民題）；第 71 題「農業和市區景觀具有濃厚歐洲色彩」，在地理科題幹下又巧妙引導出了歐洲國家在非洲殖民的歷史經驗（歷史題）。

9 總結分析

招考與教學關係緊密，近年來大考中心嘗試自考試端開始改革，進而影響校內評量方式與教學創新方法，將過去以教師為主導的教學環境逐漸翻轉為以學生為主動學習的主角，從學生的生活經驗與現實問題為出發點，培養他們適應未來社會的能力、態度與視野。

在素養題型逐漸增加的趨勢下，今年歷史科的命題模式多以結合跨科所學知識為主軸，再循跡設計出靈活變化的題型，但相對也較以往提高難度，解題須細心閱讀文本且充分交叉活用各科概念。此外，今年題幹敘述較長，文字量較多，除了需要認知時序觀念、理解歷史、運用邏輯推理分析史料，以達到解釋歷史概念的能力之外，考生還必須耐心閱讀長文並揀選重要的關鍵字彙以作答，如此寬廣的題型對考生在應試上極具挑戰性。

二 如何面對未來學測趨勢

今年歷史科試題靈活變化且文字量提高，著重於與公民科和地理科的相互融通，不僅延續了近年來學測命題強調的跨科統整性，而且確定了學測題型的設計趨勢已漸導向未來以核心素養為主的課綱精神。單純記憶片段性歷史知識或刻意區別瑣碎年分的試題已經式

微，整合重要的學科概念以及跨科領域的試題則漸趨主流。如第 17 題，考董仲舒的天人相應學說，此類讀完題幹幾乎不需思考便能直接作答的單一知識點考古題反而是極少數，多數試題傾向需要經歷慎思熟慮的推論過程。

關於未來學測趨勢大致可以關注以下幾個層面：

1 盡量「大量閱讀」

歷史科性質本來即為橫跨古今中外且涵蓋政治軍事、社會經濟和文化思想等各領域的全面性學科，傳統傾向以授課教材內可見的知識概念為學習元素的方式已無法應付未來學測的多元評量走向。因此透過大量閱讀課外讀物，可以補充有限教材內無法充分提供的歷史資訊。

2 著重「深度思考」

在教材內容有限的前提下，學生透過上述廣泛閱讀以補充課外知識，有助其對教材深度理解與掌握重要觀念。同時藉由不同來源的資訊組合，增加史料分析能力的鍛鍊與史學方法的運用，進而刺激問題意識的形成，培養獨立批判思考的態度，在面對未來多重變化的學測題型時能更加游刃有餘。

3 關注「本土特色」

今年臺灣史題目共有 6 題，其中題組題第 68 題是以四張臺灣地區廟宇照片及其門柱對聯提供解題關鍵，這延續了去年（107 年）學測中同樣的考題概念——祭祀文化與漢人移民來臺祖籍分布，以及題組照片式的命題。在歷史科題組題統計資料中，也可以看出共有 4 題取材自臺灣史，可見本土歷史文化在跨科題型中占有一定分量。學生在學習上，適當地關懷本土文化並加強對其特性的了解，是有其必要性的。

4 統整「跨科概念」

近幾年來的歷史科學測試題，具有相當積極程度的嘗試性和創新精神，今年亦不例外。許多試題不但跳脫了傳統單一科目思維邏輯的侷限，也同時提升了歷史、地理以及公民科之間的統整層級，朝向綜合理解知識概念與統合思辨的答題模式。此外，如前所述，有些單題不需透過題組形式就已經同時結合了跨科概念，如第 26、71 題同時涵蓋歷史與地理科素材；第 63、66 題同時涵蓋歷史和公民科素材，由此可知綜合統整題型的多變性，未來學生在學習社會科時，也應多多思索歷、地、公三科的關聯性。

三 結 語

今年在跨科題型明顯占有一定分數比重的趨勢主導下，未來在學習上須明瞭各科之間的因果關係與聯通性，才能累積足夠的應變能力以適應未來學測考題。而透過學測評量則有助於分析探究學生的學習成就表現，並檢驗在學生理解重要知識點之後可能產生的認知誤區，做為審視測驗評量與教材編寫之間是否具妥適性的參考指標。

地 理

名 師 林 菲老師

一 前 言

當 108 課綱如火如荼地展開，當大家集中火力準備「素養導向」的試題，也當大家相信這次學測會出現大量素養題時，結果終於揭曉了。比起過去數年，今年學測地理部分的題目難度有顯著提高，是屬於中等偏難的題目；在題型方面，也是漸漸與 108 課綱的方向接軌，社會科中 3 科整合的題目大量出現，這不只出現在題組中，甚至解答單選題也需用到 2 科以上的觀念。

因應 108 課綱的素養導向試題，在素養導向命題的「情境化」、「整合運用能力」、「跨領域或跨學科」3 個重要方向，雖然地理科的本質上都是早已具備；而且從以往的地理科命題中可以發現，這 3 個素養命題方向都常在考題中出現，但是在今年的考題中，難度明顯提高，這是因為配合素養命題，除了跨科，還加入整合運用能力的測驗。

本文針對今年的學測社會考科地理科的部分，經由筆者的教學經驗和觀察，以素養命題為基礎分析考題的結構特性，並比較近 5 年的考題變化，提出個人看法以供地理教育崗位的先進參考。文後並試著評論未來出題的方向，做為未來因應的參考方向。為文或有疏漏，敬請不吝指教。

二 試題分析

1 試題結構

108 年學測社會科地理試題結構如下表一所示。

▼表一 試題結構

題號	難易度	命題單元	主要概念	題型	是否合科
26	中偏難	區域地理 16：臺灣的位置及環境特色	多元文化	引文情境	是
27	難	通論地理 4：地形	等高線地形圖	各類地圖	否
28	難	區域地理 10：中南美洲	多元文化合成特色	引文情境	否
29	易	通論地理 8：第二級產業	製造業區位要素	引文情境	否
30	難	通論地理 3：地理資訊；通論地理 4：地形	地理資訊系統、地形剖面	各類地圖	否
31	中偏難	區域地理 20：鄉土地理研究	研究方法	各類地圖	否
32	中偏難	通論地理 2：地圖	地圖量測	各類地圖	否

33	易	區域地理 16：臺灣之區域及環境特色	北部區域	各類地圖	否
34	易	區域地理 16：臺灣之區域及環境特色	北部區域	各類地圖	否
35	中偏難	通論地理 4：地形	視域	各類地圖	否
36	難	區域地理 12：中國的區域劃分； 區域地理 15：中國的環境	地理區特色	各類地圖、統計圖表	否
37	難	區域地理 12：中國的區域劃分； 區域地理 15：中國的環境	地理區特色	各類地圖、統計圖表	否
38	中偏難	通論地理 6：自然景觀帶	自然景觀帶特色	引文情境	是
44	易	區域地理 15：中國的環境	地理區特色	引文情境	是
47	易	區域地理 1：世界的劃分	結盟的分區	引文情境	否
48	難	通論地理 5：氣候與水文；通論地理 7：第一級產業	氣候類型、農業變遷	統計圖表	否
49	難	通論地理 5：氣候與水文；區域地理 3：歐洲	歐洲氣候	統計圖表	是
50	難	通論地理 5：氣候與水文；區域地理 10：中南美洲	中南美洲自然環境	統計圖表	是
52	中偏難	區域地理 12：中國的區域劃分	區域特色	引文情境	是
58	中偏易	通論地理 5：氣候與水文	氣候類型	引文情境	是
61	中偏易	通論地理 8：第二級產業	區位移轉	引文情境	是
64	易	區域地理 3：歐洲	歐洲自然環境	各類地圖	是
67	易	區域地理 19：臺灣的區域特色及區域發展問題	區域特色	實景照片	是
70	易	區域地理 11：非洲	自然環境	引文情境	是

表一整理的題目有 24 題，與往年社會科的地理占比相似，約占 1/3。但是今年跨科整合的題目大幅增多，部分題目以歷史（第 67 題）的觀點亦可作答，而部分的題目則需具備 2 科以上的知識（第 26、44、49、50 題），才可選出答案，這已漸漸落實素養命題中的跨科整合。

另一個變化是學測社會試卷從原本 15 頁增加成 19 頁，表示題目的字數有增加。在有限的時間下，增加題目頁數代表需閱讀的題目字數增加，這對所有的考生將是一大挑戰。

2 試題類型

依筆者經驗，並參考〈翰林 107 年學測分析〉，將今年試題題型分類統計如表二。因各題命題可能具 2 種以上題型性質，本表的統計依題數平均分配於各題型；且題數依 4 捨 5 入，故總題數不為整數。

▼表二 試題題型統計

試題類型	各類地圖	實景照片	統計圖表	引文情境	總計
題數	9.5	1	3.5	10	24
比例	40 %	4 %	15 %	41 %	100 %

由表二可知圖表和照片題目還是占一半以上，因此圖表的判讀仍是地理學重要的素養能力。和過去幾年比較，今年未出現衛星影像的題目，但這並不表示衛星影像判讀不重要。配合空拍照片愈來愈普遍，衛星影像和航空照片在未來測驗中出現的機率仍相當高。

3 近 5 年學測地理科各冊單元統計

▼表三 近 5 年學科能力測驗社會科試卷地理科題目單元分布

(單位：%)

學年度	通論地理						區域地理				
	地理概說	地圖、地理資訊	自然地理	人文地理	地理實察	合計	世界地理	中國地理	臺灣地理	鄉土地理專題	合計
108	0	6.2	25	10.4	0	41.6	20.8	16.7	16.7	4.2	58.4
107	0	8	16	16	0	40	32	8	20	0	60
106	0	12.5	14.6	14.6	0	41.7	43.8	6.3	8.3	0	58.4
105	0	4.2	16.7	16.7	0	37.6	37.5	0	25	0	62.5
104	0	20.8	12.5	20.8	0	54.1	41.7	4.2	0	0	45.9

資料來源：104～107年——翰林 108 學測趨勢，108 年資料筆者統計

由表三可知，通論的人文部分比例稍降，而區域地理中國的部分增加，主要是因為題組（第 36、37 題）出現，並在題組中跨歷史（第 44、52 題）的部分增加，使中國地理的題目比例增加。

三 試題架構方向討論

本次學測試題，符合素養導向的命題趨勢，較明顯的改變是跨科整合的題目增加。這次的題目，可以看得出命題者用心配合政策趨勢；但因為是方向的調適，難免有部分地方需要再深思。

- 1 素養導向並不一定要跨科整合，跨科整合也不是只有歷史地理。這次的跨科題目有許多著重在歷史地理，感覺有些地理學的題目設計太過勉強，未來的跨科命題方向應該更跨向公民科或自然學科發展。例如第 52 題，對康熙皇帝的話，筆者就覺得有過度解釋之處。也許以當時的航海技術和對海洋的認識，對來自草原的大清皇帝都是充滿未知，所以題目中皇帝講的那段話也許只是出於關愛的善意提醒，卻被我們過度解讀了。如果未來的大考方向都像這樣望文生義，地理學將被局限在歷史地理上，甚至流於文字訓詁，忘卻地理學的本義。當然著重時間尺度的歷史對地理現象的形成有一定的重要性，但所謂「史地不分家」只是一個舊思維的包袱，是威權時代因應政策的產物。現代的地理學應該是更宏觀，以空間為主軸，貫穿時間和其它學科的博物學，開創更多的可能性，而不要畫地自限。
- 2 高中課程學習應注重全面性的知識架構建立，而非像研究所針對單一主題深入探討其中些微的差異。就像氣候類型，應以較具代表性的溫度、雨量特色命題，而不應該用少數的特例來鑽牛角尖，這是在地理命題中已經建立的共識。若與歷史整合，應該注意不要流於太細部的文意資料解讀，否則又回到過去大量記憶背誦的年代，對地理觀念建立並無正面幫助。而且現在是一綱多本的開放教育，不再是單一部編版的年代，當時一切爭議都有教科書做為最後的參考標準。如果現在的題目爭議太大，那就很有得吵了。
- 3 學測不是地理競賽，所以命題應力求明確，測驗出正確觀念即可。像第 31 題考出「哪個假說最合理」，這在邏輯上好像太過主觀。既然是「假說」，就表示可以被檢驗，也就是可以被拒絕或被接受。如果題目沒有太離譜的答案，(A)～(D) 的答案似乎都可成立，只要事後再檢驗即可，而不是迎合出題者的主觀認知。此一標準答案在經過科學檢驗後，也可能被拒絕。地理是一門科學，需講求客觀的證據和合理的邏輯，不是全憑出題者的好惡來決定答案。如果這個基本價值不建立，地理學也可以任人解讀，沒有共識，那就失去了科學的精神。
- 4 本次學測正如趨勢分析所言，跨學科的題目大量增加，而且時事題並未大量出現。即使是第 29 題美中貿易問題和第 61 題的南向柬埔寨投資問題，也都只是簡單的第二級產業觀念。在時間的尺度上，反而回溯到歷史問題和地理的結合。另一個值得一提的是，今年社會科試題共 19 頁，比起過去 4 年每年都是 15 頁的題目，足足多了 4 頁，這也應驗了素養題目的引文情境，提升閱讀能力對應考將有相當正面的幫助。
- 5 基本能力的培養仍是學習的基礎，第 27 題和 35 題的谷系和稜線繪製，第 30 題的剖面圖，第 48～50 題和第 58 題的氣候圖判讀和氣候特性，都是自然地理概論的基本能力，也是這些題目的答題關鍵。

四 結 論

閱讀能力的培養、圖表的判讀、以地理知識協助解決生活問題，是地理教育中的素養重點。雖然新課綱尚未實施，但今年的試題已正式啟動，未來的地理科測驗恐要注意與史料的結合。經由這次的學測，提醒了我們未來教學不再是各教各的，而是需要在生活上做一定程度的整合。

由近年的學測社會考科命題趨勢可知，素養導向的命題將是未來考題方向，測驗著重的是考生能否真正認清問題、解決問題，而不再只是背誦課文。今年的試題已見跨科整合的努力，但方向仍待磨合，希望不要一直停留在像今年部分的考題，只是為勉強呼應歷史而設計。雖說地理科的考題原本就與日常生活結合，原本就具有相當的素養內容；但是在教育思潮的流行中，如何讓地理科真正融入生活，如何在教育中以地理的思維和地理的方法，協助解決日常生活的問題，應該是更重要的事。

公民 臺南一中 廖翠霽老師
歷史 名師 陳蓉老師
地理 名師 林菲老師

單選題（占144分）

說明：第1題至第72題皆計分。每題有4個選項，其中只有一個是正確或最適當的選項，請畫記在答案卡之「選擇題答案區」。各題答對者，得2分；答錯、未作答或畫記多於一個選項者，該題以零分計算。

1. 假定有許多勞工團體對於《勞動基準法》的部分修正條文不滿，認為其損害勞工權益，進而發起公投要求廢除新修訂的相關條文；有某勞工團體主張，新法涉及60多萬的外籍移工福祉，他們也應有參與公投的權利，不應被排除在外。該團體認為，任何《勞基法》的規定都是不分國籍直接衝擊所有的勞動者，雖然目前法律還不允許外籍人士參加公投，但可藉此項呼籲行動讓政府、社會大眾看見移工的意見，而且歐盟各國已有先例，允許非國籍人士擁有部分參政權。下列哪項說法最能詮釋上述勞工團體的主張？
- (A)各國應該不分國籍族群，讓人們享有相同的參政權以發展全球公民意識
(B)我國政府對重要國際人權公約內容已經進行國內法制化，應當積極落實
(C)公民投票具有直接民主和主權在民的實踐意義，全體住民皆有參與權利
(D)權益受到新政策制訂影響的人們，均應能夠享有參與制訂該政策的權利

答案 (D)

命題出處 公民與社會第一冊第三章：人與人權；第二冊第六章：人民的參政

測驗目標 理解勞動權與公民投票

詳解 在交通便捷與資訊發達的全球化分工下，國際移工成為常態，然而依法納稅的國際移工，卻無法享受該國的公民權，形成盡義務卻沒有權利的不均衡狀態，這也是目前各國積極討論的全球化議題之一。(A)由於參政權涉及各國國民與主權的相對應關係，因此目前各國仍傾向只有公民才有參政權。(B)題幹討論的是國內《勞基法》的修法，並無提及國際人權公約的國內法制化。(C)公民投票具有直接民主和主權在民的實踐意義，但是因為屬於參政權的內容，是否讓全體住民皆有參與權利，必須再衡量。

《公民投票法》相關條文	
第 1 條第 1 項	依據憲法主權在民之原則，為確保國民直接民權之行使，特制定本法。本法未規定者，適用其他法律之規定。
第 7 條	中華民國國民，除憲法另有規定外，年滿 18 歲，未受監護宣告者，有公民投票權。

難易度 易

2. 有學生正在觀賞司法院的宣導短劇。劇中角色甲說：「庭上，本次我方所以代表國家起訴被告，是因為被告違反了刑事法律。」劇中角色乙立刻表示反對意見：「抗議！並沒有明確的證據足以證明我的當事人有罪。」假定角色不更換，學生繼續觀看下去將有可能會看到下面哪一個場景？
- (A) 角色甲出現在行政法院中，負責審理行政法院之案件
 (B) 角色甲在普通法院擔任國家委託民事訴訟案件代理人
 (C) 角色乙接受法律扶助基金會委託，代理民事訴訟案件
 (D) 角色乙在偵查庭中，指揮警察調查被告有無犯下罪刑

答案 (C)

命題出處 公民與社會第三冊第七章：刑法與生活、第八章：紛爭解決機制

測驗目標 理解法律專業人員的角色與功能

詳解 甲代表國家起訴被告，表示此為刑事庭，而甲是檢察官；乙是刑事庭被告的辯護人，因此是律師。(A)檢察官甲只會出現在刑事庭，不會出現在行政法院，行政法庭法官負責審理行政法院之案件。(B)檢察官甲不會出現在民事庭。(C)律師乙，會接受法律扶助基金會委託，代理民事訴訟案件。(D)檢察官甲在偵查庭中，指揮警察調查被告有無犯下罪刑。

《刑事訴訟法》 第 228 條第 1 項	檢察官因告訴、告發、自首或其他情事知有犯罪嫌疑者，應即開始偵查。前項偵查，檢察官得限期命檢察事務官、第 230 條之司法警察官或第 231 條之司法警察調查犯罪情形及蒐集證據，並提出報告。必要時，得將相關卷證一併發交。
《刑事訴訟法》 第 264 條第 1 項	提起公訴，應由檢察官向管轄法院提出起訴書為之。
《法律扶助法》 第 13 條第 6 項	符合第 2 項第 2 款之情形，未申請法律扶助，審判長或檢察官得通知基金會指派扶助律師為其辯護或輔佐。

難易度 易

3. 我國《民法》對於子女姓氏應從父姓或母姓的規定，歷經數次修正，由原先「子女應從父姓」，改成可以由父母書面約定子女姓氏。但目前依據內政部調查顯示，絕大多數的子女仍以從父姓為主。下列哪一個論點最能用來說明此一現象？
- (A)法律未強制子女從父姓，係因社會習慣與法律具有一致性
 (B)因習慣法的效力優先於法律規定，故此現象合乎法律要求
 (C)社會大多數人重視家庭倫理，認為家庭是社會規範的基礎
 (D)社會傳統風俗習慣形塑了人們的行為，其影響比法律更強

答案 (D)

命題出處 公民與社會第三冊第一章：道德與社會規範、第三章：法律基本理念與架構

測驗目標 理解社會規範與法律的關聯性

詳解 (A)法律未強制子女從父姓，子女可選擇從父姓或從母姓，但是社會習慣是從父姓，在此點與法律並未具有一致性。(B)習慣法的效力低於法律規定，但法律規定可從父姓或母姓，因此從父姓者眾的現象合乎法律要求。(C)社會大多數人重視家庭倫理，認為家庭是社會規範的基礎，此論述無誤，但從母姓並未違反法律，也不會動搖社會規範，此說法與題意較無關。(D)社會傳統風俗習慣易形塑人們的行為，即使法律開放可選擇從父姓或母姓，因為在傳統習俗上子女從父姓，其影響比法律更強，因此從父姓者眾。

《民法》第 1059 條
第 1 項

父母於子女出生登記前，應以書面約定子女從父姓或母姓。未約定或約定不成者，於戶政事務所抽籤決定之。

難易度 中

4. 有關我國《民法》對結婚雙方的法定權利義務規定，下列敘述何者正確？
- (A)雙方同居時出生之小孩，結婚後自動視為婚生子女
 (B)依據法定夫妻財產制，夫妻全部財產皆為夫妻共有
 (C)婚姻期間出生之小孩為婚生子女，不可改變其身分
 (D)夫妻雙方取得對方遺產繼承權，離婚後也有繼承權

答案 (A)

命題出處 公民與社會第三冊第六章：民法與生活

測驗目標 理解《民法》中父母子女與配偶的法律制度

詳解 (A)依《民法》第 1064 條規定，生父與生母結婚後，原本非婚生子女將視為婚生子女，此為準正。(B)依據法定夫妻財產制，夫妻財產分為婚前與婚後，均各自管理。(C)婚姻期間出生之小孩為婚生子女，但若不能證明不是親生子女，得提起否認親子關係之訴，勝訴後可改變其身分。(D)夫妻雙方取得對方遺產繼承權，離婚後喪失配偶身分，即喪失繼承權。

《民法》相關法條	
第 1064 條	非婚生子女，其生父與生母結婚者，視為婚生子女。
第 1063 條	妻之受胎，係在婚姻關係存續中者，推定其所生子女為婚生子女。 前項推定，夫妻之一方或子女能證明子女非為婚生子女者，得提起否認之訴。 前項否認之訴，夫妻之一方自知悉該子女非為婚生子女，或子女自知悉其非為婚生子女之時起 2 年內為之。但子女於未成年時知悉者，仍得於成年後 2 年內為之。
第 1017 條	夫或妻之財產分為婚前財產與婚後財產，由夫妻各自所有。不能證明為婚前或婚後財產者，推定為婚後財產；不能證明為夫或妻所有之財產，推定為夫妻共有。 夫或妻婚前財產，於婚姻關係存續中所生之孳息，視為婚後財產。 夫妻以契約訂立夫妻財產制後，於婚姻關係存續中改用法定財產制者，其改用前之財產視為婚前財產。
第 1138 條	遺產繼承人，除配偶外，依左列順序定之：一、直系血親卑親屬。二、父母。三、兄弟姊妹。四、祖父母。

難易度 易

5. 在國外曾出現有宗教信仰徒因為違反宗教戒律，雖沒有違反明確法律規定，但仍被法院判處刑罰的案例。在我國，法院並不能因為信徒單純違反宗教戒律的行為而判其有罪，這是因為我國法院受到下列哪一項原則的拘束？
- (A)刑法謙抑 (B)罪刑法定 (C)程序正義 (D)宗教自由

答案 (B)

命題出處 公民與社會第三冊第七章：刑法與生活

測驗目標 理解罪刑法定主義

詳解 罪刑法定主義是《刑法》的基本原則，規定何種行為是犯罪，且應該處以何種刑罰。我國沒有規定宗教犯，因此不能對信徒單純違反宗教戒律的行為而判其有罪。(A)是指刑法是最後的手段，若以其他方式能加以嚇阻，就不要採用刑罰的嚴厲手段，也就是不要過度使用刑罰，只在不得已時，刑法才以最後的手段出現。(C)是指程序符合法律規範。(D)人民有信仰與不信仰宗教的權利，以及信奉何種宗教的權利。

難易度 易

6. 甲、乙、丙三國均加入世界貿易組織（WTO）之後，啟動的雙邊貿易協定如下：甲國先與乙國協商腳踏車關稅稅率為 4%，後與丙國重新協商腳踏車關稅稅率為 3%；於同一時間，乙國對丙國的腳踏車關稅降為 2%，丙國對乙國的腳踏車關稅調整為 5%。最後，甲國對於乙、丙兩國所訂定的腳踏車進口關稅稅率應為多少，方能符合 WTO 的關稅規範？

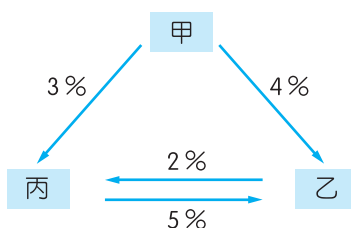
- (A) 2 %
- (B) 3 %
- (C) 4 %
- (D) 5 %

答案 (B)

命題出處 公民與社會第四冊第三章：全球化與地球村

測驗目標 理解 WTO 的最惠國待遇（不歧視原則）

詳解 甲乙丙三國之間的腳踏車關稅關係如下圖，基於最惠國待遇原則（不歧視原則），一國不該給予特定國家較差的待遇，也不該給任何國家特殊待遇。因此甲國對丙國的 3% 關稅承諾，將適用於甲國對乙國。



難易度 易

7. 表 1 為小華對於某市場外部效果分析的作業，其中左半部的供給、需求價量關係未考慮外部效果，右半部的供給、需求價量關係考慮外部效果。根據表 1 資料判斷，有關此市場的外部效果，以下敘述何者正確？

表 1

價格	需求量	供給量	價格	需求量	供給量
10	30	160	10	50	160
9	40	140	9	60	140
8	50	120	8	70	120
7	60	100	7	80	100
6	70	80	6	90	80
5	80	60	5	100	60

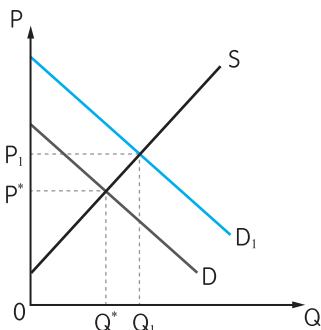
- (A) 存在此外部性時，市場均衡產量過高
 (B) 存在此外部性時，市場均衡價格過低
 (C) 在該市場中生產者成本低於社會成本
 (D) 政府可透過課稅將市場的外部性消除

答案 (B)

命題出處 公民與社會第四冊第五章：外部效果

測驗目標 理解外部性的意涵

詳解 表 1 左半部的供需畫成右圖呈現出需求線 D 、供給線 S 、市場均衡價格 P^* 、市場均衡數量 Q^* ；右半部的供需呈現出需求線 D_1 、供給線 S 、考量外部效益後的市場價格 P_1 、考量外部效益後的廠均衡數量 Q_1 。(A) 存在此外部性時，市場均衡產量 Q^* 小於考量外部性外的產量 Q_1 ，因此市場均衡產量太少。(B) 存在此外部性時，市場均衡價格 P^* 低於考量外部性外的價格 P_1 ，因此市場均衡價格 P^* 過低。(C) 由於供給線不動，因此生產者成本等於社會成本。(D) 政府可透過補貼外部效益的製造者，將 D 變成 D_1 ，將市場的外部性消除。



難易度 難

8. 因為含糖飲料有增加民眾罹患肥胖、糖尿病及蛀牙的可能性，某國政府計畫對含糖飲料課徵「糖稅」，稅率隨飲料中含糖量增加而提高。此政策的手段與以下哪一個租稅政策最類似？
- (A)對年收入愈高的人徵收愈高的所得稅
 (B)對持有兩年內的豪宅交易課徵交易稅
 (C)排氣量愈高的汽車課徵愈高的燃料稅
 (D)對於酒精濃度高的烈酒課徵較高關稅

答案 (C)

命題出處 公民與社會第四冊第五章：外部效果、第六章：公共財與租稅

測驗目標 理解外部成本內部化、累進稅率

詳解 含糖飲料有增加民眾罹患肥胖、糖尿病及蛀牙的可能性，會產生外部成本，因此政府計畫對含糖飲料課徵「糖稅」，這是外部成本內部化；糖稅稅率隨飲料中含糖量增加而提高，屬於累進稅率。(A)對年收入愈高的人徵收愈高的所得稅，並未考量外部性，僅考量累進稅率。(B)對持有兩年內的豪宅交易課徵交易稅，採 10 % 固定稅率；對豪宅課徵奢侈稅，屬於外部成本內部化，以遏止房價飆漲。(C)排氣量愈高的汽車課徵愈高的燃料稅，屬於外部成本內部化，採累進稅率。(D)對於酒精濃度高的烈酒課徵較高關稅，採累進稅率，但是國產酒也有烈酒，因此與題意較無法完全符合。

《特種貨物及勞務稅條例》第 7 條	特種貨物及勞務稅之稅率為 10 %。但第 2 條第 1 項第 1 款規定之特種貨物，持有期間在 1 年以內者，稅率為 15 %。
《特種貨物及勞務稅條例》第 2 條第 1 項	本條例規定之特種貨物，項目如下：一、房屋、土地：持有期間在二年以內之房屋及其坐落基地或依法得核發建造執照之都市土地及非都市土地之工業區土地。

難易度 中

9. ~ 11. 為題組

◎ 某小說背景為日治後期的臺灣南部山區，主角是受過較高教育、曾在都市生活的農場地主之子劉致平。他剛從都市回到農場工作時，覺得自己是以一個外鄉人和外行人的身分，跳進工人群中。他原本認為「和這一階層的人相處是無聊、枯燥而無益的。」但日子久了，他開始能用欣賞與理解的態度和工人相處。小說也描述農場的年輕男女工人常在山上一邊揮汗工作，一邊賣力對唱「山歌」同樂，歌詞隨性而機智，表達彼此間的愛慕或好感，劉致平認為「沒有什麼比山歌更能使你的情人感到魅力的了。」他後來和農場女工劉淑華相戀，卻發現二人的輩分與地位都不同，更觸犯當時「同姓不能結婚」的禁忌。有一天他領悟到：這山區的人都同屬劉氏宗親，成員間有種神聖的血緣紐帶不能逾越。他的生活世界是被組織嚴密的社會網絡牢牢籠罩著。最後他和劉淑華二人被迫遠走他鄉，去尋找屬於他們自己的新生活。請問：

9. 若從自我與生活風格的關聯來看，下列何者最能詮釋劉致平與山區工人相處後的改變？

- (A)個人的文化品味較容易受到主流文化和生活風格的影響
- (B)封閉的農村社會組織，易造成自我和生活風格的侷限性
- (C)個人生命歷程對生活風格與身分意識的形成具有影響力
- (D)城鄉生活風格與教育程度差距，加深了彼此身分的區隔

答案 (C)

命題出處 公民與社會第一冊第七章：文化與位階

測驗目標 理解生活風格的轉變

詳解 劉致平與山區工人相處後，從原本認為「和這一階層的人相處是無聊、枯燥而無益的」，到能用欣賞與理解的態度和工人相處。顯示經過生命歷程的變遷，他的生活風格產生轉變，同時他也和身分地位不同的農場女工相戀，則是身分意識認同的轉變。(A)選文並未談到個人的文化品味較容易受到主流文化和生活風格的影響。(B)封閉的農村社會組織，的確易造成自我和生活風格的侷限性，但是劉致平卻擺脫侷限性。(D)城鄉生活風格與教育程度差距，早先有形成身分的區隔，但是相處後劉致平打破此限制。

生活風格	Life style，是個人的獨特生活形式，個人在成長過程中不斷內化而形成個人獨特的習性與生活風格。
身分區別	不同族群擁有不同文化認同，並且透過一些方式（語言、消費）來凝聚我群、區別人我。

難易度 易

10. 依據題文資訊，下列敘述何者最能說明「唱山歌」的文化意涵？

- (A) 青年男女藉唱歌表達對自主情愛關係的嚮往
- (B) 山歌風格標示出山區工人非主流的文化位階
- (C) 工人藉由唱山歌以形塑勞動階層的群體文化
- (D) 唱山歌是山區青年男女成年的社會通過儀式

答案 (A)

命題出處 公民與社會第一冊第二章：人己關係與分際、第七章：文化與位階

測驗目標 了解不同的文化意涵

詳解 題文提到，農場的年輕男女工人在山上一邊工作，一邊與愛慕對象對唱「山歌」，歌詞表達彼此間的愛慕或好感，主角劉致平認為「沒有什麼比山歌更能使你的情人感到魅力的了」，可見農場工人透過對唱山歌來追求愛情。(B)山歌是次文化，但是題文並無提到山歌風格所標示的文化位階。(C)工人藉由唱山歌以形塑工人間追求愛情的次文化。(D)唱山歌不是社會通過儀式，而是文化活動之一。

情愛關係	屬於馬斯洛提出「需求層次理論」的愛與歸屬感的需求，人們尋求被愛與歸屬的需求。
文化位階	對於各種社會團體或現象，給予高／低、進步／落後、優雅／粗俗的不同評價，以建立事物的位階。
通過儀式	各地會依其社會文化發展出獨特的儀式或慶典，用來為成員標誌人生每一階段的變化，使其預先做好心理準備。此儀式稱為通過儀式，可使個體認知自己即將進入人生的另一個階段，其中也伴隨著身分、權利、義務、責任的轉變

難易度 易

11. 如果從「社會規範」的角度出發，下列敘述何者最適合用來解釋劉致平的「領悟」及其被迫遠走他鄉的情節？

- (A) 階層界線太明確，妨礙地主與勞工之間發展出平等互惠的關係
- (B) 傳統社會中的財產繼承，使得子女無法依自己的興趣選擇職業
- (C) 血緣宗親力量若成為重大的人際壓力，將會限制個人自由發展
- (D) 家庭為整體幸福並傳遞文化價值觀，常要求子女犧牲個人利益

答案 (C)

命題出處 公民與社會第三冊第一章：道德與社會規範

測驗目標 了解傳統社會的價值觀

詳解 劉致平與農場女工劉淑華相戀，卻受限輩分、地位、同姓不婚的禁忌。他領悟山區都是劉氏宗親，不能逾越血緣限制且被宗親網絡籠罩，意味著他受到血緣宗親的壓力，希望他犧牲愛情成就宗親傳統，而不能與劉淑華結婚，因此符合(C)選項。(A)階層界線沒有太明確，因為劉致平是地主之子，也與農場工人一起上山工作。(B)並未提到傳統社會中的財產繼承，或是子女無法依自己的興趣選擇職業。(D)並未提到要求劉致平犧牲個人利益。

難易度 易

12~14 為題組

◎ 某財經專業雜誌，刊出下列新聞：

輕鬆減肥 生技藥廠營收突破可期

【本刊記者陳大平專訪】現代人因為工作忙碌，都以外食為主。衛福部發布我國成年人體重過重比例逐年增加，鼓勵民眾多運動維持適當體重。美鮮麗公司過去三年投入五千萬美金，專門為外食族研發成功一款健康纖維添加劑，實驗證明可有效抑制飲食過量，目前正在申請歐盟食品健康管理機構的販售許可。公司高層表示，一旦審查通過預計將增加公司盈餘三成。

〔投資定有風險，以上報導不代表本雜誌投資建議〕

新聞發布後，市場投資人對該公司股票加價購買的意願增高，股票價格因而上漲。該公司大股東某甲趁機將手上低價擁有的股票以高市價賣出而獲利。事後衛生機構發現所謂添加劑只是一般消化酵素，並非生技研發新成果，且歐盟也無該公司申請販售許可的紀錄。消息一出，股票價格大跌，導致當時以高價買進的投資人蒙受巨大損失。檢調單位因此展開調查是否有詐欺與操縱股價的犯罪行為。另一方面有受害人認為，要防止媒體刊登不正確或疏於查證的消息而導致閱聽人權益受損，政府應制定專法，對失職的媒體以及相關記者，課以刑事責任。請問：

12. 上述受害人主張立專法管制，與下列何種政府作為最類似？

- (A)規定停車場增設親子停車位 (B)免除投資人證券交易所得稅
(C)將運動中心授權給民間經營 (D)以保證價格將綠能發電購回

答案 (A)

命題出處 公民與社會第三冊第五章：行政法與生活

測驗目標 了解行政管制

詳解 選文提到「政府應制定專法，對失職的媒體以及相關記者，課以刑事責任」，這是主張政府以法律的強制力來加以管制。(A)規定停車場增設親子停車位，屬於行政管制。(B)免除投資人證券交易所得稅，是給

予人民免稅的福利。(C)將運動中心授權給民間經營，屬於委外化，也是給人民的福利。(D)以保證價格將綠能發電購回，是給人民福利。

難易度 中

13. 該立法主張如獲得通過，最可能侵害以下哪一種人民權益？

- (A)公司契約自由 (B)媒體新聞自由
(C)民眾媒體近用 (D)記者個人姓名

答案 (B)

命題出處 公民與社會第一冊第六章：媒體識讀

測驗目標 了解新聞自由

詳解 選文提到「要防止媒體刊登不正確或疏於查證的消息而導致閱聽人權益受損，政府應制定專法，對失職的媒體以及相關記者，課以刑事責任」，此主張涉及的是「干預媒體的新聞自由」與「受害民眾財產權」的兩難。媒體雖然應基於新聞專業倫理與新聞自律善盡查證責任、報導事實，若報導與事實有出入，會有其他民事責任。但倘若報導與事實不符便要負「刑事責任」，不僅有違比例原則，也突顯出法律干預新聞自由，記者將不再敢勇於報導。

新聞自由

透過憲法或法律，保障媒體的新聞採訪、報導與出版等權利，媒體得不受政府干預，獨立的蒐集、編輯、傳播資訊給社會大眾，進而形成公共意見監督政府，防止公權力壟斷資訊，並確保社會多元意見的充分表達。

難易度 易

14. 對於不了解企業經營實情，且資訊不對稱的廣大讀者而言，如何判斷上述報導可能不實且應予存疑？

- (A)標題過於聳動而且與內容無關聯 (B)引用政府資訊影響投資人的判斷
(C)文末出現「投資定有風險」警語 (D)報導所提到的利多消息來源不明

答案 (D)

命題出處 公民與社會第一冊第六章：媒體識讀

測驗目標 了解何謂媒體識讀

詳解 (D)報導所提到的利多消息來源是該公司高層，並未明講是哪位公司管理階層，顯然有規避與隱晦之意，構成利多消息來源不明，閱聽大眾應質疑其報導真實性。

難易度 中

15. 美國於 1954 年 9 月聯合英國、澳洲、法國、紐西蘭、巴基斯坦、泰國和菲律賓組成「東南亞公約組織」，其組織的目標與內容都與北大西洋公約組織類似，總部設於曼谷。美國原本希望我國也加入，但因各種原因而未果。美國補救的方式是：
- (A)另與我簽訂共同防禦條約 (B)支持我成為聯合國會員國
(C)要求各國遵守聯合國憲章 (D)支持我國加入東南亞國協

答案 (A)

命題出處 公民與社會第二冊第八章：臺海兩岸關係的演變
歷史第四冊第三篇：從對立到多元世界

測驗目標 了解臺美關係的發展
美國圍堵亞洲共產勢力擴張的情況

詳解 公民詳解：1954 年我國與美國簽訂《中美共同防禦條約》，以維護臺灣海峽的安全。(B)我國 1971 年才退出聯合國，因此 1954 年時，中華民國仍屬聯合國的一員。(C) 1971 年我國退出聯合國後，聯合國才通過 2758 號決議文，主張一個中國原則。(D)當時尚未有東南亞國協。

《中美共同防禦條約》

是我國與美國在 1954 年 12 月 3 日簽訂的國際條約。該條約以軍事為基礎，包含政治、經濟、社會等合作條約。1979 年 1 月 1 日，美國與中國建交後，《中美共同防禦條約》於 1980 年 1 月 1 日終止。隨後，美國國會通過《臺灣關係法》取代。

歷史詳解：1954 年成立的「東南亞公約組織」，其成立的目的是在於牽制共產勢力擴張，但此組織的八個成員國中，僅有泰國和菲律賓位於東南亞地區，我國起初雖然也想加入，但由於英國、法國、菲律賓、巴基斯坦反對我國加入，最終未能加入此組織。美國與我國後來於 1954 年 12 月簽訂共同防禦條約做為補救，故選(A)。(B)(C)我國在當時即有聯合國會員身分，且聯合國會員國本有遵守聯合國憲章的義務，無法視為美國補救的方式。(D) 1967 年東南亞國家協會才成立。

難易度 中

16. 表 2 為臺灣自民國 55 年到 60 年某項資料。這項資料最可能是：

表 2

年代（民國）	%
55 年	58.95
56 年	62.29
57 年	74.66
58 年	76.04
59 年	79.81
60 年	81.39

- (A) 農業生產占全國生產總值的比例 (B) 農村地區電力照明設備的普及率
(C) 美援麵粉成為國民主食的普及率 (D) 小學畢業生進入初（國）中的比例

答案 (D)

命題出處 歷史第一冊第四篇：中華民國時期：當代臺灣

測驗目標 九年國民教育實施的影響

詳解 民國 57 年（1968）開始實施九年義務教育，使得小學生不需經過升學考試就可以進入國民中學就讀。由附表可以看出自民國 57 年起，小學生升學的比例明顯提高。(A) 農業生產占全國生產總值的比例應為逐漸下降，而非提高。(B) 農村地區電力照明設備的普及率無法解釋為何於民國 57 年起明顯提升超過 10%。(C) 美援時期為民國 40～54 年（1951～1965），與附表資料所出現的年代不符。

難易度 中

17. 學者認為：國家失道，將敗之際，上天會先降下災害，以為警惕。如果人君無法領受天降災異的教訓，把政治導正，那麼天就有權力來奪取君王的權位。如果君王行為得當，五行運轉便正常。他因此主張：「天道」運行變化，主要是為了建立「人道」。這位學者最可能是：

- (A) 主張民貴君輕的孟子 (B) 主張天人感應的董仲舒
(C) 主張格物致知的朱熹 (D) 主張知行合一的王陽明

答案 (B)

命題出處 歷史第二冊第二篇：秦漢至隋唐

測驗目標 西漢董仲舒儒學思想的內容特色

詳解 西漢儒學受到陰陽家理論影響，最明顯一例即為董仲舒的「天人感應說」，將人事政治與天道運行結合。董仲舒認為君主是「天」的代表，受命於「天」，所以當天子行王道時，天下就會風調雨順，四季

分明；反之，則「天」會降下災害，用以警惕人君。其著作《春秋繁露》：「凡災異之本，盡生於國家之失」可謂說明之。故選(B)。

難易度 中

18. 1871年，西洋人在上海敷設了電報線；1877年，丁日昌在臺灣架設了電報設備，成為中國第一條自行架設的電報線。1879年，李鴻章也在天津與大沽及北塘之間架設電報設備。當時架設電報設備的主要動機是：

- (A) 西洋商社在中國投資，希望中國提供電信設備
- (B) 中國報業為求現代化，希望引進電報通信設施
- (C) 清朝官員認為電報設施有助於國防，因此架設
- (D) 朝廷認為電報為國家現代化象徵，故極力支持

答案 (C)

命題出處 歷史第二冊第四篇：晚清之變局

測驗目標 清末推動洋務運動的目的

詳解 題文所述之時間應為中國進行洋務運動（自強運動）期間，此時推動洋務運動的主要出發點是為了軍事國防需求，官員為了考量此建設有利於國防，因此才開始架設電報線，故以(C)最為合理。(A) 1871年西洋人在上海架設電報線，之後丁日昌、李鴻章也開始架設，故當時應非西洋商社在中國投資的結果。(B)此時中國報業並不發達，報業為求現代化而引進的說法可能性極低。(D)此時朝廷的態度並未有追求「國家現代化」的觀念，多數仍停留在「師夷長技以制夷」的態度。

難易度 中

19. 許多關切教育的地方人士指出：國家建設百廢待舉，傳統知識已不敷使用，需借重歐美先進國家的政治經驗、學術思想與科學技藝等專門知識，才能提升國家建設的效率。國家先前雖曾多次派選學生出洋念書，但人數不足。為便於學習歐美先進國家的專門知識，建設家鄉，我們也應廣派學子出國留學。呼籲主事者籌設「留學歐美預備學校」，招收學子，先在國內學習歐、美語文，以便將來出國學習。該文章反映哪種時代背景？

- (A) 簽訂《南京條約》後，政府需培養對外交涉人才
- (B) 民國初年，擴大學校教育，也培育各種專門人才
- (C) 八年抗戰期間，同盟國資金援助，學生可赴歐美
- (D) 韓戰爆發以後，美援開始，故派遣學生赴美學習

答案 (B)

命題出處 歷史第三冊中國史第一篇：中華民國的建立與發展

測驗目標 民國初年教育文化的發展

詳解 1912年春，時任河南省教育總會會長兼河南教育司長李時燦、河南提學使陳善同、省學務公所議員王敬芳、教育司長林柏襄等人上書當局，強調辦學之必要，倡議引進西學，並派人出洋留學，學習世界的各種知識。王敬芳發表〈籌辦留學歐美預備學校公啟〉，之後並成立「河南留學歐美預備學校」。而(A)所指「簽訂《南京條約》後，政府需培養對外交涉人才」，不符合題文中「國家先前雖曾多次派選學生出洋留學」所描述的情況。(C)(D)所描述的時間過晚，當時中國早已有許多人留學歐美。故選(B)。

難易度 難

20. 1862年，德川幕府派官員到上海考察，隨行一位藩士寫下《遊清五錄》，描述當時上海的情形：「歐羅巴諸邦商船軍艦數千艘停泊江上，桅檣林立，填滿津口；陸上則有諸邦商館，粉壁千尺，殆如城郭，其雄大壯偉，筆紙難以表述。」另一方面他也觀察到：「中國人到處被外國人牽制著。……與其說上海是中國人的土地，還不如說是英法兩國的殖民地。……雖然說我們是日本人，但對於這樣的局面也應該關心留意。因為這不僅是中國之事。」他指出中國受侵略的根源是國策失誤：「當權者只知守舊……沒有製造軍艦大砲在戰區裡抵禦敵人，才造成如此衰敗的結果。」這位日本人寫此書的目的最可能是：
- (A)日本已是先進國家，自認為是高級文化代表，故多批評
 (B)日本也相當落後，看到中國情況，希望能避免重蹈覆轍
 (C)日本自以為遠較中國富強，希望也能效法列強瓜分中國
 (D)日本自知無法抵抗列強，主張閉關自守，拒列強於境外

答案 (B)

命題出處 歷史第二冊第四篇：晚清之變局、第四冊第二篇：世界霸權的爭奪與衝突

測驗目標 日本明治維新前的局勢

詳解 1862年日本德川幕府派官員從長崎出發，隨行人士高杉晉作將此次上海之行寫在《遊清五錄》中，除了記錄當時上海的繁榮，也記錄了上海的混亂，這本書的觀察角度代表當時日本藩士們的中國觀。若以時間而論，1853年日本經歷「黑船事件」，面對隨之而來的不平等條約簽訂，日本知識分子以中國為戒，從中國先前的經歷檢討自身面臨的困境。(A)當時日本剛結束鎖國政策不久，尚未開展明治維新運動（1868年開始明治維新），並非先進國家。(C)日本當時並不富強，與中國同樣面臨西方列強的侵略。(D)由題文內容可知，這位藩士認為「中國到處被外國人牽制著」並且批評中國「當權者只知守舊……沒

有製造軍艦大砲在戰區裡抵禦敵人」，可知他認為當權者應該有所應變，才能免於被侵略。故選(B)。

難易度 中

21. 巴剎 (Bazar) 原為波斯文中的市場之意，多指有頂棚遮蓋的商業街道，在其中販售各種商品。現在，馬來西亞、印尼等東南亞地區及中國西北地區如新疆，也將市場稱為「巴剎」。學者研究，這是某種語言借用「巴剎」的名稱後，向各地推廣所致。這種語言應是：

- (A) 英語 (B) 印度語 (C) 阿拉伯語 (D) 西班牙語

答案 (C)

命題出處 歷史第三冊世界史第一篇：文明的興起與交會

測驗目標 阿拉伯商人對其所到之地的文化影響

詳解 題文所提及的馬來西亞、印尼及中國西北地區（如新疆），這些地區的共同點是充滿伊斯蘭文化色彩，這些地區都把市場稱為「巴剎」，應該是受到阿拉伯語用詞的影響。

難易度 易

22. 白居易的〈琵琶行〉長詩寫於唐憲宗元和十一年（816年），當時白居易貶官為江州司馬，居住在江西九江，對比長安與九江，有許多感想。下面詩句中，哪一句最足以說明白居易對兩地文化差異的看法？

- (A) 潯陽地僻無音樂 (B) 舉酒欲飲無管絃
(C) 商人重利輕別離 (D) 妝成每被秋娘妒

答案 (A)

命題出處 歷史第二冊第二篇：秦漢至隋唐

測驗目標 唐代地區的發展差異與文學作品的時代解讀

詳解 「潯陽」位於江西九江地區。〈琵琶行〉中一段「我從去年辭帝京，謫居臥病潯陽城。潯陽地僻無音樂，終歲不聞絲竹聲」，應該是感嘆自己從繁華京城「長安」，被貶官到「潯陽」此一偏僻地區的抑鬱之情。其他選項皆未提及地區文化差異，故選(A)。

難易度 中

23. 《東西洋考》記載某一時期中國的世界地理觀，東洋包括呂宋、汶萊、日本及紅毛番；西洋包括交趾、占城、暹羅、柬埔寨、麻六甲等。這本書反映出何時的世界觀？

- (A) 唐代 (B) 南宋 (C) 明末 (D) 清末

答案 (C)

命題出處 歷史第二冊第三篇：宋、元、明與盛清、第三冊世界史第二篇：近代世界的轉變

測驗目標 歐洲大航海時代的發展

詳解 《東西洋考》是由明朝張燮所著，成書於明萬曆四十五年（1618）。全書共十二卷：卷一至四為西洋列國考，記述交趾、占城、暹羅、麻六甲……等國的地理、歷史、氣候、名勝、物產。卷五、卷六則為東洋列國考、外紀考，記述呂宋、汶萊、日本、紅毛番……等國的地理、歷史、氣候、名勝、物產。從題文來看，判讀關鍵為「紅毛番」，代表此時已有歐洲人（荷蘭人）來到東亞活動，可判斷時間必然為 16 世紀之後才出現的狀況，故選(C)明末（明朝時間為 1368 ~ 1644 年）。

難易度 中

24. 一件史料記載：淡水廳某士紳因與佃農發生糾紛，乃強制將佃農耕種的田地收回，另行轉租給別的佃農耕種，以致激起民間鬥殺；該士紳還招募壯勇四出焚搶。朝廷認為該士紳為富不仁，目無法紀，下令閩浙總督將該士紳革職逮捕，押解到省城嚴行審辦。該史料記載的事件最可能是：

- (A) 民眾發動反清復明的民變 (B) 天地會領袖發動抗清行動
(C) 客家居民組成的抗日行動 (D) 地方人士參與的分類械鬥

答案 (D)

命題出處 歷史第一冊第二篇：清朝統治時期

測驗目標 清治臺灣時期移墾社會下的族群關係

詳解 由題目的「淡水廳」即可判斷應為清治時期的社會情況。題文描述背景為士紳將土地租給佃農所發生的紛爭，激起民間的鬥殺，應屬於地方的分類械鬥，而非(A)反清復明的民變、(B)天地會的抗清行動，或(C)抗日行動。

難易度 中

25. 某一時期，中國周邊民族普遍使用文字，並營建都城，反映其國家組織的強化，構成對農業中國的嚴重威脅。無論是東北、北方，甚至西南，都發生周邊民族入侵的現象，同時對中國造成重大的壓力。這種形勢出現於何時？

- (A) 西周末年 (B) 西晉末年 (C) 唐宋之際 (D) 清朝中葉

答案 (C)

命題出處 歷史第二冊第二篇：秦漢至隋唐、第三篇：宋、元、明與盛清

測驗目標 唐宋之際中國與周邊民族的互動情況

詳解 唐宋之際，中國周邊民族對中國政權造成威脅，如東北方有契丹（遼）、北方有回紇崛起，西南方有吐蕃及南詔、西方有党項羌（西夏）崛起。其中吐蕃、党項羌（西夏）、契丹（遼）皆使用自己自創的文字，並建立王朝，對中國造成重大的壓力。故選(C)。

難易度 中

26. 下列哪些臺灣鄉鎮市區級地名的變遷，最能反映解嚴後政府及社會對多元族群及其文化的尊重態度？

甲、吉野→吉安 乙、三民→那瑪夏 丙、番社→東山
丁、吳鳳→阿里山 戊、紅毛→新豐

(A)甲乙 (B)甲丙 (C)乙丁 (D)丁戊

答案 (C)

命題出處 地理第四冊：第 14 章 臺灣的區域特色與發展問題

測驗目標 能分析自然與人文因素，以解釋區域特色、區域差異與互動

詳解 「解嚴後政府及社會對多元族群及其文化的尊重」表示從威權到回歸族群文化特色。

甲：日治時期設立吉野庄，因日本味太重，1948 易名吉安鄉。為政權更替的產物。

乙：三民原為民族、民權、民生三聚落，近年因原住民族自我認同意識抬頭，原名過於政治八股、與原鄉地名毫無關連，於 2007 年 12 月 10 日，該鄉鄉民代表會正式通過採用「那瑪夏鄉」。符合威權到尊重文化的特色。

丙：東山在日治時期為番社庄，但地方認為「番社鄉其名稱粗俗，且易被人誤會為高山族之番社，擬採山在本鄉之東之義，於 1946 年改名為東山鄉」。屬地緣的命名而非文化。

丁：1913 年日本當局興建吳鳳廟，吳鳳遂成為日本統治者「理蕃」的論述基礎。1946 年，國民政府延續日人政策，並基於漢人沙文主義，將本鄉命名為「吳鳳鄉」。1987 年學界開始討論吳鳳神話對鄒族人的歧視，同年 9 月 9 日，鄒族人發起遊行，要求把吳鳳鄉更名，1989 年（民國 78 年）3 月 1 日內政部正式將吳鳳鄉改為阿里山鄉。符合威權到尊重文化的特色。

戊：新豐境內有紅毛港，日治時期設紅毛庄，戰後改制為紅毛鄉。1956 年因名稱不雅，取鄉內新庄子之「新」，萃豐莊之「豐」字、改稱新豐鄉。其命名為鄉內聚落簡稱，非關多元文化的特色。

難易度 中偏難

27. 圖 1 為某地區的等高線地形圖。該地在某一次暴雨時形成了多處的崩塌地，圖中陰影部分為崩塌所在。若於暴雨後在圖中的甲、乙、丙、丁四個點進行水質採樣，則何處所採樣本的含沙量最高？

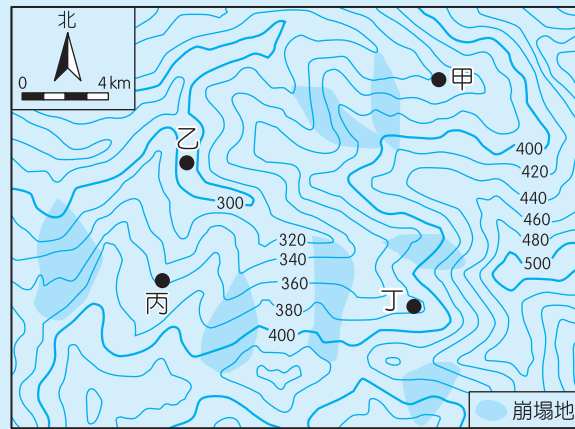


圖 1

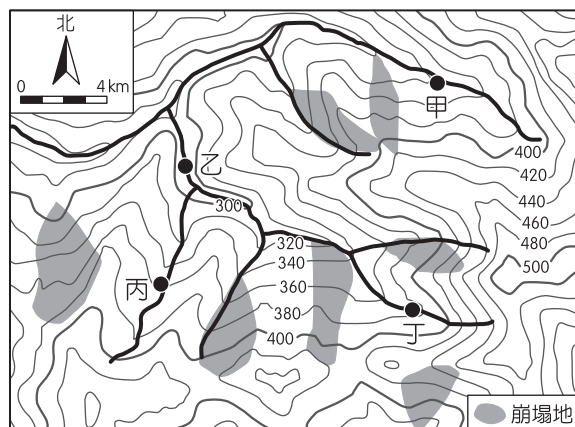
- (A) 甲
- (B) 乙
- (C) 丙
- (D) 丁

答案 (B)

命題出處 地理第一冊：第 6 章 地形作用力

測驗目標 能掌握解決地理問題的程序與步驟

詳解 該地區主要水系如下圖所示，只有在乙的上游才有 3 塊崩塌地，其他甲、丙、丁上游均無。上游地區的崩塌，會使土石直接進入河道，造成河內的含沙量高。



難易度 難

28. 某一地區民間音樂的特點是，帶有淡淡懷鄉、憂愁的色彩，重唱形式多，唱法放鬆，音色柔和抒情。一個音樂家評論：「原住民族提供基本的五聲音階模式，並喜用單調的擊鼓聲作伴奏；殖民者帶來和弦的概念及西班牙慣用的節奏，黑人則增加了變化音的修飾。」該地區最可能是：

- (A) 歐洲伊比利半島
- (B) 非洲喀拉哈里盆地
- (C) 南美洲拉布拉他平原
- (D) 北美洲密士失必三角洲

答案 (C)

命題出處 地理第四冊：第 1 章 中南美洲

測驗目標 能分析地理現象的空間特性

詳解 由題目的西班牙和黑人可以判斷為拉丁美洲，原引文與尼斯洛尼姆斯基在《拉丁美洲的音樂》中提到的相似：在旋律上，「印第安人提供基本的五聲音階模式，歐洲殖民者的影響表現在擴展音階、增加和絃上，黑人則增加了變化音的修飾。在節拍和節奏上，印第安人堅持短句長休止，用單調的擊鼓聲作伴奏。殖民者的節奏主要是西班牙的，典型的是 3/4 與 6/8 的雙重節拍，結果在小節中央產生特徵性的交錯節奏，黑人影響是在幾乎不變的 2/4 拍內加入切分音。」

難易度 中偏難

29. 2018 年美國與中國貿易爭端成形，某財經雜誌以「美國製造，臺灣紡織業者看見藍海」為題，闡述此時正是臺灣紡織業者從中國撤資前往美國投資設廠生產的新契機。臺灣紡織業者若欲前往美國設廠，可利用下列哪項生產方式的轉變，以克服美國勞力成本較高的不利因素？

- (A) 自動化生產的精進
- (B) 即時與彈性的生產
- (C) 有效率轉包與代工
- (D) 空間分工鏈的重組

答案 (A)

命題出處 地理第二冊：第 3 章 第二級產業

測驗目標 能提出地理問題的解決方案

詳解 紡織業為傳統勞力密集產業，但美國勞力成本高，因此唯有以自動化生產以降低勞力成本，才可能在美國設廠。

難易度 易

30. 圖 2 為某一地區的數值地形模型 (DEM)，圖 3 是該地區某一道路由左至右的高度剖面示意圖。圖 2 中哪條田野調查路線最符合圖 3 的道路地形變化？

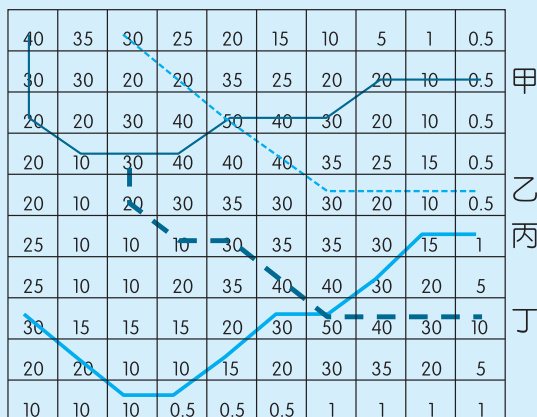


圖 2

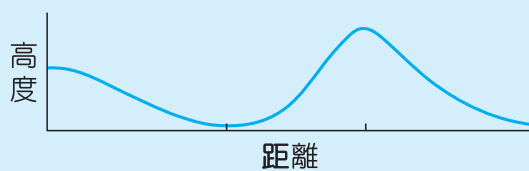


圖 3

- (A) 甲
- (B) 乙
- (C) 丙
- (D) 丁

答案 (C)

命題出處 地理第二冊：第 3 章 地形的展示與判讀、第 4 章 地理資訊蒐集與處理

測驗目標 能處理與歸納地理資料

詳解 由剖面可知 1/3 路程和終點最低，最高點約在 2/3 路程，起點約是最高點的一半高度。丙路徑約 10 格，最高在第 7 格，最低在第 4 格和終點，起點約是最高的一半，最符合剖面。甲路徑最高大致在中間；乙的終點最低，中無與其相當者；丁路徑最低尚未達 1/3 且最高、最低和起點的高度比例不符。

難易度 難

31. 某同學擬定一探究計畫，題目為「臺灣休閒農業區設置空間特性之探討。」在蒐集資料的過程中，根據某學者所繪製之臺灣休閒農業區發展熱門區域的空間分布圖（圖 4）建立假說。下列哪個假說最為合理？

- (A) 易達性高地區較具發展休閒農業區潛力
- (B) 原住民鄉鎮區較具發展休閒農業區潛力
- (C) 休閒農業主要沿著臺三線公路兩側發展
- (D) 休閒農業區主要透過傳統茶業產區轉型

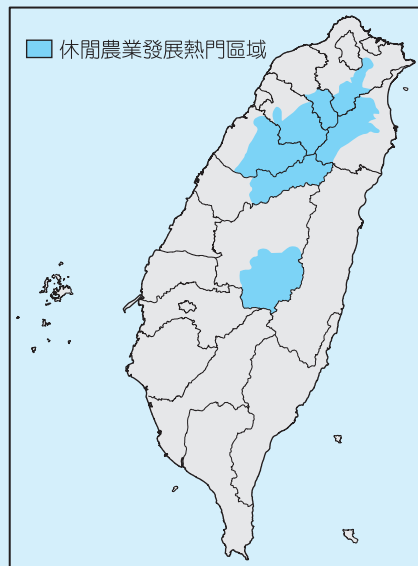


圖 4

答案 (B)

命題出處 地理第二冊：第 3 章 地理實察

測驗目標 能分析與解釋地理資訊

詳解 題目提到「假說」，所以是以圖中的證據說明。圖中深色部分有 2 塊，一為北、宜到臺中山區，一為南投信義，這些地區都在山區，屬於原住民族的傳統領域，因此最符合的是(B)原住民的鄉鎮區。(A)臺中和平和南投信義交通均非便利。(C)臺三線為南北向，應貫通臺灣南北成線型而非此 2 區塊。至於(D)中部以北的山地以高山蔬菜和溫帶水果較著名，茶葉主要在淺山丘陵地。

難易度 中偏難

32. 婆羅洲島約介於北緯 7 度到南緯 4 度，東經 109 度至 119 度之間（圖 5）。根據經緯度推算，婆羅洲島的面積大約是多少平方公里？

- (A) 5 萬
- (B) 20 萬
- (C) 40 萬
- (D) 75 萬

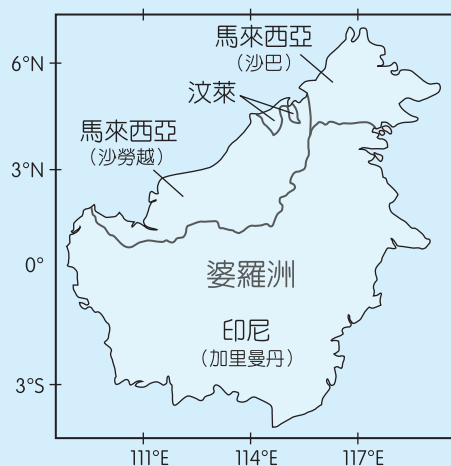


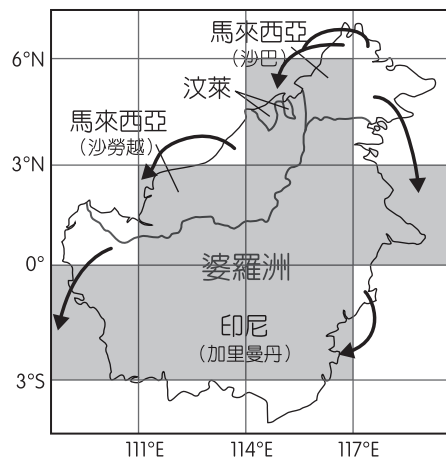
圖 5

答案 (D)

命題出處 地理第一冊：第 2 章 地圖網格與投影

測驗目標 能運用適當方法，觀察重要地理現象與獲取地理資料

詳解 赤道附近每一經緯度間的距離約 111 公里，將圖依經緯度畫分如下圖，每一格約 $333 \times 333 = 110,000$ 平方公里。如下圖，將各個格子補成 1 完整方格，以圖中陰影表示面積，共 7 個滿格，剩最下方 2 小塊，以(D) 75 萬平方公里最合理。(A) 5 萬、(B) 20 萬、(C) 40 萬明顯差異太大。



難易度 中偏難

33~35. 為題組

◎ 圖 6 為臺灣周邊某島嶼的等高線地形圖（右）和該島西岸不同時間的海岸線位置圖（左），請問：

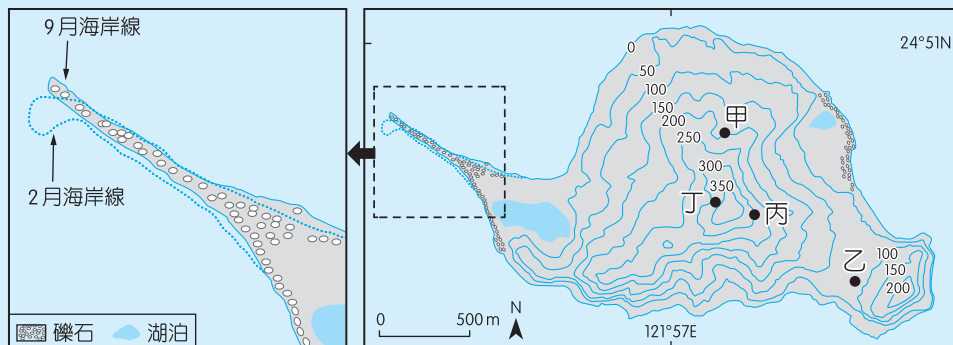


圖 6

33. 圖 6（左）海岸線 9 月、2 月不同，導致這種變化最主要的原因為何？
 (A) 洋流變化 (B) 颱風侵襲 (C) 潮汐漲退 (D) 季風交替

答案 (D)

命題出處 地理第四冊：第 14 章 臺灣的區域特色與發展問題

測驗目標 能分析地理現象的空間特性

詳解 由經緯度判斷，此為臺灣東北部的龜山島。龜山島的西部為龜尾，是一個沙嘴，圖中呈現季節性的週期變化，9月偏北是因夏季吹南風，而2月偏南是因冬季吹北風，所以是(D)季風交替。(A)此地洋流為黑潮，全年均向北。(B)颱風不會呈現季節週期性。(C)潮汐為垂直的海水面變化，而且是以日為週期，不會有季節方向性。

難易度 易

34. 下列何種景觀最可能出現於該島嶼？

- (A)海岸裙礁 (B)石灰岩溶洞
(C)溫泉與硫氣孔 (D)玄武岩柱狀節理

答案 (C)

命題出處 地理第四冊：第14章 臺灣的區域特色與發展問題

測驗目標 能分析地理現象的空間特性

詳解 (C)龜山島為火山島，近年地質學者證明龜首外有海底活火山，較可見溫泉與硫氣孔。

難易度 易

35. 如果要在該島嶼上設置可觀賞日出第一道曙光的觀景臺，圖6(右)中何地最適合？

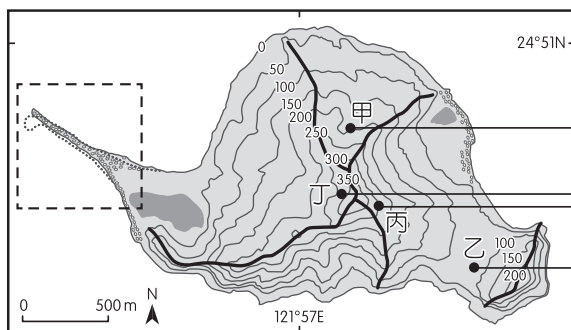
- (A)甲 (B)乙 (C)丙 (D)丁

答案 (C)

命題出處 地理第一冊：第3章 地形的展示與判讀

測驗目標 能運用適當方法，觀察重要地理現象與獲取地理資料

詳解 下圖為龜山島主要的稜線分布，自各點向東的黑線即為向東看日出的方向。圖中除了丙，其他向東均有稜線擋住，因此第一道曙光景觀臺以丙最合適設置。



難易度 中偏難

36、37. 為題組

◎ 圖 7 是中國的水資源分區圖，可分為北部、南部、西南諸河區、西北諸河區四個水資源分區，表 3 為 2016 年各分區水資源的使用量和用水類型的耗水量結構統計，請問：



圖 7

表 3

單位：億立方公尺

水資源分區	各水資源的使用量			各用水類型的耗水量			
	地表水	地下水	其他	生活	工業	農業	其他
甲	3,064.8	106.5	17.5	536.3	1,016.4	1,596.3	39.8
乙	1,226.9	794.2	50.8	257.1	264.1	1,469.9	80.8
丙	99.0	3.2	0.1	10.5	8.8	82.0	1.0
丁	521.5	153.1	2.4	17.7	18.7	619.7	20.9

36. 中國因水資源分布不均而推動跨區調水工程，該工程主要由哪個水資源分區調水到另一個水資源分區？

- (A)甲→乙 (B)甲→丁 (C)乙→丙 (D)乙→丁

答案 (A)

命題出處 地理第四冊：第 5 章 中國的區域概述、第 10 章 中國的環境問題

測驗目標 能分析自然與人文因素，以解釋區域特色、區域差異與互動

詳解 由圖表中使用量較多的甲和乙為東部，工業和農業用水最多的甲是圖中的南部，包含長江流域和珠江流域的華中和華南；乙則是圖中的北部，包含華北和東北。丙、丁二者生活用水少，表示人口較少，而且工業耗水低，為西北和西南。其中西南諸河主要是滇西和藏南縱谷，人口相對不多；西北坎井的地下水和內流河水多，因此丁為西北而丙為西南。南水北調主要由圖上的南部調至北部，選(A)。

難易度 難

37. 加工用番茄的理想栽培環境是：生長期日照時數長，晝夜溫差大，氣候乾燥少雨但灌溉用水充足。某食品加工企業在選擇生產番茄汁的設廠區位時，以哪個水資源分區最佳？

- (A)甲 (B)乙
(C)丙 (D)丁

答案 (D)

命題出處 地理第四冊：第 5 章 中國的區域概述、第 10 章 中國的環境問題

測驗目標 能分析自然與人文因素，以解釋區域特色、區域差異與互動

詳解 題目敘述該區為乾燥氣候區，以丁的西北地區最適當。

難易度 難

38、39. 為題組

◎ 所謂「生態服務」，係指生態系統在運作過程中，能形成及維持人類賴以生存的自然空間及物化條件。如臺灣蚵仔養殖主要分布於西南沿海地區，不僅形塑獨特的養蚵文化，生產過程中還可以淨化海水，穩定海岸，蚵棚也成為魚蝦蟹的棲息地，其副產品蚵殼的碳酸鈣成分為過去製作石灰的原料，深具有「生態服務」的價值。近年來有某縣市首長計畫在近海地區進行填土造陸工程以興建大型商城。地方人士認為該開發案勢必會衝擊養蚵文化和生態服務功能，因此推動公民投票反對此一開發案。在爭取提案成立過程中，公投發起人士逐一拜訪當地居民，成立公民論壇，邀請民眾討論開發案之利弊。參與民眾日趨增加，雖立場各有不同，卻共同自發組成社區發展協會。該公投案最後未能成立，土地開發案亦隨之執行。請問：

38. 養蚵產業除可淨化海水、穩定海岸外，還具有哪些「生態服務」的價值？

- 甲、固碳 乙、防止地層下陷 丙、增加生物多樣性
丁、有利溼地植物群聚 戊、吸引洄游魚類產卵

- (A)甲丙 (B)乙丁
(C)乙戊 (D)丙丁

答案 (A)

命題出處 地理第一冊：第 15 章 自然景觀帶

測驗目標 能運用適當方法，觀察重要地理現象與獲取地理資料

詳解 文中「蚵棚也成為魚蝦蟹的棲息地」，表示可增加生物多樣性；而「蚵殼的碳酸鈣成分」表示其成分含碳，可以固碳。

難易度 中偏難

39. 上述開發案引發的公投案發展，下列詮釋何者最適當？
- (A)該公投案未能成立，係因屬重大預算案，依法由議會審議不適用《公投法》
 - (B)該公投案未能成立，反映出人民主權的精神在地方層級議題較不容易實踐
 - (C)公投案雖未能成立，但已證明透過直接民主制度解決土地政策爭議的必要
 - (D)公投案雖未能成立，但已顯現民主審議的歷程、精神以及可能面對的困境

答案 (D)

命題出處 公民與社會第二冊第六章：人民的參政

測驗目標 了解審議民主理論與公民投票

詳解 (A)該公投案屬地方自治事項重大政策之創制或複決。(B)該公投案未能成立，與人民主權在地方層級議題的實踐無直接關聯性。(C)公投案雖未能成立，當地居民僅是討論，並未透過直接民主制度來解決土地政策的爭議。(D)公投案雖未能成立，但是公民人士成立公民論壇，邀請民眾討論開發案之利弊，而參與的民眾自發組成社區發展協會，屬於審議民主的發展，如下圖。



<p>《公民投票法》 第 2 條</p>	<p>本法所稱公民投票，包括全國性及地方性公民投票。全國性公民投票，依憲法規定外，其他適用事項如下：</p> <ul style="list-style-type: none"> 一、法律之複決。 二、立法原則之創制。 三、重大政策之創制或複決。 <p>地方性公民投票適用事項如下：</p> <ul style="list-style-type: none"> 一、地方自治條例之複決。 二、地方自治條例立法原則之創制。 三、地方自治事項重大政策之創制或複決。 <p>預算、租稅、薪俸及人事事項不得作為公民投票之提案。</p>
--------------------------	---

難易度 中

40、41 為題組

◎ 史料記載：某年 1 月 11 日，駐守臺灣的長官率領 353 人分乘 3 艘戎克船從位於臺灣南部的政治中心出征。船隻沿海岸向南航行時，兩艘船隻觸礁，損失一些食物。軍隊乃在島嶼西岸下船整補，從陸路越過山脈到島嶼東岸。在東岸某村社整補兩天後，沿海岸線北上，攻擊山區另一村社，達成出征目的後才撤軍，並再度越過山脈返回島嶼西岸。軍隊在海邊某村社露宿時，曾受當地社民以米飯、豬肉和雞肉款待。請問：

40. 根據題文資訊及歷史知識推論，該史料最可能描述的是：

- (A) 荷人至東臺灣探金與原住民引發衝突
- (B) 明鄭時期屯墾時和大肚王國發生衝突
- (C) 清福建水師提督到東部追擊海盜蔡牽
- (D) 日本警察與阿美族衝突的七腳川事件

答案 (A)

命題出處 歷史第一冊第一篇：早期臺灣

測驗目標 大航海時代下西方人在東亞的活動

詳解 題文中的「戎克船」是明清時期中國東南沿海各省進行海外貿易的主要船型，為一種尖底帆船。又題文中提及「駐守臺灣的長官」、「從位於臺灣南部的政治中心出征」及他們往島嶼東岸探險，可以判斷應為 17 世紀荷蘭統治臺灣時所發生的事情。(B) 明鄭時期與中部一帶的大肚王國發生衝突時，不需要越過山脈到島嶼東岸。(C) 嘉慶年間，海盜蔡牽屢次侵擾蛤仔難（今宜蘭），福建水師提督若欲追擊海盜蔡牽，無須向南航行，以及攻擊東岸村社。(D) 日治時期的政治中心不在臺灣南部。故最合理的選項為(A)。

難易度 中

41. 從史料內容可看出當時「村社」社會的哪一特徵？

- (A) 某些村社應已經發展出稻作農業
- (B) 部分村社間已建立軍事同盟組織
- (C) 不同村社間已有穩定的貿易關係
- (D) 村社的土地制度屬於部落共有制

答案 (A)

命題出處 歷史第一冊第一篇：早期臺灣

測驗目標 臺灣原住民社會的發展

詳解 題文中未提及(B)村社間的軍事同盟組織、(C)村社間的穩定貿易關係、

(D)土地制度屬於部落共有制。但有提及「社民以米飯、豬肉及雞肉」款待軍隊，故選(A)。

難易度 中

42、43 為題組

◎ 某一時期，英國國王下令關閉修道院，沒收教會財產，將其土地出售給富人，不僅獲得巨大利益，也調整政教關係。請問：

42. 依據題文資訊，上述事件最可能發生於何時？

- (A)十三世紀約翰王簽署大憲章，重新確認國王與貴族的關係
- (B)十五世紀百年戰爭後，英王放棄在法國權力轉而注重內政
- (C)十六世紀宗教改革時，英王欲排除羅馬公教在英國的勢力
- (D)十七世紀時英王迫害清教徒，許多清教徒流亡北美洲地區

答案 (C)

命題出處 歷史第三冊世界史第二篇：近代世界的轉變

測驗目標 宗教改革後英國國教的形成與發展

詳解 由題文描述英國國王對國內原先的宗教勢力進行打壓，並且調整了原本的政教關係，判斷此英國國王應為亨利八世，他因離婚問題與羅馬教宗發生衝突，但實則欲掌控國內的宗教勢力，故創立「英國國教」，並以關閉修道院、沒收教會財產等措施，讓國王成為英國最高的宗教領導者。(A)約翰王當時所簽署的《大憲章》，主要僅在討論貴族與國王的關係，且約翰王仍受制於羅馬教宗，並未關閉修道院。(B)百年戰爭過後的英國隨即面臨內戰，無力處理政教關係。(D) 17世紀的英國已經歷宗教改革，英國國教已居於領導地位，國王則成為國內的最高宗教領導者，並未再調整政教關係。

難易度 中

43. 如果依據現代法律保障財產權的理念，評論該時期英國國王沒收財產的事件，下列評論何者最適當？

- (A)財產權的保障對象為自然人，教會非屬自然人，不是財產權的保障對象
- (B)英王沒收教會財產，此沒收行為讓英王與教會構成債權債務之法律關係
- (C)基於物權法定主義原則，若國家制定法律，英王可以合法沒收教會財產
- (D)依所有權社會化原則，英王須為公益目的且必要時，才可取得教會財產

答案 (D)

命題出處 公民與社會第三冊第六章：民法與生活

測驗目標 了解所有權社會化與財產權

詳解 (A)財產權的保障對象為人，包括自然人與法人，教會屬法人，也是財產權的保障對象。(B)英王沒收教會財產，此沒收行為與《民法》的債權債務之法律關係無關，屬於《刑法》上的沒收。(C)基於物權法定主義原則，物權除依法律或習慣外，不得創設；因此國家制定法律，英王可以合法沒收教會財產，與物權法定主義無關。(D)依所有權社會化原則，英王為了公共利益目的且必要時，可以取得教會財產，此屬於所有權絕對化的相對性原則。

所有權相對化	權利社會化的意義，個人在法律限制下才能自由使用、處分、收益所有物，但是基於公共利益原則，必須讓他人依法合理使用。
所有權絕對化	源自 1789 年法國大革命的財產權神聖不可侵犯口號，所有權人得行使所有權，他人不得干預。

難易度 中

44、45 為題組

◎ 十八世紀，清朝一位皇帝對該朝首都地理形勢描述：「右擁太行左滄海，南襟河濟北居庸。會通帶內遼海外，雲帆可轉東吳粳（稻米）。」請問：

44. 該首都及其附近地區在現代經濟發展中，必需克服的環境限制為何？

- (A)礦物原料短缺 (B)淡水資源不足
(C)冬夏溫差劇烈 (D)土壤退化嚴重

答案 (B)

命題出處 地理第四冊：第 10 章 中國的環境問題

測驗目標 能解釋人類與環境間的相互關係

詳解 清朝的首都為北京，位在華北平原，目前主要問題是缺水，因此才有南水北調計畫。

難易度 易

45. 十九世紀下半葉，「雲帆可轉東吳粳」的情況則有大幅改變，造成此一改變的最主要原因為何？

- (A)美洲作物引進 (B)鐵路運輸興起
(C)捻亂破壞航路 (D)海運取代漕運

答案 (D)

命題出處 歷史第二冊第三篇：宋、元、明與盛清、第四篇：晚清之變局

測驗目標 清朝的水運交通情況變化

詳解 此題文來源為「乾隆御製碑文·帝都篇」，描述歷代首都的地理局勢，其中描寫北京之段落為：「右擁太行左滄海，南襟河濟北居庸。」

會通帶內遼海外，雲帆可轉東吳粳。」含意是：北京左邊被滄海環繞，右邊是太行山，北面鄰接居庸關，南邊與黃河濟水相接。對外可連結遼海，而且帆船經由「京杭大運河」可以把位於東吳的稻米轉運來此。在近代海運和現代陸路交通興起以前，「京杭大運河」的貨物運輸量曾占全國的 3 / 4。但是在 19 世紀下半葉時，許多河道淤積難行，只好改走海運；同時輪船也開始在沿海航行，故「雲帆可轉東吳粳」的情況才會因此大幅改變，由海運取代漕運，故選(D)。(A)東吳稻米的轉運與美洲作物的引進無關。(B) 19 世紀下半葉，中國在南方並未有向北方鐵路通行（津浦鐵路在 1912 年才全面通車）。(C)主要影響運河航行的是太平天國之亂，並非捻亂。

難易度 難

46、47. 為題組

◎ 某島嶼在十六至十九世紀間原是西班牙大帆船貿易航線上的重要修補站，1898 年美西戰爭時，該島遭美國併吞。太平洋戰爭期間，日本曾占領該島。二次大戰後期，美軍奪回該島後，在該島建立空軍基地，做為戰時控制東南亞和東北亞空域的據點。請問：

46. 該島嶼最可能是：

- (A)關島 (B)琉球 (C)硫磺島 (D)夏威夷島

答案 (A)

命題出處 歷史第四冊第二篇：世界霸權的爭奪與衝突

測驗目標 美國在太平洋地區的軍事布局

詳解 (A)關島在 16 世紀被西班牙殖民後，成為重要的航運修補站。1898 年美西戰爭後，美國從西班牙手中奪得該島，太平洋戰爭期間再遭日本占領（1941 年），直到 1944 年才由美國奪回，至今美國仍擁有該島主權。

難易度 中

47. 該島控制空域的周邊國家，大多是哪兩個國際組織的成員國？

- 甲、OPEC（石油輸出國家組織） 乙、APEC（亞太經濟合作會議）
丙、OAS（美洲國家組織） 丁、ASEAN（東南亞國家協會）

- (A)甲乙 (B)甲丙 (C)乙丁 (D)丙丁

答案 (C)

命題出處 地理第三冊：第 1 章 世界的劃分

測驗目標 能分析自然與人文因素，以解釋區域特色、區域差異與互動

詳解 文中「作為戰時控制東南亞和東北亞空域的據點」，而東北亞和東南亞主要為（乙）APEC 和（丁）ASEAN 的成員國。

難易度 易

48～50. 為題組

◎ 圖 8 為甲、乙、丙、丁四個地點長期的月均溫與月雨量變化圖。請問：

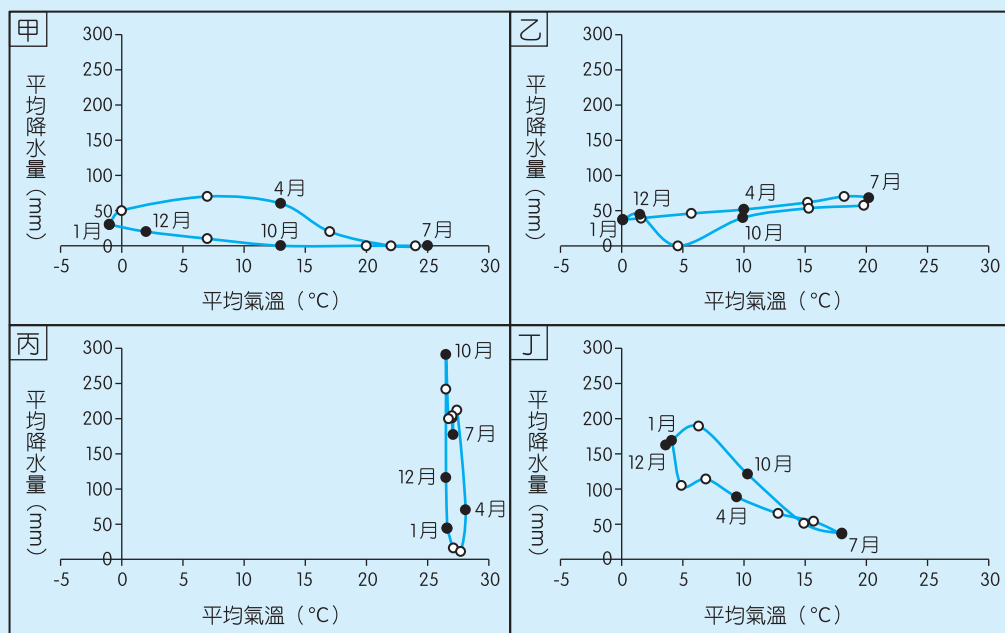


圖 8

48. 某一湖泊原是世界第四大湖，1960 年代前後，人們開始從注入該湖泊的兩條河川取水，在兩岸地區發展灌溉，栽培棉花和稻米等農作物，造成入湖河水大幅減少，不僅導致湖泊水位降低，且趨近乾涸，也在該湖泊周圍地區引發嚴重的環境生態問題。該湖泊位於圖中哪個地點代表的氣候區？

- (A) 甲 (B) 乙 (C) 丙 (D) 丁

答案 (A)

命題出處 地理第一冊：第 11 章 地表風系與氣候分類；地理第二冊：第 1 章 第一級產業概論

測驗目標 能處理與歸納地理資料

詳解 甲：最冷月均溫在 1 月，低於 0 度；年雨量約 250～300 毫米，為溫帶乾燥氣候區。

乙：高於 10 度有 7 個月，且年雨量約近 700 毫米，除 11 月外均有剩水，乾季不明顯，應該是北半球溫帶大陸性和海洋性氣候的過渡帶。

丙：各月均溫在 25 度以上，且乾溼分明，為莽原氣候。

丁：低溫為雨季，屬冬雨型，且乾季不甚明顯，為海洋性氣候區。原為世界第 4 大湖，且在 1960 年代後大量開發使湖泊縮減，指的是鹹海，位在(A)甲—溫帶乾燥氣候區。

難易度 難

49. 十九、二十世紀之交，某帝國首都中的猶太族裔在以下幾個行業占絕對優勢，例如有七成的金融家、六成的律師和醫生以及五成的記者屬於猶太族裔。該首都最可能位於圖中哪個地點代表的氣候區？

(A)甲 (B)乙 (C)丙 (D)丁

答案 (B)

命題出處 地理第一冊：第 11 章 地表風系與氣候分類；地理第三冊：第 11 章 歐洲（一）

測驗目標 能分析自然與人文因素，以解釋區域特色、區域差異與互動

詳解 該帝國為德意志帝國，在戰前有大量猶太裔，而德國位在大陸性和海洋性的過渡區，選(B)乙。

難易度 難

50. 十八世紀上半期，一位旅行者描述一地：氣候土壤不佳，平時杳無人煙，但每年有一段時間有大量船隻湧入，水手用船帆在港口旁廣場搭起帳棚，保護卸下的貨物；各由上百隻騾組成的商隊運來一箱箱的金銀；一些小船載滿當地生產的可可、羊駝毛、金雞納樹皮等商品前來販售。此地最可能位於圖中哪個地點代表的氣候區？

(A)甲 (B)乙 (C)丙 (D)丁

答案 (C)

命題出處 地理第一冊：第 11 章 地表風系與氣候分類；地理第四冊：第 2 章 中南美洲（二）

測驗目標 能分析地理現象的空間特性

詳解 由「當地生產的可可、羊駝毛、金雞納樹皮」可知為南美洲。再由水手觀點，氣候、土壤不佳，平時杳無人煙，表示與歐洲環境條件不同，只有甲、丁二項。而搭帳棚保護貨物，最可能為乾溼分明的莽原氣候區，選(C)。

難易度 難

51~53. 為題組

◎ 清朝初年，政府起用傳教士協助官員繪製《皇輿全覽圖》。康熙 52 年 5 月 20 日（陰曆），皇帝下令：「往河南、江南畫輿圖去的官和西洋人不必回來，就彼處往浙江舟山等處、福建臺灣等處畫去。但走海時，著伊等謹慎看好天色時節行走，不必急了。」從康熙 49 年到 55 年共完成「有度數直隸、山東等 13 省全省圖 14 張」。這些地圖都以「府」為基本量算單位，用墨色硬筆繪製，度數用阿拉伯數字記在圖的邊框，山川城鎮符號基本一致。請問：

51. 協助清朝官員繪製地圖的傳教士最可能是：

- (A) 法國的耶穌會教士
- (B) 英國的長老會教士
- (C) 荷蘭的喀爾文教士
- (D) 俄羅斯的東正教士

答案 (A)

命題出處 歷史第二冊第三篇：宋、元、明與盛清

測驗目標 明末清初西洋傳教士帶來的影響

詳解 明末清初到中國傳教的傳教士為天主教（舊教）傳教士，其中以耶穌會傳教士為主，他們帶來當時西方的地理學、天文曆法、數學等西學知識，對當時中國在這些領域方面的發展影響頗深。(B)(C)為基督教（新教）、(D)東正教士，當時未到中國傳教。故選(A)。

難易度 易

52. 皇帝下令：「走海時，著伊等謹慎看好天色時節行走，不必急了。」主要是因為當時節的天候環境有何特色？

- (A) 潮差變化不定
- (B) 雷暴雨日數多
- (C) 東南季風興起
- (D) 沿岸涼流強勁

答案 (C)

命題出處 地理第四冊：第 5 章 中國的區域概述

測驗目標 能解釋人類與環境間的相互關係

詳解 陰曆 5 月 20 日約在陽曆 6 月底到 7 月初，此時中國正進入夏季，華北地區的東南風起，與南向的船隻航向相反，因此皇帝直接下詔不必急了。

難易度 中偏難

53. 論者認為：《皇輿全覽圖》係由傳教士執筆繪製。題文中哪項資料可支持此論點？

- (A)全圖使用墨色硬筆繪製
(B)山川城鎮符號基本一致
(C)以府為基本的量算單位
(D)度數用阿拉伯數字標記

答案 (D)

命題出處 歷史第二冊第三篇：宋、元、明與盛清

測驗目標 明末清初西洋傳教士帶來的影響

詳解 《康熙皇輿全覽圖》是中國第一幅繪有經緯網絡的全國地圖，由當時聘請的西洋傳教士經過經緯度測量繪製而成。地圖中的「度數」用阿拉伯數字標記，因中國在此之前並沒有使用阿拉伯數字的習慣，明顯是由國外傳入的書寫數字方式，故以(D)「度數用阿拉伯數字標記」最適合判讀《皇輿全覽圖》是由西洋傳教士所繪製的關鍵。(A)中國人在先前自行繪製的地圖中已有出現。(B)「山川城鎮符號基本一致」應是繪製地圖的共識。(C)題幹引文中「共完成『有度數直隸、山東等 13 省全省圖 14 張』。這些地圖都以『府』為基本量算單位」，顯示當初《皇輿全覽圖》是由各省分測量繪製而成，故「以府為基本的量算單位」，只能說明《皇輿全覽圖》是由各省分別繪製拼湊而成。

難易度 中

54、55. 為題組

◎ 十七世紀時，亞洲水域的遠東航路上，一艘帆船從公司總部所在的港口出發，船上載滿胡椒、檀香木、乳香、象牙、犀角等商品。抵達「甲」港後，卸下部分商品，並購買當地生產的鹿皮、鹿脯、砂糖等貨物裝船，繼續航行至日本。在日本把貨物賣掉，換取白銀；返航行程中，至廈門購買絲綢和瓷器。請問：

54. 依據題文資訊，「甲」港的今名最可能是下列何者？

- (A)安平 (B)馬尼拉 (C)麻六甲 (D)雅加達

答案 (A)

命題出處 歷史第一冊第一篇：早期臺灣

測驗目標 17 世紀臺灣的對外貿易情況

詳解 根據題文描述，所描述情況為 17 世紀時大航海時代。題文所指的貿易路線應為荷蘭東印度公司從亞洲總部巴達維亞，將東南亞的商品運往臺灣的「安平港」，並在當地購買臺灣所生產的鹿皮、鹿脯、砂糖等產品，轉往日本銷售，換取日本白銀，再往南航行至廈門購買中國絲綢與瓷器。判斷關鍵為鹿皮等製品，此為臺灣特有的商品，故選(A)。

難易度 中

55. 關於題文中三地貿易的敘述以下何者正確？

- (A) 日本的絲綢市場價格低於廈門
- (B) 廈門在生產砂糖上具有比較利益
- (C) 廈門生產鹿肉的機會成本較低
- (D) 日本鹿皮市場的消費者剩餘增加

答案 (D)

命題出處 公民與社會第四冊第三章：全球化與地球村

測驗目標 了解國際貿易的內涵

詳解 (A)該船到廈門買絲綢，顯見廈門的絲綢價格最低。(B)該船在甲港購買砂糖，可見當地的砂糖在生產上具有比較利益。(C)該船在甲港購買鹿肉，可見當地生產鹿肉的機會成本較低。(D)該船將鹿皮在日本賣掉，可見鹿皮低於日本市場售價，日本消費者可以買到更便宜的鹿皮，因此日本鹿皮市場的消費者剩餘增加。

國際貿易	
出口	當某一產品的國外價格高於國內價格時，會形成一國出口的誘因；在獲利的驅使下，會有人將國內較便宜的產品出口以獲取利潤。出口國的消費者剩餘減少，生產者剩餘增加。
進口	當某一產品的國外價格低於國內價格時，會形成一國進口的誘因；在獲利的驅使下，會有人將國外較便宜的產品進口以獲取利潤。進口國的消費者剩餘增加，生產者剩餘減少。

難易度 易

56.~59. 為題組

- ◎ 某國位處溫帶海洋性氣候區，是由數個政治實體組成的君主立憲政體，但其中一個政治實體有獨立建國的分離主義運動。該國有一個少數黨，係由早期街頭暴力抗爭的公民團體轉型而來，倡議立法讓該政治實體舉行獨立公投。此少數黨的民意支持度在近年來不斷攀升，且 2015 年國會大選時，政黨得票率和席次均大幅提高。表 4 是該次選舉得票率最高的七個政黨及其所獲得的議席和席次比例。請問：

表 4

政黨（代號）	得票率	議席（席次比例）
紅	36.9 %	331（50.9 %）
橙	30.4 %	232（35.7 %）
黃	12.6 %	1（0.2 %）
綠	7.9 %	8（1.2 %）
藍	4.7 %	56（8.8 %）
靛	3.8 %	1（0.2 %）
紫	0.6 %	8（1.2 %）

56. 依據表 4 的選舉結果，關於該國選舉制度的問題，下列哪一個評論最適當？
- (A) 得票率愈低的小黨，愈難在國會取得席次
 (B) 得票率和席次出現落差，民意未獲有效反映
 (C) 選舉規則有利於大黨，易產生一黨獨大現象
 (D) 主張獨立的激進政黨，較易在國會取得席次

答案 (B)

命題出處 公民與社會第二冊第六章：人民的參政

測驗目標 了解選舉制度的類型

詳解 該國採取的選舉制度，得票率與席次的比例關聯性較低，因此可能是多數決制，根據選舉結果，無法真實的在席次上反映民意。(A) 得票率愈低的小黨，所取得的席次比例反而高於其他得票率高的政黨，例如藍黨、紫黨的得票率皆低於黃黨，但席次皆高於黃黨。(C) 多數決的選舉規則雖有利於大黨，但並不見得易產生一黨獨大現象，此次選舉是傾向兩黨制。(D) 無法判斷哪一個政黨是主張獨立的激進政黨，因此無法得知在國會所取得的席次。

選舉制度			優點	缺點
多數決制	相對多數決制	單一選區	1. 容易計算 2. 有利政局穩定	1. 不利於小黨生存 2. 常有比例性偏差的現象
		複數選區	相較於單一選區相對多數決制，較有利於小黨生存	1. 容易出現極端的政黨或是候選人 2. 政局較不穩定
	絕對多數決制	1. 當選人有較高的民意基礎 2. 有利政局穩定	常須進行二輪投票，勞民傷財	
比例代表制			1. 較能充分反映民意 2. 得票率與席次率的吻合程度較高	易形成小黨林立，議事較難達成共識，可能導致政局不穩定
混合制	並立制	改善多數決制與比例代表制的缺點		相對於聯立制，較不利於小黨生存
	聯立制			相對於並立制，較易形成小黨林立，議事較難達成共識，可能導致政局不穩定

難易度 中

57. 題文中該君主立憲國家由不同政治實體組成，其組成的主要依據為何？

- (A) 1215 年的大憲章 (*The Great Charter*)
 (B) 1648 年的西發里亞和約 (*Peace of Westphalia*)
 (C) 1535、1707、1800 年的聯合法 (*Acts of Union*)
 (D) 1919 年的凡爾賽和約 (*Treaty of Versailles*)

答案 (C)

命題出處 歷史第四冊第一篇：歐美國家的變革

測驗目標 近代大不列顛聯合王國（英國）組成的過程

詳解 此題所描述的君主立憲國家為大不列顛聯合王國（英國）。1535 年的《聯合法》使英格蘭王國與威爾斯公國合併；1707 年的《聯合法》則

將英格蘭王國和蘇格蘭王國兩國以共主邦聯式的結合成為「大不列顛王國」，此後大英帝國逐漸開始興盛。1800年的《聯合法》通過後，隔年愛爾蘭王國和大不列顛王國聯合成立「大不列顛與愛爾蘭聯合王國」，故選(C)。(A) 1215年《大憲章》的意義是當時封建貴族用來對抗英國國王（當時為約翰王），以保障貴族自身權益的協議。(B) 1648年《西發里亞和約》是在歐洲三十年宗教戰爭後所簽訂的條約，與英國聯合王國的出現無關。(D) 1919年《凡爾賽和約》是在第一次世界大戰後協約國與同盟國所簽訂的條約。

難易度 難

58. 根據下列四個都市景觀的描述判斷，哪個都市最可能出現在該君主立憲政體？
- 甲、氣候夏熱冬寒，年降水量 850 mm 左右，夏雨較多。是世界傳統汽車中心，近年因汽車工業衰退，都市人口大幅外流。主場設於本市的職業球隊以活塞籃球隊和紅翼冰球隊最有名。
- 乙、終年溫和溼潤，無明顯乾季，年降水量為 800 mm 左右，降水時間長，降水強度小。市區內有許多工業革命遺址改造成的歷史博物館，足球是該市文化的重要部分，有兩個著名的足球會設於本市。
- 丙、冬夏的溫差很大，年降水量 1,100 mm 左右，乾溼季節不明顯，是十九世紀後期才興起的都市，為全國最重要的農牧產品集散地，食品加工業發達。職業棒球火腿鬥士隊主場設於本市。
- 丁、全年高溫，年降水量 900 mm 左右，乾溼季節分明。目前是該國科技研究的樞紐、資訊科技的中心和 IT 產業的重鎮。職業板球皇家挑戰者隊主場設於此。
- (A)甲 (B)乙 (C)丙 (D)丁

答案 (B)

命題出處 地理第一冊：第 11 章 地表風系與氣候分類

測驗目標 能分析自然與人文因素，以解釋區域特色、區域差異與互動

詳解 題幹指出「溫帶海洋性氣候區」，甲的「夏熱冬寒」指的是大陸性氣候，且有活塞隊，為底特律；乙「終年溫和溼潤，無明顯乾季」最符合溫帶海洋性氣候；丙溫差大但乾溼季節不明顯，且有火腿鬥士隊，為緯度高但海洋性明顯的北海道；丁全年高溫且有皇家挑戰者板球隊，為曾被英國殖民，位在熱帶高地的邦加羅爾。

難易度 中偏易

59. 關於該國分離主義運動的屬性與發展，下列哪項詮釋最適當？

- (A) 從體制外非法的社會運動，轉為競爭議席以實現政治主張的合法參與
- (B) 從非政府組織推動的體制外抗爭，轉變為與政府組織合作的公民參與
- (C) 從體制外非法的社會運動，轉變為公民團體推動公投的直接民主訴求
- (D) 從非政府組織推動的體制外抗爭，轉型為取得國家執政權的主流政黨

答案 (A)

命題出處 公民與社會第一冊第五章：公民社會的參與；第二冊第五章：政治意志的形成

測驗目標 了解公民團體與政黨的意涵

詳解 選文提到「該國有一個少數黨，係由早期街頭暴力抗爭的公民團體轉型而來，倡議立法讓該政治實體舉行獨立公投」，表示該抗爭團體從體制外非法的社會運動，轉型成為政黨並取得席次，此即為該團體轉為競爭議席以實現政治主張的合法參與。

難易度 中

60.~63. 為題組

◎ 柬埔寨為中南半島的文明古國，昔稱扶南，後名真臘、高棉帝國。真臘和鄰近的占城、暹羅等地，是宋代成形的「南海貿易體系」成員，當時中國和東南亞間的貿易商船往來不絕，許多東南亞的物種隨貿易活動傳入中國。《宋會要》記載：紹興 3 年進口商品中，以香料、藥材、珍寶為主。《諸蕃志》也列舉中國商人在真臘、占城等 15 個地區販售的商品有瓷器、絲織品、酒、漆器等。柬埔寨於十九世紀淪為法國保護國，1953 年才獨立；但獨立後長年動亂，某國際組織乃通過決議，在該國成立柬埔寨臨時權力機構，於 1992 年至 1993 年協助該國重建和平政府，舉行自由和公正的選舉並制定新憲法，使該國恢復正常秩序；這也是該國際組織第一次接手管理一個獨立國家。該國政局較為穩定後，臺商也陸續到該國投資紡織成衣、製鞋、農產、木材加工等產業。請問：

60. 若僅以題文中有關宋代「南海貿易體系」的敘述做為推論依據，可直接由上述資料獲得下列哪項結論？

- (A) 原產於真臘、占城，耐旱早熟的占城稻，至宋代才傳入中國
- (B) 南海貿易商船多在夏季從中國出發，冬季從東南亞返回中國
- (C) 中國的經濟重心南移和造船技術進步是南海貿易發展的基礎
- (D) 宋代南海貿易以中國輸出手工業商品、進口原物料商品為主

答案 (D)

命題出處 歷史第二冊第三篇：宋、元、明與盛清

測驗目標 宋朝時的對外貿易情況

詳解 題文中提及宋朝當時與東南亞間的貿易熱絡，根據《宋會要》記載「紹興 3 年的進口商品以香料、藥材、珍寶為主」，《諸蕃志》則記載中國商人在東南亞許多城市主要販售瓷器、絲織品、漆器等，可知宋代南海貿易模式中，中國主要輸出為手工業商品，進口為原物料商品。題文中並未提到(A)占城稻、(B)商船往返的時機與方向，以及(C)經濟重心南移與造船技術進步，故選(D)。

難易度 中

61. 題文指出的臺灣相關產業陸續到柬埔寨投資設廠，最適合用下列哪一概念解釋？
- (A)絕對利益
(B)工業慣性
(C)區位移轉
(D)工業連鎖

答案 (C)

命題出處 地理第二冊：第 3 章 第二級產業概論

測驗目標 能解釋人類與環境間的相互關係

詳解 (C)臺灣產業到柬埔寨投資主要是勞力密集型產業，當臺灣工資升高，轉往低勞力成本的地區是比較利益的結果。在此過程中，臺商投資在臺目前已較不利生產的紡織成衣、製鞋、農產、木材加工，使原本在臺的這些產業產生區位移轉。(A)臺商投資也是為了貿易，應為比較利益。(B)工業慣性指原本為擴廠或其他因素而決定遷移，卻因土地、機械等投資太大而無法立即遷走。(D)工業連鎖指上下游關係，文中是整體產業的移轉，並未提及分工。

難易度 中偏易

62. 下列何者是題文資訊提及之國際組織所致力之主要工作之一？
- (A)推動東南亞國家的區域整合
(B)通過並推動《兒童權利公約》
(C)建立各國貿易爭端解決機制
(D)促進亞洲地區社會經濟成長

答案 (B)

命題出處 公民與社會第二冊第七章：國際政治與國際組織

測驗目標 理解聯合國的組織架構與工作執掌

詳解 聯合國柬埔寨臨時權力機構是聯合國在 1992 ~ 1993 年間於柬埔寨實施維和行動時成立的機構。該機構也意味著聯合國第一次接手管理一個獨立國家，第一次在主權國家組織實行選舉（而不是監督或觀察）、組建自己的電臺和監獄，並在國家層面負責促進與保障人權。(A)推動東南亞國家的區域整合是東南亞國協的主要工作。(B)聯合國在 1989 年 11 月 20 日通過《兒童權利公約》，1990 年 9 月 2 日生效。(C)建立各國貿易爭端解決機制是世界貿易組織的主要工作。(D)促進亞洲經濟與社會發展是亞洲開發銀行的工作。

難易度 中

63. 若根據支出面計算 GDP，則題文中發生的各項政治經濟活動，理論上何者會對柬埔寨該年度的 GDP 上升有直接的影響？

- (A) 1992 年遭國際組織接手管理
- (B) 《諸蕃志》所載的販售活動
- (C) 1953 年脫離法國的獨立運動
- (D) 二十世紀末臺商的經濟行為

答案 (D)

命題出處 公民與社會第四冊第四章：永續發展的經濟課題

測驗目標 了解 GDP 的計算

詳解 一國之內所有最終產品及服務的市場總和，是為 GDP 的計算項目。 $GDP = C + I + G + (X - M)$ ，C 是民間消費支出、I 是投資、G 是政府消費支出、X 是出口、M 是進口、 $(X - M)$ 是淨出口。因此臺商的投資行為屬於 I，算入柬埔寨的 GDP，有助柬埔寨該年度的 GDP 上升。其餘選項內容則無助於 GDP 上升，《諸蕃志》所提到的經濟活動，屬於 GDP 的減項。

難易度 中

64.~66.為題組

◎ 圖 9 是 1848 年至 1849 年歐洲一系列武裝革命運動的分布情形，這波革命運動雖然都以失敗告終，但對歐洲的影響卻極為深遠。請問：



圖 9

64. 歐洲的氣候大致可區分為溫帶海洋性、溫帶地中海型、溫帶大陸性、高地、副極地大陸性、苔原等六個氣候區。1848 年至 1849 年發生的系列武裝革命運動，主要集中於哪兩個氣候區？

- (A) 溫帶海洋性氣候區、高地氣候區
- (B) 溫帶大陸性氣候區、副極地大陸性氣候區
- (C) 溫帶地中海型氣候區、溫帶大陸性氣候區
- (D) 溫帶海洋性氣候區、溫帶地中海型氣候區

答案 (C)

命題出處 地理第三冊：第 11 章 歐洲（一）

測驗目標 能處理與歸納地理資料

詳解 圖中星號除法國巴黎外，多在德國以東，以及南方的義大利，主要是歐洲東部和南部的大陸性氣候和地中海型氣候。

難易度 易

65. 下列歷史事件中何者深受該系列武裝革命運動的影響？

- (A) 宗教改革的風潮向北歐轉移
- (B) 工業革命漸向歐陸各國擴散
- (C) 殖民擴張成為各國首要目標
- (D) 德國、義大利完成國家統一

答案 (D)

命題出處 歷史第四冊第一篇：歐美國家的變革

測驗目標 19世紀歐洲革命風潮的發展與影響

詳解 1848年歐洲發生革命風潮，最著名的是法國的「二月革命」，推翻路易腓力的政府，建立「第二共和」。其他如義大利半島，在1848年1月，西西里爆發反抗國王專制統治的革命，並且制定憲法，隨後引發義大利半島上許多邦國也發動革命，甚至頒布憲法。薩丁尼亞王國也在國王查理亞伯特領導下聯同倫巴底向奧地利帝國宣戰，但最終戰敗，查理亞伯特讓位與兒子伊曼紐二世，之後展開一連串的統一運動。1848年2月在日耳曼地區如慕尼黑、柏林等地也發生革命，要求言論自由與出版自由，之後成立「法蘭克福國民議會」，要求普魯士國王制定憲法、成立議會，商討日耳曼地區的統一。(A)宗教改革發生於16世紀，時間不符。(B)工業革命向歐陸擴散與武裝革命無關。(C)殖民擴張成為首要目標與工業革命的發展較相關。故選(D)。

難易度 難

66. 在這波革命浪潮中，某國因此產生民選元首，且擴大成年男子的選舉權。雖然該國革命最後以失敗告終，但對歐洲的影響卻甚為深遠。請問下列敘述何者最能詮釋該國革命的性質？

- (A)以抗拒君主世襲與專制政治體制為目標的公民不服從
- (B)以建立人民主權與民主共和體制作為目標的抗爭行動
- (C)以推翻資產階級壟斷國家權力利益為目標的勞工革命
- (D)以改變君權、神權和專制共生體制為目標的政治維新

答案 (B)

命題出處 公民與社會第二冊第一章：國家的形成與目的


測驗目標 了解民主革命浪潮興起的目的

詳解 這一波武裝革命運動的目的在於推翻君主專制，並試圖建立民主共和國。而某國在革命浪潮中，產生民選元首，並擴大成年男子的選舉權，顯見是人民主權的實踐。(A)以抗拒君主世襲與專制政治體制為目標，但是採武裝革命，不符合公民不服從的精神。(C)是以推翻君主專制為目標的人民革命。(D)以推翻改變君權、神權和專制共生體制為目標的政治革命。

難易度 中

67.~69. 為題組

◎ 臺灣各地聚落廟宇甚多，規模不一，其門柱均附有對聯，揭示廟宇地點、主祀神及價值規範等相關訊息。照片 1 是四個不同聚落廟宇的立面照，照片下方是該廟大門兩側門柱的對聯，其中照片 1 甲對聯中「鯤鵬」是「傳說中奇大無比的神鳥」；照片 1 乙對聯中「鯤瀛」是「海邊的新家園」之意。請問：



照片 1

67. 哪座廟宇的所在地，早期血緣聚落色彩最為濃厚？

- (A)甲 (B)乙 (C)丙 (D)丁

答案 (D)

命題出處 歷史第一冊第二篇：清朝統治時期

地理第四冊：第 14 章 臺灣的區域特色與發展問題

測驗目標 臺灣廟宇建立與地方開發的關聯性

能處理與歸納地理資料

詳解

歷史詳解：「丁」的對聯表示這座廟宇位於「林厝」，顯示此地早期應該由許多「林」氏移民開發，故早期血緣聚落色彩最為濃厚。

地理詳解：臺灣廟宇的對聯，通常可顯示該廟宇的主神或其特色。4 幅照片中，甲「褒忠」彰顯王權與人民的嘉許，為桃園平鎮褒忠義民廟；乙「聖王」及上聯的「漳邑」表示供奉開漳聖王，此為新北萬里野柳保安宮；丙「大陳島」為隨政府東遷暫奉在高雄茄萣的三山境威武廟；丁「林厝」指血緣關係。此為臺中市西屯區的林厝庄尾福德祠。

難易度 中、易

68. 從廟宇的主祀神判斷，哪座廟宇所在聚落的清代漢移民，主要來自福建漳州府？

- (A)甲 (B)乙
(C)丙 (D)丁

答案 (B)

命題出處 歷史第一冊第二篇：清朝統治時期

測驗目標 主祀神與來臺移民籍貫分布的關聯性

詳解 「乙」的對聯「聖德無私漳邑分靈千歲盛」、「王恩有赫鯤瀛萬家春」。內容提及「漳邑」、「聖王」，可判斷此廟宇為祭祀「開漳聖王」。

難易度 易

69. 歷史傳統上常常將國家概念與王權或天下連結，並強調人民對國家的義務。下列四座廟宇中，哪座廟宇的門柱對聯最能顯示此種傳統的國家與人民關係？

- (A)甲 (B)乙
(C)丙 (D)丁

答案 (A)

命題出處 公民與社會第二冊第一章：國家的形成與目的
歷史第一冊第二篇：清朝統治時期

測驗目標 人民對國家的義務
清治的臺灣廟宇與來臺移民的關聯性

詳解 「甲」的對聯有「褒忠」二字，意在「嘉獎忠良」。林爽文事件後，朝廷為了獎勵幫助平亂的「義民」，對於不同族群予以不同嘉獎用詞，如：客籍獲得「褒忠」匾額，泉州籍獲「旌義」匾額，漳州人獲「思義」村名，原住民則得到了「效順」匾額等。儘管是嘉許「平亂」有功人士，卻也隱藏著清廷對當時臺灣的統治手段，強化人民為國家盡忠及犧牲赴義的義務，故選(A)。「甲」照片為桃園市平鎮區的「褒忠祠」，林爽文事件後，士紳宋廷龍倡建「義民亭」；同治年間，巡撫徐宗幹、劉銘傳則分贈「同心報國」、「赴義捐軀」匾。

難易度 中

70.~72. 為題組

◎ 某人到非洲某地旅行時寫道：「從機場到市區的公路寬闊又平整，公路兩邊麥田、葡萄園、橄欖園到處可見。進入市區後，歐式建築相當普遍，中心區的主幹道兩邊有好多露天咖啡館，我挑個位子坐下，一邊品著中東式的濃咖啡，一邊看有軌電車從眼前叮叮噹噹地駛過，感覺簡直和歐洲毫無分別。不過，這裡的咖啡館幾乎全是男性工作人員與顧客，看不到女性。」請問：

70. 該地區最可能位於哪一自然景觀帶？

- (A) 熱帶莽原景觀帶
- (B) 溫帶常綠林景觀帶
- (C) 溫帶灌木林景觀帶
- (D) 溫帶落葉林景觀帶

答案 (C)

命題出處 地理第四冊：第3章 非洲（一）

測驗目標 能處理與歸納地理資料

詳解 (C)由文中的葡萄、橄欖可知為地中海型氣候區，地中海型氣候的自然景觀為溫帶灌木林。

難易度 易

71. 該地區農業和市區景觀具有濃厚歐洲色彩，主要和哪些國家的殖民經驗有關？

- (A) 英國、荷蘭、義大利
- (B) 荷蘭、德國、西班牙
- (C) 英國、法國、比利時
- (D) 法國、西班牙、義大利

答案 (D)

命題出處 歷史第四冊第二篇：世界霸權的爭奪與衝突

測驗目標 非洲的殖民政權對當地造成的影響

詳解 根據題文的景觀描述：「葡萄園」、「橄欖園」，可判斷為地中海周圍地區，加上當地的文化特徵——中東的濃咖啡、全是男性工作人員與顧客，看不到女性，可證明為具有濃厚伊斯蘭文化的北非地區。曾經殖民北非地區的國家包括羅馬帝國、鄂圖曼土耳其帝國，近代則有法國、西班牙，二戰期間曾經遭義大利占領。荷蘭、比利時則未曾占領北非為殖民地。故選(D)。

難易度 難

72. 根據遊記中描述的咖啡館圖像，下列敘述何者最能說明其背後隱含的性別化意涵？

- (A) 女子從父、從夫的性別角色行為
- (B) 女子無才便是德的性別角色期待
- (C) 男主外、女主內的性別角色分工
- (D) 男陽剛、女陰柔的性別角色氣質

答案 (C)

命題出處 公民與社會第一冊第二章：人己關係與分際

測驗目標 了解性別角色的意涵

詳解 選文提到「咖啡館幾乎全是男性工作人員與顧客，看不到女性」，顯見該地具有在外工作者為男性的社會角色與分工，與(A)(B)(D)無關。

難易度 易



翰林社會科 命中學測看得見！

107學測 第52題

52-53 為題組

◎ 照片 4 甲是臺灣某地公廨改建的「太上龍頭忠義廟」；照片 4 乙是該廟的內部。祭壇供桌上有香爐、供花、長年燈和五個包裹紅色綢布的祀壺等，兩側還有稱為向缸的大水缸。請問：



照片 4

52. 「祭壇供桌上的祀壺和兩側的向缸」，和下列何者關係最密切？
- (A)客家移民崇祀三山國王
 - (B)平埔族群信仰的阿立祖
 - (C)科舉考生祭拜文昌帝君
 - (D)沿海漁村供奉媽祖娘娘



翰林《魔力學測講義·歷史》第16頁，第19題

19. 臺灣某一原住民，選在農曆 9 月某一日舉行夜祭，祭拜的對象是阿立祖，在公廨供奉內盛清水，外插甘蔗葉的壺甕，後面插上掛有豬頭殼的竹柱，這是哪一族的祖先崇拜儀式？
- (A)鄒族 (B)凱達格蘭族 (C)西拉雅族 (D)洪雅族。

107學測 第10題

10. 國健署 2017 年宣布對免稅菸品課徵每包 20 元的健康福利捐，主要目的之一是為了進一步降低菸害帶來的外部性。下列各項針對特定族群的政府政策中，哪一項的政策效果與前述政策最相似？
- (A)設置不分區立委的婦女保障名額
 - (B)每周提供國小學童飲用免費牛奶
 - (C)免費提供身心障礙人士復康巴士
 - (D)免費提供高齡國民施打流感疫苗



翰林《魔力學測講義·公民》第246頁，第2題

2. 國人施打 H1N1 疫苗者，若達人口總數三成以上，將可形成有效防疫網，從經濟學的外部性來討論，與下列何事件的外部性最相似？
- (A)不抽菸者，被迫吸二手菸
 - (B)公園種植花草，附近居民享有美麗花海
 - (C)沿海養殖漁業超抽地下水，造成地層下陷
 - (D)工廠製造的汙染，影響附近居民的生活品質。

翰林輔材 年年命中！



魔力複習講義

中等程度

科目：地理、歷史、公民

必選特色

- 重點統整化，融會學測考點
- 知識圖解化，概念清楚易懂
- 試題優質化，貼合學測趨勢

107學測 第43題

43. 中國的沙塵暴主要發生在北方地區，其中南疆盆地、青海西南部、西藏西部及內蒙古中西部和甘肅中北部是沙塵暴的多發區，以春季發生的頻率最高。據統計，沙塵暴捲起的沙塵，80%往日韓方向傳送，最遠到達美國；約 20%往東南傳送到華南，甚至到達臺灣。「沙塵暴捲起的沙塵，80%往日韓方向傳送，最遠到達美國。」此現象和沙塵暴哪特性關係最密切？

- (A) 沙塵暴多發區均位於西風帶中
- (B) 不合理的土地開發導致沙塵暴頻率增高
- (C) 造成沙塵暴的最大主因是土地沙漠化不斷擴張
- (D) 春季乾旱少雨，氣溫升高，冷空氣活躍，是沙塵暴活躍的主因

命中

翰林《魔力學測講義·地理》第335頁

近年全球環境變遷，中國西北土地沙漠化情況嚴重，致使臺灣每逢冬春之交，常見沙塵暴災害。臺灣近年在颱風來臨前或東北季風盛行期間，也常出現地區性的沙塵事件。請問：

- (1) 中國西北土地沙漠化的原因，可能與下列哪一種情形關係「較不密切」？ (A)氣候長期乾旱缺水 (B)長期灌溉土壤鹽化 (C)開闢道路交通網絡 (D)擴大牲畜放牧範圍。
- (2) 上述臺灣的地區性沙塵事件，最可能發生在何種環境？ (A)平原耕地 (B)山區茶園 (C)河口灘地 (D)沼澤溼地。