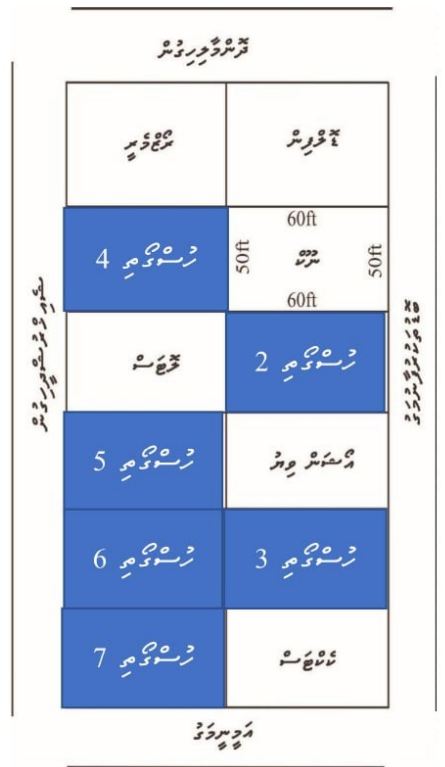


مقطع 1

- كذا هي المساحة المخصصة للمركز في هذا الموقع.  
كما هي مرسومة في المخطط.




مقطع 2

- كذا هي المساحة المخصصة للمركز في هذا الموقع.  
كما هي مرسومة في المخطط.



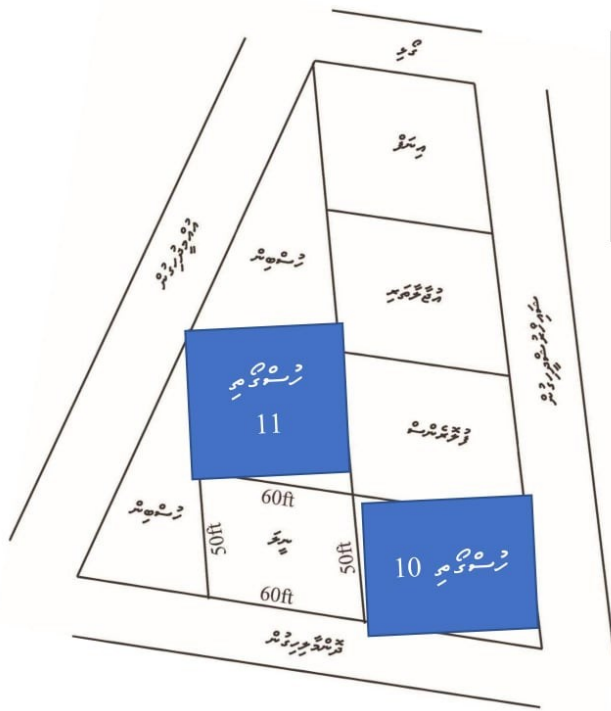


مخطط 3



- كذا هو المساحة المقترحة للبناء، والارتفاع المقترح، والمساحة المقترحة للبناء، والمساحة المقترحة للبناء، والمساحة المقترحة للبناء، والمساحة المقترحة للبناء.

مخطط 4



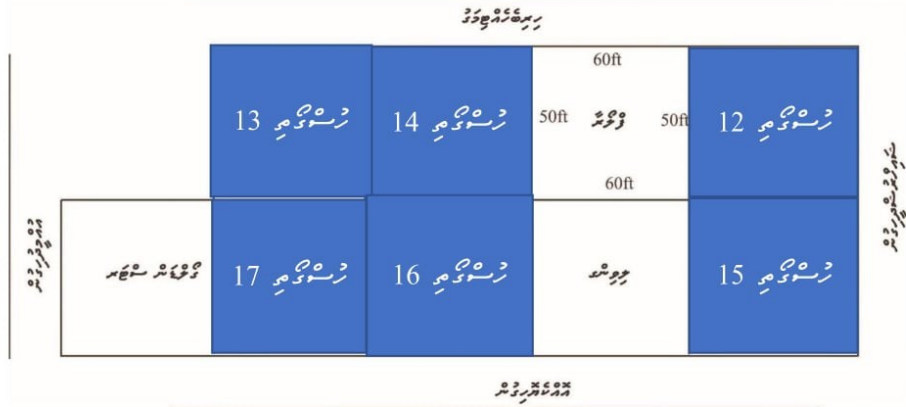
- كذا هو المساحة المقترحة للبناء، والمساحة المقترحة للبناء، والمساحة المقترحة للبناء، والمساحة المقترحة للبناء، والمساحة المقترحة للبناء.





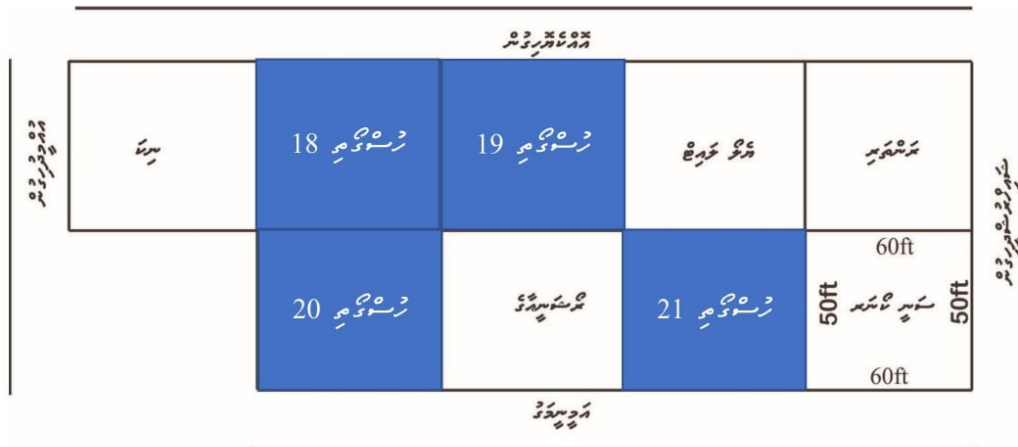
مقطع 5

- في كل وحدة من الوحدات المرسومة، المبنية على مساحة 600 متر مربع.



مقطع 6

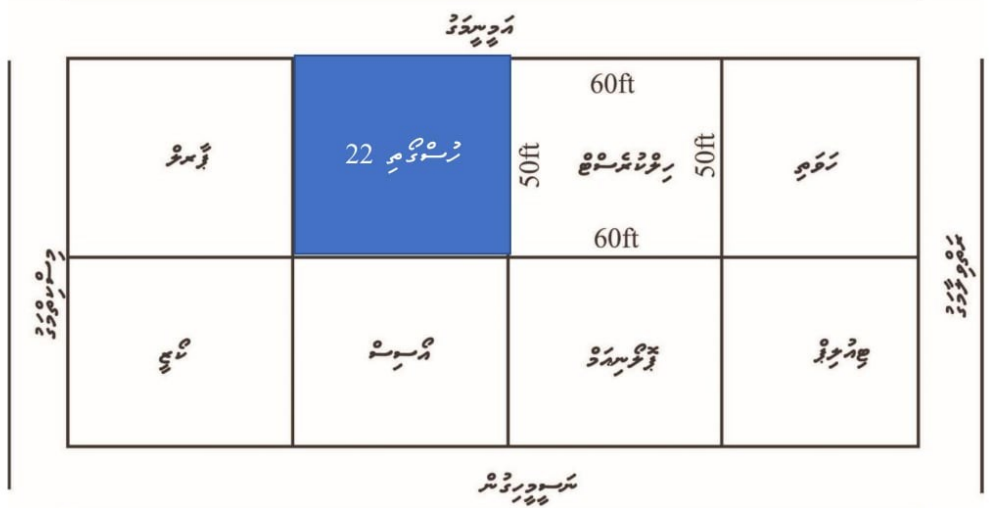
- في كل وحدة من الوحدات المرسومة، المبنية على مساحة 600 متر مربع.





រូបភាព 7

- ក្នុងករណីដែលសិស្សមានចំណេះដឹងមិនគ្រប់គ្រាន់ គ្រូអាចប្រើប្រាស់សំណុំសំណួរខាងក្រោមនេះបាន។



រូបភាព 8

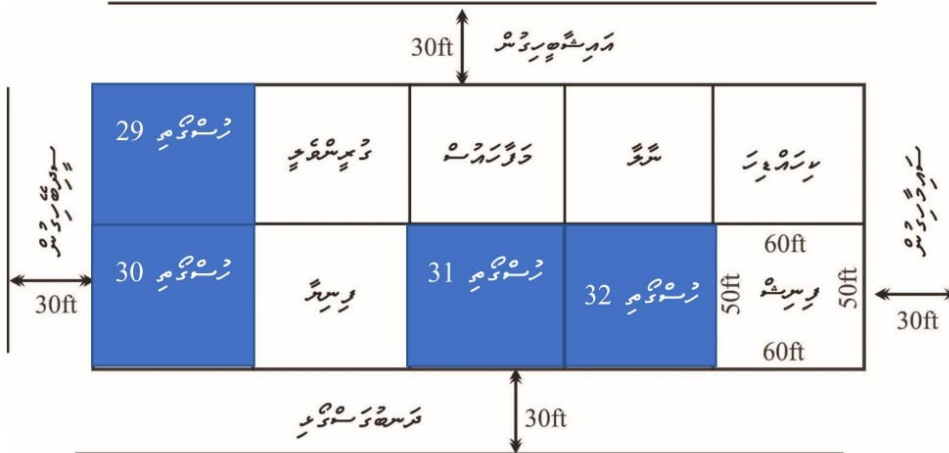
- ក្នុងករណីដែលសិស្សមានចំណេះដឹងគ្រប់គ្រាន់ គ្រូអាចប្រើប្រាស់សំណុំសំណួរខាងក្រោមនេះបាន។





### مخطط 9

يُمنح امتياز للمصنفين الكلايين لإحداث شبكة مياه كلاء، كمرحلة ثانية من خطة تطوير شبكة مياه كلاء.



### مخطط 10

يُمنح امتياز للمصنفين الكلايين لإحداث شبكة مياه كلاء، كمرحلة ثالثة من خطة تطوير شبكة مياه كلاء.

