

فنانی نارودھاما کی فیس (تعمیراتی و بحالی کے لیے) (تعمیراتی و بحالی کے لیے)

Fannai Narudhamaa Overall Receivable

	Months	Sq Feet	Base Range Per sqft	Range, for the bidder to provide
Yr 1	12	22960	1.00	
Yr 2	12	22960	1.00	
Yr 3	12	22960	1.50	
Yr 4	12	22960	1.50	
Yr 5	12	22960	1.50	
Yr 6	12	22960	2.00	
Yr 7	12	22960	2.00	
Yr 8	12	22960	2.00	
Yr 9	12	22960	2.00	
Yr 10	12	22960	2.00	
Yr 11	12	22960	2.00	
Yr 12	12	22960	2.00	
Yr 13	12	22960	2.00	
Yr 14	12	22960	2.00	
Yr 15	12	22960	2.00	

Yr 16	12	22960	2.50	
Yr 17	12	22960	2.50	
Yr 18	12	22960	2.50	
Yr 19	12	22960	2.50	
Yr 20	12	22960	2.50	
Last 30 yrs	360	22960	3.00	
Total:				

سوال نمبر 4- وہ ترقی پزیر خواتین کی تعلیمی سطح کی وضاحت کریں اور اس کی وجہ سے ان کی زندگی میں کیا تبدیلیاں آئی ہیں۔

تعلیمی سطح کی وجہ سے خواتین کی زندگی میں بہتری آئی ہے اور وہ تعلیمی سطح کی وجہ سے بہتر زندگی گزار رہی ہیں۔ تعلیمی سطح کی وجہ سے خواتین کی زندگی میں بہتری آئی ہے اور وہ تعلیمی سطح کی وجہ سے بہتر زندگی گزار رہی ہیں۔

(خواتین کی تعلیمی سطح کی وجہ سے ان کی زندگی میں بہتری آئی ہے اور وہ تعلیمی سطح کی وجہ سے بہتر زندگی گزار رہی ہیں۔)

<p>تعلیمی سطح کی وجہ سے خواتین کی زندگی میں بہتری آئی ہے اور وہ تعلیمی سطح کی وجہ سے بہتر زندگی گزار رہی ہیں۔</p>
<p>خواتین کی تعلیمی سطح کی وجہ سے ان کی زندگی میں بہتری آئی ہے اور وہ تعلیمی سطح کی وجہ سے بہتر زندگی گزار رہی ہیں۔</p>

رئیس: 3

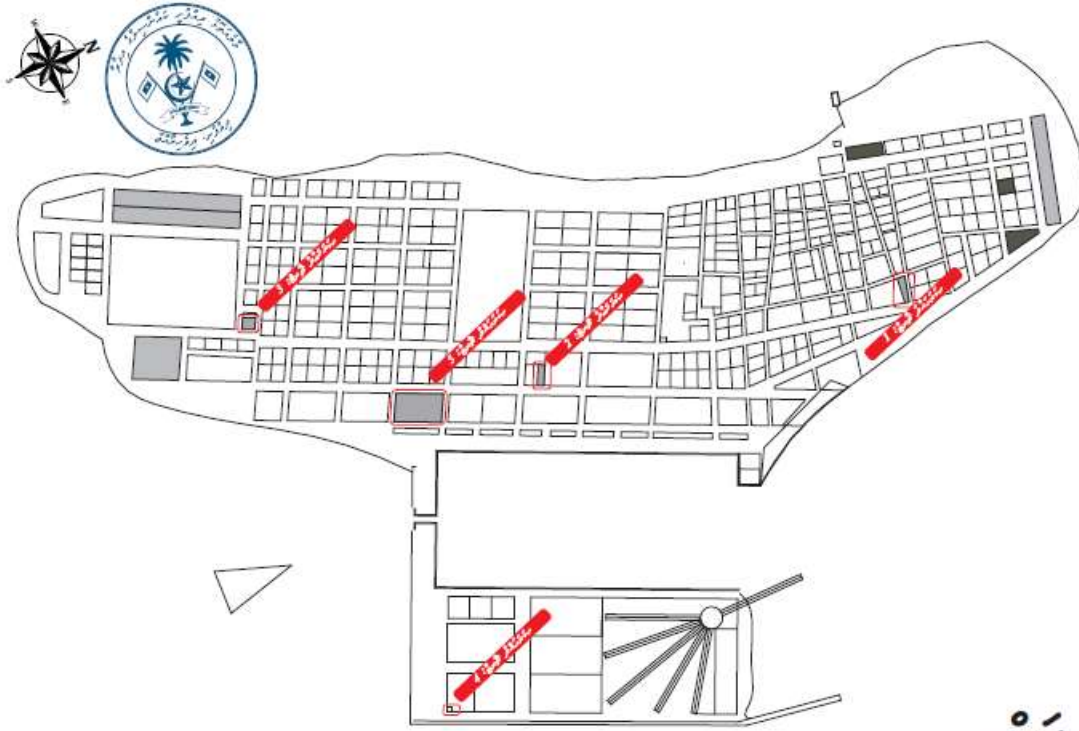
- درگیری بر وجهی که در سطحی دیگر و در صورتی که در سطحی دیگر
- در سطحی دیگر و در صورتی که در سطحی دیگر

زیر عنوان: 4:

- کوئی بھی چیز کو دیکھ کر نہ کہیں

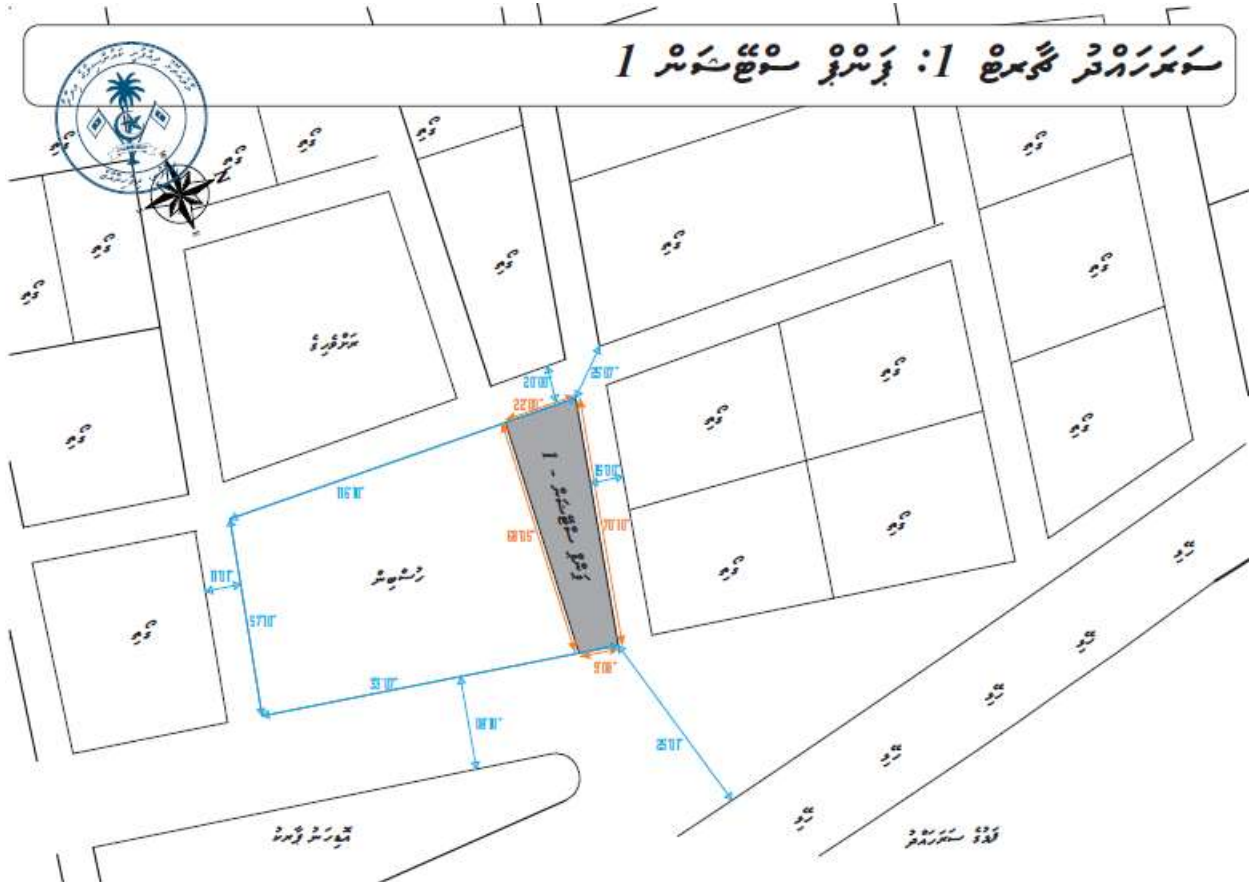
رئیس روستو: 5

مردی و مومرچ موز:

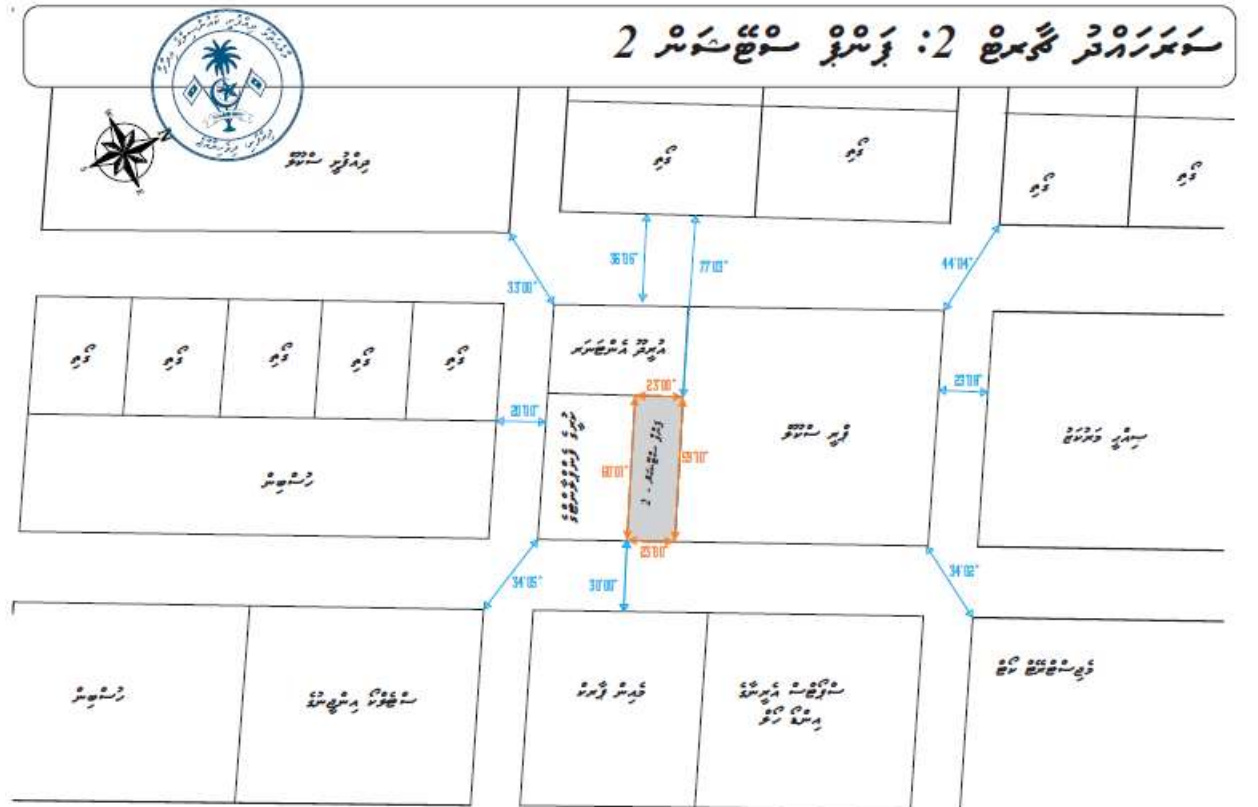


رئیس روستو
مردی و مومرچ موز

سکسز رزقز گز سز 1: رزقز سز سز 1

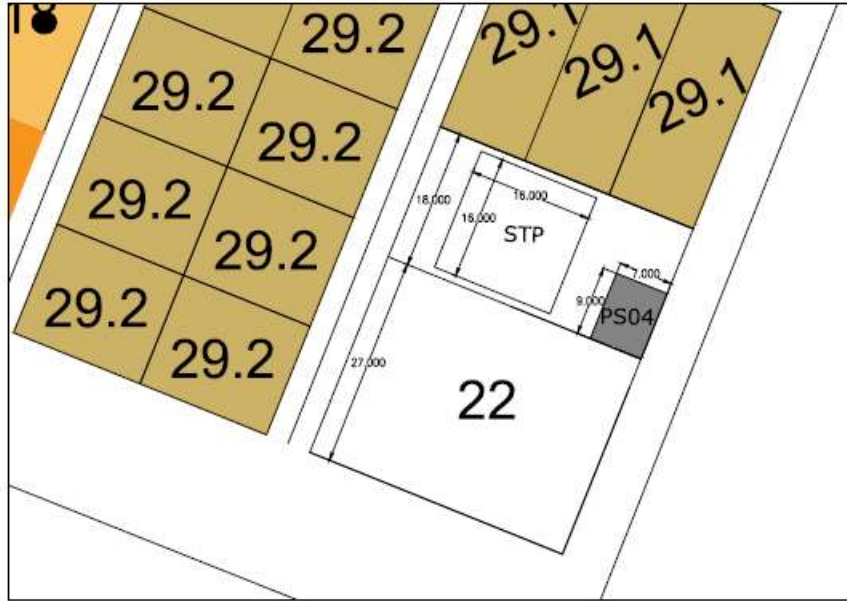


سکسز رزقز گز سز 2: رزقز سز سز 2

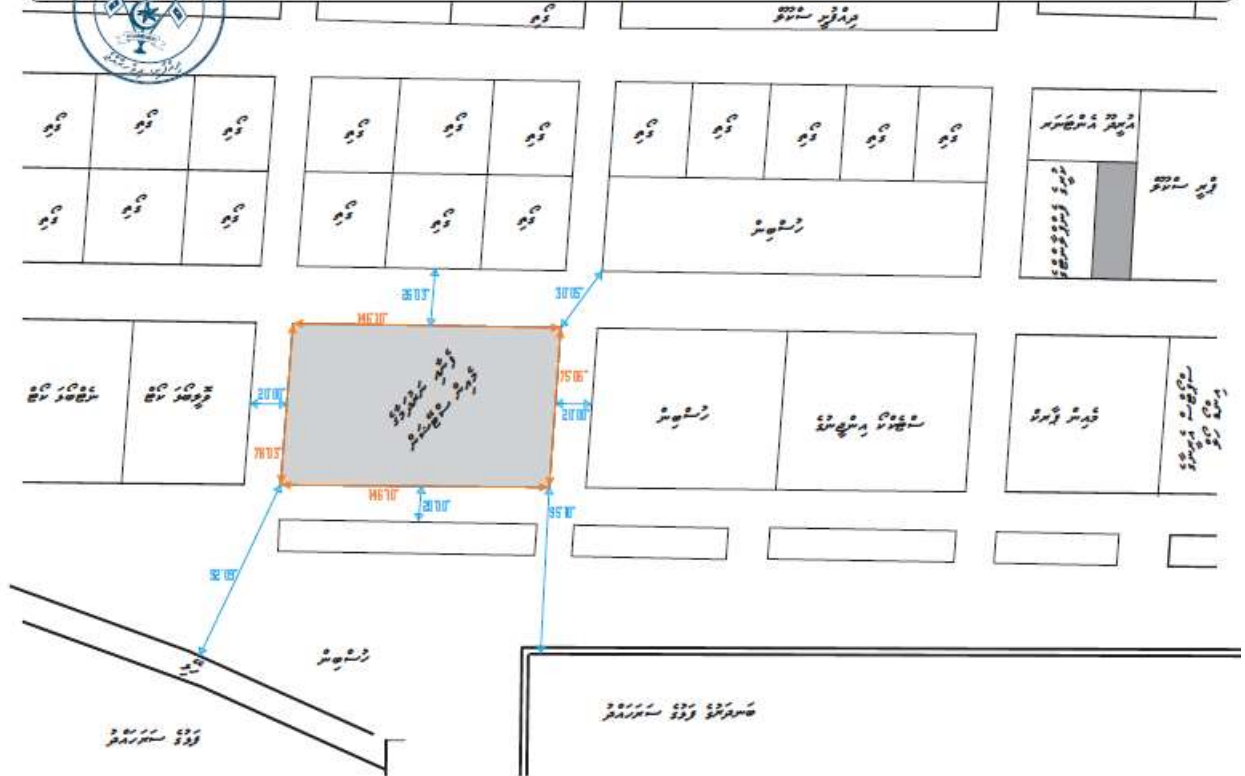




پراجیکٹ نمبر 4 کے لیے ڈیٹا کی تصدیق اور تصدیق شدہ نقشہ



پراجیکٹ نمبر 5: ڈیٹا کی تصدیق اور تصدیق شدہ نقشہ



پراجیکٹ نمبر 5 کے لیے ڈیٹا کی تصدیق اور تصدیق شدہ نقشہ

پراجیکٹ نمبر 5 کے لیے ڈیٹا کی تصدیق اور تصدیق شدہ نقشہ

