

- 2.10. عمارت کی تعمیر کے لیے سائٹ پر موجود تمام عمارتوں کو ہٹانے اور سائٹ کو تیار کرانے کے لیے 40 لاکھ روپے کی رقم کی ضرورت ہے۔
- 2.11. عمارت کی تعمیر کے لیے سائٹ پر موجود تمام عمارتوں کو ہٹانے اور سائٹ کو تیار کرانے کے لیے 2 لاکھ روپے کی رقم کی ضرورت ہے۔

2.12. پیج 5 - جدول

#	محلہ	میں سائٹ	میں سائٹ
1	1	47x47	40
2	2	47x47	215

2.13. عمارت کی تعمیر کے لیے سائٹ پر موجود تمام عمارتوں کو ہٹانے اور سائٹ کو تیار کرانے کے لیے 40 لاکھ روپے کی رقم کی ضرورت ہے۔

2.14. عمارت کی تعمیر کے لیے سائٹ پر موجود تمام عمارتوں کو ہٹانے اور سائٹ کو تیار کرانے کے لیے 40 لاکھ روپے کی رقم کی ضرورت ہے۔

2.15. عمارت کی تعمیر کے لیے سائٹ پر موجود تمام عمارتوں کو ہٹانے اور سائٹ کو تیار کرانے کے لیے 40 لاکھ روپے کی رقم کی ضرورت ہے۔

2.16. عمارت کی تعمیر کے لیے سائٹ پر موجود تمام عمارتوں کو ہٹانے اور سائٹ کو تیار کرانے کے لیے 40 لاکھ روپے کی رقم کی ضرورت ہے۔

3. معماری منصوبہ:

3.1. عمارت کی تعمیر کے لیے سائٹ پر موجود تمام عمارتوں کو ہٹانے اور سائٹ کو تیار کرانے کے لیے 40 لاکھ روپے کی رقم کی ضرورت ہے۔

4. خریداری:

4.1. عمارت کی تعمیر کے لیے سائٹ پر موجود تمام عمارتوں کو ہٹانے اور سائٹ کو تیار کرانے کے لیے 40 لاکھ روپے کی رقم کی ضرورت ہے۔

4.2. عمارت کی تعمیر کے لیے سائٹ پر موجود تمام عمارتوں کو ہٹانے اور سائٹ کو تیار کرانے کے لیے 40 لاکھ روپے کی رقم کی ضرورت ہے۔

4.3. عمارت کی تعمیر کے لیے سائٹ پر موجود تمام عمارتوں کو ہٹانے اور سائٹ کو تیار کرانے کے لیے 40 لاکھ روپے کی رقم کی ضرورت ہے۔

ii. انحصار (2 درصد)

iii. قسمة (1 درصد)

iv. تفریق (2 درصد)

v. جمع (2 درصد)

vi. ضرب (1 درصد)

vii. یکنواختی (1 درصد)

b. فرمولهای ریاضی (5 درصد)

2. پرسشهای محاسباتی عددی

a. عددی (1 درصد)

b. عددی ساده (1 درصد)

c. عددی دشوار (1 درصد)

موضوع

(1) محاسبه ارزش ریاضی پرسشهای محاسباتی ریاضی در آزمون ورودی دانشگاه تهران (10 درصد نمره).
در آزمون ورودی دانشگاه تهران، پرسشهای محاسباتی ریاضی (2 درصد نمره) از جمله موارد زیر است: (10 درصد نمره).

7.2. 2. (ع)

2. در آزمون ورودی دانشگاه تهران، پرسشهای محاسباتی ریاضی (2 درصد نمره) از جمله موارد زیر است: (10 درصد نمره).

70 درصد	• زمره های ریاضی
20 درصد	• جمع
10 درصد	• موضوع
100 درصد	• جمع

زمره های ریاضی

(1) آزمون ریاضی پرسشهای محاسباتی ریاضی (70 درصد نمره) از جمله موارد زیر است: (10 درصد نمره).
در آزمون ورودی دانشگاه تهران، پرسشهای محاسباتی ریاضی (2 درصد نمره) از جمله موارد زیر است: (10 درصد نمره).

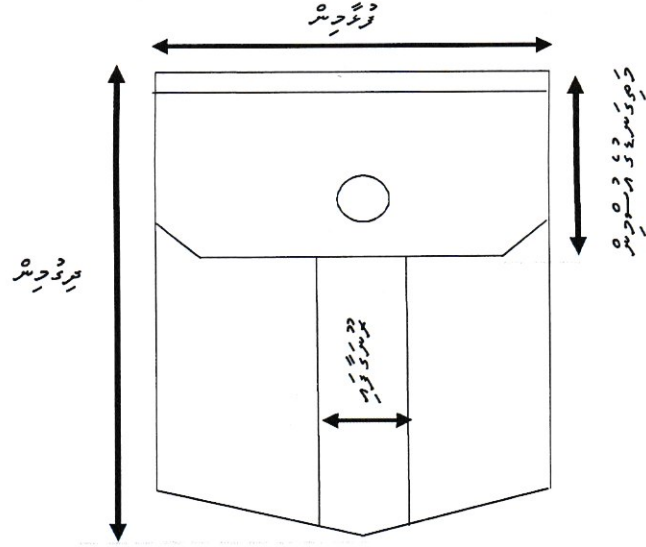
$$\frac{\text{زمره های ریاضی}}{\text{زمره های ریاضی}} \times 70$$

موضوع

(1) موضوع آزمون 20 درصد نمره از جمله موارد زیر است: (10 درصد نمره).

a. عددی (1 درصد)

1 مَعْرُوفٌ



سکس مری سیکس
Small Size

- کوریزو 14.5 cm
- سیکس مری کوریزو 15.5 cm
- سیکس کوری کوریزو 6 cm

Medium Size

- کوریزو 15 cm
- سیکس مری کوریزو 16.5 cm
- سیکس کوری کوریزو 6 cm

Large Size

- کوریزو 15.5 cm
- سیکس مری کوریزو 17 cm
- سیکس کوری کوریزو 6 cm

سکس مری سیکس
Small Size

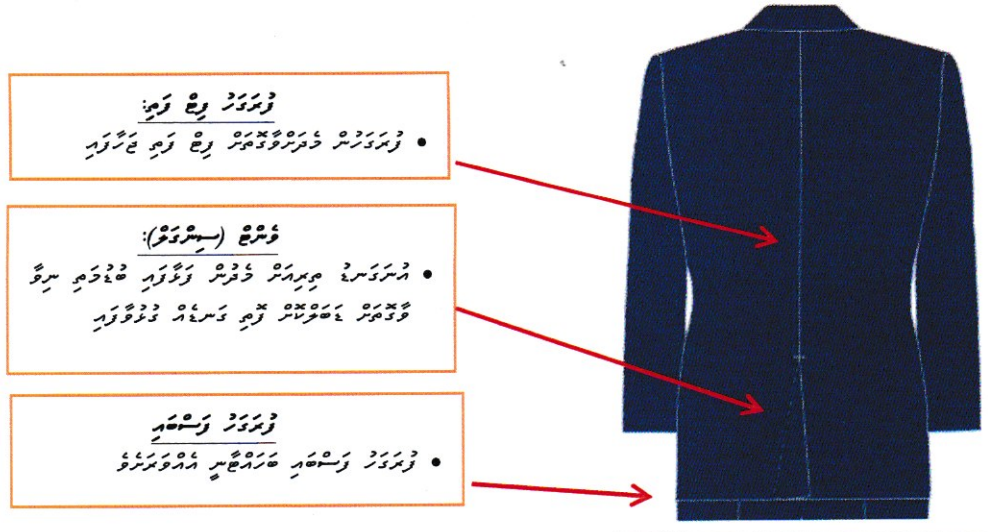
- سیکس کوریزو 10.5 cm
- سیکس مری کوریزو 12.5 cm
- سیکس کوری کوریزو 5.5 cm

Medium Size

- کوریزو 11 cm
- سیکس مری کوریزو 13 cm
- سیکس کوری کوریزو 5.5 cm

Large Size

- کوریزو 11.5 cm
- سیکس مری کوریزو 13.5 cm
- سیکس کوری کوریزو 5.5 cm



1.1. ئىسپات:

- 1.1.1. ئىسپاتنىڭ ئىسپاتى ئىسپات ئىسپاتى.
- 1.1.2. ئىسپاتنىڭ ئىسپاتى ئىسپات ئىسپاتى ئىسپاتى ئىسپاتى ئىسپاتى.
- 1.1.3. ئىسپاتنىڭ ئىسپاتى ئىسپات ئىسپاتى ئىسپاتى ئىسپاتى.

1.2. ئىسپات:

- 1.2.1. ئىسپاتنىڭ ئىسپاتى ئىسپات ئىسپاتى ئىسپاتى ئىسپاتى.
- 1.2.2. ئىسپاتنىڭ ئىسپاتى ئىسپات ئىسپاتى ئىسپاتى ئىسپاتى.
- 1.2.3. ئىسپاتنىڭ ئىسپاتى ئىسپات ئىسپاتى ئىسپاتى ئىسپاتى.
- 1.2.4. ئىسپاتنىڭ ئىسپاتى ئىسپات ئىسپاتى ئىسپاتى ئىسپاتى.

1.3. ئىسپات:

- 1.3.1. ئىسپاتنىڭ ئىسپاتى ئىسپات ئىسپاتى ئىسپاتى ئىسپاتى 17.5 cm ئىسپاتى ئىسپاتى ئىسپاتى ئىسپاتى.
- 1.3.2. ئىسپاتنىڭ ئىسپاتى ئىسپات ئىسپاتى ئىسپاتى ئىسپاتى 3cm ئىسپاتى ئىسپاتى ئىسپاتى ئىسپاتى.
- 1.3.3. ئىسپاتنىڭ ئىسپاتى ئىسپات ئىسپاتى ئىسپاتى ئىسپاتى ئىسپاتى ئىسپاتى ئىسپاتى ئىسپاتى.
- 1.3.4. ئىسپاتنىڭ ئىسپاتى ئىسپات ئىسپاتى ئىسپاتى ئىسپاتى ئىسپاتى ئىسپاتى ئىسپاتى.
- 1.3.5. ئىسپاتنىڭ ئىسپاتى ئىسپات ئىسپاتى ئىسپاتى ئىسپاتى ئىسپاتى ئىسپاتى.



1.4. ඉහළ පෙළ:

- 1.4.1. ඉහළ පෙළේ ඉහළම මට්ටමේ දැනට පවතින පාලකයන් 6cm ක් දුරින්.
- 1.4.2. ඉහළ පෙළේ දැනට පවතින පාලකයන් 3cm ක් දුරින්.
- 1.4.3. ඉහළ පෙළේ දැනට පවතින පාලකයන් (පාලකයන්ගේ සංඛ්‍යාව සහ පාලකයන්ගේ අවධානය) පරිපූර්ණ.
- 1.4.4. ඉහළ පෙළේ දැනට පවතින පාලකයන් 6cm දුරින්.
- 1.4.5. ඉහළ පෙළේ දැනට පවතින පාලකයන් 6cm දුරින්.

1.5. මධ්‍යම පෙළ:

- 1.5.1. මධ්‍යම පෙළේ ඉහළම මට්ටමේ දැනට පවතින පාලකයන් 6cm ක් දුරින්.
- 1.5.2. මධ්‍යම පෙළේ දැනට පවතින පාලකයන් 0.5 cm ක් දුරින්.

1.6. පහළ පෙළ:

- 1.6.1. පහළ පෙළේ ඉහළම මට්ටමේ දැනට පවතින පාලකයන්.
- 1.6.2. පහළ පෙළේ ඉහළම මට්ටමේ දැනට පවතින පාලකයන් (පාලකයන්ගේ සංඛ්‍යාව සහ පාලකයන්ගේ අවධානය) 3 (පහළ පෙළ) දුරින්.

1.7. පහළ පෙළ:

- 1.7.1. පහළ පෙළේ ඉහළම මට්ටමේ දැනට පවතින පාලකයන් 3 (පහළ පෙළ) දුරින්.
- 1.7.2. පහළ පෙළේ ඉහළම මට්ටමේ දැනට පවතින පාලකයන් (පාලකයන්ගේ සංඛ්‍යාව සහ පාලකයන්ගේ අවධානය) 3 (පහළ පෙළ) දුරින්.
- 1.7.3. පහළ පෙළේ ඉහළම මට්ටමේ දැනට පවතින පාලකයන් 6cm ක් දුරින්.
- 1.7.4. පහළ පෙළේ ඉහළම මට්ටමේ දැනට පවතින පාලකයන් 6cm ක් දුරින්.

1.8. පහළ පෙළ:

- 1.8.1. පහළ පෙළේ ඉහළම මට්ටමේ දැනට පවතින පාලකයන්.

1.9. පහළ පෙළ:

- 1.9.1. පහළ පෙළේ ඉහළම මට්ටමේ දැනට පවතින පාලකයන් 6cm ක් දුරින්.

1.10. පහළ පෙළ:

- පහළ පෙළේ ඉහළම මට්ටමේ දැනට පවතින පාලකයන් 23 cm ක් දුරින්.
- පහළ පෙළේ ඉහළම මට්ටමේ දැනට පවතින පාලකයන් (පාලකයන්ගේ සංඛ්‍යාව සහ පාලකයන්ගේ අවධානය) පරිපූර්ණ.



1.11. لکچر ۱۰۰۰ ۱۰۰۰

- 1.11.1. ۱۰۰۰ ۱۰۰۰ ۱۰۰۰ ۱۰۰۰ ۱۰۰۰ ۱۰۰۰ ۱۰۰۰ ۱۰۰۰ ۱۰۰۰ ۱۰۰۰
- 1.11.2. ۱۰۰۰ ۱۰۰۰ ۱۰۰۰ ۱۰۰۰ ۱۰۰۰ ۱۰۰۰ ۱۰۰۰ ۱۰۰۰ ۱۰۰۰ ۱۰۰۰


1.12. ۱۰۰۰ ۱۰۰۰ ۱۰۰۰

- 1.12.1. ۱۰۰۰ ۱۰۰۰ ۱۰۰۰ ۱۰۰۰ ۱۰۰۰ ۱۰۰۰ ۱۰۰۰ ۱۰۰۰ ۱۰۰۰ ۱۰۰۰

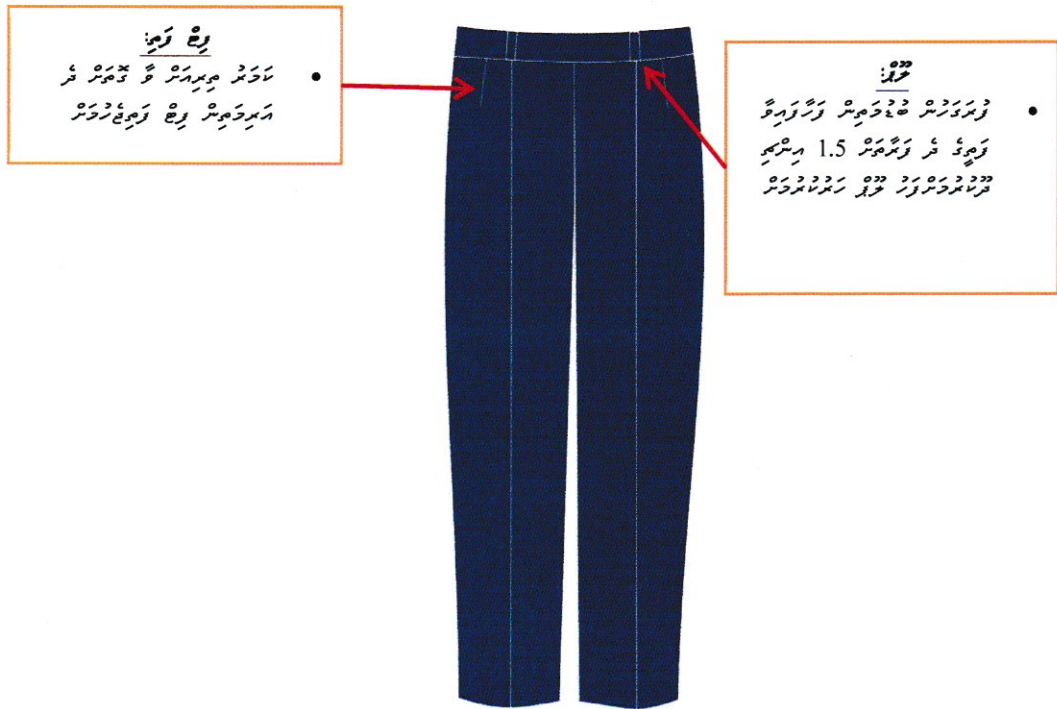
1.13. لکچر ۱۰۰۰ ۱۰۰۰

- 1.13.1. ۱۰۰۰ ۱۰۰۰ ۱۰۰۰ ۱۰۰۰ ۱۰۰۰ ۱۰۰۰ ۱۰۰۰ ۱۰۰۰ ۱۰۰۰ ۱۰۰۰

تېمپورال ۋېب سائىت سىستېمىسى 1 (ۋېب سائىت ۋېب سائىت - تېمپورال)

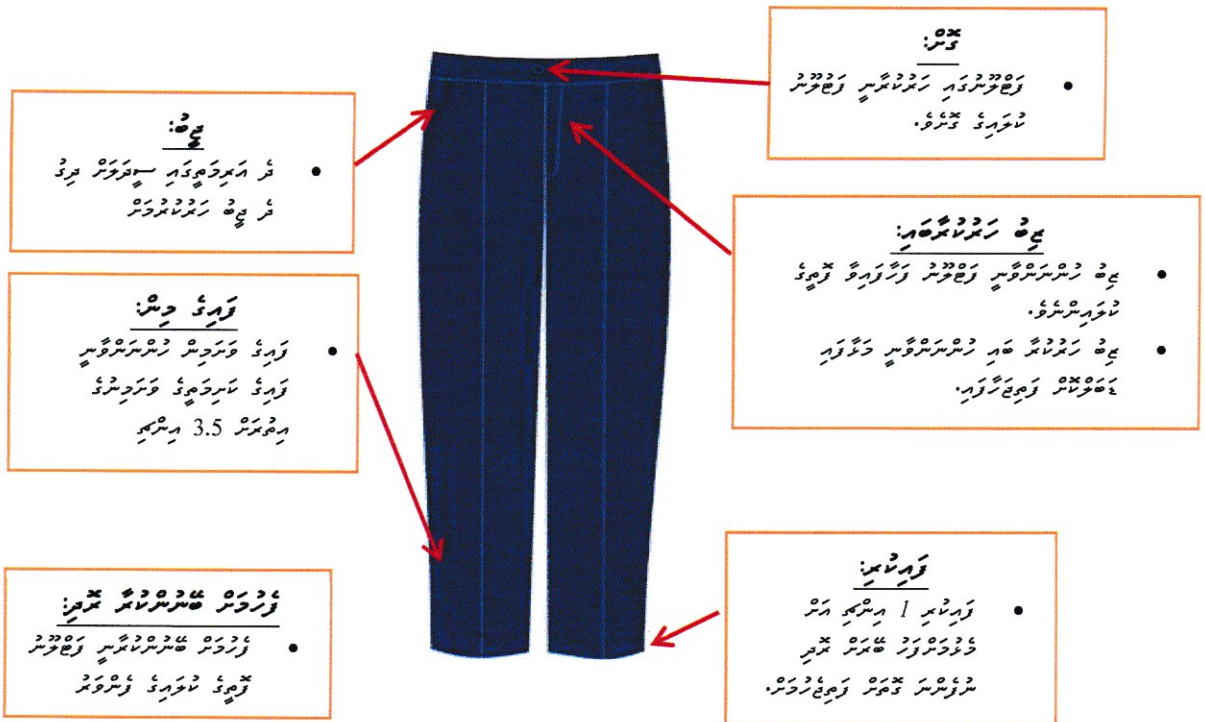


تېمپورال ۋېب سائىت سىستېمىسى 1 (ۋېب سائىت ۋېب سائىت - ۋېب سائىت)



Handwritten signature or mark in blue ink.

سلیکشن گائیڈ پرسونل 1 (ایئر لائن / ٹیکسٹائل)



ٺاهڻ جو ڪارڊ 1 (ٺاهڻ جو ڪارڊ / ڪوٺڻ جو ڪارڊ)

ٺاهڻ جو ڪارڊ / ڪوٺڻ جو ڪارڊ:

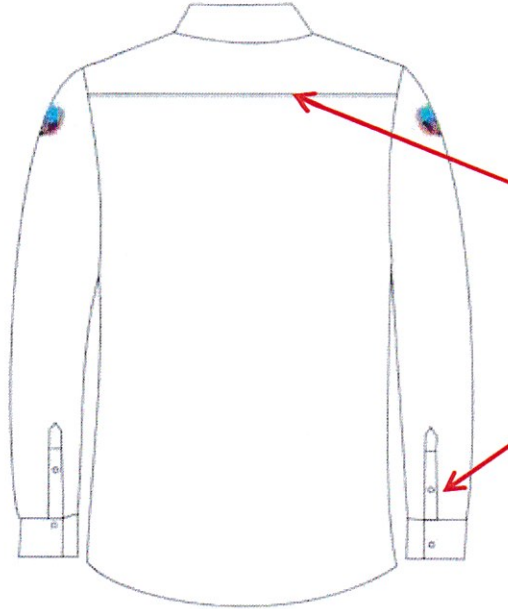
- ٺاهڻ جو ڪارڊ 1.5 ڀاڱو ٺاهڻ جو ڪارڊ ڏيکارڻ



ٺاهڻ جو ڪارڊ:

- ٺاهڻ جو ڪارڊ 1.5 ڀاڱو ٺاهڻ جو ڪارڊ ڏيکارڻ

پروگرام ۲ (پروگرام / پروگرام)



پروگرام

- پروگرام پروگرام پروگرام
- پروگرام پروگرام پروگرام

پروگرام

- پروگرام ۲ پروگرام پروگرام
- پروگرام پروگرام پروگرام



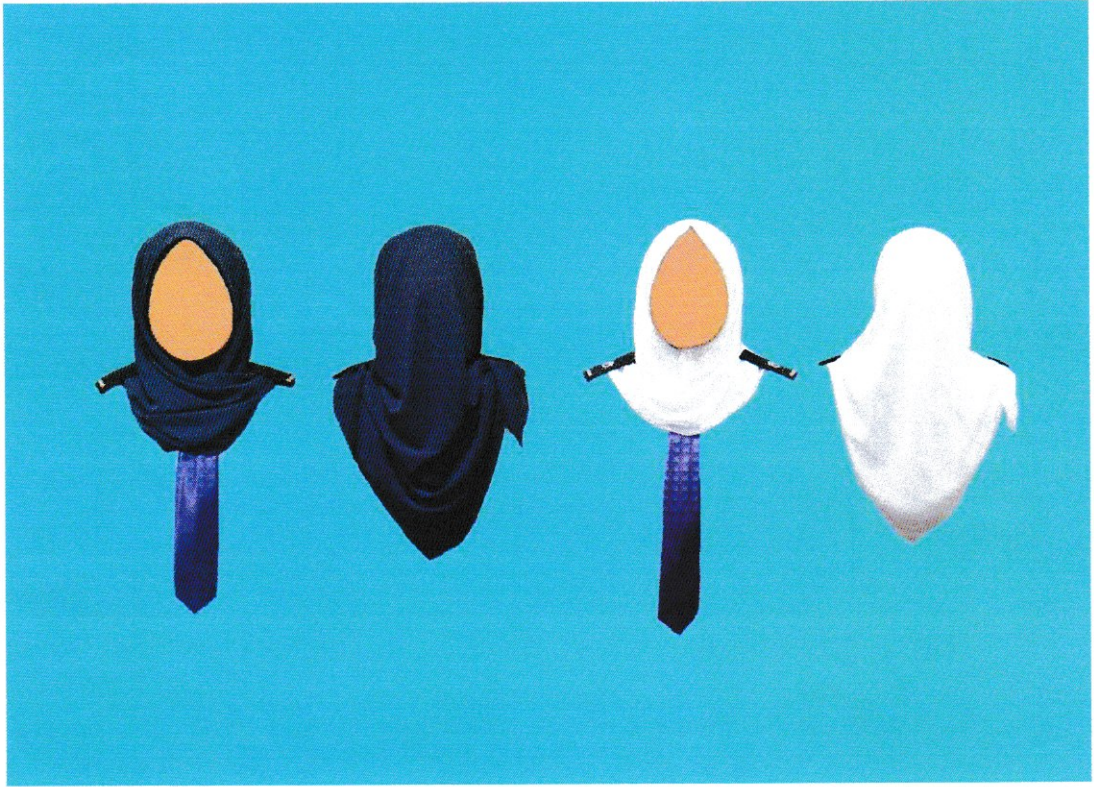
بَعْدَ تَرْوَعِهِ 2

بَعْدُ نَحْنُ 3

گورجی و سہجی و سہجی / ایسٹریٹو ڈیزائن سہجی سہجی

سہجی سہجی ایسٹریٹو ڈیزائن سہجی سہجی

سہجی سہجی ایسٹریٹو ڈیزائن سہجی سہجی 1 ایسٹریٹو ڈیزائن سہجی سہجی



سہجی سہجی 1

سہجی سہجی 2

1 سہجی سہجی ایسٹریٹو ڈیزائن سہجی سہجی 1 ایسٹریٹو ڈیزائن سہجی سہجی

2 سہجی سہجی ایسٹریٹو ڈیزائن سہجی سہجی 2 ایسٹریٹو ڈیزائن سہجی سہجی

3 سہجی سہجی ایسٹریٹو ڈیزائن سہجی سہجی 3 ایسٹریٹو ڈیزائن سہجی سہجی

4 سہجی سہجی ایسٹریٹو ڈیزائن سہجی سہجی 4 ایسٹریٹو ڈیزائن سہجی سہجی