





ދިވެހިރާއްޖޭގެ ޖުމްހޫރީ ޖިނީވަރުސިޓީ  
ދަލު، ދިވެހިރާއްޖެ

**މަތީ ވަނަ ބަނޑު**

2022 ޖުލައި 17 : ޖަލްސާ : MNU-CA-PAMD/2022/054 : ޖަލްސާ ދުވަހުގެ ތަދަދު

10:00 : ޖަލްސާ : 2022 ޖުލައި 21 : ޖަލްސާ ދުވަހުގެ ތަދަދު

ޖުލައި 21 ގައި ފަތުރުވެރިންގެ ސަލާމަތު ބޭނުންކުރުމަށް ޖަލްސާ ދުވަހުގެ ތަދަދު

10:00 : ޖަލްސާ : 2022 ޖުލައި 25 : ޖަލްސާ ދުވަހުގެ ތަދަދު

ޖުލައި 25 ގައި ފަތުރުވެރިންގެ ސަލާމަތު ބޭނުންކުރުމަށް ޖަލްސާ ދުވަހުގެ ތަދަދު  
ޖުލައި 25 ގައި ފަތުރުވެރިންގެ ސަލާމަތު ބޭނުންކުރުމަށް ޖަލްސާ ދުވަހުގެ ތަދަދު

1. ޖަލްސާ ދުވަހުގެ ތަދަދު ފަތުރުވެރިންގެ ސަލާމަތު ބޭނުންކުރުމަށް ޖަލްސާ ދުވަހުގެ ތަދަދު ޖަލްސާ ދުވަހުގެ ތަދަދު ޖަލްސާ ދުވަހުގެ ތަދަދު
2. ޖަލްސާ ދުވަހުގެ ތަދަދު ޖަލްސާ ދުވަހުގެ ތަދަދު ޖަލްސާ ދުވަހުގެ ތަދަދު ޖަލްސާ ދުވަހުގެ ތަދަދު
3. ޖަލްސާ ދުވަހުގެ ތަދަދު ޖަލްސާ ދުވަހުގެ ތަދަދު ޖަލްސާ ދުވަހުގެ ތަދަދު ޖަލްސާ ދުވަހުގެ ތަދަދު

ޖަލްސާ ދުވަހުގެ ތަދަދު	ޖަލްސާ ދުވަހުގެ ތަދަދު	#
✓	ޖަލްސާ ދުވަހުގެ ތަދަދު	1
x	ޖަލްސާ ދުވަހުގެ ތަދަދު	2
✓	ޖަލްސާ ދުވަހުގެ ތަދަދު	3
✓	ޖަލްސާ ދުވަހުގެ ތަދަދު	4
x	ޖަލްސާ ދުވަހުގެ ތަދަދު	5
x	ޖަލްސާ ދުވަހުގެ ތަދަދު	6
✓	ޖަލްސާ ދުވަހުގެ ތަދަދު	7









ދިވެހިރާއްޖޭގެ ޖުމްހޫރިއްޔާ ގުޅިގެން

ސަރުކާރުގެ ގަވާއިދުތަކާ އެއްގޮތަށް

މަޢުލޫމާތު ސަރުކާރުގެ ޕްލާޓްފޯމްގައި

2022 ވަނަ އަހަރުގެ 17 ވަނަ ދުވަހު

މަޢުލޫމާތު ސަރުކާރުގެ ޕްލާޓްފޯމް

މަޢުލޫމާތު ސަރުކާރުގެ ޕްލާޓްފޯމްގައި

މަޢުލޫމާތު ސަރުކާރުގެ ޕްލާޓްފޯމް

މަޢުލޫމާތު ސަރުކާރުގެ ޕްލާޓްފޯމް

މަޢުލޫމާތު ސަރުކާރުގެ ޕްލާޓްފޯމް

procurement@mnu.edu.mv

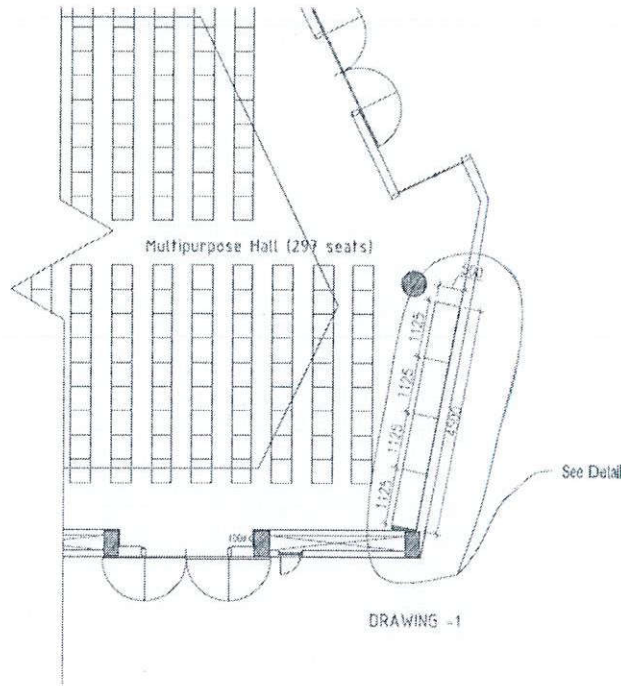


Handwritten signature in blue ink.



• 500 سائیر کابینے کے ساتھ 1125 سائیر کے ساتھ 297 سیٹوں کا ہال اور 2645 سائیر کے ساتھ 4 کابینے کے ساتھ  
 ڈرائنگ نمبر 1۔

ڈرائنگ نمبر 1-

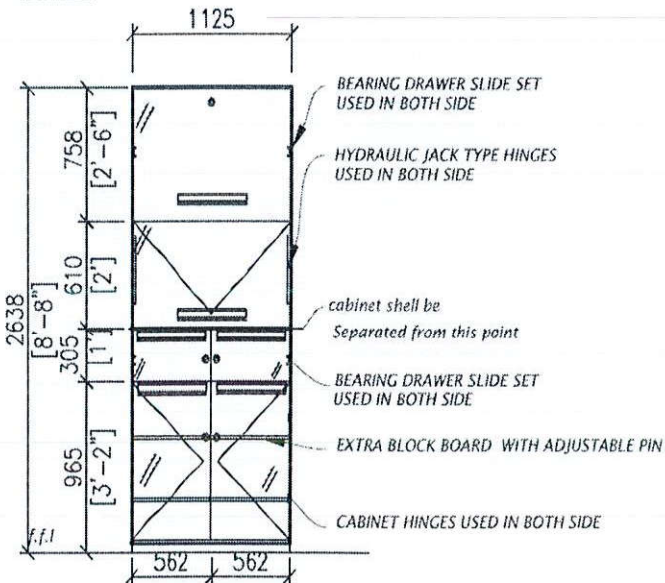


ڈرائنگ نمبر 1- (پیشہ ڈرائنگ)

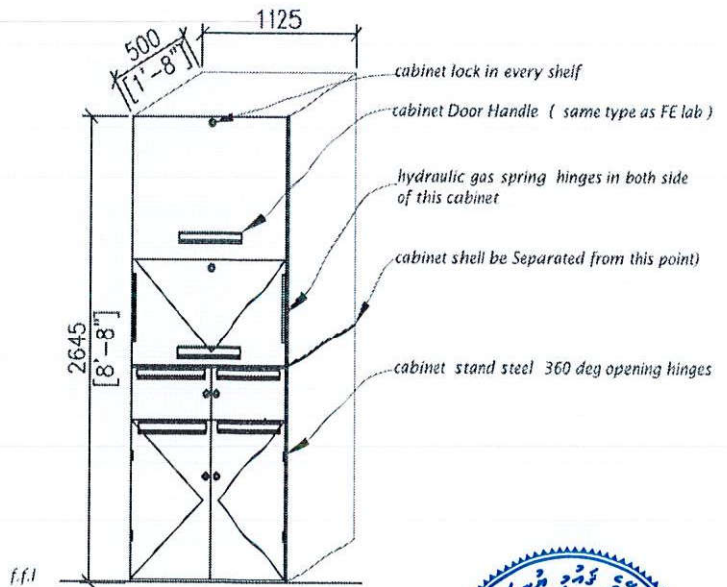
Detail

1:30

front view



isometric view





2. اندرسی و کلاسها را بر اساس سرفصلها و دروس 12 و کلاسها را در جدول زیر مشخص کنید

9 کلاسها را بر اساس سرفصلها و دروس 5 کلاسها را در جدول زیر مشخص کنید و نام آنها را

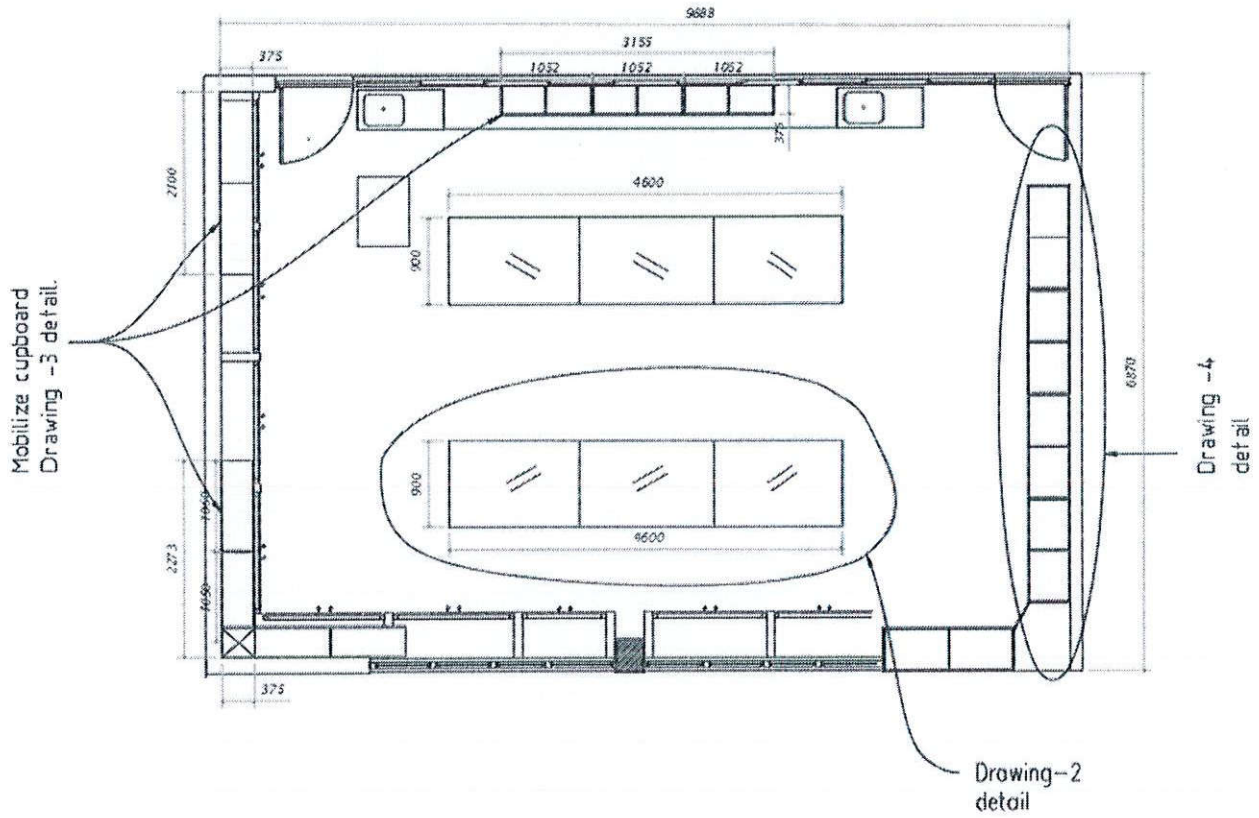
2.1 اندرسی و کلاسها را بر اساس سرفصلها و دروس 12 و کلاسها را در جدول زیر مشخص کنید

اندرسی و کلاسها را بر اساس سرفصلها و دروس 12 و کلاسها را در جدول زیر مشخص کنید

Anatomy & Physiology Lab

School of Nursing /A&P LAB

drawing -2 ( BENCH COUNTER AND CUPBOARD SET )



اندرسی و کلاسها را بر اساس سرفصلها و دروس 12 و کلاسها را در جدول زیر مشخص کنید

اندرسی و کلاسها را بر اساس سرفصلها و دروس 2 و کلاسها را در جدول زیر مشخص کنید و نام آنها را

اندرسی و کلاسها را بر اساس سرفصلها و دروس 12 و کلاسها را در جدول زیر مشخص کنید

اندرسی و کلاسها را بر اساس سرفصلها و دروس 6 و کلاسها را در جدول زیر مشخص کنید و نام آنها را

اندرسی و کلاسها را بر اساس سرفصلها و دروس 12 و کلاسها را در جدول زیر مشخص کنید





• 18 ארזים עם גלגלים

• עובי פנימי 18 ס"מ, עובי חיצוני 20 ס"מ, עובי קצה 22 ס"מ

• עובי קצה 22 ס"מ, עובי פנימי 18 ס"מ, עובי חיצוני 20 ס"מ

• עובי קצה 22 ס"מ

• עובי קצה 22 ס"מ, עובי פנימי 18 ס"מ, עובי חיצוני 20 ס"מ

• עובי קצה 22 ס"מ

• עובי קצה 22 ס"מ, עובי פנימי 18 ס"מ, עובי חיצוני 20 ס"מ

• עובי קצה 22 ס"מ, עובי פנימי 18 ס"מ, עובי חיצוני 20 ס"מ

• עובי קצה 22 ס"מ

• עובי קצה 22 ס"מ, עובי פנימי 18 ס"מ, עובי חיצוני 20 ס"מ

• עובי קצה 22 ס"מ

• עובי קצה 22 ס"מ, עובי פנימי 18 ס"מ, עובי חיצוני 20 ס"מ

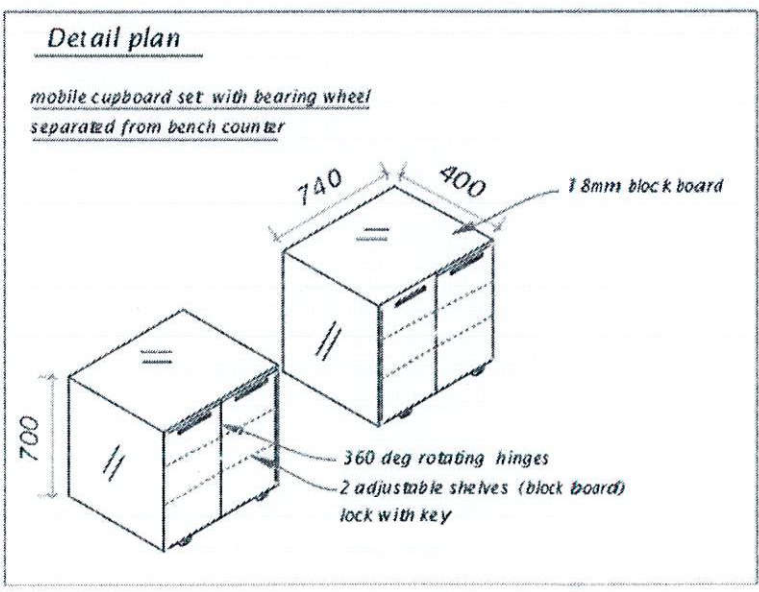
• עובי קצה 22 ס"מ

• עובי קצה 22 ס"מ, עובי פנימי 18 ס"מ, עובי חיצוני 20 ס"מ

• עובי קצה 22 ס"מ, עובי פנימי 18 ס"מ, עובי חיצוני 20 ס"מ

• עובי קצה 22 ס"מ

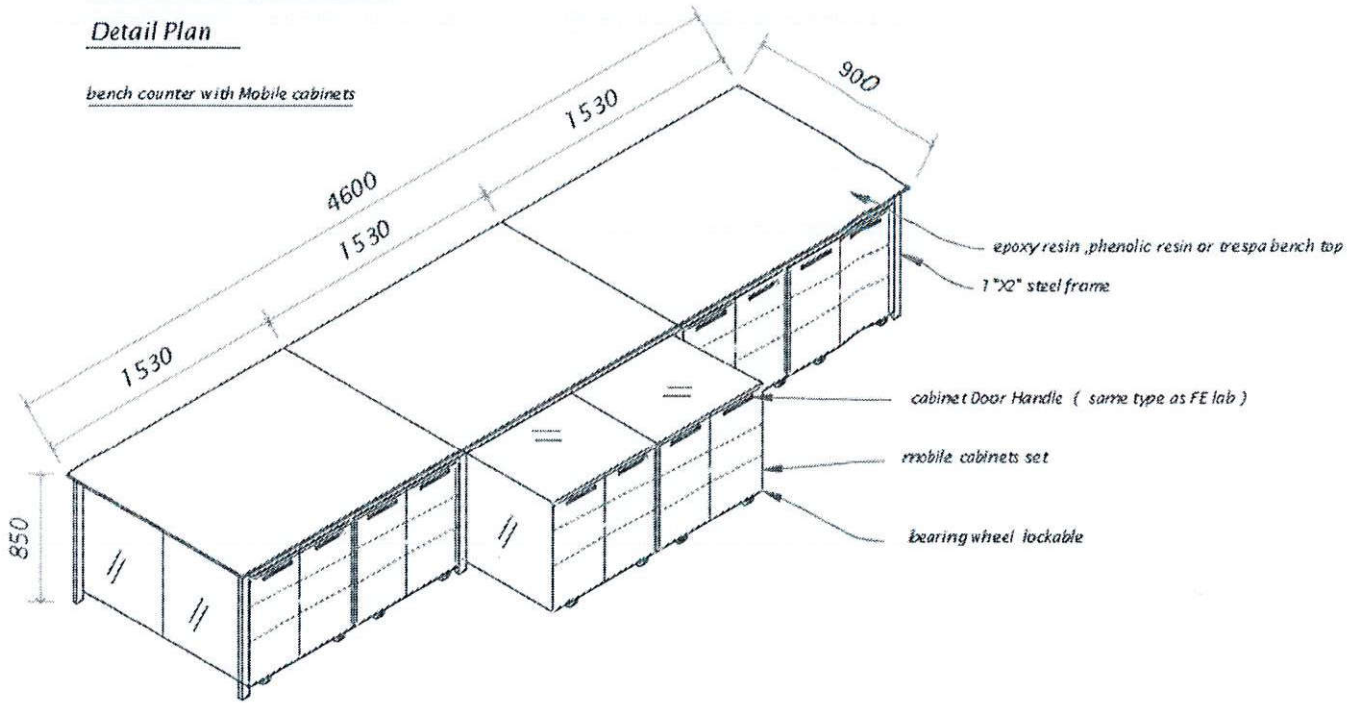
• עובי קצה 22 ס"מ, עובי פנימי 18 ס"מ, עובי חיצוני 20 ס"מ



# Drawing -2 detail-b

## Detail Plan

bench counter with Mobile cabinets



9 رتبه‌های مختلف از جنس آلومینیوم و فولاد که در این بخش به کار رفته است.

- نام مدل 2- یک واحد و طول 2000
- رتبه‌های مختلف از جنس آلومینیوم و فولاد که در این بخش به کار رفته است. 12 رتبه‌های مختلف از جنس آلومینیوم و فولاد که در این بخش به کار رفته است.
- رتبه‌های مختلف از جنس آلومینیوم و فولاد که در این بخش به کار رفته است. 96 رتبه‌های مختلف از جنس آلومینیوم و فولاد که در این بخش به کار رفته است.
- کابینت‌های 3- یک واحد و طول 1800 که در این بخش به کار رفته است. 18 رتبه‌های مختلف از جنس آلومینیوم و فولاد که در این بخش به کار رفته است.
- کابینت‌های مختلف از جنس آلومینیوم و فولاد که در این بخش به کار رفته است. 18 رتبه‌های مختلف از جنس آلومینیوم و فولاد که در این بخش به کار رفته است.
- نام مدل 6- یک واحد و طول 6000 که در این بخش به کار رفته است. 6 رتبه‌های مختلف از جنس آلومینیوم و فولاد که در این بخش به کار رفته است.
- رتبه‌های مختلف از جنس آلومینیوم و فولاد که در این بخش به کار رفته است. 2 رتبه‌های مختلف از جنس آلومینیوم و فولاد که در این بخش به کار رفته است.

این نقشه بر اساس مشخصات فنی و استانداردهای مربوطه تهیه شده است.

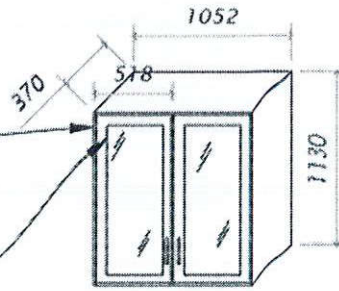


Drawing-3 Detail

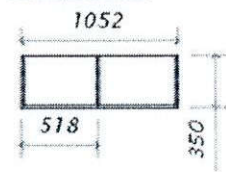
Isometric view

18mm block board

6MM clear glass in both side with timber framing used by 360 degree hinges



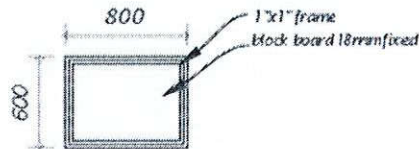
TOP VIEW



Mobilize cupboard sets

lecture table

TOP VIEW



SIDE VIEW



سازمان اسناد و کتابخانه ملی جمهوری اسلامی ایران

- این پروژه توسط اساتید محترم و همکاران محترم در سال 1394 در تهران انجام شد و به عنوان یکی از پروژه‌های موفق و ماندگار در نظر گرفته می‌شود.
- این پروژه در سال 18 خرداد 1395 رونمایی و افتتاح شد و به عنوان یکی از نمادهای مدرن و پیشرفته در نظر گرفته می‌شود.
- این پروژه در سال 1395 در تهران به اجرا درآمد و به عنوان یکی از نمادهای مدرن و پیشرفته در نظر گرفته می‌شود.
- این پروژه در سال 1395 در تهران به اجرا درآمد و به عنوان یکی از نمادهای مدرن و پیشرفته در نظر گرفته می‌شود.



• كرسى بىناچىسىنىڭ ئىككى تەرىپىدىكى ئۆلچەمى 6 ئۆلچەمى ئىچىدىكى ئۆلچەمىنى ئۆز ئىچىگە ئالىدۇ.

• ئۆلچەمى ئىچىدىكى ئۆلچەمىنى ئۆز ئىچىگە ئالىدۇ.

• كرسى بىناچىسىنىڭ ئىككى تەرىپىدىكى ئۆلچەمىنى ئۆز ئىچىگە ئالىدۇ.  
 • ئۆلچەمى 2 ئۆلچەمى ئىچىدىكى ئۆلچەمىنى ئۆز ئىچىگە ئالىدۇ.

• كرسى بىناچىسىنىڭ ئىككى تەرىپىدىكى ئۆلچەمىنى ئۆز ئىچىگە ئالىدۇ.  
 • ئۆلچەمى ئىچىدىكى ئۆلچەمىنى ئۆز ئىچىگە ئالىدۇ.

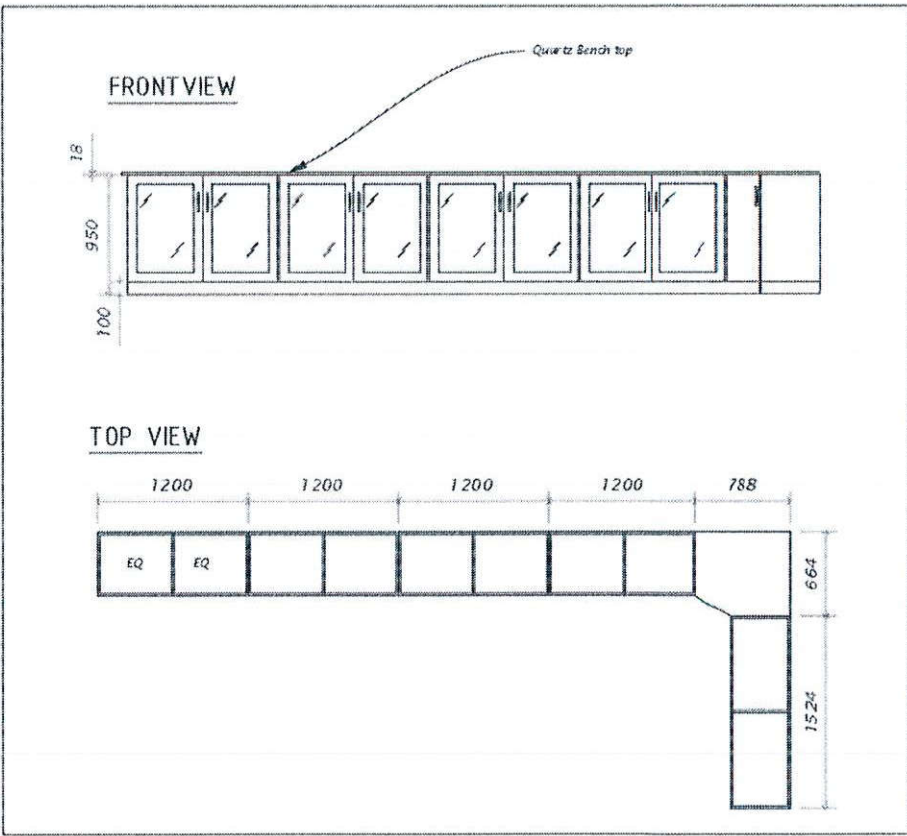
• ئۆلچەمى ئىچىدىكى ئۆلچەمىنى ئۆز ئىچىگە ئالىدۇ.

• ئۆلچەمى ئىچىدىكى ئۆلچەمىنى ئۆز ئىچىگە ئالىدۇ.  
 • ئۆلچەمى ئىچىدىكى ئۆلچەمىنى ئۆز ئىچىگە ئالىدۇ.

• كرسى بىناچىسىنىڭ ئىككى تەرىپىدىكى ئۆلچەمىنى ئۆز ئىچىگە ئالىدۇ.  
 • ئۆلچەمى ئىچىدىكى ئۆلچەمىنى ئۆز ئىچىگە ئالىدۇ.

• كرسى بىناچىسىنىڭ ئىككى تەرىپىدىكى ئۆلچەمىنى ئۆز ئىچىگە ئالىدۇ.  
 • ئۆلچەمى ئىچىدىكى ئۆلچەمىنى ئۆز ئىچىگە ئالىدۇ.

Drawing -4 detail-a



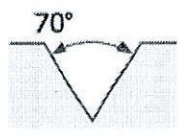






تعمیر و مرمت کتب و کتابخانه‌ها ( بخش اول )

- ❖ در تعمیر و مرمت کتب و کتابخانه‌ها، باید به این نکته توجه داشت که در صورتی که در کتب و کتابخانه‌ها، ترک‌های عمیق و عمده‌ای مشاهده شود، باید اقدام به تعمیر و مرمت آن‌ها کرد.
- ❖ در تعمیر و مرمت کتب و کتابخانه‌ها، باید به این نکته توجه داشت که در صورتی که در کتب و کتابخانه‌ها، ترک‌های عمیق و عمده‌ای مشاهده شود، باید اقدام به تعمیر و مرمت آن‌ها کرد.



Crack repair, V grooves

- ❖ در تعمیر و مرمت کتب و کتابخانه‌ها، باید به این نکته توجه داشت که در صورتی که در کتب و کتابخانه‌ها، ترک‌های عمیق و عمده‌ای مشاهده شود، باید اقدام به تعمیر و مرمت آن‌ها کرد.
- ❖ در تعمیر و مرمت کتب و کتابخانه‌ها، باید به این نکته توجه داشت که در صورتی که در کتب و کتابخانه‌ها، ترک‌های عمیق و عمده‌ای مشاهده شود، باید اقدام به تعمیر و مرمت آن‌ها کرد.
- ❖ در تعمیر و مرمت کتب و کتابخانه‌ها، باید به این نکته توجه داشت که در صورتی که در کتب و کتابخانه‌ها، ترک‌های عمیق و عمده‌ای مشاهده شود، باید اقدام به تعمیر و مرمت آن‌ها کرد.

BOSS·PU25 URETHANE SEALANT


تعمیر و مرمت کتب و کتابخانه‌ها PROSEAL PAS-100 PROSEAL FLEXIBLE ACRYLIC SEALANT

- ❖ در تعمیر و مرمت کتب و کتابخانه‌ها، باید به این نکته توجه داشت که در صورتی که در کتب و کتابخانه‌ها، ترک‌های عمیق و عمده‌ای مشاهده شود، باید اقدام به تعمیر و مرمت آن‌ها کرد.
- ❖ در تعمیر و مرمت کتب و کتابخانه‌ها، باید به این نکته توجه داشت که در صورتی که در کتب و کتابخانه‌ها، ترک‌های عمیق و عمده‌ای مشاهده شود، باید اقدام به تعمیر و مرمت آن‌ها کرد.
- ❖ در تعمیر و مرمت کتب و کتابخانه‌ها، باید به این نکته توجه داشت که در صورتی که در کتب و کتابخانه‌ها، ترک‌های عمیق و عمده‌ای مشاهده شود، باید اقدام به تعمیر و مرمت آن‌ها کرد.
- ❖ در تعمیر و مرمت کتب و کتابخانه‌ها، باید به این نکته توجه داشت که در صورتی که در کتب و کتابخانه‌ها، ترک‌های عمیق و عمده‌ای مشاهده شود، باید اقدام به تعمیر و مرمت آن‌ها کرد.











12.9FT x 3.14 FT  
 -  
 -  
 -  
 -

- 
- 
- 
- 
- 



12.9FT x 2.7FT  
 -  
 -  
 -  
 -

- 
- 
- 
- 
- 



-  
 -  
 -

- 
- 
- 





-

18  
4-  
4-  
18

18

18

18

