

# Prediksi US - SMA 2






1. Peralatan dalam jaringan komunikasi yang gunanya untuk mentransmisikan data serta merubah data analog ke digital dan sebaliknya dari data digital ke analog, adalah...
  - a. Modem
  - b. Router
  - c. Getway
  - d. Bridge
  - e. Hub / switch
2. Jenis jaringan komputer yang jarak jangkauannya mencakup antar provinsi, antar negara sampai antar benua dengan menggunakan sarana satelit, adalah...
  - a. Local Area Network (LAN)
  - b. Metropolitan Area Network (MAN)
  - c. Wide Area Network (WAN)
  - d. Peer to Peer
  - e. Server Client
3. Undang-undang yang mengatur tentang perlindungan Hak Cipta dan Hak Atas Kekayaan Intelektual, yaitu...
  - a. UU No. 14 Tahun 2004
  - b. UU No. 22 Tahun 2006
  - c. UU No. 1 Tahun 2002
  - d. UU No. 19 Tahun 2002
  - e. Peraturan Pemerintah No. 2 Tahun 2002
4. Protokol internet , **http://** adalah singkatan dari...
  - a. Heat transfer to protocol
  - b. Heat transmision to protocol
  - c. Healt transfer to protocol
  - d. hyper transfer text protocol
  - e. hyper text transfer protocol
5. Perhatikan macam-macam *Modem* dibawah ini:
  1. Modem Internal
  2. Modem Eksternal
  3. Modem speedy
  4. USB Modem Portable
  5. D-Link wireless modem

Dari macam-macam modem tersebut, yang termasuk 3 jenis modem untuk akses Internet, adalah..











  - a. 1, 2 dan 4
  - b. 1,3 dan 4
  - c. 1, 2 dan 3
  - d. 2, 3 dan 5
  - e. 3, 4 dan 5
6. Perhatikan !
  1. www
  2. homepage
  3. e-mail
  4. blog
  5. http://

yang menunjukkan fasilitas – fasilitas (layanan) dalam internet adalah...

  - a. 1, 2, dan 3
  - b. 1, 2, dan 5
  - c. 1, 3, dan 4
  - d. 2, 4, dan 5
  - e. 2, dan 5
7. Di bawah ini, yang bukan merupakan *web browser* adalah...
  - a. Google crhome
  - b. Bing
  - d. Opera
  - e. Safari

- c. Mozilla firefox
8. Peralatan dalam jaringan komunikasi yang gunanya untuk mentransmisikan data serta merubah data analog kedigital dan sebaliknya dari data digital ke analog, adalah...
- Modem
  - Router
  - Getway
  - Bridge
  - Hub / switch
9. Jenis jaringan komputer yang jarak jangkauannya mencakup antar provinsi, antar negara sampai antar benua dengan menggunakan sarana satelit, adalah...
- Local Area Network (LAN)
  - Metropolitan Area Network (MAN)
  - Wide Area Network (WAN)
  - Peer to Peer
  - Server Client
10. Undang-undang yang mengatur tentang perlindungan Hak Cipta dan Hak Atas Kekayaan Intelektual, yaitu...
- UU No. 14 Tahun 2004
  - UU No. 22 Tahun 2006
  - UU No. 1 Tahun 2002
  - UU No. 19 Tahun 2002
  - Peraturan Pemerintah No. 2 Tahun 2002
11. *Short cut key* yang digunakan untuk membuat dokumen baru pada MS.Word 2007 adalah...
- Alt + F
  - Ctrl + O
  - Ctrl + N
  - Ctrl + C
  - Alt + H
12. Perhatikan penggalan kalimat disamping, teks yang tercetak tebal di sunting menggunakan tombol switch...
- 
  - 
  - 
  - 
  - 
- 
13. Pengaturan halaman dokumen MS. Word 2007, terdapat pada *Tab Ribbon*...
- Home
  - Insert
  - View
  - Review
  - Page Layout
14. Yang merupakan perangkat keras (*hardware*) untuk akses internet adalah...
- Modem
  - Mouse
  - VGA Card
  - Web cam
  - driver wifi

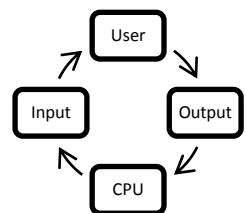








15. Perangkat keras (*hardware*) untuk akses *internet* disamping adalah...
- Kabel UTP
  - Modem
  - Switch
  - Ethernet Card
  - Conector RJ-45
16. Perangkat keras untuk akses internet yang menghubungkan komputer dengan internet pada sistem *Dial-Up* (via kebel telepon), adalah...
- Kabel UTP
  - Switch
  - Conector RJ-45
  - Modem
  - Ethernet Card
17. Sederetan tombol-tombol yang berisi perintah-perintah seputar pengerjaan *worksheet*, pada MS. Excel 2007 adalah...
- Title bar
  - Ribbon
  - Office button
  - Quick Access Toolbar
  - Kontrol jendela
18. Tombol pada MS.Excel 2007 berisi menu perintah yang berkaitan dengan dokumen, seperti; *new, open, save, save as*, adalah...
- 
  - 
  - 
  - 
  - 
19. *Grup ribbon Clipboard* berisi tombol perintah *cut, copy, paste*, yang bukan termasuk *group ribbon clipboard* adalah...
- 
  - 
  - 
  - 
  - 
20. Perhatikan pernyataan berikut!
- Power point lebih handal, relatif mudah digunakan
  - Power point membantu presentasi lebih interaktif dalam menampilkan teks, gambar, grafik, audio dan video
  - Power point merupakan bagian dari paket MS. Office
  - Power point memiliki banyak animasi-animasi
  - Power point dapat digunakan untuk membuat media pembelajaran interaktif
- Yang menunjukan manfaat dari aplikasi MS. Power Point adalah...
- 1
  - 5
  - 3
  - 1, 3, dan 4
  - 2 dan 5
21. Menu *Cutomize Quick Access Toolbar* untuk menyembunyikan Ribbon MS. Power Point 2007 adalah...
- Show below ribbon
  - Minimize ribbon
  - More command
  - undo
  - redo
22. Membuat *slide* presentasi menggunakan *template* yang sudah jadi yang tersedia pada MS. Power Point 2007, seperti album photo clasic kemudian kita edit isi/content nya sesuai dengan konsep slide kita, langkah step by step content wizard menggunakan template tersebut adalah...
- Klik office button → klik new → klik install templates → pilih template → klik create
  - Klik office button → klik new → blank & recent → pilih blank document → klik create

- c. Klik office button→klik new→install theme→pilih theme→klik create
- d. Klik office button→klik new→my template→pilih pilih template→klik create
- e. Klik office button→klik new→from exiting file→klik create



23. Jenis *Slide Layout* disamping, adalah...
- a. Tittle Slide
  - b. Tittle and Content
  - c. Header Section
  - d. Tittle Only
  - e. Two Content
24. Berikut adalah perangkat lunak (*software*) yang terdapat pada komputer: *Windows 98, Windows XP, Windows Vista, Windows 7*. Termasuk kedalam kelompok manakah perangkat lunak (*software*) tersebut?...
- a. Utility
  - b. Sistem Aplikasi
  - c. Sitem operasi (OS)
  - d. Office (pekerjaan kantor)
  - e. Grafis (pengolah grafis)
25. Perangkat lunak (*software*) Berikut yang termasuk kelompok aplikasi perkantoran adalah...
- a. CorelDraw X3
  - b. Microsoft Office
  - c. Windows 7
  - d. Adobe phhotoshop
  - e. Smadav anti virus
26. Manakah proses siklus (perputaran) informasi pada komputer yang benar?...
- a. User →Input→CPU→Output dan kembali ke User
  - b. Input →CPU→Output→User dan kembali ke User
  - c. User→Input→CPU→Output dan kembali ke User
  - d. CPU →Input→Output→User dan kembali ke User
  - e. Output →User→Input→CPU dan kembali ke User
27. Teknologi Informasi dan Komunikasi adalah Teknologi informasi yang didukung oleh Teknologi komunikasi yang memungkinkan.....secara cepat dan akurat keseluruh dunia. Kata yang tepat untuk melengkapi titik-titik pada pengertian TIK tersebut adalah...
- a. Komunikasi
  - b. Informasi
  - c. Hubungan
  - d. Sambungan
  - e. Penyebaran informasi
28. Yang bukan perangkat keras Teknologi Informasi dan Komunikasi adalah...
- a. Telepon
  - b. Radio
  - c. Modem
  - d. Jaringan komputer
  - e. Televisi
29. Suatu peralatan komunikasi jarak jauh melalui sinyal listrik yang biasanya berupa suara. Alat komunikasi tersebut adalah...
- a. Jaringan internet
  - b. Radio
  - c. Televisi
  - d. Telepon/handphone
  - e. Mikropon



30. Dampak dari pelanggaran Hak cipta adalah, kecuali ...
- Tidak bisa menghargai ciptaan orang lain
  - Menimbulkan generasi yang tidak kreatif dan inovatif
  - Mengabaikan kepentingan masyarakat luas, demi keuntungan pribadi
  - Merugikan secara materiil pada pemegang hak cipta
  - Menguntungkan bagi pemegang hak cipta
31. Sanksi hukum bagi siapa dengan sengaja dan tanpa hak memperbanyak penggunaan untuk kepentingan komersial **program komputer**, berdasarkan UU Hak cipta, ayat 3 adalah...
- Penjara paling lama 5 tahun atau denda satu miliar
  - Penjara paling lama 7 tahun atau denda lima miliar
  - Denda lima miliar rupiah
  - Denda lima ratus juta rupiah
  - Denda lima ratus ribu rupiah
32. Dibawah ini yang merupakan tindakan yang melanggar hak cipta adalah, kecuali ...
- Menggunakan software freeware atau shareware
  - Membeli software bajakan di toko CD
  - Menggandakan software secara diam-diam
  - Mendownload software yang di crack
  - Merubah sebagian dari program pada software untuk diproduksi sendiri
33. Berikut tindakan yang tidak mencerminkan prinsip kesehatan dan keselamatan kerja (K3) dalam penggunaan teknologi informasi dan komunikasi adalah...
- Selalu membersihkan debu yang menempel pada perangkat komputer
  - Mematikan komputer dengan sistem shutdown
  - Menggunakan keyboard (papan ketik) dengan cara memukul
  - Menjaga jarak antara mata dengan monitor sesuai aturan
  - Mengatur posisi tubuh yang baik saat menggunakan komputer
34. Sudut derajat lengan siku yang tepat ketika jari diletakan pada keyboard, adalah...
- Keyboard lebih tinggi dari lengan siku
  - Lengan bertumpu pada meja
  - Lengan siku dengan sudut < 90derjat
  - Keyboard lebih rendah dari lengan siku dengan sudut >= 90 derajat
  - Keyboard miring keatas
35. Posisi kaki yang tepat memenuhi prinsip K3 ketika menggunakan komputer adalah...
- Kaki berpijak pada lantai atau pijakan meja dengan nyaman
  - Duduk dengan kaki menggantung tidak menyentuh lantai
  - Kaki bertumpu pada penyangga kursi
  - Mengatur kursi lebih rendah, sehingga kaki dapat menahan berat badan
  - Duduk lebih rapat kemeja, sehingga kaki bisa diluruskan kedepan
36. *Paint, Adobe Photoshop, corel Photo Paint*, adalah aplikasi grafis...
- Vektor
  - 3 dimensi
  - photo
  - garis
  - bitmap
37.  nama tool dari kelompok *toolbox* disamping adalah...
- Shap tool
  - pick tool
  - crop tool
  - fill tool
  - zoom tool
38. Membuat dokumen baru dari aplikasi *coreldraws x3* dari menu...
- Edit
  - view
  - file
  - layout
  - tools
39. Kelompok *Polygon Tool* berikut yang digunakan untuk membuat gambar spiral adalah...
- 
  - 
  - 
  - 
  - 



40. perhatikan gambar B, dibuat menggunakan tool...
- a. Trim      b. Intersect      c. Simplify      d. Combine      e. Weld

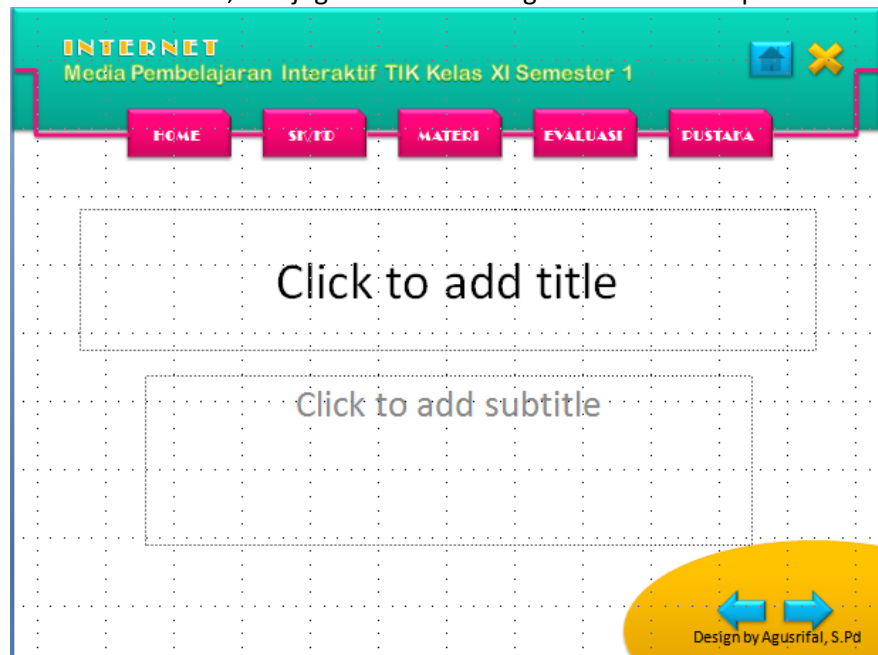


41. nama ikon disamping adalah...
- a. Inereactive blend      d. Interactive drop shadaw  
b. Interactive countur      e. Interctive envelop  
c. Interactive distortion



42. Teks melingkar seperti gambar disamping, dibuat menggunakan sub menu text...
- a. Edit text      d. Strighten text  
b. Fit text to path      e. Paragraph text  
c. Align to baseline

43. Selain menggunakan theme slide standar, kita juga bisa merancang theme sendiri seperti



gambar slide dibawah.

menggunakan fasilitas dari tab ribbon view yaitu ....

- a. Slite sorter      b. slide show      c. slide master      d. handout      e. slide notes
44. Untuk membuat kaitan/link pada teks, atau gambar dalam slide kita dengan dokumen, gambar, maupun website tertentu, tombol switch yang digunakan adalah....



- a.      b.      c.      d.      e.