



## Lembar Soal Asesmen Numerasi (Adaptasi Pratham-TaRL)

### A. Geometri dan Pengukuran

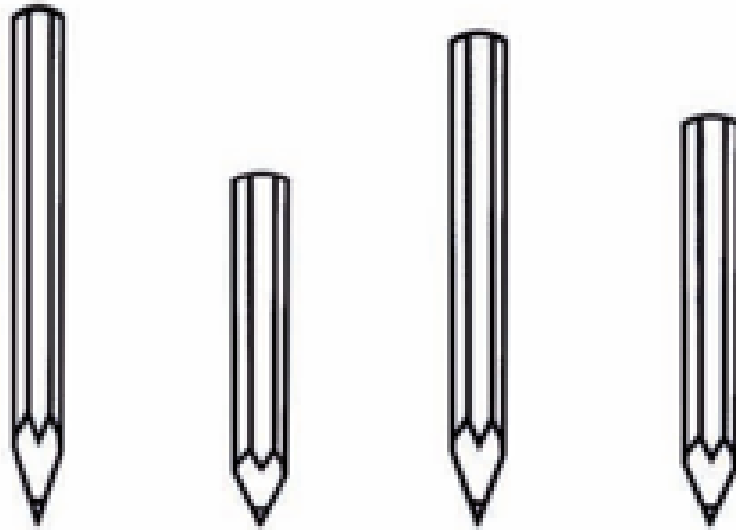
1. Kucing mana yang berada di dalam kardus?



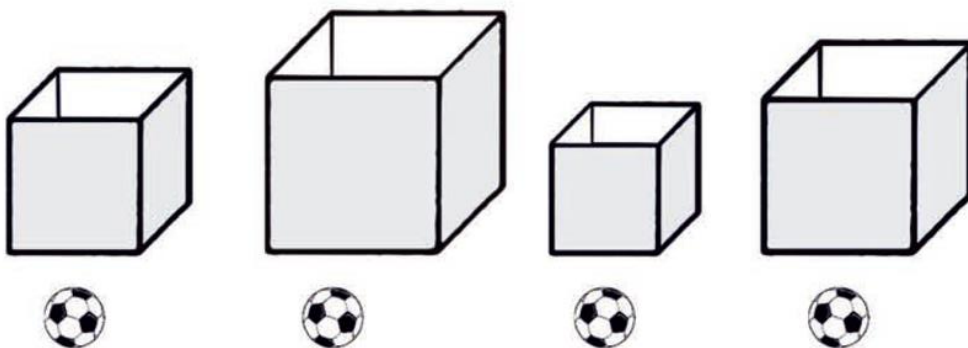
2. Siapakah yang paling jauh dari pohon?



3. Pensil manakah yang paling pendek?



4. Ada 4 bola yang ukurannya sama. Jika kita mengisi kardus tersebut dengan bola, maka kardus manakah yang isi bolanya terbanyak?




Pukul berapakah yang ditunjukkan jam berikut?

5.



6.



Perhatikan Kalender berikut!

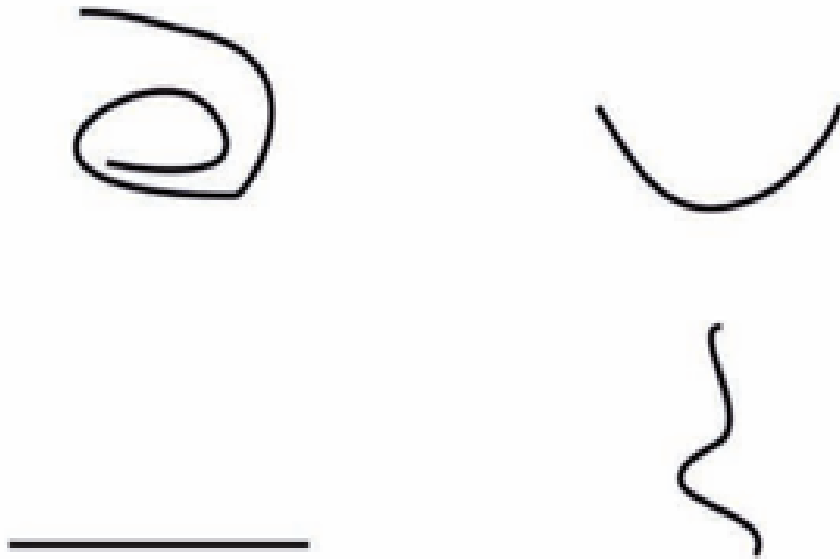
**MARET 2019**

MINGGU	SENIN	SELASA	RABU	KAMIS	JUMAT	SABTU
					1	2
3	4	5	6	7	8	9
10	11	12	13	14	15	16
17	18	19	20	21	22	23
24	25	26	27	28	29	30
31						

7. Hari apa pada tanggal 5 Maret?

8. Tanggal berapakah Senin kedua di bulan Maret?

9. Manakah yang merupakan garis lurus?

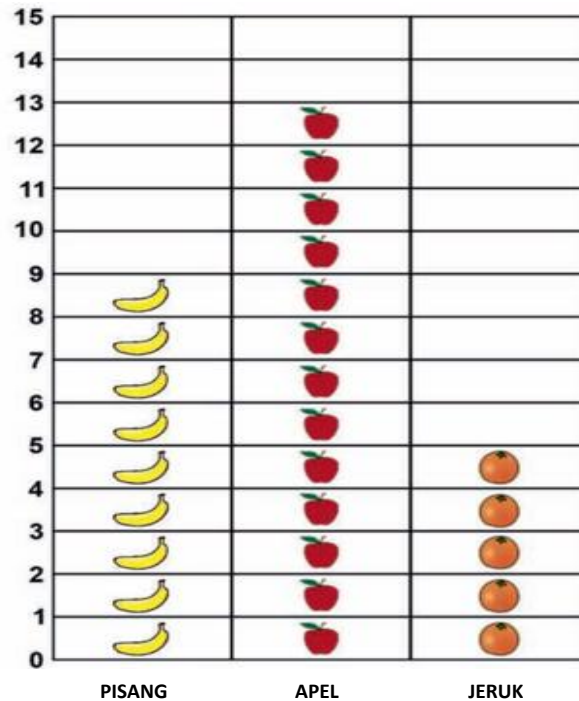


10. Manakah yang segitiga?



## B. Data dan Ketidakpastian

Perhatikan diagram berikut!



11. Berapa banyaknya apel?

12. Berapa selisih pisang dan jeruk?