

Evaluación de Matemática

Diagnóstico

Nombre: _____ Curso: _____ Fecha: _____

I. Resuelve las siguientes situaciones problemáticas.

1. Camila tiene 96 dulces, y le regala a su amiga 12. ¿Cuántos dulces tiene ahora?

Operación:

Respuesta: Camila tiene ahora _____ dulces.

2. Un árbol tiene 65 hojas, al día siguiente le salen 32 más. ¿Cuántas hojas tiene el árbol?

Operación:

Respuesta: El árbol tiene _____ hojas.

II. Resuelve los siguientes ejercicios.

$$\begin{array}{r} 45 \\ + 32 \\ \hline \end{array}$$

$$\begin{array}{r} 57 \\ + 24 \\ \hline \end{array}$$

$$\begin{array}{r} 64 \\ + 14 \\ \hline \end{array}$$

$$\begin{array}{r} 74 \\ - 42 \\ \hline \end{array}$$

$$\begin{array}{r} 94 \\ - 33 \\ \hline \end{array}$$

$$\begin{array}{r} 85 \\ - 50 \\ \hline \end{array}$$

III. Compara y escribe >, < o =

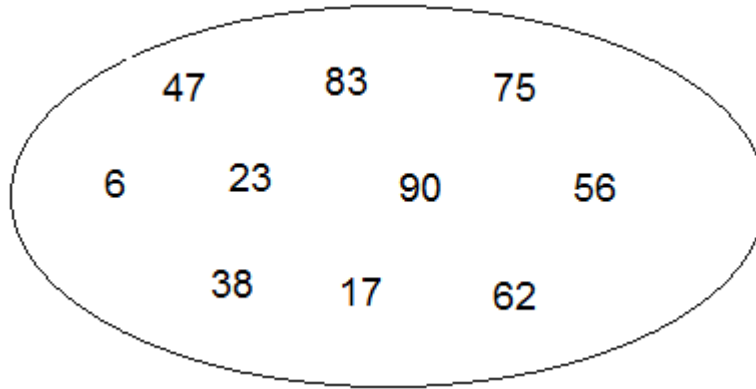
A. $67 \square 76$

B. $83 \square 95$

C. $83 \square 65$

D. $94 \square 94$

IV. Ordena los números de **menor a mayor**.




V. Completa las siguientes secuencias numéricas.

- 20 _____ 40 50 _____ 70
- 22 _____ 26 _____ 30 _____ 34
- 50 _____ 60 65 _____ 75 _____

VI. Escribe el nombre a las siguientes figuras o cuerpos geométricos.


A.



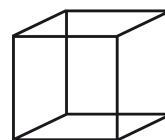
B.



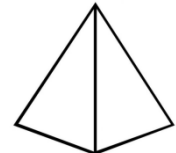
C.



D.



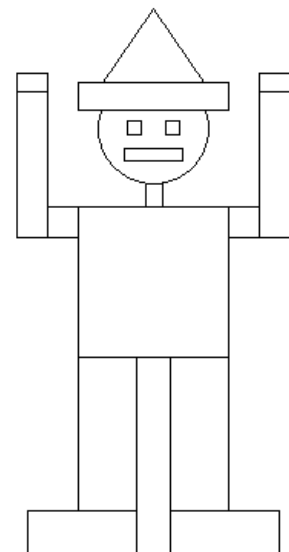
E.



--	--	--	--	--

VII. Pinta de color rojo todos los rectángulos que encuentres en la figura que aparece a continuación, y de color azul los cuadrados.

¿Cuántos rectángulos tiene la figura?



RESPUESTAS:

I. .

1. Operación:

$$96 - 12 = 84$$

Respuesta: Camila tiene ahora **84** dulces.

2. Operación:

$$65 + 32 = 97$$

Respuesta: El árbol tiene **97** hojas.

II. .

$$\begin{array}{r} 45 \\ + 32 \\ \hline 77 \\ 74 \\ - 42 \\ \hline 32 \end{array}$$

$$\begin{array}{r} 57 \\ + 24 \\ \hline 81 \\ 94 \\ - 33 \\ \hline 61 \end{array}$$

$$\begin{array}{r} 64 \\ + 14 \\ \hline 78 \\ 85 \\ - 50 \\ \hline 35 \end{array}$$

III. .

- A. <
- B. <
- C. >
- D. =

IV. –

$$6 - 17 - 23 - 38 - 47 - 56 - 62 - 75 - 83 - 90$$

V. .

- 20 30 40 50 60 70
- 22 24 26 28 30 32 34
- 50 55 60 65 70 75 80

VI. .

- A. Triángulo.
- B. Cuadrado.
- C. Círculo.
- D. Cubo.
- E. Pirámide.

VII. .

La figura tiene 11 rectángulos.

