

Evaluación de Matemática

Geometría

Nombre: _____ Curso: _____ Fecha: _____

1. Lee el texto y luego encierra la alternativa correcta.

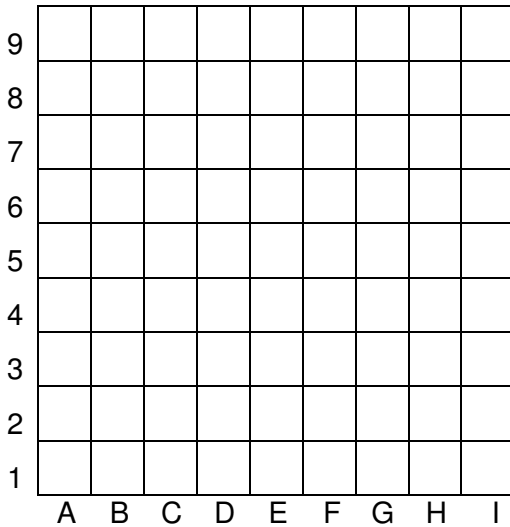
El cerdito Menta

Lo que más me gusta es quedarme en casa tendido en el sofá y tomar manzanilla. Eso es mentira, claro. Lo cierto es que me gusta tomar agüita de menta. Con mucha azúcar.

Los cerdos somos animales muy inteligentes. Por eso he escogido un hogar tan bonito. Mi hogar lo forman: Robin, Linda y Guillermo. Aunque ellos tres no son cerdos. Son personas. Pero a pesar de eso me resultan muy simpáticos. A mí me encantan las personas. No sé muy bien por qué, pero me parecen graciosas. Y además son muy inteligentes.

- ¿Dónde le gusta tenderse al cerdito?
 - En la cama.
 - En el sofá.
 - En el suelo.
- El nombre del cerdito se debe a que le gustaba el agüita:
 - De manzanilla.
 - Con mucha azúcar.
 - De menta.
- ¿Cómo se sentía el cerdito con la familia de Robin?
 - Triste.
 - Enojado.
 - Feliz.
- El cerdito cree que los integrantes de la familia son:
 - Simpáticos.
 - Aburridos.
 - Solidarios.
- Según el cerdito las personas son:
 - Graciosas y flojas.
 - Graciosas e inteligentes.
 - Graciosas y torpes.

2. Dibuja en el plano lo que se pide y luego escribe los puntos que uniste para formarlos.

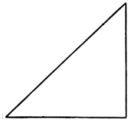

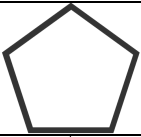
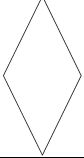
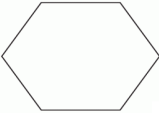


A. Un cuadrado.

B. Un triángulo.

C. Un rectángulo.

3. Completa la tabla.

Figura	Número de lados	Número de vértices	Número de ángulos rectos
			
			
			
			
			

4. Escribe V si es verdadero y F si es falso.

A. ____ Las figuras geométricas son planas.

B. ____ Los cuerpos geométricos son planos.

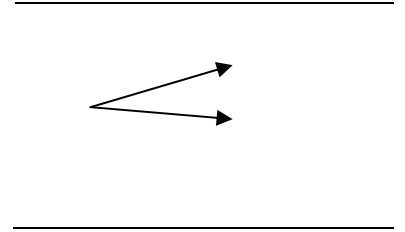
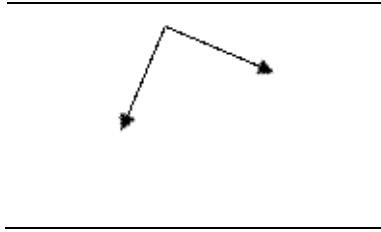
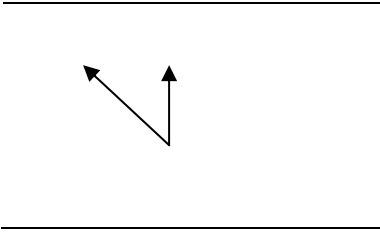
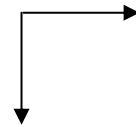
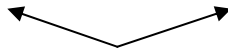
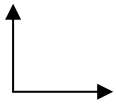
C. ____ El cubo es un prisma.

D. ____ La esfera es un cuerpo geométrico que rueda.




E. ____ Los "puntos" que unen las aristas se llaman vértices.

F. ____ Las pirámides y los prismas son ejemplos de poliedros.

5. Mira los ángulos y escribe si son RECTOS o NO RECTOS.



6. Dibuja, pinta y escribe el nombre de 3 cuerpos geométricos redondos.



7. En los siguientes cuerpos geométricos repasa con rojo las aristas, un punto azul para los vértices y pinta con amarillo cada cara. Luego completa la tabla.

Cuerpo	Número de aristas	Número de vértices	Número de caras
