

# Evaluación de Matemática

## Series numéricas

Nombre: \_\_\_\_\_ Curso: \_\_\_\_\_ Fecha: \_\_\_\_\_

I. Une con una línea.

540

504

544

5C + 4D + 0U

5C + 4D + 4U

5C + 4C + 0U

5D + 0D + 4U

5C + 0D + 4U

II. Escribe el antecesor y sucesor de:

ANTECESOR

\_\_\_\_\_

\_\_\_\_\_

\_\_\_\_\_

\_\_\_\_\_

\_\_\_\_\_

400

530

279

309

500

SUCESOR

\_\_\_\_\_

\_\_\_\_\_

\_\_\_\_\_

\_\_\_\_\_

\_\_\_\_\_

III. Completa las series numéricas.

225			240		250
538				546	
644		648			654
400				412	

IV. Pinta de igual color los cuadros que representan el mismo número.

9C 3D 5U

$900 + 30 + 5$

$90 + 30 + 5$

Novcientos treinta y cinco

73 D 4U

$700 + 30 + 4$

7D 3C 4U

Setecientos treinta y cuatro

V. Resuelve.

1. 
$$\begin{array}{r} 352 \\ + 275 \\ \hline \end{array}$$

2. 
$$\begin{array}{r} 463 \\ + 279 \\ \hline \end{array}$$

3. 
$$\begin{array}{r} 487 \\ + 243 \\ \hline \end{array}$$

4. 
$$\begin{array}{r} 258 \\ + 249 \\ \hline \end{array}$$

5. 
$$\begin{array}{r} 376 \\ + 209 \\ \hline \end{array}$$

6. 
$$\begin{array}{r} 57 \\ - 39 \\ \hline \end{array}$$

7. 
$$\begin{array}{r} 93 \\ - 62 \\ \hline \end{array}$$


8. 
$$\begin{array}{r} 70 \\ - 27 \\ \hline \end{array}$$

9. 
$$\begin{array}{r} 52 \\ - 49 \\ \hline \end{array}$$

10. 
$$\begin{array}{r} 60 \\ - 35 \\ \hline \end{array}$$

VI. Problemas.

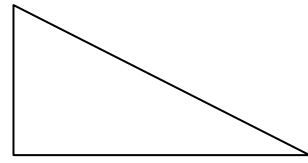
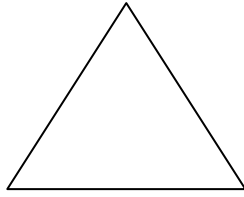
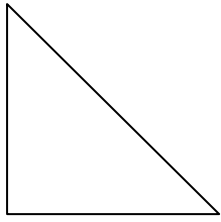
1. La mamá de Javier compró en la feria algunas verduras, las que pagó con 3 monedas de \$100, 5 de \$10 y 7 de \$1.  
¿Cuánto pagó en total la mamá de Javier?



2. El cartero debe repartir 78 cartas. Si ya ha repartido 43 de ellas,  
¿cuántas cartas le faltan por repartir?



3. Marca los ángulos en las siguientes figuras.



4. Estos objetos están recién pintados y, al apoyarlos, dejaron las siguientes huellas. Une con flechas la huella que corresponde a cada objeto.

