

Evaluación de Matemática

Unidades de medida

Nombre: _____ Curso: _____ Fecha: _____

1. Escribe los siguientes números:

- A. Seiscientos veinte. →
- B. Quinientos setenta. →
- C. Cuatrocientos ochenta. →
- D. Quinientos tres. →
- E. Seiscientos nueve. →
- F. Quinientos treinta y siete. →
- G. Doscientos cuarenta. →


2. ¿A qué número corresponde la siguiente descomposición numérica?
5C + 7D + 2U.

- A. 752
- B. 275
- C. 527
- D. 572

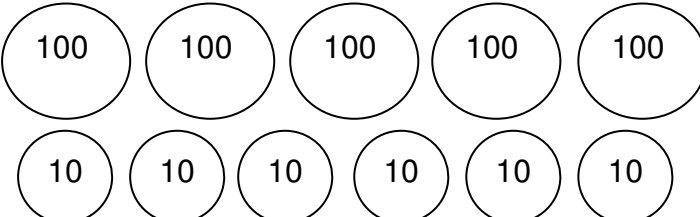
3. El valor del dígito **8** en el número 983, es:

- A. 80
- B. 8
- C. 800
- D. 8000

4. Escribe el número que representa:

A. 



B. 



Observa las cajas y responde:

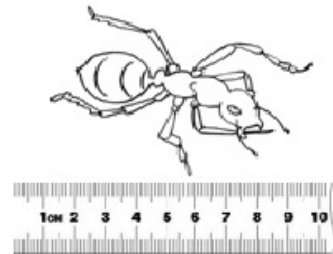


5. ¿Cuál caja tiene seiscientos siete clavos?

- A. La 1.
- B. La 2.
- C. La 1 y la 2.
- D. Ninguna.

6. Observa la figura. ¿En qué unidades de medida debería estar la regla que mide el insecto?

- A. Grados Celsius.
- B. Kilómetros.
- C. Metros.
- D. Centímetros.



7. ¿Cuántas veces cabe aproximadamente el largo del sacapuntas en el largo del lápiz?



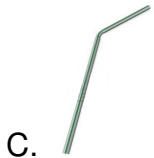
- A. Solo una vez.
- B. Más de 10 veces.
- C. Más o menos 5 veces.
- D. Menos que 3 veces.

8. ¿Cuántos grados Celsius marca este termómetro ambiental?

- A. 5 sobre Celsius.
- B. 5 bajo Celsius.
- C. 5 centímetros.
- D. 5 metros.



9. ¿Cuál de los siguientes objetos está más cerca de medir 1 metro?



10. Si se realizara una aproximación de la medida de la lapicera, ¿cuál sería la más apropiada?



- A. 12 cm
- B. 17 cm
- C. 15 cm
- D. 14 cm

Resuelve estos problemas:

11. Calcula y dibuja las monedas que te darán de vuelto.

Precio	Pagado con...
	
Operación	Respuesta

Precio	Pagado con...
	
Operación	Respuesta