

Evaluación de Matemática

Unidades de medida

Nombre: _____ Curso: _____ Fecha: _____

1. Lee el texto y luego encierra la alternativa correcta.

¿QUÉ SABEMOS DEL CHOCOLATE?

El chocolate se hace de la semilla del árbol del cacao. Esta semilla se parece a grandes almendras blancas. De la manteca de cacao se fabrica el chocolate.

El cacao fue utilizado primero por los aztecas, en México. Estos lo llamaban “el alimento de los dioses”. No hacían el chocolate como lo hacemos nosotros. Tostaban la semilla añadiéndole pimienta y otras especias, con lo que preparaban una bebida amarga y bastante picante y la tomaban fría.

1. El chocolate se hace de:
 - A. La semilla del cacao.
 - B. Las hojas del cacao.
 - C. La flor del cacao.

2. La semilla se parece a las:
 - A. Nueces blancas.
 - B. Almendras negras.
 - C. Almendras blancas.

3. El chocolate se fabrica de la:
 - A. Harina de cacao.
 - B. Manteca de cacao.
 - C. Margarina de cacao.

4. El cacao fue utilizado primero en:
 - A. España.
 - B. Perú.
 - C. México.

5. Sus primeros consumidores preparaban con el chocolate:
 - A. Una bebida dulce.
 - B. Una bebida amarga y picante.
 - C. Barras compactas.

2. Encierra la unidad de medida que corresponda a cada dibujo.



L - M - Kg



L - M - Kg



L - M - Kg



L - M - Kg



L - M - Kg



L - M - Kg


3. Mide y responde.

A. ¿Cuánto mide el segmento de la figura? Utiliza tu regla.



Escribe la medida en Centímetros.

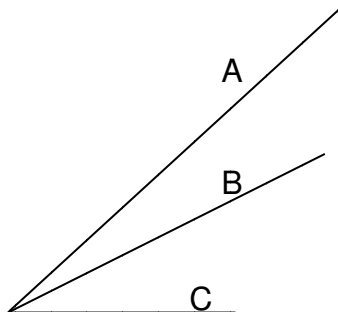
B. ¿Cuánto mide el rectángulo dibujado? Utiliza tu regla.



Largo: _____ cm.

Ancho: _____ cm.

C. De los tres segmentos de la figura, ¿cuál te parece que es más largo? Utiliza tu regla.



El más largo es el _____

¿Cuántos centímetros mide?

4. Completa.

A. 700 cm = _____ m.

B. 900 cm = _____ m.

C. 170 cm = _____ m _____ cm.

D. 2 m 30 cm = _____ m.

E. 7 m = _____ cm.

5. Complete la tabla de medidas de CAPACIDAD:


Litros	Mililitros
5 L	ml
4.5 L	ml
8 L	ml
1/2 L	ml
7.5 L	ml

6. Completa la tabla de medidas de MASA.


Gramos	Kilos
7.000 g	kg
3.000 g	kg
9.000 g	kg
1.000 g	kg
4.000 g	kg

7. Responde.


A. ¿Cuál de las dos cantidades **1.032 g** o **1.032 kg** es el peso del paquete?

	Es _____
---	----------

B. ¿Cuál de las dos cantidades **1.8 kg** o **1.800 kg** es el peso de los zapatos?

	Es _____
---	----------

C. ¿Cuál de las dos cantidades **2.030 kg** o **2.030 kg** es el peso del bolso?

	Es _____
--	----------

RESPUESTAS:

1. .
1. A
2. C
3. B
4. C
5. B
2. .



(L) - M - Kg L - M - (Kg) L - (M) - Kg



L - (M) - Kg (L) - M - Kg L - M - (Kg)

3. .
- A. 6 cm
- B. Largo: 4 cm Ancho: 2 cm
- C. El más largo es el A. Y mide 5cm

4. .
- A. 7
- B. 9
- C. 1m 70 cm
- D. 230
- E. 700

5. .

Litros	Mililitros
5 L	5.000 ml
4.5 L	4.500 ml
8 L	8.000 ml
1/2 L	500 ml
7.5 L	7.500 ml

6. .

Gramos	Kilos
7.000 g	7 kg
3.000 g	3 kg
9.000 g	9 kg
1.000 g	1 kg
4.000 g	4 kg

7. .
- A. 1.032 g
- B. 1.8 kg
- C. 2030 g