

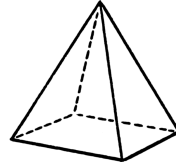
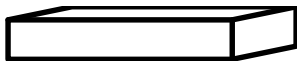
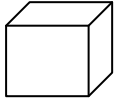
Guía de ejercicios Matemática

Poliedros y Cuerpos redondos

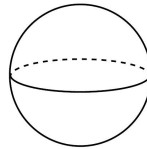
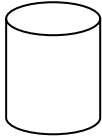
Nombre: _____ Curso: _____ Fecha: _____

Resuelve los siguientes problemas:

Poliedros: Son cuerpos geométricos que tienen todas sus caras planas.



Cuerpos redondos: Son cuerpos geométricos que tienen al menos una cara curva.

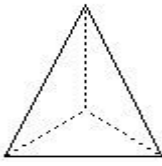


1 – Pinta y une con líneas de distinto color la figura con el nombre que le corresponde.

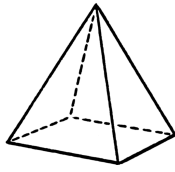
Cuerpos geométricos	Nombre
	Cilindro
	Pirámide
	Esfera
	Cubo
	Paralelepípedo
	Cono

2 – Observa y completa.

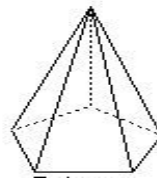
1



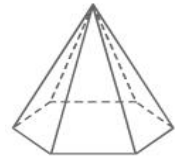
2



3

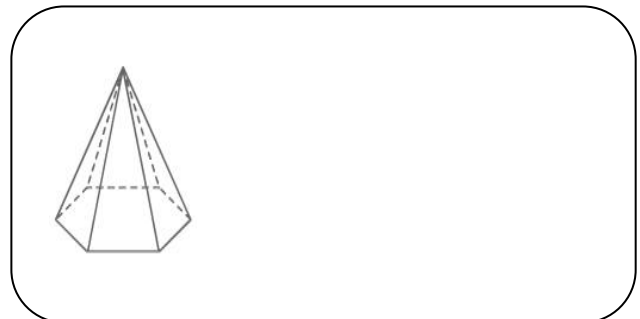
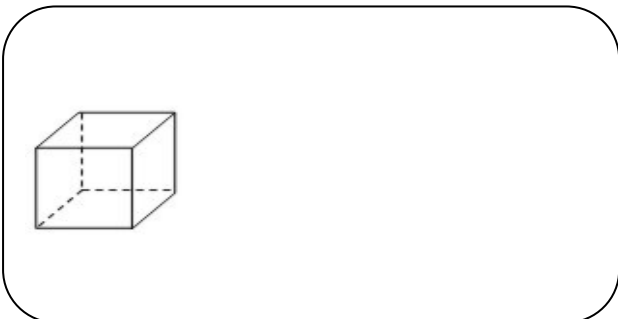
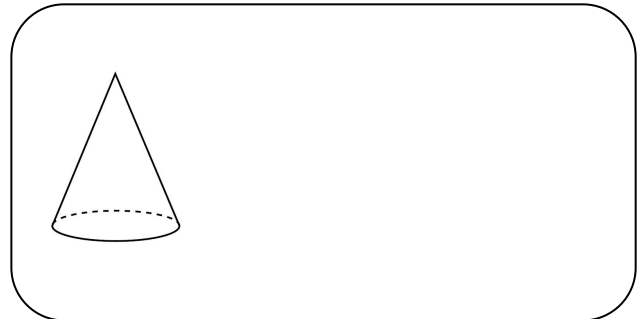


4



Característica	1	2	3	4
Número de vértices				
Número de aristas				
Forma de la cara basal				
Número de caras laterales				
Forma de caras laterales				

3 – Dibuja un juguete que se asemeje a estos cuerpos geométricos



4 – Elige un criterio y clasifica en dos grupos



Criterio 1

Criterio 2