



SOSYAL BİLGİLER

7. SINIF

Mavi

Sayfalar



Neden Sorular Konuşuyor?

KİTABIMIZI, BİR BÜTÜN OLARAK ya da TEST TEST Kolay, Orta, Zor şeklinde **GRUPLANDIRARAK** değil, her bir soruyu tek tek ele alıp **SORU TEMELLİ BİR SINIFLANDIRMA** yaparak oluşturduk.

Yaptığımız detaylı araştırmalarda öğrencilerimizin temel probleminin Yeni Nesil Soruları çözemediği noktasında değil, onlarla barışamadığı noktasında olduğunu tespit ettik. Klasik soru kalıplarında en zor soruları çözebilen öğrencilerimizin, aslında çok basit diyebileceğimiz **KURGUSAL SORULARDA** ciddi problemler yaşadığını gördük.

Öncelikle yukarıda belirttiğimiz gibi soruların derecelendirme sisteminde kullandığımız metodu, **KİTABI BİR BÜTÜN OLARAK** ya da TEST TEST **GRUPLANDIRARAK** değil, her bir soruyu tek tek ele alarak **SORU TEMELLİ BİR SINIFLANDIRMA** ile oluşturduk.

Araştırma sonuçlarımıza göre öğrenim sürecinde **YENİ NESİL SORULARLA** ilk olarak 8. sınıfta karşılaşan öğrencilerimizin; 5, 6 ve 7. sınıflarda bu konuda tecrübe yaşamadıkları için ciddi **ADAPTASYON** sorunları yaşadıklarını tespit ettik.

Bu sebeple uyguladığımız sistemi 5. sınıftan itibaren aynı formatta planlayarak **SADECE 8. SINIFLARDA DEĞİL; 5, 6 ve 7. SINIFLARDA DA %100 KURGUYA DAYALI BİR METOT** ile öğrencilerimizin kademe kademe **YENİ SİSTEMİ** özümsemesini sağlamaya çalıştık. Bunu yaparken de bu sınıf gruplarının seviyelerini en önemli kriter olarak belirledik.


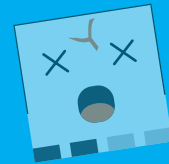
Mavi Sayfalar

5

6

7

8



PRUV▲▲KADEMI

nasıl bir sistem sunuyor?

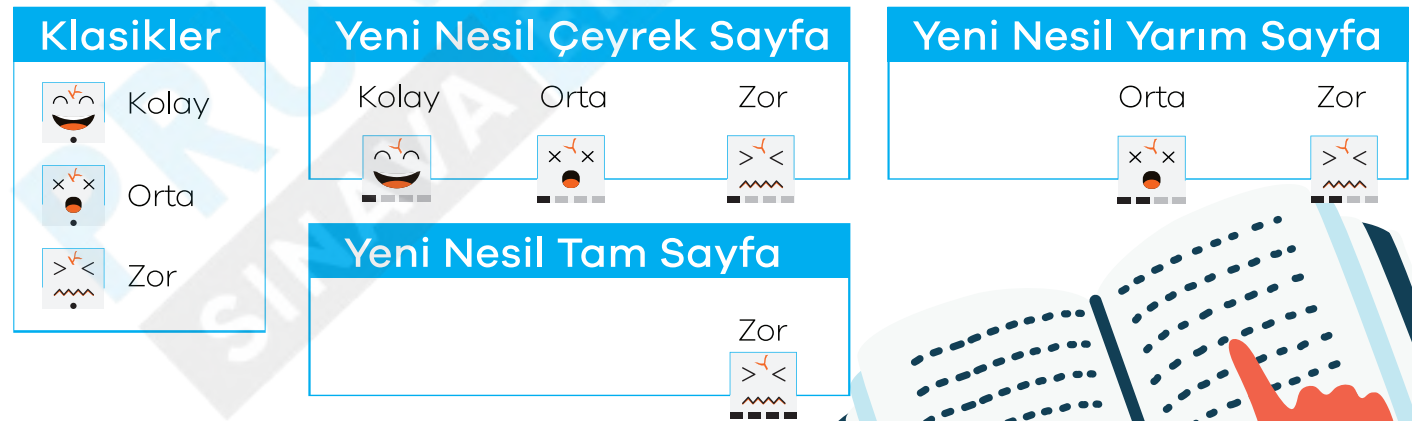
Yeni sınav sisteminde öğrencilerimiz %20 oranında **Klasik**, %80 oranında **Yeni Nesil Sorularla** karşılaşılıyor. Daha önceden olduğu gibi yine her iki soru tipinde de **Kolay / Orta / Zor** kombinasyonları kullanılıyor. Fakat bunların kullanım tarzları soru içeriklerine göre farklılık gösteriyor.

Sadece Yeni Nesil Sorular özelinde ebat olarak bir sayfayı ölçülendirmek suretiyle 3 farklı soru modeli karşımıza çıkıyor.

- Sayfanın $\frac{1}{4}$ ü oranındaki sorular (Çeyrek Sayfa Sorular)
- Sayfanın $\frac{1}{2}$ si oranındaki sorular (Yarım Sayfa Sorular)
- Sayfanın tamamını kaplayan sorular (Tam Sayfa Sorular)

Klasik ve **Yeni Nesil Soruların Kolay / Orta / Zor** kombinasyonlarını da içine alarak değerlendirdiğimizde;

9 Farklı Soru Modeli ile karşılaşırız.



Neden

YARIM ve TAM Sayfa Sorular diđer sorulara benzemiyor?

Yarım Sayfa ve Tam Sayfa sorular yoğunluk, kurgu, ölçtüğü beceri alanı ve bilgi boyutu bakımından **Çeyrek Sayfa** sorulara göre daha kapsamlıdır.

Kurgusal yoğunluğu Çeyrek Sayfa Sorulara göre biraz daha fazla olduğu için Yarım Sayfa Soruların KOLAY kombinasyonuyla çoğunlukla karşılaşmıyor.

Tam Sayfa Sorularda ise derecelendirme sadece ZOR sınıfında yer alıyor. Yalnız bu zorluk sorunun kökünden değil yapısından kaynaklanıyor. Bu tarz sorular genellikle cevabı içinde saklı olan ve öğrencileri zamana karşı yarıştırmak için çözüme ulaşmalarını sağlamaya çalışıyor.

Geliştirdiğimiz yöntemle bahsettiğimiz 9 Farklı Soru Modelinin her birini **anlaşılabilir karakterlerle** soru soru sınıflandırdık. Ve **öğrencilerimizin eğlenerek anlayabileceği** ifadelerle tabloştandırdık sonra bu karakterleri her sorunun yanına yerleştirdik. Hiçbir testimiz TAMAMEN KOLAY veya TAMAMEN ZOR şeklinde tasnif edilmedi. Daha fazla soru çeşitliliğine ulaşmak için her test kendi içinde tüm soru tarzlarından beslenerek oluşturuldu.

Böylece ilgili konuda hangi tarz soruda sıkıntı yaşandıysa, o tarz sorulara odaklanarak gerekli tekrarların yapılması sağlandı. Bu yöntemle **öğrencilerimizin her üniteye tüm soru tarzlarıyla karşılaşmasına özen gösterdik** ve hangi tarz sorularda sıkıntı yaşadıklarını tespit etmelerine olanak sağladık.

Tüm ünitelerde

ÖĞRETEN SORULAR neden var?

ÖĞRETEN SORULAR ile klasik soru kalıplarının üstünden geçerek **Yeni Nesil Sorulara** hazırlık yapmayı amaçladık.



Sorular Konuşuyor Serisi kurguya dayalı bir sistem sunsa da belli oranda klasik soruların da olması gerekmektedir. Kurgusal soruların bilgiyi ölçen klasik sorular üzerine inşa edildiği artık bilinen bir gerçek. Bu sebeple tüm ünitelerin/konuların ilk testlerini (ÖĞRETEN SORULAR) klasik sorulara ayırdık. Bu testlerde klasik soruların öğrenim metodu olan kolaydan zora mantığı ile hareket ettik. ÖĞRETEN SORULARLA klasik soru kalıplarının üstünden geçerek Yeni Nesil Sorulara hazırlık yapmayı amaçladık.

Mavi
Sayfalar



Harika bir psikolojik detay

SINAV MODU!

2. üniteden itibaren her ünitenin sonuna sarmal formatta gerçek **SINAV KİTAPÇIĞI**'nin görsel altyapısından esinlenerek **Yeni Nesil Soru dağılımını** ve **gerçek sayfa yapısını** da dikkate alarak bir test hazırladık.

Üniversite sınavına hazırlanan bir öğrenci dilediği kadar sınava girebilir. Fakat ortaöğretim sınavına hazırlanan bir öğrenci sadece 1 defa sınava girebilmektedir. Bu açıdan baktığımızda ortaokul öğrencisi daha çok tedirgin olmakta, daha çok hata yapabilmektedir. Bir de söz konusu Yeni Nesil Sorular olunca sadece bilgi yönünden değil, **PSİKOLOJİK** yönden de bazı takviyeler yapılması gerekmektedir.

2. üniteden itibaren her ünitenin sonuna sarmal formatta gerçek SINAV KİTAPÇIĞI'nın görsel altyapısından esinlenerek Yeni Nesil Soru dağılımını ve gerçek sayfa yapısını da dikkate alarak bir test hazırladık.

Bu uygulamayla öğrencilerimize ünite kapsamında kademe kademe **SINAV MODU**'nu hissettirmeyi amaçladık.

Yeni sistemin sırrı

ÇOK ZOR SORU değil ÇOK FARKLI SORU!

Evet, klasik soru tarzlarında zor soru çözme becerisi yüksek bir öğrenci, orta ve kolay seviyedeki soruları rahatlıkla çözebilmektedir. Fakat Yeni Nesil Sorularda aranan şey **ZORLUK** değil **FARKLILIK** oldu.

Bu sistemde bir öğrenci ne kadar çok **FARKLI SORU** çözebilirse o kadar hızlı algılayabiliyor, o kadar hızlı yorumlayabiliyor.

Kurguya dayalı soru üretiminin çok zor olduğu bilinen bir gerçektir. Bu sebeple Pruva Akademi ekibi olarak **yazar kadromuzu geniş tuttuk.**

FARKLI YAZAR FARKLI SORU



FARKLI YAZAR FARKLI SORU mantığıyla **300'e yakın ortaokul branş yazarımıza 9 FARKLI SORU MODELİMİZE GÖRE sorular yazdırdık.**

Olabildiğince farklı varyasyonlardaki soru tipleriyle öğrencilerimizi sınavlara hazırlamayı amaçladık.



Sorular Konuşuyor Rehberi



Klasik Kolay

Klasik soru kalıpları içinde temelleri sağlam atmak için hızlı çözülebilen **kolay** bir soruyum. Konuya devam etmeden önce benden birkaç tane çözmem lazım.



Klasik Orta

Eğer **klasik** kalıplarda temel sorulardan çözdüysen seni bir tık öteye taşıyacak **orta şiddette** bir soruyum. Kendini zor sorulara hazırlamak için bu aşama önemli!



Klasik Zor

Evet, artık kendini zorlama zamanı. Ben, **klasik** soru tarzlarında o sevilmeyen **zor** soruyum. İyi konsantre ol, dikkatini toplama ve bitir işimi!



Yeni Nesil Çeyrek Kolay

Yeni Nesil Sorulara giriş yapmak için kurgu çözümlene yeteneğini geliştirebileceğin **kısa** ve **kolay** bir soruyum.



Yeni Nesil Çeyrek Orta

Yeni Nesil Sorularda bir tık öteye geçme zamanı! Merak etme, çok yormam seni. Yine **kısa** fakat **orta şiddette** bir soru olduğumu bilmeni isterim.



Yeni Nesil Çeyrek Zor

Uzun uzun **Yeni Nesil Sorulara** geçmeden önce kendini alıştırman için seni biraz yormak istiyorum. **Kısa** fakat **zor** bir soruyum. Sana güveniyorum!



Yeni Nesil Yarım Orta

Yeni Nesil Soruyum. Kısa bir soru değilim, kabul ediyorum. Fakat çok uzun bir soru da değilim. Çok basit değilim, bunu da kabul ediyorum. Ama çok zor bir soru da değilim, seni zorlamam. Kısaca **orta uzunlukta** ve **orta şiddette** bir soruyum.



Yeni Nesil Yarım Zor

Yeni Nesil Soruyum. Açık konuşmak gerekirse kolaylık adına bende hiçbir şey yok. Sakın beni hafife alma! Evet, **orta uzunlukta** fakat **zor**um.



Yeni Nesil Tam Zor

Yeni Nesil Soruların en kralıyım. Bütün sorular seni bana ulaştırmak için çırpındı. Beni çözersen olayın çoğu bitmiş demektir. Baştan söyleyeyim, seni bunaltmak için elimden geleni yapacağım. Çünkü **uzun** ve **zor** bir soruyum. Fakat beni çözmeye başladığın yine de senden korkarım.

3.ÜNİTE

İnsanlar, Yerler ve Çevreler

Sayfa

► Nereye Yerleşelim?

76

► Tablo ve Grafiklerle Ülkemiz

80

► Doğduğun Yer Mi, Doyduğun Yer Mi?

84

► Yerleşme ve Seyahat Özgürlüğüm Var

88

► ÜNİTE DEĞERLENDİRME TESTİ

92

► SINAV MODU

99



1. Aşağıdakilerden hangisi nüfusu etkileyen doğal faktörler arasında yer almaz?

- A) Yer şekilleri
B) Ulaşım
C) Su kaynakları
D) İklim



2. I. Bursa
II. Bayburt
III. Kastamonu
IV. Bitlis

Numaralı yerlerin hangisinde kentsel nüfus miktarı en fazladır?

- A) I B) II C) III D) IV



3. ?

Doğu Anadolu Bölgemizde yer alan bu ilimizin tarihî geçmişi çok eskilere dayanır.

Arazisi yüksek ve engebelidir. Ekilebilecek tarım alanı çok azdır. Bu nedenle ekonomisi daha çok hayvancılığa dayanır.

Çok az sayıda sanayi kuruluşu vardır. Ülkemizin nüfus yoğunluğu en az ildir. Nüfus sayısı bakımından 80. sıradadır.

Buna göre diyagramın “?” olan yerine aşağıdaki merkezlerden hangisi yazılmalıdır?

- A) Bayburt B) Gümüşhane
C) Giresun D) Tunceli



4. Marmara Bölgesi'nde nüfus yoğunluğunun diğer bölgelerimize göre fazla olmasında, aşağıdakilerden hangisinin etkisi daha fazladır?

- A) İklim bakımından elverişli olması
B) Sanayinin gelişmiş olması
C) Topraklarının tarıma elverişli olması
D) Turizmin gelişmiş olması



- İklim koşulları elverişsizdir.
- Yükseltisi fazladır.
- Ulaşımı zordur.
- Yer şekilleri engebelidir.

Buna göre, kavram haritasının hangi bölümünde, bilgi yanlışı yapılmıştır?

- A) 1 B) 2 C) 3 D) 4



6. Yüz ölçümleri eşit olan üç ilden A ilinde kilometrekareye 100 kişi, B ilinde 75 kişi, C ilinde ise 50 kişi düşmektedir.

Bu bilgilere göre, aşağıdaki bilgilerden hangisine ulaşamaz?

- A) Yer şekillerinin en engebeli olduğu il A'dır.
B) B ilinin nüfusu C ilinden fazladır.
C) A ilinin nüfusu C ilinden fazladır.
D) B ilinin nüfusu A ilinden azdır.



1. Anadolu'da yapılan arkeolojik kazılarda çok eski dönemlere ait yerleşmelerin olduğuna dair kalıntıları bulunmaktadır. Anadolu toprakları, sahip olduğu özellikler nedeniyle ilk yerleşim bölgelerinden biri olmuştur. Geçmişte olduğu gibi günümüzde de yerleşim yeri olarak önemini korumaktadır. Aşağıda dört öğrenci, Anadolu'nun bazı özellikleriyle ilgili bilgiler vermiştir.

Orman bakımından fakir kurak arazilerinin bulunması



Cem

Dört mevsimin yaşandığı ılıman iklim özelliklerinin görülmesi



Mert

Verimli topraklara ve tatlı su kaynaklarına sahip olması



Gonca

Çok yüksek ve engebeli dağlık alanların bulunması



Burcu

Buna göre, Anadolu'nun ilk yerleşim bölgelerinden biri olmasında, hangi öğrencilerin söylediği özellikler daha çok etkili olmuştur?

A) Mert ve Burcu'nun

B) Cem ve Gonca'nın

C) Burcu ve Cem'in

D) Mert ve Gonca'nın



2. Aşağıdaki fotoğraf, nüfusu yaz aylarında artış gösteren bir ilçemize aittir.



Fotoğrafta gösterilen ilçenin yaz aylarındaki nüfus artışında, aşağıdakilerden hangisinin başlıca etken olduğu söylenebilir?

A) Sanayinin
C) Turizmin

B) Madencilik
D) Hayvancılığın



3.



Verilen 1, 2, 3 ve 4 numaralı alanların yüz ölçümleri eşit olduğuna göre bu alanlardaki nüfus yoğunluklarının sıralaması nasıl olmalıdır?

A) 1 > 2 > 3 > 4
C) 1 > 4 > 3 > 2

B) 4 > 1 > 2 > 3
D) 2 > 3 > 4 > 1



4.



Sevim Öğretmen

Çocuklar, iklime uygun tahıl ve bakliyat yetiştirilen Çatalhöyük, avcı-toplayıcı toplumdaki tarım toplumuna geçişin yaşandığı yerleşim yerlerinden biriymiş. Çok eski dönemlerde bataklıkların kıyılarına kadar uzanan dağ ormanlarının kuşattığı Çatalhöyük, bereketli bir arazi ile çevriliymiş. Höyük çevresindeki sulak alanlarda yoğun sazlıklar, çok çeşitli hayvan ve değerlendirilebilecek bitkiler barındırıyormuş. Son tespitler burada yaşayanların, tarlalarını bugünkü Çumra ilçesi civarında oluşturduklarını ve hayvan sürülerini Çatalhöyük'ten uzakta otlattıklarını ortaya koymaktadır.

Sevim Öğretmen'in yukarıdaki anlatımına göre, Çatalhöyük'ün Anadolu'daki ilk yerleşim merkezlerinden biri olmasında, aşağıdakilerden hangisi etkili olmamıştır?

- A) Tatlı su kaynaklarının yaygın olması
- B) Hayvancılığa elverişli otlakların bulunması
- C) İşlek bir doğal limanın bulunması
- D) Verimli tarım arazilerine sahip olması



5. Aşağıdaki Türkiye haritasında bazı yerler gösterilmiştir.



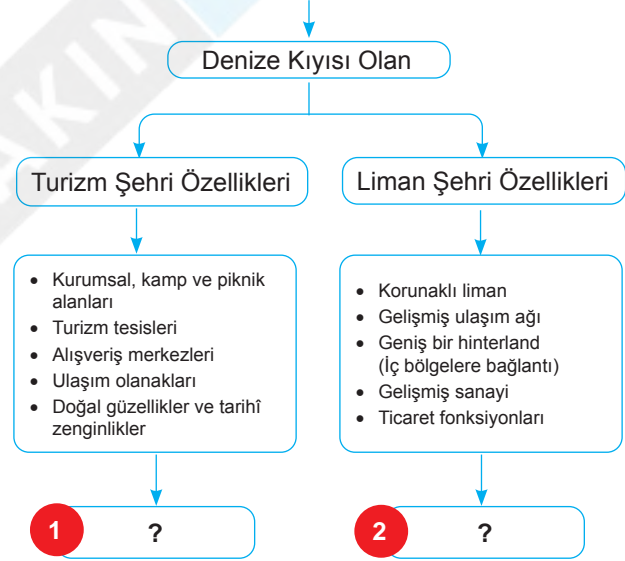
Haritadaki boyalı yerlerle ilgili, aşağıdakilerden hangisi söylenebilir?

- A) Türkiye'nin engebeli arazileridir.
- B) Türkiye'de nüfusun yoğun olduğu yerlerdir.
- C) Türkiye'de kadın nüfusun erkek nüfustan fazla olduğu yörelerdir.
- D) Türkiye'de Akdeniz ikliminin görüldüğü bölgelerdir.



6.

SU KENARLARINDA KURULAN ŞEHİRLERİN ÖZELLİKLERİ



Kavram haritasındaki 1 ve 2 numaralı yerlere, aşağıdakilerden hangisi yazılabilir?

	1	2
A)	Muğla	Samsun
B)	Bursa	Ankara
C)	Bodrum	Kayseri
D)	Rize	Erzurum



7. İnsanların barındığı, yaşadığı ve yararlandığı alanlara yerleşme denir. Yerleşmeyi etkileyen faktörler doğal ve beşerî faktörler olarak ikiye ayrılır. Doğal faktörler; yeryüzü şekilleri, iklim özellikleri, su kaynakları, toprak özellikleri, bitki örtüsü, yer altı kaynakları gibi faktörlerdir. Beşerî faktörler; tarım, hayvancılık, sanayi, ticaret, turizm, ulaşım gibi insan etkisiyle oluşan faaliyetlerdir.

Aşağıdaki tabloda, dört ilimizin nüfus durumunu etkileyen faktörler verilmiştir.

İLLER	YERLEŞME DURUMU	YERLEŞME DURUMUNU ETKİLEYEN FAKTÖRLER
ANTALYA	KALABALIK NÜFUSLU	Tarım ve turizm faaliyetlerinin gelişmiş olması
HAKKÂRİ	SEYREK NÜFUSLU	İklimin sert, arazinin yüksek ve çok dağlık olması
İSTANBUL	KALABALIK NÜFUSLU	İş ve ulaşım olanaklarının çok gelişmiş olması
ANKARA	KALABALIK NÜFUSLU	Başkent olması çok sayıda kamu kurumunun bulunması

Tablo incelendiğinde, hangi ilimizin nüfus durumu üzerinde doğal faktörlerin etkili olduğu söylenebilir?

- A) Antalya'nın B) Hakkâri'nin C) İstanbul'un D) Ankara'nın



8. Aşağıdaki haritada, Türkiye'nin 2018 yılı nüfusunun illere göre dağılışı gösterilmiştir.



Bu haritayı inceleyen Yalçın;

- I. Kuzeydoğu Anadolu'da nüfusu 100 binden az olan K ilini,
 II. Güneybatı Anadolu'da nüfusu 500 binden fazla olan L ilini,
 III. Orta Anadolu'da nüfusu 500 binden az olan M ilini bulacaktır.

Buna göre, Yalçın'ın bulacağı iller, aşağıdakilerin hangisinde doğru eşleştirilmiştir?

K	L	M
A) Kars	Antalya	Sivas
B) Erzurum	Aydın	Konya
C) Ardahan	Muğla	Yozgat
D) Artvin	Denizli	Aksaray



1.



Osmanlı tarihindeki ilk nüfus sayımını yaptım. Böylece vergi verecek ve askere gidecek kişileri tespit ettim.

Bu konuşma hangi Osmanlı padişahı tarafından yapılmıştır?

- A) II. Abdülhamit
B) II. Mahmut
C) II. Mehmet
D) II. Ahmet



2. Aşağıdaki tabloda, gelişmiş ve geri kalmış ülkelerde çalışan nüfusun ekonomik faaliyet türlerine göre dağılımı verilmiştir.

Sektörler	1	2
	Gelişmiş Ülkeler	Geri Kalmış Ülkeler
Tarım	%5	%60
Sanayi	%30	%10
Hizmet	%65	%30

Tablodaki 1 numaralı bölüme, aşağıdaki ülkelerden hangisi örnek olamaz?

- A) Hollanda
B) ABD
C) Mısır
D) Fransa



3. Aşağıdakilerden hangisi, nüfus sayımının amaçları arasında yer almaz?

- A) Ülkede yaşayan insan sayısını belirlemek (nüfus miktarı)
B) Ülkenin nüfus artış hızını tespit etmek
C) Nüfusun ülke içindeki dağılışını ve yoğunluğunu belirlemek
D) Halkın mesleklere olan ilgisini tespit etmek



4.

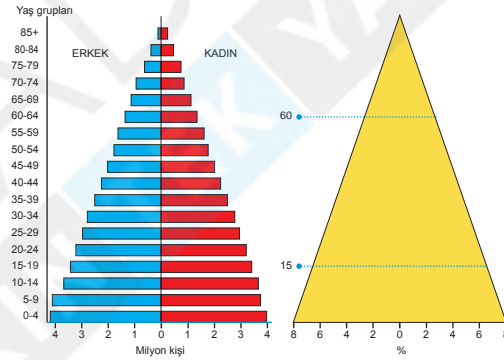
- I. Doğumların ölümlerden fazla olması
- II. Yurt dışından göçlerin olması
- III. Köylerden kentlere göçlerin olması
- IV. Kentlerde konut sayısının artması

Yukarıdakilerden hangilerinin, ülkemizin nüfus artışı üzerinde etkisi yoktur?

- A) I ve II.
B) I ve IV.
C) II ve III.
D) III ve IV.



5. Aşağıda bir ülkenin nüfus piramidi verilmiştir.



Nüfus piramidi verilen ülke ile ilgili hangi veriye ulaşamaz?

- A) Erkek - kadın nüfus oranına
B) Okuryazarlık durumuna
C) Kadın ve erkek nüfus miktarına
D) Gelişmişlik düzeyine



6. 0 - 14 yaş arasındaki nüfusa genç nüfus denir. Ülkemizde genç nüfus 1950 yılında yaklaşık % 40 civarındayken, bu oran 2018 yılında % 23,4'e gerilemiştir.

Buna göre, Türkiye'de genç nüfus oranının azalmasının temel nedeni aşağıdakilerden hangisidir?

- A) Başka ülkelere göçlerin gelmesi
B) Doğumların azalmasına bağlı olarak nüfus artış hızının düşmesi
C) Türkiye'den başka ülkelere göçlerin olması
D) Ülkenin toplam nüfusunun giderek artması



1. Aşağıdaki tabloda, Türkiye'nin 2014 - 2018 yılları arasındaki erkek, kadın ve toplam nüfusu verilmiştir.

YIL	ERKEK NÜFUS	KADIN NÜFUS	TOPLAM NÜFUS
2014	38 984 302	38 711 602	77 695 904
2015	39 511 191	39 229 862	78 741 053
2016	40 043 650	39 771 221	79 814 871
2017	40 535 135	40 275 390	80 810 525
2018	41 139 980	40 863 902	82 003 882

Tabloya göre, aşağıdaki yargılardan hangisine varılamaz?

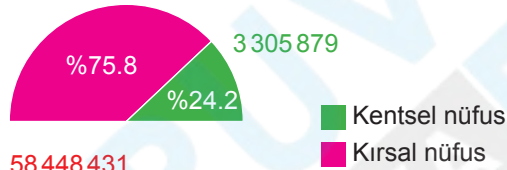
- A) Türkiye nüfusu her yıl aynı miktarda artmamıştır.
 B) Erkek nüfus miktarı daha fazladır.
 C) 2018 yılındaki Türkiye nüfusu, 2014 yılındakine göre 5 milyon kişiden daha fazladır.
 D) Hem erkek hem de kadın nüfus artmıştır.



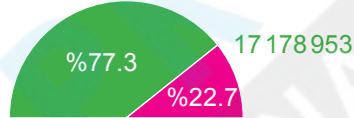
2.

Kır-Kent Nüfus Dağılımı

10 342 391



58 448 431



Yukarıdaki grafiklerde ülkemizdeki 1927 ve 2012 yıllarındaki kır ve kent nüfus oranları verilmiştir.

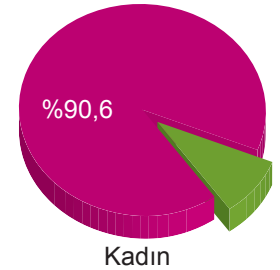
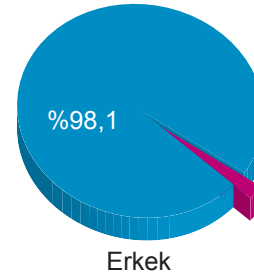
Bu değişimin nedeni, aşağıdakilerden hangisidir?

- A) Çocuk ölümlerinin azalması
 B) Tıp alanındaki gelişmeler
 C) İç göçler
 D) Dış göçler



3.

Aşağıdaki grafiklerde, ülkemizdeki 6 yaş üstü kadın ve erkeklerin okuryazarlık oranları gösterilmiştir.



Ülkemizdeki kadınlardaki okuryazarlık oranının az olmasında;

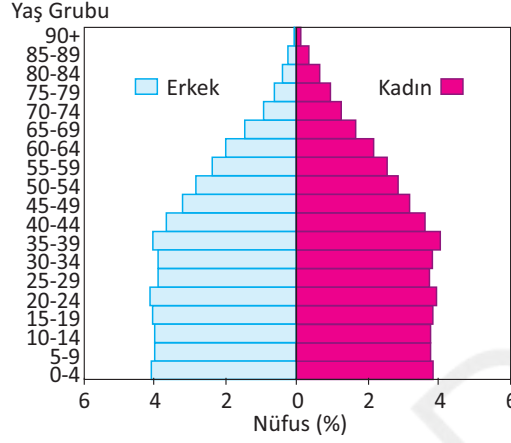
- I. aile ve çevre baskısı,
 II. iç göçler,
 III. erken evlilikler

faktörlerinden hangileri etkili olmuştur?

- A) I ve II. B) I ve III.
 C) II ve III. D) I, II ve III.



4. Türkiye İstatistik Kurumu'nun her yıl yayımladığı nüfus piramitleriyle Türkiye'nin nüfus özelliklerinin bir bölümü gösterilir. Aşağıda, Türkiye'nin 2018 yılı nüfus piramidi gösterilmiştir.

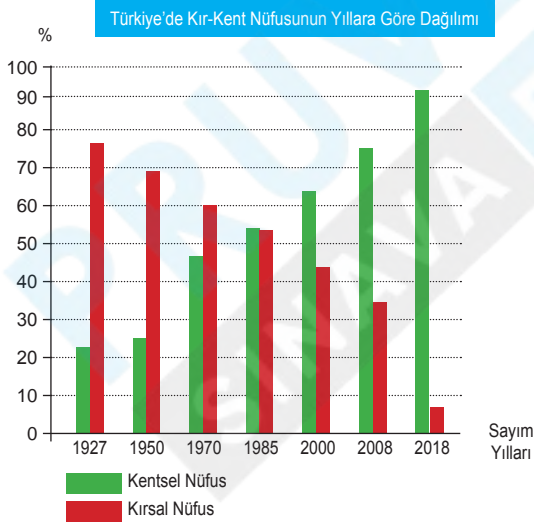


Bu grafikten, Türkiye nüfusuyla ilgili, aşağıdaki bilgilerden hangisi elde edilemez?

- A) 0 - 14 yaş grubundaki nüfus oranı
B) 15 - 64 yaş grubundaki şehirleşme oranı
C) 65 yaş üzerindeki nüfus oranı
D) Erkek ve kadın nüfus oranları



5. Aşağıdaki tabloda, bazı yıllara göre kır-kent nüfus oranları verilmiştir.

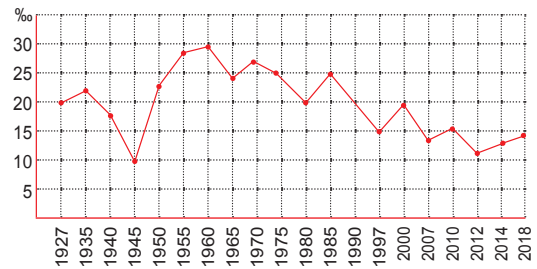


Buna göre, kent nüfusu ile kır nüfusu arasındaki farkın en fazla olduğu yıl hangisidir?

- A) 1927 B) 1970 C) 2000 D) 2018



6. Aşağıdaki grafikte, ülkemizde yıllara göre nüfus artış hızı verilmiştir.



Verilen grafiğe göre, ülkemizin nüfusuyla ilgili aşağıdakilerden hangisine ulaşılabilir?

- A) Türkiye'nin nüfusu sürekli artmıştır.
B) 1949 yılında nüfus azalmıştır.
C) 1960 yılında nüfus miktarı en fazla olmuştur.
D) 1945'ten 2018'e nüfus artış hızı sürekli artmıştır.



7. Ülkemizin nüfusuyla ilgili bilgiler, Türkiye İstatistik Kurumu (TÜİK)'nin sağladığı verilerden elde edilir. Günümüzde nüfusun sayısal fazlalığından daha çok sahip olduğu özellikler önem kazanmıştır.

Mete, Türkiye'de nüfusun özellikleriyle ilgili aşağıdaki etkinlik tablosunda araştırması gereken konu başlıklarını ✓ şeklinde, araştırması dışındaki konuları ✗ şeklinde işaretlemiştir.

1	Okuryazar nüfusun eğitim durumu	✓	2	Erkek ve kadın nüfus oranı	✓
3	Kişi başına düşen araç sayısı	✓	4	Şehirlerdeki konut tiplerinin dağılışı	✗

Buna göre, Mete kaç numaralı konuyu yanlış değerlendirmiştir?

A) 1

B) 2

C) 3

D) 4



8. Aşağıda, ülkemizde bazı yıllara ve eğitim düzeylerine göre okullaşma oranlarıyla ilgili tablolar verilmiştir.

YIL	İLKOKUL			ORTAOKUL		
	TÜRKİYE ORTALAMASI (%)	ERKEK	KADIN	TÜRKİYE ORTALAMASI (%)	ERKEK	KADIN
2014 - 2015	96,3	96	96,6	94,3	94,4	94,3
2015 - 2016	94,9	94,5	95,2	94,4	94,4	94,4
2016 - 2017	91,2	91,1	91,2	95,7	95,6	95,8

YIL	ORTAÖĞRETİM (LİSE VE DENGİ OKUL)			YÜKSEKÖĞRETİM (YÜKSEKOKUL, ÜNİVERSİTE)		
	TÜRKİYE ORTALAMASI (%)	ERKEK	KADIN	TÜRKİYE ORTALAMASI (%)	ERKEK	KADIN
2014 - 2015	79,4	79,5	79,3	39,5	38	41,1
2015 - 2016	79,8	79,4	80,2	40,9	39,2	42,6
2016 - 2017	82,5	82,7	82,4	42,4	40,5	44,4

Bu tablolar incelendiğinde, ülkemizde nüfusun okullaşma oranıyla ilgili olarak, aşağıdakilerden hangisi söylenemez?

A) Ortaokul düzeyindeki okullaşma oranı Türkiye ortalaması giderek artmıştır.

B) 2014 - 2015 öğretim yılında, erkek nüfusun ilkökul düzeyindeki okullaşma oranı, kadın nüfusununkinden düşüktür.

C) Yükseköğretim düzeyindeki okullaşma oranı, diğer mezunlara göre daha düşüktür.

D) 2016 - 2017 öğretim yılında, ortaöğretim düzeyindeki okullaşma oranı hem erkek, hem de kadın nüfusta Türkiye ortalamasından yüksektir.



1.



+

→

?



Diyagramda “?” olan yere aşağıdakilerden hangisi yazılmalıdır?

- A) Kırdan kente göç yaşanır.
- B) Nüfus artış hızı azalır.
- C) Çocuk ölümleri azalır.
- D) Şehir nüfusunun oranı azalır.



2. Turizmin önem kazanmasıyla aşağıdaki illerden hangisi daha çok iç göç almaktadır?

- A) Zonguldak
- B) Antalya
- C) Şanlıurfa
- D) Edirne



3.

1. Tayin ve atamalar
2. Ekonomik zorluklar
3. Eğitim, sağlık ve sosyal hizmetlerin ülke geneline dengeli yayılması
4. Tarım arazilerindeki makineleşme

Verilenlerden hangisi göçlerin nedenleri arasında yer almaz?

- A) 1.
- B) 2.
- C) 3.
- D) 4.



4.

Sanırım 45-50 yıl önceydi. Köyümüze traktör ve biçerdöver geldiğinde çok sevinmiştik. Bu makineler bizim günlerce uğraşarak sürdüğümüz ve biçtiğimiz toprakları birkaç saatte işledi. Hatta kazma vuramadığımız toprakları bile ekip biçmeye başladı. Nereden bilebilirdik, artık köyümüzde bize ekmek kalmadığını. İş bulmak ümidiyle düştük gurbet ellere...



Aşağıdaki illerin hangisinde, verilen nedene bağlı olarak göçlerin daha az olması beklenir?

- A) Adana
- B) Samsun
- C) Artvin
- D) Konya



5.

Göç veren yerlerde kadın nüfus oranı erkek nüfus oranından fazla olur. Bunun nedeni göçe çıkanların erkek olmasıdır.

Balonlarda yazan illerimizin hangisindeki kadın oranı erkek oranından daha fazladır?



?



Gökhan

Gökhan hangi balonu alırsa öğretmenin sorusuna doğru cevap vermiş olur?

- A) 1.
- B) 2.
- C) 3.
- D) 4.



1.



Hüseyin Bey

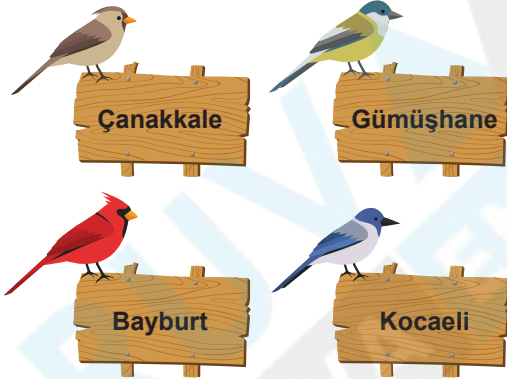
İstanbul'a bundan 20 yıl önce göç ettim. Yerleştiğim mahallenin geldiğim köyden farkının olmadığını gördüm. Derme çatma yapılar, asfalsız çamurlu yollar, elektriksiz ve susuz evler... Komşularımın çoğu ya işsiz ya da asgari ücretle çalışmaktaydı. Mahallemizin yanında yeni modern binalar yapılmaya başlandı. Geçen 20 yıl içinde pek fazla bir şey değişmedi. Bazı yollar asfaltlandı, evlere su ve elektrik geldi. Ancak yine büyük ve modern sitelerin yanında derme çatma yapılar yapılmaya devam ediyor.

Hüseyin Bey anlatımında, İstanbul'la ilgili olarak aşağıdakilerden hangisini vurgulamıştır?





- A) Konut ücretlerinin düşük olduğu
- B) Yoğun göçlerin çeşitli sorunlara neden olduğu
- C) Nüfusunun hızla azaldığı
- D) Göç alma oranının birçok şehirden daha az olduğu



2.



Hangi kuşun konduğu tabelada, göçler sonucunda geçekondulaşmanın ve çevre kirliliğinin yaşandığı kentin adı vardır?

- A) 
- B) 
- C) 
- D) 



3.



Hamza Amca

Memleketimin sert iklim şartları sağlığını bozdu. Bu yüzden kış mevsiminin ılıman ve tarımsal sezonunun uzun sürdüğü yılda birkaç kez ürün alınabilen bir yere taşınmak istiyorum.

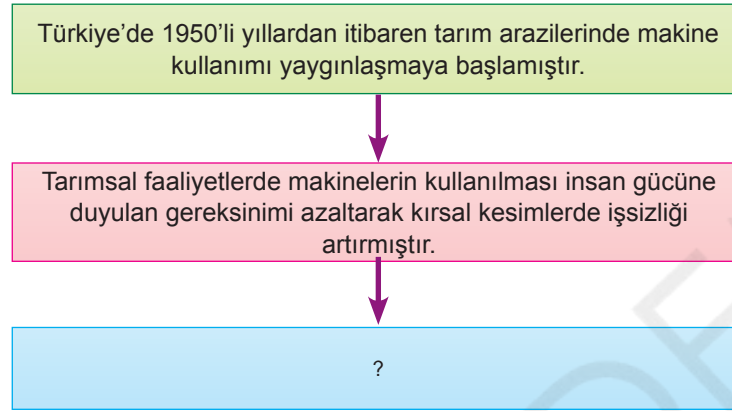


Bu bilgilere göre Hamza Amca'nın haritada belirlenmiş olan illerden hangisine göç etmesi uygundur?

- A) Adana
- B) Sivas
- C) Hakkâri
- D) Kütahya



4. Aşağıdaki diyagramda, birbirinin nedeni olan olaylar sıralanmıştır.



Diyagramdaki süreç göz önüne alındığında, soru işareti olan kutucuğa aşağıdakilerden hangisi yazılmalıdır?

- A) Kırsal kesimlerden bazıları büyüyerek kent yerleşmelerine dönüşmüştür.
 B) Tarımsal üretim ve tarımsal verim artmıştır.
 C) Kırsal kesimlerden kentlere iş bulmak amacıyla yoğun göçler olmuştur.
 D) Tarım arazilerinden daha fazla yararlanılmaya başlanmıştır.



5.

İyi eğitim görmüş, alanında uzman, nitelikli insanların gelişmiş ülkelere doğru yaptığı göçler.

1

a İşçi Göçü

Ülkeler arasında yapılan anlaşmalara bağlı olarak yapılan zorunlu göçler.

2

b Mübadele Göçü

Almanya başta olmak üzere çeşitli Avrupa ülkelerindeki fabrikalarda çalışmak amacıyla yapılan göçler.

3

c Beyin Göçü

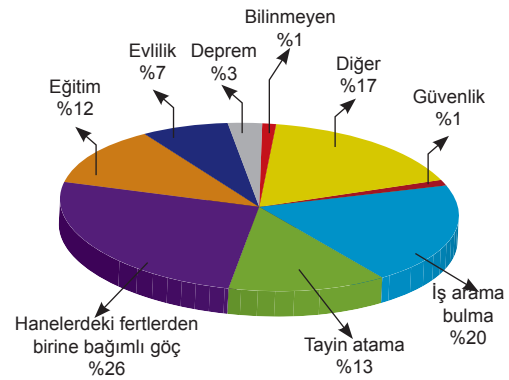
Etkinliğimizi doğru tamamlayabilmek için, eşleştirmeyi nasıl yapmalıyız?

	1	2	3
A)	a	b	c
B)	b	c	a
C)	c	b	a
D)	a	c	b



6.

İç Göçlerin Nedenleri



İç göçlerin nedenleriyle ilgili verilen dilimli grafikten ülkemizle ilgili hangi yargıya ulaşamaz?

- A) Doğal afetlerden kaynaklı nüfus hareketi yaşanmıştır.
 B) Ekonomik sebepler iç göçlerin nedenlerinden birisidir.
 C) Sosyal nedenlerden dolayı göç hareketi yaşanmıştır.
 D) İç göçlerin hepsi zorunlu nedenlerden dolayı gerçekleşmiştir.



7. İnsanların kendi iradesiyle gerçekleştirdiği göçlere gönüllü göç, çeşitli baskılar sonucu gerçekleşen göçlere zorunlu göç denir. Ülke sınırları içinde gerçekleşen göçlere iç göç, ülkeler arasında gerçekleşen göçlere dış göç denir. İnsanların bulunduğu yeri kalıcı olarak terk ederek gerçekleşen göçlere sürekli göç, belirli bir mevsim için yapılan tarım, yayla ya da turizm göçlerine mevsimlik göç denir.

Aşağıdaki kutucuklarda verilen göç hareketleri ile bunların ilgili olduğu göç türleri eşleştirilecektir.

Samsunlu bir ailenin, üç aylığına Japonya'ya gitmesi 1	a Mevsimlik göç
Rizeli köylülerin yaz aylarını geçirmek üzere hayvanlarıyla birlikte yaylalara çıkması 2	b Zorunlu göç
İstanbul'da öğretmenlik yapan Serkan Bey'in tayini nedeniyle Bitlis'e taşınması 3	c Dış göç

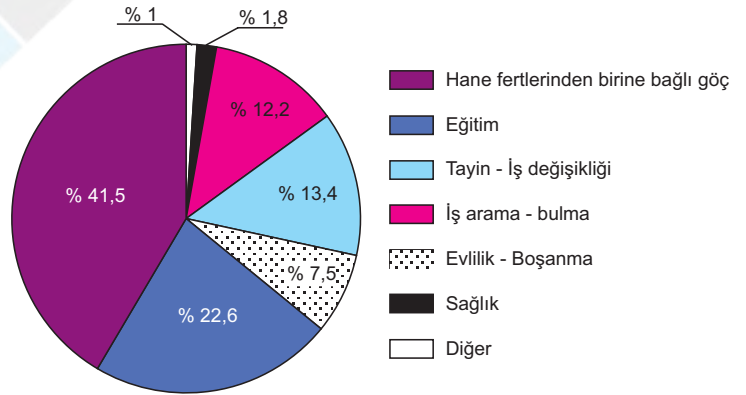
Buna göre, yapılan doğru eşleştirme aşağıdakilerden hangisinde verilmiştir?

- A) 2 - c, 1 - a, 3 - b
B) 1 - c, 2 - a, 3 - b
C) 3 - a, 2 - c, 1 - b
D) 1 - a, 3 - c, 2 - b



8. Aşağıdaki tabloda, Türkiye'nin 2014 - 2018 yılları arasında iller arasında göç eden erkek, kadın ve toplam nüfus miktarları, aşağıdaki grafikte ise göç eden nüfusun göç etme nedenleri verilmiştir.

YIL	ERKEK NÜFUS	KADIN NÜFUS	TOPLAM NÜFUS
2014	1 305 498	1 305 777	2 681 275
2015	1 328 359	1 392 079	2 720 438
2016	1 281 152	1 338 251	2 619 403
2017	1 316 542	1 368 278	2 684 820
2018	1 505 879	1 551 727	3 057 606



Tabloya ve grafiğe göre, aşağıdaki yargılardan hangisine varılamaz?

- A) 2016 yılında, iller arasında göç eden erkek ve kadın nüfus bir önceki yıla göre azalmıştır.
B) Eğitim, göç nedenleri içinde ikinci sıradadır.
C) Sağlık nedenine bağlı göçler, iş arama - bulma nedenine bağlı göçlerden fazladır.
D) 2018 yılında, iller arasında göç eden kadın nüfus, erkek nüfustan fazladır.



1.

A görseli



B görseli



Yukarıdaki fotoğrafları inceleyiniz. Fotoğraflardaki seyahatler hangi amaçlar için yapılmaktadır?

Yukarıdaki etkinlik, seçeneklerden hangisi ile cevaplanırsa doğru tamamlanabilir?

	A görseli	B görseli
A)	Tarım	Ticaret
B)	Yaylacılık	Turizm
C)	İşçi göçü	Sanayi
D)	Beyin göçü	Turizm



2. Hangi durumda bir yerden başka bir yere gidişte seyahat özgürlüğü kısıtlanmaz?

- A) Salgın hastalık
- B) Savaş
- C) Başka bir ülkede eğitim görme
- D) Karantina




3. İstanbul'da yaşayan Tayfun Bey, şehrin kalabalığından ve gürültüsünden kaçmak için memleketi Kırklareli'nin bir köyünde ev yaptırmış ve burada yaşamaya başlamıştır. Dostlarını ziyaret etmek için de sık sık İstanbul'a gidip gelmektedir.

Bu durum Tayfun Bey'in öncelikle hangi hak ve özgürlüğünü kullandığına örnek olmuştur?

- A) Yerleşme ve seyahat
- B) Özel yaşamın gizliliği
- C) Düşünceyi açıklama
- D) Haberleşme



4.



İmarlı Alan



Sit Alanı



Arkeolojik Alan



Hazine Arazileri

Görselleri verilen yerlerden kaç tanesine konut yapılabilir?

- A) 1
- B) 2
- C) 3
- D) 4



5. Aşağıdakilerden hangisi, bireylerin doğrudan yerleşme ve seyahat özgürlüğünü kullanmasına bir örnektir?

- A) Bir öğrencinin sabah evinden okula gitmesi
- B) Bir ailenin, iş ve eğitim olanaklarından yararlanmak için köyden şehre taşınması
- C) Bir öğrencinin okulun düzenlediği geziye katılması
- D) Bir vatandaşın seçimlerde oy kullanması



6. Sağlık nedenlerinden dolayı karantinaya alınan köyden çıkmak isteyen iki kişi, güvenlik güçleri tarafından engellendi.

Yukarıdaki haberdan;

- I. Bazı durumlarda seyahat özgürlüğünün kısıtlanabildiği,
- II. Yerleşme özgürlüğünün kamu yararına aykırı olamayacağı,
- III. Toplum sağlığının korunmaya çalışıldığı

sonuçlarından hangileri çıkarılabilir?

- A) Yalnız I
- B) Yalnız II
- C) I ve III
- D) II ve III



1. Ülkemizde yerleşme özgürlüğünü doğal koşulların yanında belirli durumlarda yasalar ve kanunlar da sınırlandırmaktadır. Nitekim Anayasa'mızın 23. maddesinde yerleşme özgürlüğünün, suç işlenmesini önlemek, sosyal ve ekonomik gelişmeyi sağlamak, sağlıklı ve düzenli kentleşmeyi gerçekleştirmek ve kamu mallarını korumak amaçlarıyla kanunla sınırlandırabileceği belirtilmiştir. Aşağıda, çeşitli özelliklere sahip dört bölge verilmiştir.

a

İnsan yaşamı için çok elverişli olmayan, sert iklim özelliklerinin görüldüğü bir yer

b

Deprem riski bulunan bölge

c

Askerî bölge olarak ilan edilen alan

d

Çok yüksek ve eğimli, dağlık bir arazi

Buna göre, yukarıdaki bölgelerden hangisinde yerleşmeyi sınırlandıran faktör doğal koşullar değil, yasalar ve kanunlardır?

A) a

B) b

C) c

D) d



2.

Bu yaz tatilinde Hint Okyanusu'nda yer alan Maldivler'e gideceğim. Bir turizm şirketinin bu ülkeye düzenleyeceği tur için rezervasyonumu yaptırdım bile. Şimdiden tatili tabir yerindeyse iple çekiyorum.



Candan Hanım, yaz tatili için Maldivler'e giderse, aşağıdaki anayasal haklarından hangisini kullanmış olur?

A) Eğitim

B) Haber alma

C) Çalışma

D) Seyahat



3.

- Vatandaşlarımız ülke sınırları içinde istedikleri yere gidebilir ve yerleşebilirler.
- Yerleşim alanı seçiminde fiziki özellikler (yüksekti, engebe, su kaynakları, iklim, bitki örtüsü) ve ekonomik faaliyetler (sanayi, ticaret, turizm, ulaşım gibi) etkilidir.

Aşağıdaki durumların hangisi, gerçekleşirse yerleşme özgürlüğü kısıtlanabilir?

- A) Ayşe Hanım'ın babasının köyüne yerleşip hayvancılıkla uğraşmaya başlaması
- B) Mehmet Bey'in emekli olduktan sonra memleketindeki tapulu arazisine bir köy evi yaptırması
- C) Selim Bey'in Bodrum'dan bir yazlık satın alıp burada yaşamaya başlaması
- D) Tarık Bey'in milli park alanına bir ev yaptırıp yazlarını burada geçirmesi



4. Aşağıda, kalabalık nüfuslu şehirlerimizde düzensiz kentleşmeyle ilgili bir görsel verilmiştir.



Ülkemizde yoğun göç alan kalabalık nüfuslu şehirlerimizde düzensiz kentleşme önemli bir sorundur. Bu nedenle Anayasa'mızın 23. maddesinde yerleşme özgürlüğünü sınırlandırılan durumlardan birisi de sağlıklı ve düzenli kentleşmeyi gerçekleştirmek ve kamu mallarını korumak olarak belirtilmiştir.

Buna göre, yukarıdaki görselde belirtilen ve düzensiz kentleşmeye neden olan durum, aşağıdakilerin hangisiyle ifade edilir?

- A) Hava kirliliği B) Gecekondulaşma C) Kentsel dönüşüm D) Çevre düzenlemesi



5. Aşağıda verilen bilgileri doğru (D) veya yanlış (Y) olarak işaretleyiniz.

		Doğru	Yanlış
1	Kişilerin seyahati, suç işlenmesini önlemek için sınırlandırılabilir.		
2	Vatandaşlarımız ülke sınırları içinde istedikleri yere gidebilir ve yerleşebilirler.		
3	Ülkemizde çalışma hayatını düzenleme ve yürütme görevi Türkiye İstatistik Kurumu (TÜİK)'na verilmiştir.		

Buna göre, etkinliğin tamamlanması sonrasında oluşan cevap anahtarı aşağıdakilerden hangisi gibi olacaktır?

A)

1	D	
2	D	
3		Y

B)

1		Y
2		Y
3	D	

C)

1	D	
2		Y
3	D	



D)



1		Y
2	D	
3		Y







6. Aşağıda, öğrencilerin birbirlerine karşılıklı sorduğu sorular verilmiştir.

Hangi seçenekteki öğrenci, arkadaşının sormuş olduğu soruya **yanlış** cevap vermiştir?

A)  Genel halk sağlığını korumak için seyahat özgürlüğü kısıtlanabilir mi?  Evet.

B)  Suç işlenmesini engellemek için seyahat hürriyeti engellenebilir mi?  Evet.

C)  Kamu mallarını korumak için yerleşme hürriyeti engellenebilir mi?  Evet.

D)  Olağanüstü durumlarda temel hakların tamamı kısıtlanabilir mi?  Evet.



7.



Sevim Öğretmen

Türkiye Cumhuriyeti vatandaşı olan herkes, istediği zaman istediği yere seyahat edebilir mi?

Evet. Çünkü yerleşme ve seyahat özgürlüğü hiçbir durumda kısıtlanamaz.



Ümit

Hayır. Seyahat edilecek yerler ve seyahat edilecek durumlar kurallara bağlanmıştır.



Hakan

Evet. Ancak anayasamızda vatandaşların yerleşme ve seyahat özgürlüğünün bazı durumlarda kısıtlanabileceği belirtilmiştir.



Banu

Hayır. İnsanların bir yerden başka yere gitmesi için yaşadıkları yerin yöneticilerinden izin alması gerekir.



Gülşen

Sevim Öğretmenin sorusuna, en doğru cevabı hangi öğrenci vermiştir?

A) Ümit

B) Hakan

C) Banu

D) Gülşen



8.

1

Konut alacak gelir düzeyine sahip olmayan kişilerin yaşamlarını kiralandıkları konutlarda sürdürmesi

2

Vatandaşların yurt içi seyahatlerinde farklı seyahat araçlarını kullanması

3

Yaz tatilinin bir bölümünün deniz kıyısına kurulan kamp çadırında geçirilmesi

4

Her yaştan lise mezununun üniversiteye giriş sınavlarına girebilmesi

Yukarıdakilerden hangileri, yerleşme özgürlüğünün gereği olan durumlardır?

A) 1 ve 2.

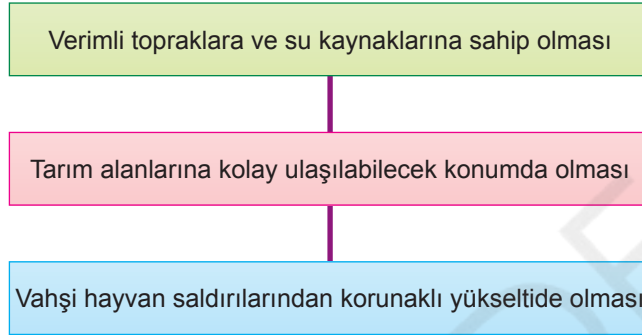
B) 1 ve 3.

C) 2 ve 4.

D) 3 ve 4.



1. İlk insanların barınak olarak mağara ve ağaç kovuklarını kullandıkları, temel ihtiyaçlarını avcılık ve toplayıcılıkla karşıladıkları bu nedenle göçebe hayat sürdükleri düşünülmektedir. Zamanla tarımı öğrenen ve hayvanları evcilleştiren insanlar yerleşik hayata geçmiştir. Aşağıda, ilk yerleşim alanlarının seçilmesinde göz önünde bulundurulmuş özelliklerle ilgili bir diyagram verilmiştir.

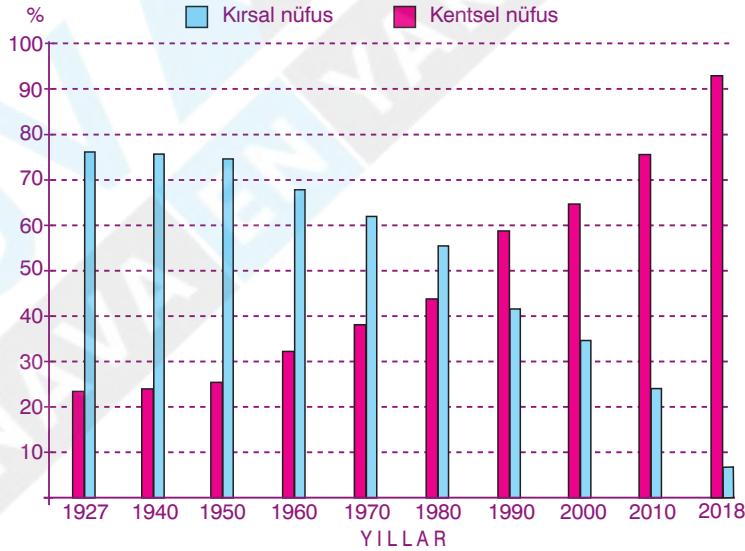


Bu diyagrama göre, ilk insanların yerleşim bölgelerini seçerken aşağıdakilerden hangisini dikkate aldıkları söylenmez?

- A) Ticaret yollarını B) Ulaşım kolaylığını C) Güvenlik ihtiyacını D) Tarıma elverişliliğini



2. Aşağıdaki grafikte, Türkiye'de bazı yıllardaki kırsal ve kentsel nüfus oranları gösterilmiştir.

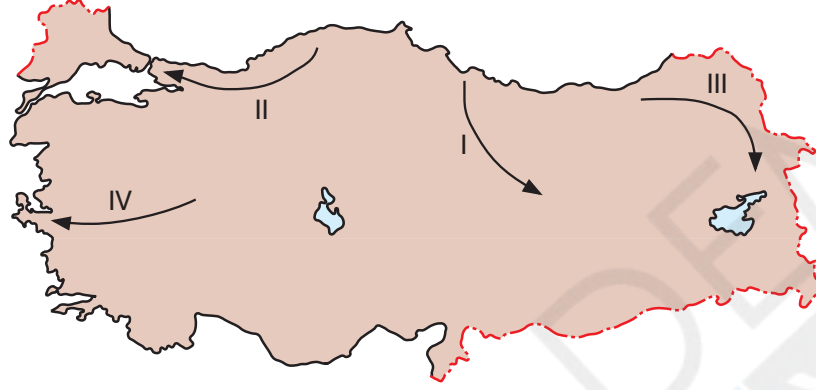


Grafiğe göre, aşağıdaki yargılardan hangisine varılamaz?

- A) 1980 ve öncesindeki yıllarda kırsal nüfus oranımız fazladır.
 B) 1980 - 1990 yılları arasında, kırsal ve kentsel nüfus oranımız birbirine en yakın oranlarda olmuştur.
 C) Kırsal nüfus oranımız azalmış, kentsel nüfus oranımız artmıştır.
 D) 1927 yılındaki kırsal nüfusumuz 70 milyon kişiden fazladır.



3. Göçlerin çok sayıda nedeni olmakla birlikte, ülkemizde en sık görülen göçler birey ya da toplulukların geçim sıkıntısı çekmesinden ya da daha iyi koşullarda yaşamak istemesinden kaynaklanan ekonomik nedenli göçlerdir. İş olanaklarının kısıtlı olduğu yerlerden bu olanakların fazla olduğu yerlere doğru göçler yaygındır. Aşağıdaki haritada görülen oklar, göç hareketlerinin yönünü göstermektedir.



Buna göre, iş olanakları göz önüne alındığında, haritadaki numaralandırılmış oklardan hangilerinin yönündeki göçlerin daha az olması beklenir?

- A) I ve II. B) I ve III. C) II ve III. D) III ve IV.



4.

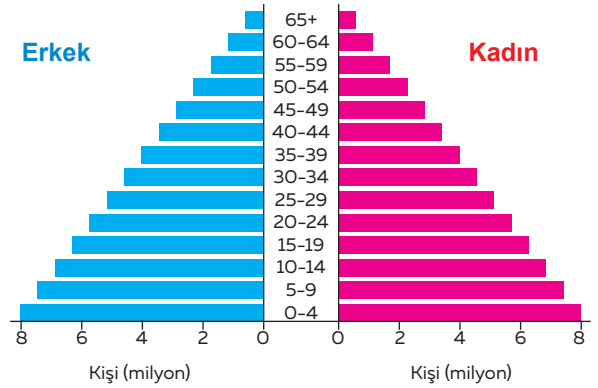


Şemanın doğru olabilmesi için kaç numaralı faktörler yer değiştirmelidir?

- A) 1 ile a B) 2 ile b
C) 3 ile b D) 4 ile d



5.



Nüfus piramidi verilen ülkedeki hangi yaş grubunun sayısal değeri en çoktur?

- A) 0-4 yaş grubunun
B) 5-9 yaş grubunun
C) 10-14 yaş grubunun
D) 15-19 yaş grubunun



6. Aşağıda "İnsanlar, Yerler ve Çevreler" ünitesindeki bir konuyla ilgili anlatım verilmiştir.

.....?.....
İlk yerleşmelerde inşa edilen evlerin çoğalmasıyla köy yerleşmeleri kurulmuştur. Sürdürülen tarım ve hayvancılığın yanı sıra zamanla ticaret, el sanatları ve madencilik gibi faaliyetler de ortaya çıkmıştır. Bu faaliyetlerin yaygınlaşmasıyla köyler büyüyerek şehirlere dönüşmeye başlamıştır. Bu şehirlerde zamanla ticaretin gelişmesiyle deniz kıyılarında limanlar ve liman şehirleri kurulmuştur. Sanayinin gelişmesiyle birlikte şehirlerin fonksiyonel değişimi hızlanmış eğitim, sağlık, kamu hizmetleri, turizm gibi çeşitli faaliyetler yaygınlaşmıştır.

Anlatım incelendiğinde, bu anlatıma verilebilecek en uygun başlık aşağıdakilerden hangisi olabilir?

- A) Yerleşmelerin Gelişimi
- B) Yerleşme ve Seyahat Özgürlüğü
- C) Göçün Neden ve Sonuçları
- D) Konargöçer yaşamın etkileri



7.

NO:1234 /11:12:2014

GAZETE

PRUVA GÜNLÜK GAZETE

TOKAT'ın Reşadiye ilçesine bağlı Doğan-tepe Köyü, kuş gribi nedeniyle karantinaya alınarak, sağlık ekipleri tarafından köy halkına virüsten koruyucu ilaç dağıtıldı. Doğan-tepe Köyü'nde 20 gün önce Bayram Şahin'in kümesinde tavuk ölümlerinin görülmesi üzerine köy muhtarı Hayrettin Topaloğlu durumu İlçe Tarım, Gıda ve Hayvancılık Müdürlüğü'ne bildirdi. İlçe Tarım, Gıda ve Hayvancılık Müdürlüğü ekipleri köye gelerek ölen tavuklardan bir tanesini araştırılmak üzere Samsun Hayvan Araştırma Hastanesi'ne gönderdi. Yapılan incelemede ölen tavukta kuş gribi virüsüne rastlandığı belirlendi.

İnternet haberi

Gazete haberine göre, vatandaşların hangi hakkı kısıtlanmıştır?

- A) Basın hakkı
- B) Seyahat hakkı
- C) Sağlık hakkı
- D) Çalışma hakkı



8. Aşağıdaki ifadeleri doğru ya da yanlış olarak değerlendiriniz.

		Doğru	Yanlış
a	Ülkemiz nüfusunun hızlı artmasıyla birim alana düşen insan sayısı da artmaktadır.		
b	İklim, nüfusun dağılışını etkileyen beşerî unsurlardan biridir.		
c	Sanayileşmiş alanlar göç vermektedir.		
d	Yer altı kaynakları nüfusun dağılışını etkilemez.		

Buna göre Gözde, verilen etkinliğin tüm sorularına doğru cevap verdiğine göre Gözde'nin etkinlikte kullandığı doğru işareti sayısı kaçtır?

- A) 1
- B) 2
- C) 3
- D) 4



9. Ülkemizde çalışma çağındaki nüfus içinde bir işte çalışan nüfusa çalışan (aktif) nüfus denir. Bu nüfusun çalıştığı iş kolları tarım, sanayi ve hizmet gibi ekonomik faaliyet alanlarında yer alır. Aşağıdaki tabloda, bazı yıllarda Türkiye'de çalışan nüfusun iş kollarına göre dağılım oranları yüzde (%) olarak verilmiştir.

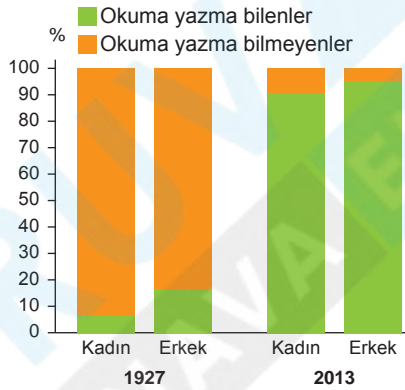
YIL	TARIM (%)	SANAYİ (%)	HİZMET (%)
1927	89,6	5,6	4,8
1955	77,4	6,7	15,9
1980	62,5	11,6	25,9
2018	18,4	26,7	54,9

Türkiye'de çalışan nüfusun ekonomik faaliyet kollarına göre dağılımının yıllara göre değişmesi, aşağıdakilerin hangisiyle açıklanabilir?

- A) Çalışan nüfus miktarının değişmesiyle
 B) Nüfus yoğunluğunun artmasıyla
 C) Ekonomik ve sosyal yönden gelişmeyle
 D) Nüfus artış hızının değişmesiyle



10.



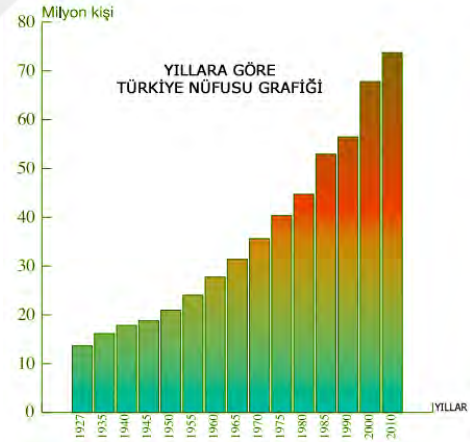
Ülkemiz nüfusunun 1927 ve 2013 yıllarında cinsiyete göre okuryazarlık oranları

Grafikteki değişimin yaşanmasında, aşağıdaki uygulamalardan hangisi etkili olmamıştır?

- A) Latin harflerinin kabul edilmesi
 B) Türk Dil Kurumu'nun kurulması
 C) Millet Mektepleri'nin açılması
 D) Okulların ülke genelinde yaygınlaştırılması



11.



Verilen grafiğe göre, Türkiye nüfusu ile ilgili aşağıdakilerden hangisi söylenemez?

- A) Nüfus sürekli artmıştır.
 B) Nüfus artış hızı bazı yıllarda değişmiştir.
 C) Bazı yıllarda kadın nüfus oranı erkek nüfus oranından fazla olmuştur.
 D) Nüfus 1927 ile 2010 yılları arasında dört kattan fazla artmıştır.



12. Aşağıda dört öğrencinin, ülkemizdeki yerleşme ve seyahat özgürlüğünün sınırlandırılmasıyla ilgili anlatımları verilmiştir.

Devletimiz, millî parklar, tarihi mekanlar, sit alanları gibi yerleri korumak için, bu alanlara yerleşme yasağı koymuştur.



Ahmet

Terör ve savaş gibi olağanüstü durumlarda devlet vatandaşlarını korumak için yerleşme ve seyahat özgürlüğünü kısıtlayabilir.



Gaye

Devletimiz, sosyal ve ekonomik gelişmeyi sağlamak için orman ve tarım alanlarına konut yapımını teşvik etmektedir.



Semra

Salgın hastalıkların görüldüğü yerleşmelerde, halk sağlığını korumak ve hastalığın yayılmasını engellemek için, bu yerleşmelere belirli bir süre giriş ve çıkışlar yasaklanabilmektedir.



Berk

Buna göre, hangi öğrenci anlatımında bir yanlışlık yapmıştır?

A) Ahmet

B) Semra

C) Gaye

D) Berk



13.



Kendi alanında uzman ve nitelikli iş gücünün göçüne, beyin göçü adı verilir.

Buna göre aşağıdaki ülkelerin hangisi arasında beyin göçü yaşanması beklenmez?

A) Hindistan'dan → Japonya'ya

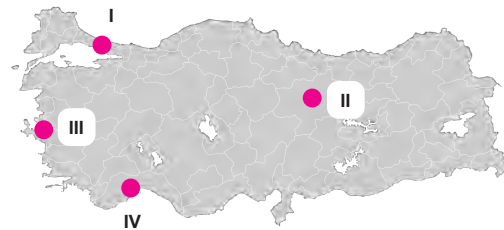
B) ABD'den → Çin'e

C) Meksika'dan → İngiltere'ye

D) Mısır'dan → Almanya'ya



14. İç göçler sonucu, göçün meydana geldiği yerlerdeki tarım arazileri boş kalır.



Buna göre, haritadaki merkezlerden hangisi bu genellemeye daha fazla uyar?

A) I.

B) II.

C) III.

D) IV.



15. Aşağıdaki tabloda, Türkiye'de bazı yıllardaki erkek ve kadın nüfus oranları verilmiştir.

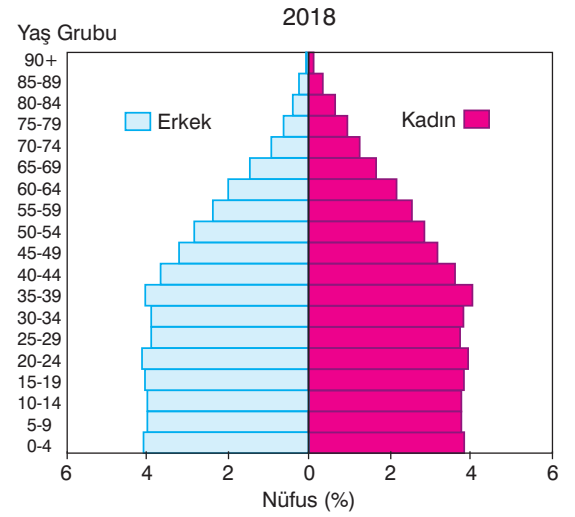
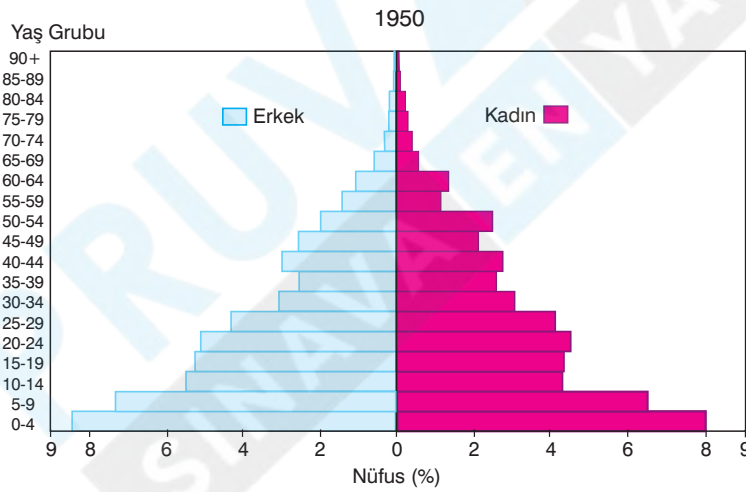
Yıl	Erkek Nüfus (%)	Kadın Nüfus (%)
1927	48,1	51,9
1940	49,9	50,1
1960	51	49
1980	50,7	49,3
2000	50,7	49,3
2018	50,2	49,8

Tabloya göre, aşağıdaki yargılardan hangisine varılabilir?

- A) Erkek nüfus sürekli azalmış, kadın nüfus ise sürekli artmıştır.
- B) Erkek nüfus daima kadın nüfustan fazla olmuştur.
- C) Erkek ve kadın nüfus illere göre düzenli dağılmıştır.
- D) Nüfusumuz cinsiyet bakımından dengeli bir yapıdadır.



16. Aşağıda, Türkiye'nin 1950 ve 2018 yıllarındaki nüfus piramitleri gösterilmiştir. Grafiklerde 0 - 14 yaş arasındaki nüfus genç nüfus, 15 - 64 yaş arasındaki nüfus olgun veya aktif nüfus, 65 yaş üzerindeki nüfus ise yaşlı nüfus olarak adlandırılır.



Buna göre, ülkemizde nüfusun yaş gruplarına göre dağılımında görülen bu değişme üzerinde;

- I. Dış göçlerin artması,
- II. Doğum oranının düzenli olarak azalması,
- III. Mevsimlik göçlerin olması,
- IV. Ortalama yaşam süresinin uzaması

etmenlerinden hangilerinin neden olduğu söylenebilir?

- A) I ve II.
- B) I ve III.
- C) II ve IV.
- D) III ve IV.

PRUVY KAKADEM!
SINAVALENY YAKIN TEK YAKIN



PRUVA AKADEMİ YAYINLARI
ÖLÇME, DEĞERLENDİRME VE SINAV HİZMETLERİ BİRİMİ

SINAVLA ÖĞRENCİ ALACAK ORTAÖĞRETİM
KURUMLARINA İLİŞKİN BRANŞ DENEMESİ

SÖZEL BÖLÜM



Adı ve Soyadı :

Sınıfı / Şubesi :

Öğrenci Numarası :

DERS ADI	SORU SAYISI	SINAV SÜRESİ (DAKİKA)
SOSYAL BİLGİLER	10	15

SINAV MODU

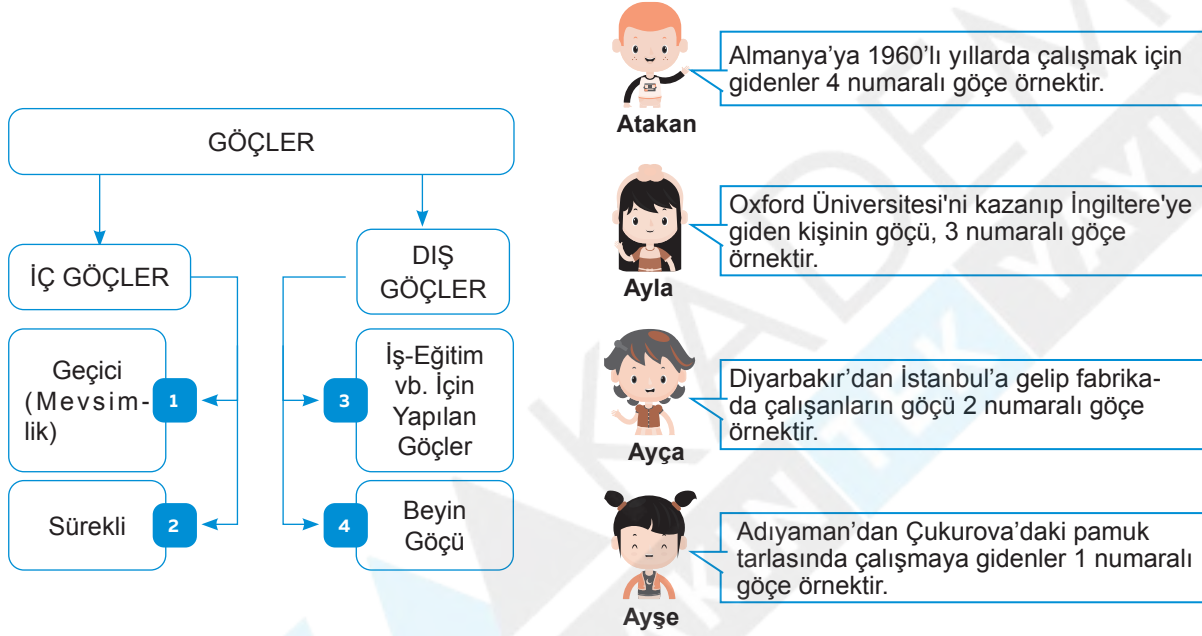
ÖĞRENCİLERİN DİKKATİNE!

1. Konulardaki eksiklerinizi gidermeden sınava başlamayınız.
2. Soruları sınav süresine uygun olarak çözmeye özen gösteriniz.

SOSYAL BİLGİLER

Bu testte 10 soru vardır.

1. Aşağıdaki öğrenciler, kavram haritasında numaralandırılan göç türlerine örnekler vermiştir.



Buna göre, hangi öğrencinin verdiği örnek yanlıştır?

- A) Atakan B) Ayla C) Ayça D) Ayşe

2.



Seval Hanım

İstanbul'da bir finans şirketinde insan kaynakları müdürüyüm. Emekliliğim yaklaştı. Emekli olur olmaz şehrin kalabalıklığından ve gürültüsünden kaçmak için yakın bir köyde bahçeli bir ev alarak burada yaşamak istiyorum. Böylece dostlarımı ziyaret etmek ve gezmek için İstanbul'a da gidip gelebilirim.

Seval Hanım'ın emekliliğinde düşündüğü bu durum, öncelikle hangi hak ve özgürlüğünü kullanacağına örnek oluşturur?

- A) Eğitim ve öğrenim B) Özel yaşamın gizliliği C) Haber alma D) Yerleşme ve seyahat

3. Bireylerin veya toplulukların doğal, ekonomik, toplumsal ve siyasi sebeplerle bir yerden başka bir yere gitmesine göç denir. Bir ülkenin kendi sınırları içinde gerçekleşen göçlere iç göç, ülkeler arasında gerçekleşen göçlere dış göç denir. Ülkemizde gerçekleşen göçlerin çoğu ekonomik nedenlere bağlı olarak gerçekleşmektedir.

Aşağıda Tuncay Bey, Serap Hanım, Cemil Bey ve Metin Bey'in yaptıkları göçlerle ilgili anlatımları verilmiştir.

Uzun yıllar Bursa'da çalıştığım şirketten emekli oldum. Kalan yaşamımda dinlenmek için özlem duyduğum köyüme göç ettim.



Tuncay Bey

Antalya'da yaşıyorum. Geçen yıl girdiğim YKS sınavı sonucuna göre İstanbul Üniversitesi Hukuk Fakültesi'ni kazandım. Eğitimime bu üniversitede devam etmek için İstanbul'a göç ettim.



Serap Hanım

Aslen Şanlıurfalıyız. Ailemle başka bir aile arasında dedelerimizden beri süre gelen kan davası var. Bu nedenle ailemle birlikte Ankara'ya göç etmişiz.



Cemil Bey

Uzun yıllar çiftçilik yaptım. Ancak arazilerimden eskisi gibi verim alamıyordum. Ben de arazilerimi satıp yeni bir iş kurmak için İzmir'e göç ettim.



Metin Bey

Buna göre, hangi kişinin yaptığı göç, ekonomik nedenlere dayalıdır?

- A) Tunca Bey'in B) Serap Hanım'ın C) Cemil Bey'in D) Metin Bey'in

4. İklim ve yer şekillerinin olumsuz etkileri ekonomik faaliyetleri sınırlandırdığı için dışarıya göç vermektedir.

**Aşağıdaki merkezlerden hangisi bu genellemeye uy-
maz?**

- A) Hakkâri B) Erzurum
C) Bursa D) Ağrı

5.

Nüfus Artışının Olumlu Sonuçları

1. Üretim artar.
2. Vergi gelirleri azalır.
3. Mal ve hizmetlere talep artar.
4. Yeni endüstri dalları doğar.

Verilen bilgilerin hangi aşamasındaki bilgi yanlıştır?

- A) 1 B) 2 C) 3 D) 4

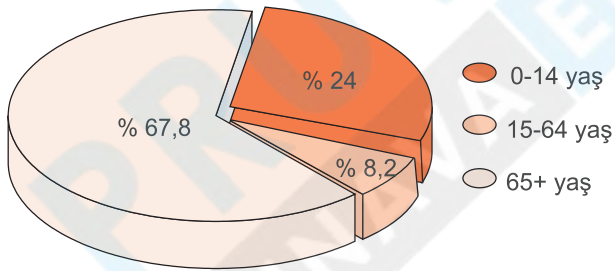
6.



Yukarıdaki Türkiye nüfus yoğunluğu haritasından yararlanarak, aşağıdaki yargılardan hangisine ulaşamaz?

- A) Nüfus yoğunluğu en fazla olan il İstanbul'dur.
 B) Konya ilinin nüfus yoğunluğu Antalya'nınkinden azdır.
 C) Kırşehir, Yozgat ve Sivas İç Anadolu Bölgesi'nde nüfus yoğunluğu az olan illerdir.
 D) Yüz ölçümü geniş olan illerin nüfus yoğunlukları fazladır.

7. Aşağıdaki grafikte, Türkiye'de nüfusun yaş gruplarına göre dağılım oranları verilmiştir.



Grafiğe göre Türkiye nüfusuyla ilgili, aşağıdaki yargılardan hangisine varılabilir?

- A) Nüfus artış hızı çok düşüktür.
 B) Çalışan nüfusun büyük bölümü tarım sektöründedir.
 C) Genç nüfuslu bir ülkedir.
 D) Kentleşme oranı çok düşüktür.

8. Bir yerde, bir yıl içinde doğanlarla ölenler arasındaki sayısal farka nüfus artışı denir. Bir ülkede doğum oranı fazla, ölüm oranı az ise nüfus artışı meydana gelir.

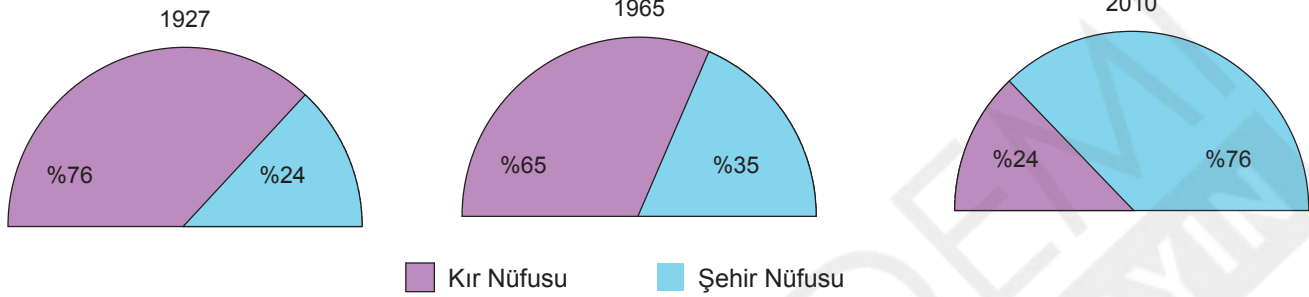
Buna göre;

Ülke	Doğum	Ölüm	Nüfus Artışı
1	‰ 20	‰ 5	‰ 15
2	‰ 18	‰ 3	‰ 20
3	‰ 20	‰ 2	‰ 18
4	‰ 10	‰ 1	‰ 9


ülkelerinden hangisi dış göç almıştır?

- A) 1 B) 2 C) 3 D) 4

9. Aşağıdaki grafiklerde, Türkiye'deki kır ve şehir nüfuslarının 1927, 1965 ve 2010 yıllarındaki dağılımı gösterilmiştir.



Grafiklerdeki değişime etkisi olan araçlar arasında, aşağıdakilerden hangisinin olduğu söylenebilir?



10.



Tekirdağ ilinin ilçelerinden biri olan Çerkezköy, Tekirdağ'a 56 km, İstanbul'a ise 110 km uzaklıktadır. İlçenin arazisi hafif engebeli topraklardan oluşur. İlçenin nüfusu 146 319 kişidir. Yüz ölçümü 326 km² dir. İlçede 1500'ün üzerinde sanayi tesisi bulunmaktadır. 1970'li yıllara kadar ekonomisi tarıma dayalı olan ilçede, bugün tarımla uğraşan nüfus toplam nüfusun ancak % 15'ini oluşturmaktadır.

Sosyal Bilgiler öğretmenin anlatımına göre, Çerkezköy ile ilgili olarak, aşağıdaki yargılardan hangisine varılabilir?

- A) Kadın nüfus, erkek nüfustan fazladır.
- B) Nüfusun büyük bölümü, geçimini tarım ve hayvancılıktan sağlar.
- C) Olumsuz yer şekilleri özelliklerine sahiptir.
- D) Gelişmesinde sanayi faaliyetlerinin etkisi fazladır.

PRÜVÜ KADEMİ
SINAVA EN YAKIN TEK YAKIN