




Úsáid dúbailtí chun na fadhbanna seo a réiteach

(a)	<input type="text"/> + <input type="text"/> = <input type="text"/> 2	→	$\frac{1}{2}$ de 2 = <input type="text"/>
(b)	<input type="text"/> + <input type="text"/> = <input type="text"/> 4	→	$\frac{1}{2}$ de 4 = <input type="text"/>
(c)	<input type="text"/> + <input type="text"/> = <input type="text"/> 6	→	$\frac{1}{2}$ de 6 = <input type="text"/>
(d)	<input type="text"/> + <input type="text"/> = <input type="text"/> 8	→	$\frac{1}{2}$ de 8 = <input type="text"/>
(e)	<input type="text"/> + <input type="text"/> = <input type="text"/> 10	→	$\frac{1}{2}$ de 10 = <input type="text"/>
(f)	<input type="text"/> + <input type="text"/> = <input type="text"/> 12	→	$\frac{1}{2}$ de 12 = <input type="text"/>
(g)	<input type="text"/> + <input type="text"/> = <input type="text"/> 14	→	$\frac{1}{2}$ de 14 = <input type="text"/>
(h)	<input type="text"/> + <input type="text"/> = <input type="text"/> 16	→	$\frac{1}{2}$ de 16 = <input type="text"/>
(i)	<input type="text"/> + <input type="text"/> = <input type="text"/> 18	→	$\frac{1}{2}$ de 18 = <input type="text"/>
(j)	<input type="text"/> + <input type="text"/> = <input type="text"/> 20	→	$\frac{1}{2}$ de 20 = <input type="text"/>

Cuir dath ar leath gach tacair:

(a)		(b)		(c)	
$\text{Is } \frac{1}{2} \text{ de } 14 \text{ é } $		$\text{Is } \frac{1}{2} \text{ de } 16 \text{ é } $		$\text{Is } \frac{1}{2} \text{ de } 4 \text{ é } $	

(d)		(e)		(f)	
$\text{Is } \frac{1}{2} \text{ de } 8 \text{ é } $		$\text{Is } \frac{1}{2} \text{ de } 18 \text{ é } $		$\text{Is } \frac{1}{2} \text{ de } 10 \text{ é } $	