

# Φτιάξε 5 τελίτσες

και τοποθέτησέ τις στην πασχαλίτσα,  
όσες θες σε κάθε φτερό.



Με πόσους διαφορετικούς συνδυασμούς  
μπορείς να φτιάξεις τον αριθμό 5;

# Φτιάξε 6 έντομα

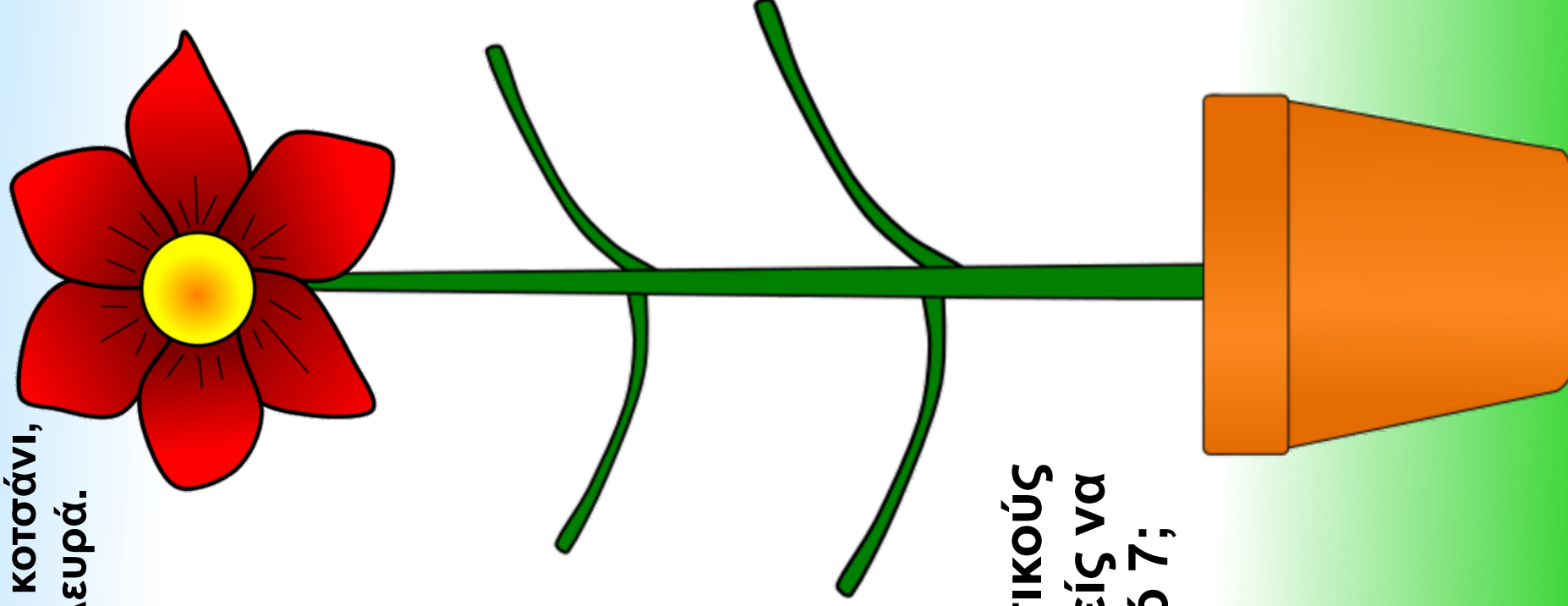
και τοποθέτησέ τα πάνω στο φύλλο,  
όσα θες σε κάθε πλευρά.



Με πόσους διαφορετικούς  
συνδυασμούς μπορείς να  
φτιάξεις τον αριθμό 6;

# ΦΤΙΑΞΕ 7 ΦΥΛΛΑ

ΚΑΙ ΤΟΠΟΘΕΤΗΣΕ ΤΑ ΣΤΟ ΚΟΤΣΑΝΙ,  
ΌΣΑ ΘΕΣ ΣΕ ΚΆΘΕ ΠΛΕΥΡΆ.

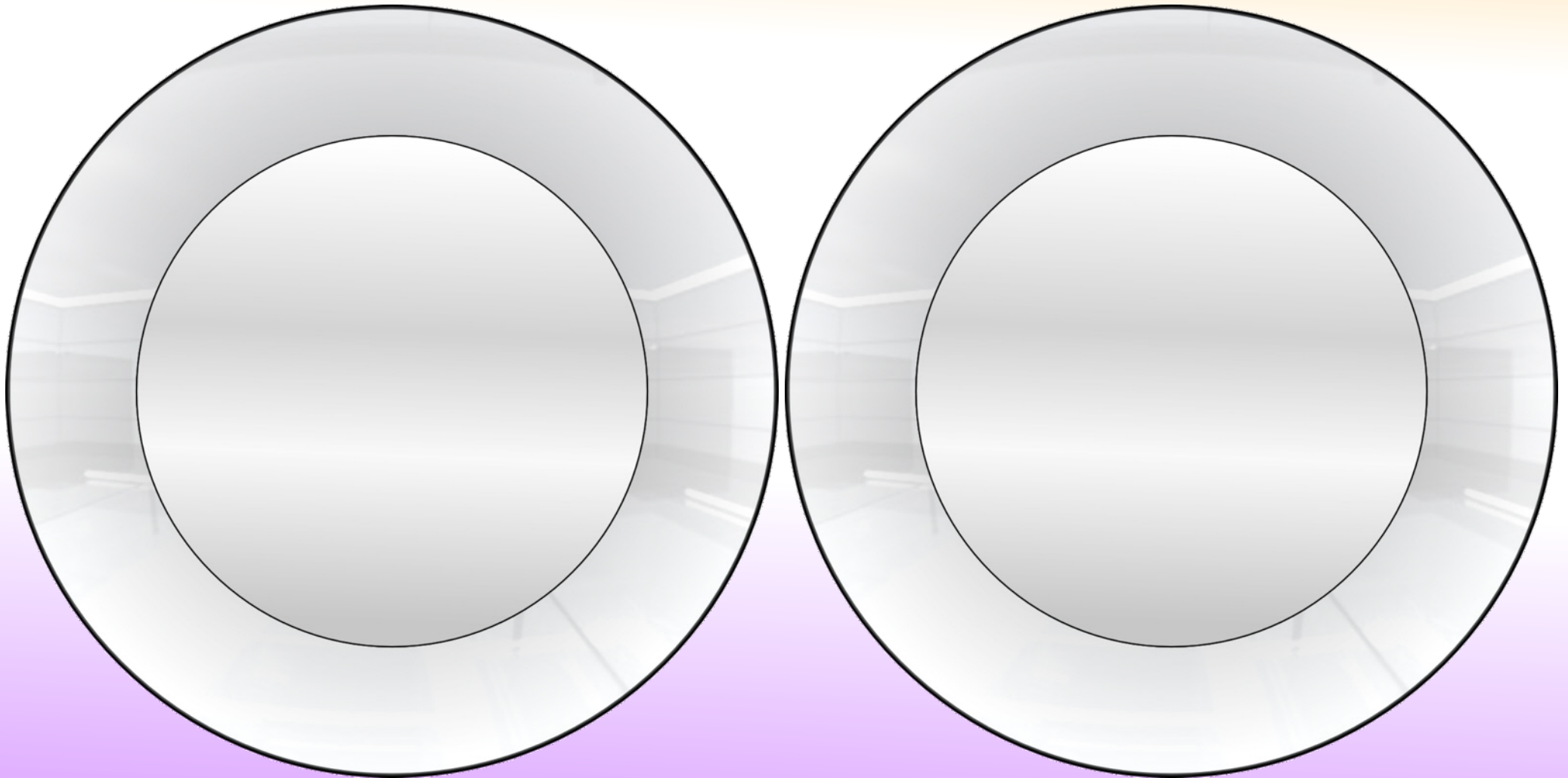


**Με πόσους διαφορετικούς  
συνδυασμούς μπορείς να  
φτιάξεις τον αριθμό 7;**

# Φτιάξε 8 μπισκότα


και τοποθέτησε όσα θες σε κάθε πιάτο.

Με πόσους διαφορετικούς  
συνδυασμούς μπορείς να  
φτιάξεις τον αριθμό 8;



# Φτιάξε 9 νομίσματα

και τοποθέτησε όσα θες σε  
κάθε θησαυροφυλάκιο.



Με πόσους διαφορετικούς  
συνδυασμούς μπορείς να  
φτιάξεις τον αριθμό 9;

# Φτιάξε 10 αυγά

και τοποθέτησε όσα θες σε κάθε καλάθι.

Με πόσους διαφορετικούς  
συνδυασμούς μπορείς να  
φτιάξεις τον αριθμό 10;

