

Prénom :

LIVRET DE DEVOIRS

Les exercices sont à faire à la date indiquée. La notion aura été travaillée le jour-même en classe. Il n'y a pas de devoirs le jour de l'évaluation.

MATHEMATIQUES



PERIODE 1

LUNDI 2 SEPTEMBRE :



Entoure sur chaque file numérique le nombre de formes.



1	2	3	4	5
---	---	---	---	---



1	2	3	4	5
---	---	---	---	---



1	2	3	4	5
---	---	---	---	---



1	2	3	4	5
---	---	---	---	---

MARDI 3 SEPTEMBRE :

2

LES NOMBRES JUSQU'À 5



Écris les nombres manquants.

1	2	3	4	5
---	---	---	---	---

1			4	
---	--	--	---	--

	2			5
--	---	--	--	---

	2	3		
--	---	---	--	--

			4	
--	--	--	---	--

JEUDI 5 SEPTEMBRE :

3 L'ADDITION



Calcule. Tu peux t'aider en manipulant de petits objets chez toi (pâtes, cubes, billes...).

$1 + 2 = \dots\dots$

$3 + 1 = \dots\dots$

$5 + 0 = \dots\dots$

$1 + 1 = \dots\dots$

$2 + 3 = \dots\dots$

$2 + 2 = \dots\dots$

VENDREDI 6 SEPTEMBRE :

4 L'ADDITION



Calcule. Tu peux t'aider de la file numérique.

$1 + 3 = \dots\dots$

$3 + 2 = \dots\dots$

$2 + 1 = \dots\dots$

$1 + 4 = \dots\dots$

$0 + 2 = \dots\dots$

$0 + 0 = \dots\dots$

LUNDI 9 SEPTEMBRE :

5 LA SOUSTRACTION



Calcule. Tu peux t'aider en manipulant de petits objets chez toi (pâtes, cubes, billes...).

$5 - 3 = \dots\dots$

$3 - 2 = \dots\dots$

$5 - 0 = \dots\dots$

$1 - 1 = \dots\dots$

$4 - 2 = \dots\dots$

$5 - 1 = \dots\dots$

MARDI 10 SEPTEMBRE :

6 LA SOUSTRACTION



Calcule. Tu peux t'aider de la file numérique.

$5 - 2 = \dots\dots$

$3 - 1 = \dots\dots$

$5 - 4 = \dots\dots$

$2 - 2 = \dots\dots$

$4 - 1 = \dots\dots$

$2 - 0 = \dots\dots$

JEUDI 12 SEPTEMBRE :

7

LES ADDITIONS ET SOUSTRATIONS



Calcule. Tu peux t'aider de la file numérique.

$5 - 1 = \dots\dots$

$3 - 3 = \dots\dots$

$3 + 1 = \dots\dots$

$4 + 1 = \dots\dots$

$4 - 1 = \dots\dots$

$2 + 0 = \dots\dots$

VENDREDI 13 SEPTEMBRE :

8

LES MAISONS JUSQU'À 5



Complète les additions.

$\dots\dots + \dots\dots = 4$

$\dots\dots + \dots\dots = 3$

$\dots\dots + \dots\dots = 2$

$\dots\dots + \dots\dots = 5$

LUNDI 16 SEPTEMBRE :

EVALUATION : les nombres jusqu'à 5.




MARDI 17 SEPTEMBRE :

9

LES NOMBRES JUSQU'À 10




Écris le nombre de formes.




JEUDI 19 SEPTEMBRE :

10 LES NOMBRES JUSQU'À 10




 **Écris** les nombres pour compléter les files numériques.



VENDREDI 20 SEPTEMBRE :

11 L'ADDITION



 **Calcule.** Tu peux t'aider de la file numérique.

$6 + 2 = \dots\dots\dots$

$5 + 5 = \dots\dots\dots$

$4 + 0 = \dots\dots\dots$

$1 + 1 = \dots\dots\dots$

$2 + 3 = \dots\dots\dots$

$7 + 2 = \dots\dots\dots$

$1 + 8 = \dots\dots\dots$

$0 + 7 = \dots\dots\dots$

$4 + 3 = \dots\dots\dots$

LUNDI 23 SEPTEMBRE :

12 LA SOUSTRACTION



1	2	3	4	5	6	7	8	9	10
---	---	---	---	---	---	---	---	---	----



Calcule. Tu peux t'aider de la file numérique.

$8 - 2 = \dots\dots$

$10 - 3 = \dots\dots$

$6 - 3 = \dots\dots$

$9 - 1 = \dots\dots$

$7 - 5 = \dots\dots$

$8 - 8 = \dots\dots$

$7 - 3 = \dots\dots$

$10 - 5 = \dots\dots$

$9 - 2 = \dots\dots$

MARDI 24 SEPTEMBRE :

13 LES ADDITIONS ET SOUSTRACTIONS



1	2	3	4	5	6	7	8	9	10
---	---	---	---	---	---	---	---	---	----



Calcule. Tu peux t'aider de la file numérique.

$6 + 2 = \dots\dots$

$8 - 3 = \dots\dots$

$3 + 6 = \dots\dots$

$10 - 4 = \dots\dots$

$9 - 5 = \dots\dots$

$7 + 3 = \dots\dots$

$3 + 4 = \dots\dots$

$7 - 6 = \dots\dots$

$9 - 9 = \dots\dots$

JEUDI 26 SEPTEMBRE :

14

**COMPARER, RANGER LES NOMBRES
JUSQU'À 10**



... Complète avec $>$, $<$ ou $=$.

5 2

2 8

0 6

1 7

9 3

5 5

10 0

1 1

2 7

VENDREDI 27 SEPTEMBRE :


15

LES FIGURES GÉOMÉTRIQUES



Colorie :


- en bleu les triangles ;
- en rouge les carrés ;
- en jaune les rectangles ;
- en vert les cercles.



LUNDI 30 SEPTEMBRE :

16 LA MAISON DU 10




 ... **Complète** la maison du 10.

10		
$0 + 10 = 10$	\leftrightarrow	$10 + \dots = 10$
$1 + \dots = 10$	\leftrightarrow	$\dots + \dots = 10$
$2 + \dots = 10$	\leftrightarrow	$\dots + \dots = 10$
$3 + \dots = 10$	\leftrightarrow	$\dots + \dots = 10$
$4 + \dots = 10$	\leftrightarrow	$\dots + \dots = 10$
$\dots + \dots = 10$		

MARDI 1^{er} OCTOBRE :

17 LES MAISONS DU 6 ET DU 7



 ... **Complète** les additions.

$$\dots + \dots = 6$$

$$\dots + \dots = 7$$

$$\dots + \dots = 6$$

$$\dots + \dots = 7$$

$$\dots + \dots = 6$$

$$\dots + \dots = 7$$

$$\dots + \dots = 6$$

$$\dots + \dots = 7$$

JEUDI 3 OCTOBRE :

18 LES MAISONS DU 8 ET DU 9



Complète les additions.

$$\dots\dots + \dots\dots = 8$$

$$\dots\dots + \dots\dots = 9$$

$$\dots\dots + \dots\dots = 8$$

$$\dots\dots + \dots\dots = 9$$

$$\dots\dots + \dots\dots = 8$$

$$\dots\dots + \dots\dots = 9$$

$$\dots\dots + \dots\dots = 8$$

$$\dots\dots + \dots\dots = 9$$

VENDREDI 4 OCTOBRE :

9 REPRÉSENTER AVEC UN SCHÉMA

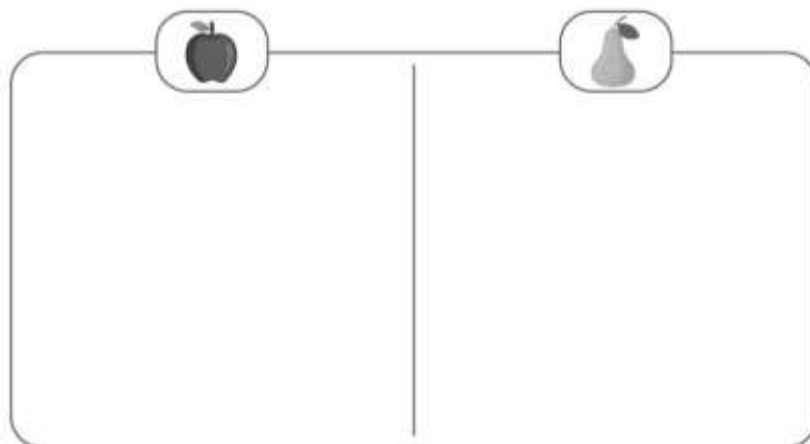


Sur la table, il y a 5 pommes et 4 poires.



Combien de fruits sont sur la table ?

Représente les pommes et les poires pour t'aider à répondre.



Il y a fruits sur la table.

LUNDI 7 OCTOBRE :

19 L'ADDITION À TROU



... Complète les additions.

$$1 + \dots = 2$$

$$0 + \dots = 4$$

$$1 + \dots = 3$$

$$5 + \dots = 7$$

$$2 + \dots = 10$$

$$6 + \dots = 9$$

MARDI 8 OCTOBRE :

20 LA SOUSTRACTION À TROU



... Complète les soustractions.

$$10 - \dots = 8$$

$$5 - \dots = 1$$

$$7 - \dots = 5$$

$$6 - \dots = 1$$

$$8 - \dots = 2$$

$$3 - \dots = 0$$


JEUDI 10 OCTOBRE :

21 LES MOTS POUR REPÉRER UN OBJET



Colorie :

- en bleu les chats sur la table ;
- en rouge les chats sous la table.




VENDREDI 11 OCTOBRE :

22 LES DOUBLES



Complète.



$$2 + 2 = \dots\dots$$

Le double de **2** est :

$$5 + 5 = \dots\dots$$

Le double de **5** est :

$$3 + 3 = \dots\dots$$

Le double de **3** est :

$$1 + 1 = \dots\dots$$

Le double de **1** est :


LUNDI 14 OCTOBRE :

23

LE LIEN ENTRE ADDITION
ET SOUSTRACTION



 Écris les 4 calculs correspondants au schéma.



$$3 + \dots = \dots \longleftrightarrow \dots + \dots = \dots$$

$$5 - \dots = \dots \qquad 5 - \dots = \dots$$

MARDI 15 OCTOBRE :

REVISIONS :
s'entraîner à nouveau sur
les exercices difficiles.


JEUDI 17 OCTOBRE :

11 RECHERCHER L'ÉTAT FINAL



Naomi avait 6 stylos dans son pot à crayons.
Tom lui en donne 3 autres.



 **Combien de stylos a Naomi maintenant ?**

Calcul :

 Naomi a stylos maintenant.

VENDREDI 18 OCTOBRE :

**EVALUATION : les
nombres jusqu'à
10.**