


Nome : _____

INFORMAÇÃO :


Data : ___/___/___

Números até 299

C	D	U
2	0	0
duzentos		
2 centenas		

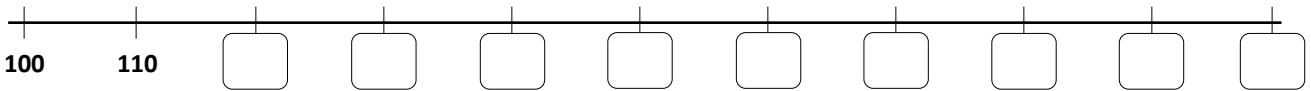


2 centenas são **200**

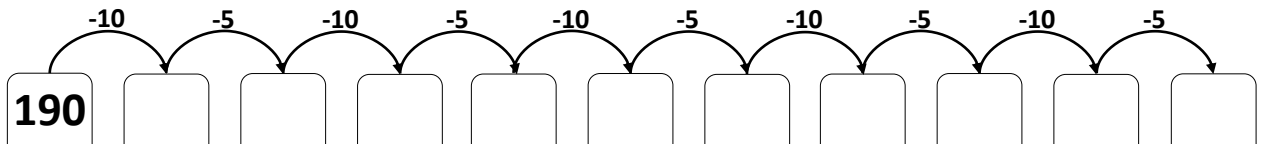


200 Unidades são **20** Dezenas ou **2** Centenas

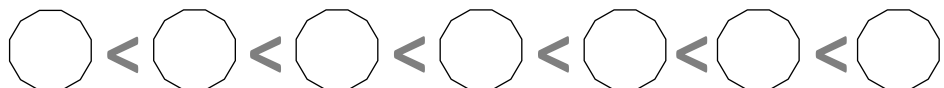
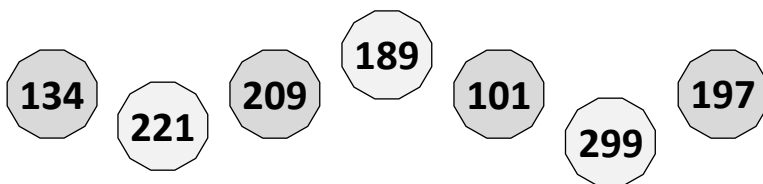
1 – Completa a reta graduada com os números que faltam.



2 – Completa a sequência.



3 – Ajuda o Lucas e escreve por ordem crescente.



Nome : _____

INFORMAÇÃO :

Data : ___/___/___

1 – Observa o quadro e completa, conforme o exemplo.

	Centenas C	Dezenas D	Unidades U	Número	Número por extenso
	2	3	6	236	Duzentos e trinta e seis

2 – Escreve os números que faltam.

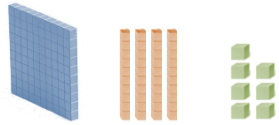
<input type="text"/>	123	<input type="text"/>	<input type="text"/>	126	<input type="text"/>	128	<input type="text"/>	<input type="text"/>	<input type="text"/>	<input type="text"/>
<input type="text"/>	<input type="text"/>	<input type="text"/>	<input type="text"/>	200	<input type="text"/>	202	203	<input type="text"/>	<input type="text"/>	<input type="text"/>
<input type="text"/>	<input type="text"/>	<input type="text"/>	<input type="text"/>	293	<input type="text"/>	<input type="text"/>	<input type="text"/>	<input type="text"/>	298	<input type="text"/>

Nome : _____

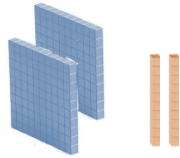
INFORMAÇÃO :

Data : ___/___/___

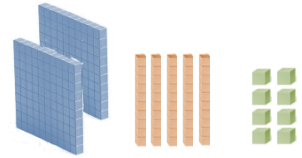
1 – Completa, conforme o exemplo.



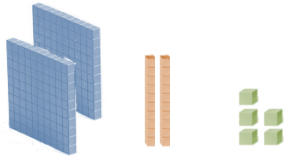
C	D	U
1	4	7
cento e quarenta e sete		



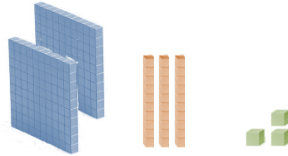
C	D	U




C	D	U




C	D	U



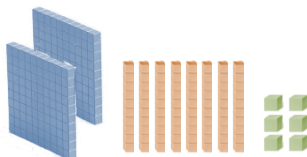
C	D	U




C	D	U



C	D	U



C	D	U



C	D	U

2 – Escreve os números do exercício anterior:

por ordem crescente



por ordem decrescente



Nome : _____

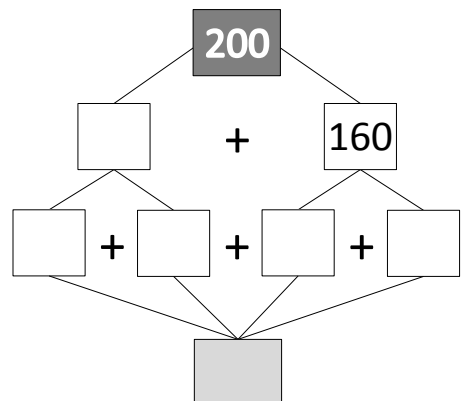
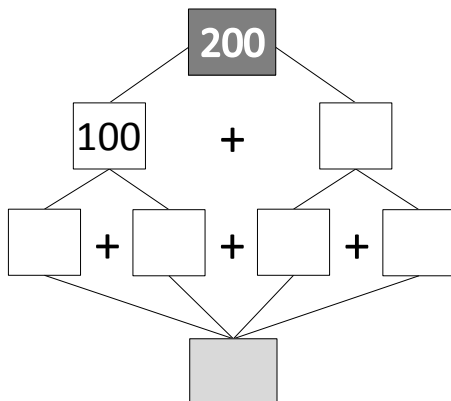
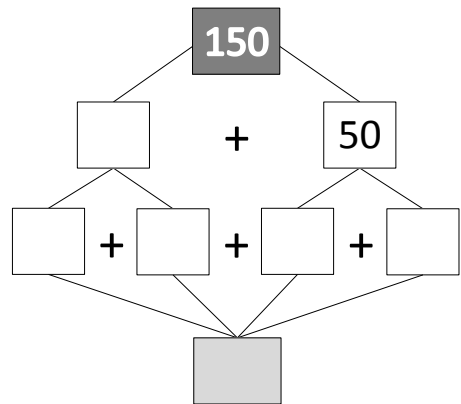
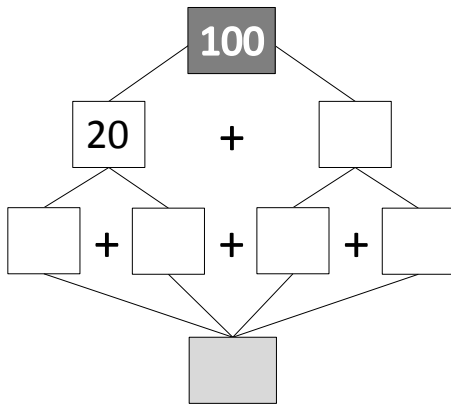
INFORMAÇÃO :

Data : __/__/__

1 – Coloca os números 265, 284, 141 e 207 no quadro, seguindo o exemplo.

Com algarismos			Com palavras	
C	D	U	Por inteiro (o valor em unidades)	Por ordens (dezenas e unidades)
2	2	8	duzentos e vinte e oito	2 centenas, 2 dezenas e 8 unidades

2 – Decompõe os números, seguindo os exemplos.

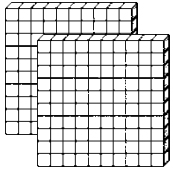


Nome : _____


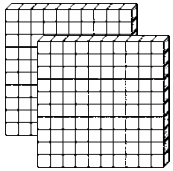
INFORMAÇÃO :

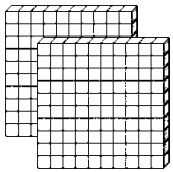
Data : ___/___/___

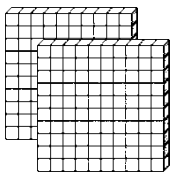
1 – Completa.

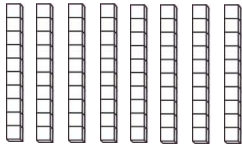
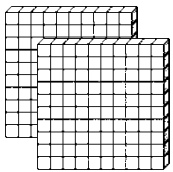


___ centenas, ___ dezenas e ___ unidades
duzentos e _____ e _____









2 – Decomposição e completa de acordo com o exemplo.

258 = 200 + 50 + 8 = 2 centenas + 5 dezenas + 8 unidades
duzentos e cinquenta e oito

242 = ___ + ___ + ___ = ___ centenas + ___ dezenas + ___ unidades

179 = ___ + ___ + ___ = _____ + _____ + _____

205 = ___ + ___ + ___ = _____ + _____ + _____

299 = ___ + ___ + ___ = _____ + _____ + _____

Nome : _____

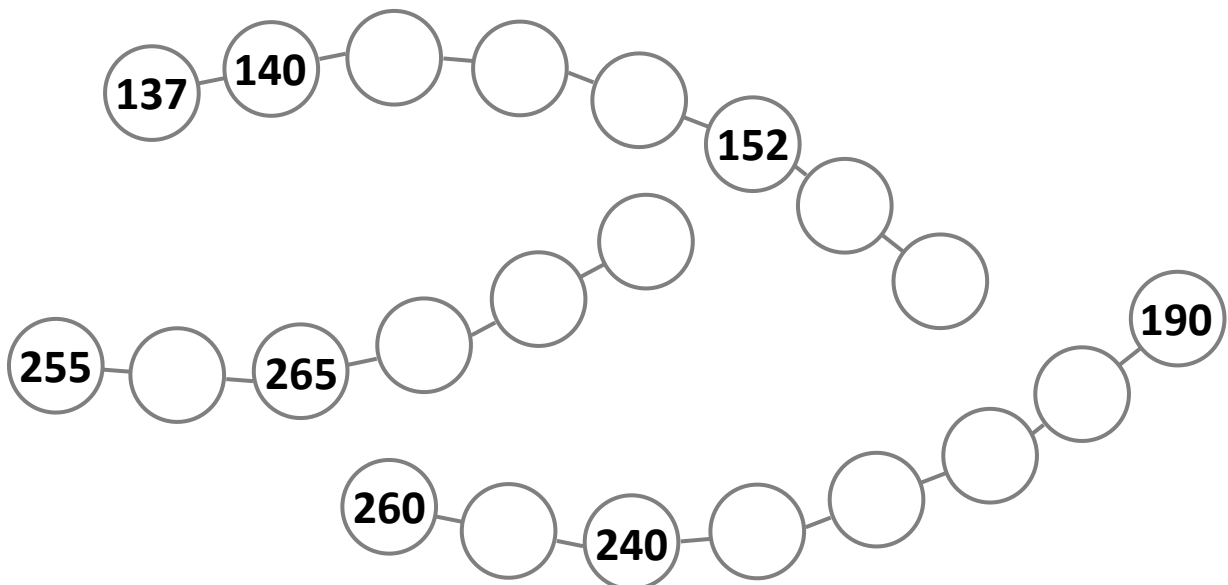
INFORMAÇÃO : _____

Data : __/__/__

1 – Escreve os números por extenso.

285		151	
197		263	
234		272	
208		149	

2 – Continua as sequências, preenchendo os espaços vazios.



3 – Escreve os números por ordens, seguindo o exemplo.

C	D	U	
2	6	3	duas centenas, seis dezenas e três unidades
1	4	8	
2	8	9	
2	1	2	
1	7	6	

Nome : _____

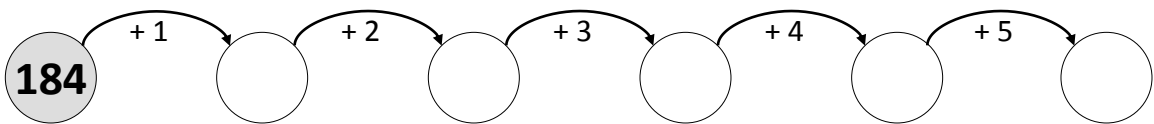
INFORMAÇÃO : _____

Data : ___/___/___

1 – Completa preenchendo o quadro.

	C	D	U	
249				duzentos e
227				
206				
284				

2 – Resolve o esquema apresentado.



3 – Completa as decomposições.

278 = ___ + ___ + ___

270 = ___ + ___ + ___

215 = ___ - 10

239 = ___ + ___ + ___

245 = ___ + ___ + ___

246 = ___ - 10

217 = ___ + ___ + ___

266 = ___ + ___ + ___

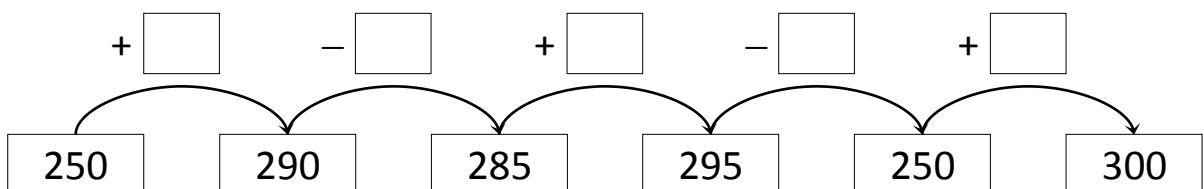
220 = ___ - 20

284 = ___ + ___ + ___

223 = ___ + ___ + ___

299 = ___ - 20

4 – Descubre os operadores.




Nome : _____

INFORMAÇÃO :

Data : ___/___/___

1 – A Scala, o David e os amigos compraram 27 pacotes de leite e 16 pacotes de sumo. Quantos pacotes compraram?



Podes usar o ábaco horizontal para resolver problemas.


Primeiro deves representar as duas quantidades no ábaco.




Compraram _____ pacotes.

2 – Efetua os cálculos que se seguem usando o ábaco horizontal.


$47 + 18 =$ _____




$51 + 17 =$ _____



$28 + 34 =$ _____



$32 + 46 =$ _____



Nome : _____

INFORMAÇÃO : _____

Data : __/__/__

1 – Observa o número seguinte e responde às questões.

269

1.1 – Escreve o número por extenso.

1.2 – Quantas dezenas tem o número?

1.3 – Quantas unidades terias de juntar a este número para que ficasses com três centenas?

1.4 – Completa a frase:

O algarismo que representa as centenas é o _____, o que diz respeito às dezenas é o _____ e o algarismo 9 corresponde às _____.

2 – Ordena, por ordem crescente, os seguintes números.

156; 179; 248; 267; 59; 260; 158; 209

Nome : _____

INFORMAÇÃO :

Data : __/__/__

1 – Completa o quadro, conforme os exemplos.


			C	D	U
duzentos e quarenta e sete	247	→	2	4	7
cento e oitenta e dois		→			
	263	→			
vinte dezenas		→			
duzentos e noventa e oito		→			
duzentos e dezanove		→			
cento e cinquenta e três		→			
duzentos e cinco		→			
duzentos e trinta e um		→			
cento e vinte e sete		→			
	299	→			
cento e sessenta		→			
duzentos e setenta e sete		→			
duzentos e noventa e quatro		→			
cento e cinquenta e dois		→			
duzentos e quinze		→			
		→	2	2	9
	271	→			
duas centenas, duas dezenas e duas unidades		→			
uma centena e dezoito unidades		→			
	187	→			

Nome : _____

INFORMAÇÃO :


Data : ___/___/___

1 – Conta e completa.




C	D	U

_____ + _____ = _____




C	D	U

_____ + _____ = _____




C	D	U

_____ + _____ = _____



C	D	U

_____ + _____ = _____



C	D	U

_____ + _____ = _____

2 – Completa.

$100 + 50 + \underline{\quad} = 200$

$140 + 50 + \underline{\quad} = 200$

$220 + 40 + 20 + \underline{\quad} = 300$

$10 + 230 + 10 + \underline{\quad} = 300$

$100 - 50 + \underline{\quad} = 200$

$160 - 30 + \underline{\quad} = 200$

$250 - 40 + 20 + \underline{\quad} = 300$

$60 + 230 + 40 - \underline{\quad} = 300$

Nome : _____

INFORMAÇÃO : _____

Data : ___/___/___

1 – Continua as sequências, preenchendo os espaços vazios:

10	30	50								210
----	----	----	--	--	--	--	--	--	--	-----

110	120	130								210
-----	-----	-----	--	--	--	--	--	--	--	-----

210	215	220								260
-----	-----	-----	--	--	--	--	--	--	--	-----

2 – Escreve, para cada um dos casos, o número imediatamente antes e o imediatamente a seguir.

_____	285	_____	_____	201	_____	_____	298	_____
_____	193	_____	_____	259	_____	_____	230	_____
_____	180	_____	_____	146	_____	_____	200	_____

3 – Observa o exemplo, escreve os números e faz a sua decomposição.

2 centenas, 6 dezenas e 2 unidades	262	$200 + 60 + 2$
12 dezenas		
246 unidades		
2 centenas e 73 unidades		
1 centena e 6 dezenas		
20 dezenas e 5 unidades		

Nome : _____

INFORMAÇÃO : _____

Data : __/__/__

1 – Decompõe os números, seguindo os exemplos.

