


Nome : _____

INFORMAÇÃO :

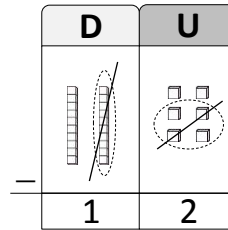
Data : ___/___/___

Subtracção sem empréstimo

Faz como eu: coloco o algarismo das unidades na coluna das unidades e o algarismo das dezenas na coluna das dezenas...



Primeiro, subtraio as unidades (6 - 4 = 2). Em seguida, subtraio as dezenas (2 - 1 = 1).



1 - Cálcula as subtracções.

17 - 12 = ___

D	U
1	7
- 1	- 2

29 - 15 = ___

D	U
2	9
- 1	- 5

33 - 21 = ___

D	U
3	3
- 2	- 1

39 - 14 = ___

D	U
3	9
- 1	- 4

28 - 15 = ___

D	U
2	8
- 1	- 5

34 - 23 = ___

D	U
3	4
- 2	- 3



38 - 16 = ___

D	U
-	-

27 - 11 = ___

D	U
-	-

32 - 20 = ___

D	U
-	-

28 - 16 = ___

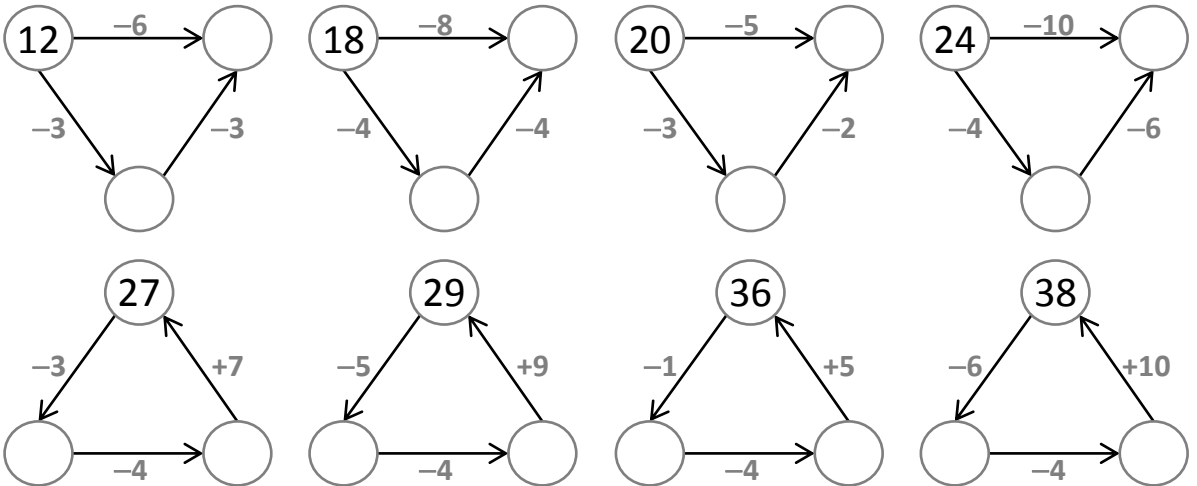
D	U
-	-

Nome : _____

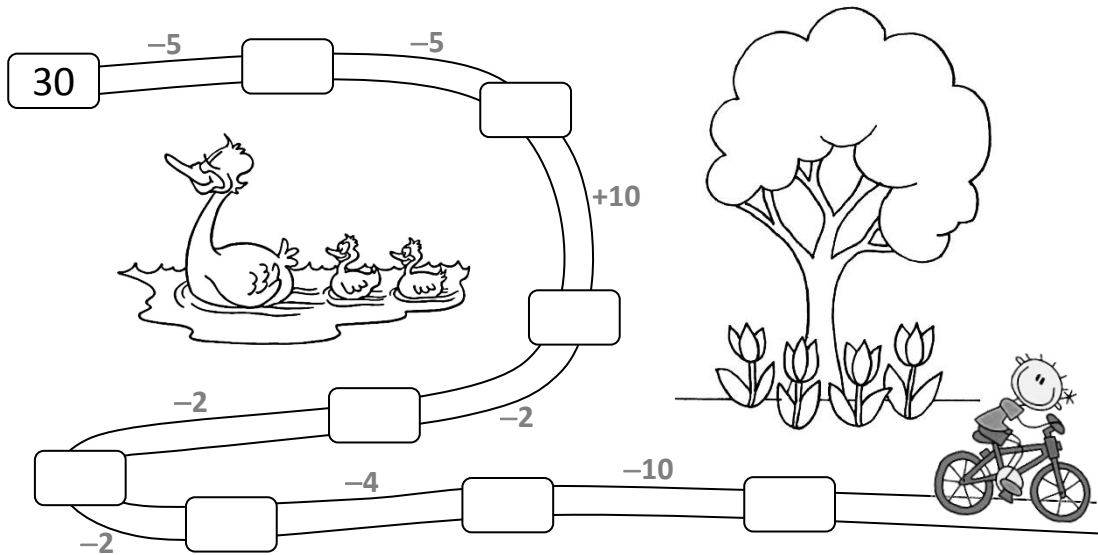
INFORMAÇÃO :

Data : ___/___/___

1 – Calcula.



2 – Calcula e completa.



3 – Cálcula as subtrações.

$26 - 15 = \underline{\quad}$

$39 - 12 = \underline{\quad}$

$24 - 11 = \underline{\quad}$

$37 - 14 = \underline{\quad}$

D	U
—	—
—	—
=	

D	U
—	—
—	—
=	

D	U
—	—
—	—
=	

D	U
—	—
—	—
=	

Nome : _____

INFORMAÇÃO :

Data : ___/___/___

1 – Calcula.

-5		-10		-15		-20	
35		35		35		35	
30		30		30		30	
25		25		25		25	
20		20		20		20	

2 – Descobre e completa.

35 - <input type="text"/>	15	20 - <input type="text"/>	30 - <input type="text"/>	20	27 - <input type="text"/>
<input type="text"/> - 15		<input type="text"/> - 10	35 - <input type="text"/>		<input type="text"/> - 8
39 - <input type="text"/>		18 - <input type="text"/>	<input type="text"/> - 5		39 - <input type="text"/>

3 – Descobre e completa.

1	2		3	4
	5			
6				
	7			8
9			10	

1. Duas dezenas e três unidades.
3. $35 - 13$
5. Uma dezena.
9. Menos uma unidade do que o vinte e mais 2 dezenas.
10. $1 + 2 + 3 + 4 + 5 + 6$


2. Imediatamente anterior ao 32.
4. Duas dezenas.
6. $39 - 33$
7. $30 - 1$
8. Número superior a uma dezena e inferior a duas dezenas. O algarismo das dezenas é igual ao das unidades.

Nome : _____

INFORMAÇÃO :

Data : ___/___/___

1 – Efectua as operações nas grelhas.




$15 - 5 = \underline{\quad}$

$36 - 23 = \underline{\quad}$

D	U
—	—
—	—

D	U
—	—
—	—



$23 - 11 = \underline{\quad}$

$19 - 14 = \underline{\quad}$

$35 - 15 = \underline{\quad}$

D	U
—	—
—	—

D	U
—	—
—	—

D	U
—	—
—	—

2 – Descobre os algarismos que faltam.

D	U
2	—
—	0
1	4

D	U
—	7
2	—
1	7

D	U
2	—
—	—
2	2

D	U
—	—
—	—
2	5

D	U
—	—
—	—
3	2

D	U
—	—
—	—
3	6

