

Nome : _____

INFORMAÇÃO :

Data : __/__/__


1 – Desenha os sinais de trânsito indicados nas legendas.



Travessia para peões




Proibido transitar bicicletas




Proibido transitar peões



Obrigatório virar à direita



Trânsito proibido



Pista obrigatória para bicicletas

2 – Para que servem os sinais de trânsito?

Nome : _____

INFORMAÇÃO : _____

Data : ___/___/___


1 – Assinala, com um X, as atitudes correctas.



Na fila, empurro toda a gente.



Ofereço o meu lugar aos mais velhos para se sentarem.



Coloco a cabeça fora do autocarro.



Não sujo o meu lugar.



Nas paragens de nível sem guarda,
paro, escuto e olho, e só depois
atravesso.



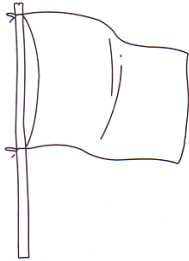
Nas passagens de nível com
guarda, não respeito os sinais.

Nome : _____

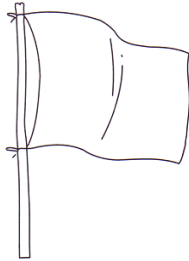
INFORMAÇÃO : _____

Data : ___/___/___

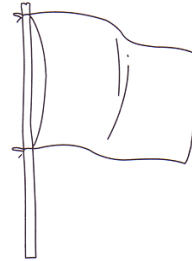
1 – Pinta correctamente:



podes nadar



cuidado



proibido nadar

2 – Assinala, com um X, a afirmação correcta:

Depois de ter comido, espero
para tomar banho

2 horas 3 horas 1 hora

3 – Assinala, com um X, as afirmações verdadeiras:

- Só devemos saltar para a água em locais seguros.
- Não é perigoso correr em volta das piscinas.
- Nunca se pode empurrar ninguém para a água.

4 – Qual das crianças deve sair da água? Porquê?




Nome : _____

INFORMAÇÃO : _____


Data : ___/___/___

1 – Os peões A e B querem atravessar a rua no local em que se encontram.




1.1. – Qual é o peão (A ou B) que atravessará a rua com maior segurança?
Justifica.

2 – Corta, com uma X, os peões que estão a atravessar incorrectamente a rua.




3 – Observa atentamente a seguinte figura...



3.1. – Achas que o peão B devia ter avançado naquela rua?

4 – O João e a Luísa estão a jogar futebol na via pública, como observas na gravura.



4.1. – Estes meninos estarão a proceder correctamente? Diz porquê?

5 – Em cada um dos rectângulos, escreve SIM ou NÃO...

Se quero ir para a escola com segurança, devo...

- Utilizar ruas com passeios muito estreitos.
- Utilizar ruas onde haja passadeiras para peões.
- Caminhar o mais próximo possível das casas.
- Utilizar ruas com passeios largos.
- Utilizar ruas onde não haja passadeiras para peões.
- Caminhar muito próximo dos carros.

6 – Observa os seguintes sinais de trânsito...



A



B



C





D

6.1. – Liga, com setas, cada uma das letras à expressão que lhe corresponde...

GRAVURAS	SIGNIFICADO
A •	• Trânsito proibido a ciclistas.
B •	• Caminho obrigatório para peões.
C •	• Aproximação de passagem de nível sem guarda.
D •	• Passagem para peões.

7 – Pinta as gravuras que representam comportamentos correctos dos passageiros.



8 – Lê atentamente as seguintes frases...

- Posso tomar banho em praias não vigiadas.
- Se estiver a bandeira vermelha, não devo ir à água.
- Só devo entrar na água três horas após as refeições.
- Posso tomar banho em águas poluídas.
- Não devo urinar na água.

8.1. – Copia, as frases que representam comportamentos correctos.
