

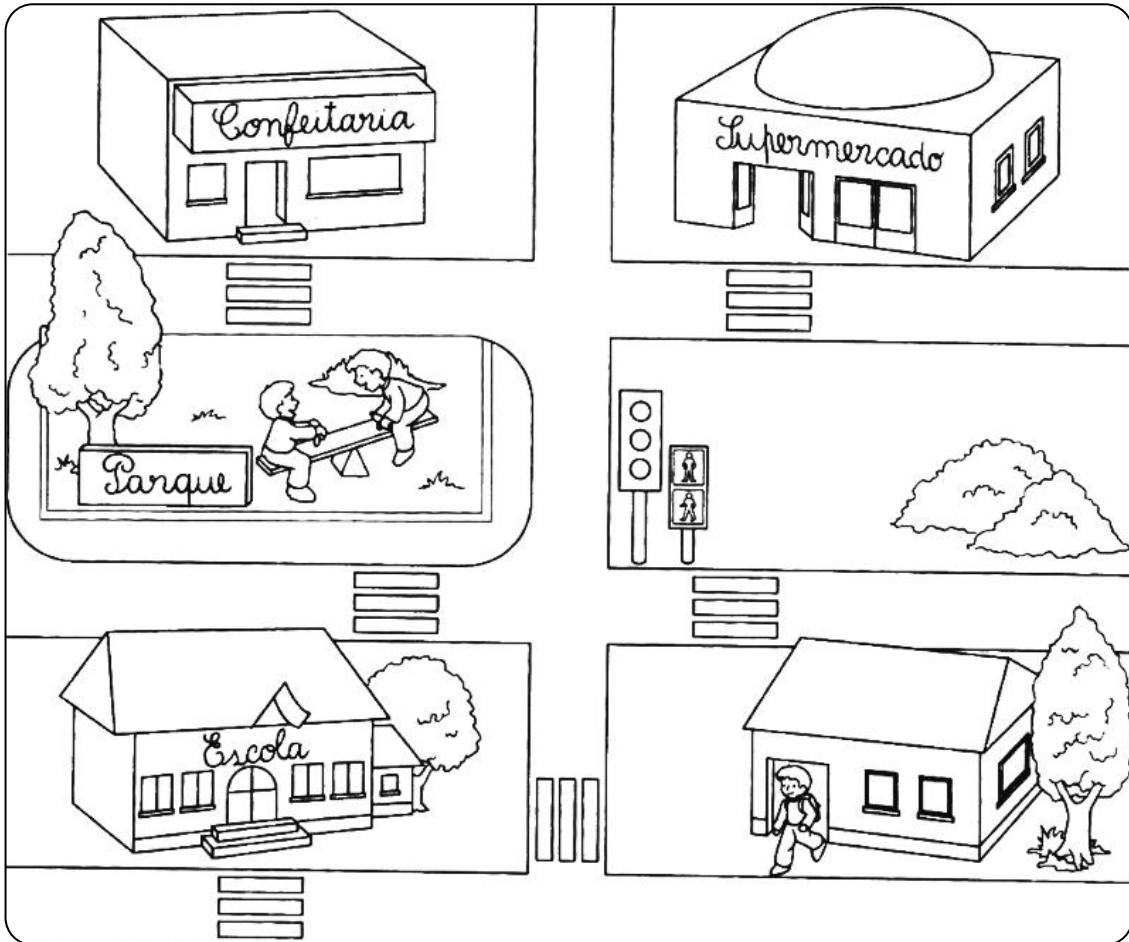
Nome : _____

INFORMAÇÃO :

Data : ___/___/___

1 – Marca, com cores diferentes, «o caminho» do Pedro...


- de casa para a Escola.
- de casa para o Supermercado.
- de casa para o Parque.
- de casa para a Confeitaria.



2 – Quais são os itinerários que tu segues todos os dias?


- Qual deles é o mais comprido?

3 – Com caneta de feltro, ajuda o Pedro e os amigos a descobrirem «o seu caminho».



- Escreve **1** no ponto de partida e **2** no ponto de chegada.

4 – Desenha a planta da rua onde moras, assinalando a tua casa.



Nome : _____

INFORMAÇÃO : _____

Data : ___/___/___

1 – Repara na planta da localidade onde vivem o João e a Maria.

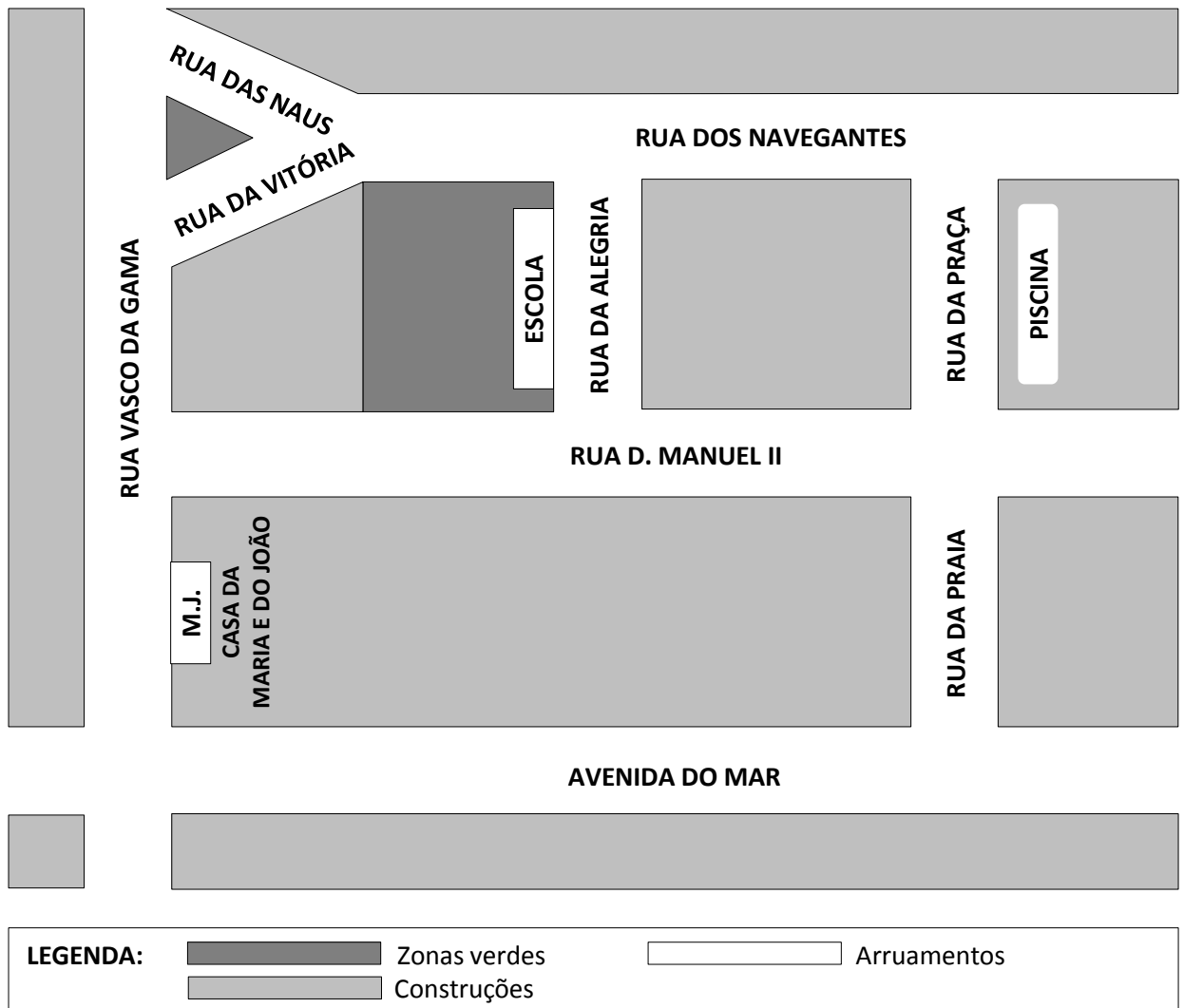
MARIA



HOJE, SAÍ DE CASA NA RUA VASCO DA GAMA, VIREI À DIREITA PARA A RUA D. MANUEL II, ATRAVESSEI-A, VIREI À ESQUERDA E CHEGUEI À ESCOLA QUE FICA NA RUA DA ALEGRIA.
SÓ DEMOREI 15 MINUTOS!

EU SOU O JOÃO, O IRMÃO DA MARIA. SAÍ DE CASA ÀS 15 HORAS, VIREI ESQUERDA PARA A AVENIDA DO MAR E SEGUI SEMPRE EM FRENTE. DEPOIS VIREI NOVAMENTE À ESQUERDA PARA A RUA DA PRAIA, ATRAVESSEI A RUA D. MANUEL II, EM DIREÇÃO À RUA DA PRAÇA. CHEGUEI À PISCINA ÀS 15 HORAS E 30 MINUTOS.

JOÃO



O João e a Maria saíram do mesmo ponto de partida e, seguindo itinerários diferentes, chegaram, também, a lugares diferentes.

- A tabela que se segue mostra-nos os pontos de partida e os pontos de chegada dos irmãos.

	Ponto de Partida	Ponto de Chegada
Maria	A sua casa, na Rua Vasco da Gama	A Escola, na Rua da Alegria
João	A sua casa, na Rua Vasco da Gama	A Piscina, na Rua da Praça

2 – Na planta da localidade onde vivem a Maria e o João, traça...

- a azul, o itinerário seguido pela Maria para ir de casa à escola;
- a preto, o itinerário seguido pelo João para ir de casa à piscina;

3 – Supõe que a Rita estava na Escola e queria ir diretamente para a Piscina.

3.1 – Descreve o itinerário seguido pela Rita, completando o texto que se segue.

A Rita saiu da _____, atravessou a Rua da _____, virou à _____ para a Rua _____, seguiu em frente até à Rua _____. Aí, virou à _____, atravessou essa rua e chegou à _____.

3.2 – Traça, a amarelo, o itinerário seguido pela Rita.

3.3 – Identifica...

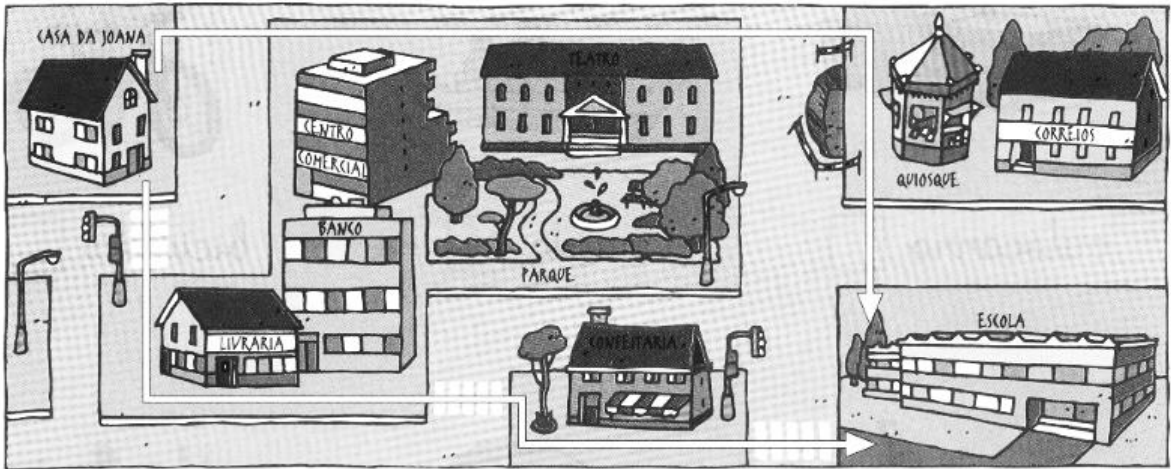
- o local de partida da Rita: _____
- o local de chegada da Rita: _____

Nome : _____

INFORMAÇÃO :


Data : ___/___/___

1 – Observa os itinerários que a Filipa pode seguir para chegar à escola. Assinala-os, com cores diferentes.



1.1 – Se fosses tu, qual dos dois itinerários escolherias? Porquê?

2 – O Hugo perdeu-se. Ajuda-o a encontrar o caminho para ir para casa.



2.1 – A rua onde moras é perigosa? Justifica a resposta.
