

MATEMÁTICA

INFORMAÇÃO:

NOME: _____ DATA: ____/____/____

ESCOLA: _____ RUBRICA DO DOCENTE: _____

1 – Escreve em algarismos.

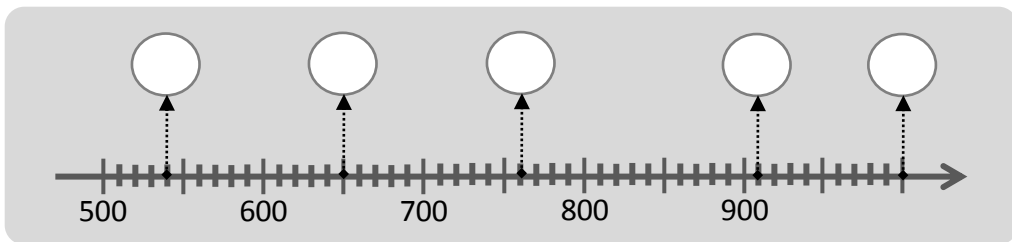
oito dezenas – _____

sete centenas, cinco dezenas e três unidades – _____

trinta e quatro dezenas – _____

duas centenas e duas unidades – _____

oitocentas e quarenta e uma unidades – _____

2 – Escreve em algarismos os números que correspondem a cada .

3 – Ordena os números por ordem decrescente.

437

130

296

640

460

310

_____ >> _____ >> _____ >> _____ >> _____ >> _____

4 – Decompõe os números.

432 = ____ + ____ + ____

538 = ____ + ____ + ____ + ____

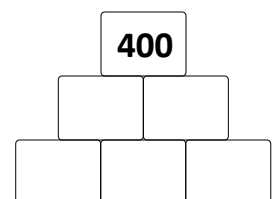
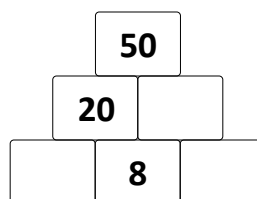
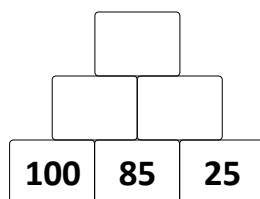
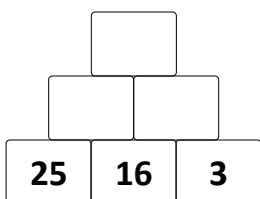
103 = ____ + ____ + ____

392 = ____ + ____ + ____ + ____

620 = ____ + ____ + ____

986 = ____ + ____ + ____ + ____

5 – Completa as pirâmides.



6 – Pinta os números ímpares.

24	35	17	50	27	63	79	90
----	----	----	----	----	----	----	----

7 – Com os algarismos 2, 5 e 7 escreveu-se um número que tem o 5 na ordem das centenas e é par.

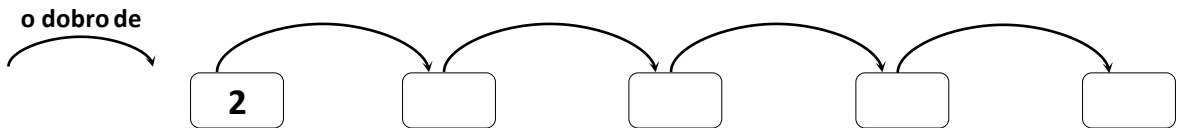
Esse número é o...

 257 725 275 527 572 752

8 – Determina uma possível regra de formação desta sequência e, de acordo com essa regra, escreve os oito números seguintes.

15 18 21 24

9 – Completa a sequência. Repara no que indica a seta.



10 – Completa com os sinais <, > ou =.

$100 + 150 \quad \square \quad 250$

$500 + 102 \quad \square \quad 605$

$300 + 10 \quad \square \quad 299$

$450 + 130 \quad \square \quad 580$

$250 + 250 \quad \square \quad 490$

$489 + 1 \quad \square \quad 490$

11 – Completa de forma correta.

a) 29 está entre _____ e _____. A dezena mais próxima é _____.

b) 53 está entre _____ e _____. A dezena mais próxima é _____.

c) 189 está entre _____ e _____. A centena mais próxima é _____.

d) 429 está entre _____ e _____. A centena mais próxima é _____.

12 – Calcula.

$350 - 50 = \underline{\hspace{10cm}}$

$650 + 250 = \underline{\hspace{10cm}}$


13 – Segue as indicações que são dadas e ajuda cada um dos alunos a encontrar as suas mochilas.



1 → 2 ↓ 3 → 1 ↓ 4 →



2 → 2 ↑ 2 → 1 ↑ 4 →



Resolução de Problemas

1 – A senhora Maria colocou este dinheiro no mealheiro da sua neta.



1.1 – Quanto dinheiro ofereceu a senhora Maria à sua neta?

R.: _____

1.2 – Assinala, com X, a opção correta.

Se a senhora lhe tivesse dado o dobro deste valor, ter-lhe-ia dado:

50€

45€

54€

25€

2 – Faz o calendário deste mês.

Mês de _____						
2.ª feira	3.ª feira	4.ª feira	5.ª feira	6.ª feira	sábado	domingo

- a) O mês começou em que dia da semana? _____
- b) O próximo mês começa em que dia da semana? _____
- c) Quantos dias de fim de semana há neste mês? _____

3 – No Domingo de Páscoa, a família do Pedro juntou-se ao almoço. Descobre a idade dos elementos da família.

- O Pedro tem 8 anos.
- A mãe tem mais 25 anos que o Pedro.
- O pai tem mais 5 anos que a mãe.
- O avô paterno tem mais 27 anos que o seu filho.
- A avó materna tem menos 14 anos que o avô do Pedro.

R.: Mãe _____ anos. Pai _____ anos. Avô _____ anos. Avó _____ anos.

Se acabares antes do tempo, revê as tuas respostas.