

## MATEMÁTICA

INFORMAÇÃO:

NOME: \_\_\_\_\_ DATA: \_\_\_\_/\_\_\_\_/\_\_\_\_

ESCOLA: \_\_\_\_\_ RUBRICA DO DOCENTE: \_\_\_\_\_

## 1 – Escreve os números por extenso.

57 - \_\_\_\_\_ 74 - \_\_\_\_\_

63 - \_\_\_\_\_ 89 - \_\_\_\_\_

## 2 – Escreve os números.

três dezenas \_\_\_\_\_ cinco dezenas e seis unidades \_\_\_\_\_

quarenta e oito unidades \_\_\_\_\_ sete dezenas e duas unidades \_\_\_\_\_

## 3 – Escreve os números por ordem crescente.

34	48	29	60	72	51	85						
○	<	○	<	○	<	○	<	○	<	○	<	○

## 4 – Calcula mentalmente.

$25 + 5 = \underline{\quad}$

$30 + 10 = \underline{\quad}$

$20 + 2 = \underline{\quad}$

$40 - 5 = \underline{\quad}$

$50 - 10 = \underline{\quad}$

$32 - 2 = \underline{\quad}$

## 5 – Calcula.

D	U
<u>3</u>	<u>5</u>
<u>3</u>	<u>2</u>
+	
—	—

D	U
<u>3</u>	<u>4</u>
<u>2</u>	<u>5</u>
+	
—	—

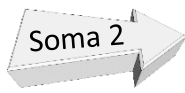
D	U
<u>7</u>	<u>8</u>
<u>3</u>	<u>4</u>
-	
—	—

## 6 – Escreve os números que estão imediatamente antes e depois.

	63	
	79	

	90	
	98	

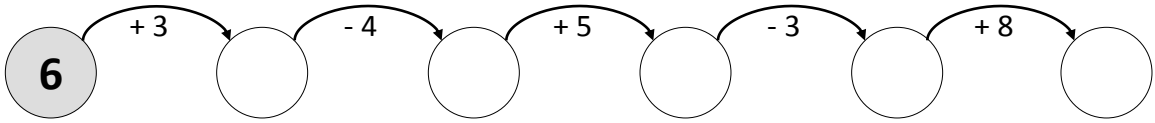
**7 – Completa a sequência.**



70



**8 – Resolve o esquema apresentado.**



**9 – Completa as decomposições.**

63 = \_\_\_ + \_\_\_

78 = \_\_\_ + \_\_\_

40 = \_\_\_ + \_\_\_

46 = \_\_\_ + \_\_\_

37 = \_\_\_ + \_\_\_

60 = \_\_\_ + \_\_\_






84 = \_\_\_ + \_\_\_

52 = \_\_\_ + \_\_\_

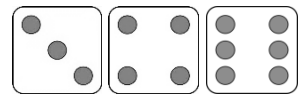
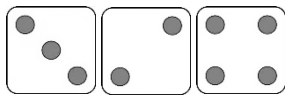
90 = \_\_\_ + \_\_\_

# Resolução de Problemas

**10 – Estes amigos pretendem ganhar um peluche lançando três dados.**

				
15 a 18 Pontos	11 a 14 Pontos	8 a 10 Pontos	7 Pontos	3 a 6 Pontos


- **Descobre o que ganhou a Célia e o Mauro:**



A Célia ganhou o \_\_\_\_\_.

O Mauro ganhou o \_\_\_\_\_.

**11 – Em dezembro, durante o período escolar, estes meninos beberam o leite representado no gráfico.**



• **Responde às perguntas.**

- Quem bebeu mais leite? \_\_\_\_\_ Quantos pacotes? \_\_\_\_\_
- Quem bebeu menos leite? \_\_\_\_\_ Quantos pacotes? \_\_\_\_\_
- Que quantidade de leite beberam os cinco meninos? \_\_\_\_\_

**12 – Lê as informações, observa a gravura e identifica cada uma das personagens:**

- A **Susana** não tem ninguém à sua direita.
- A **Sofia** não tem ninguém à sua esquerda.
- O **Ricardo** está à esquerda da Susana.
- O **José** está à direita da Sofia.

