

MATEMÁTICA

INFORMAÇÃO:

NOME: _____ DATA: ____/____/____

ESCOLA: _____ RUBRICA DO DOCENTE: _____

1 – Completa a sequência.

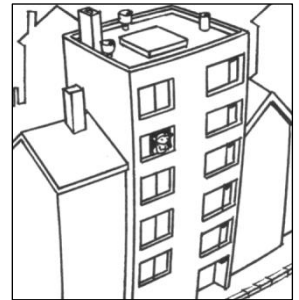


2 – Indica:

uma dezena	uma dúzia	meia dezena	meia dúzia
<input type="text"/>	<input type="text"/>	<input type="text"/>	<input type="text"/>


3 – A Bárbara está à janela de sua casa. Em que andar mora ela?

- 1.º andar 2.º andar 3.º andar
 4.º andar 5.º andar 6.º andar



4 – Numa prova de atletismo, o Rui chegou à meta em 3.º lugar, o Manuel chegou 4 lugares depois do Rui e o Pedro ficou 2 lugares à frente do Rui.

4.1. – Assinala com um X qual dos rapazes é o Pedro.



4.2. – Em que lugar chegou o Manuel? _____

5 – Completa a régua numérica.



5.1. – Escreve o número que está **entre** os números:

24 e 26 _____

18 e 20 _____

27 e 29 _____

5.2. – Escreve o número que está imediatamente a seguir ao número:

vinte e um	
dezasseis	

trinta e quatro	
oito	

6 – Decompõe.

$27 = 20 + 7$

$14 = \underline{\quad} + \underline{\quad}$

$36 = \underline{\quad} + \underline{\quad}$

$29 = \underline{\quad} + \underline{\quad}$

7 – Coloca os sinais $>$, $<$ ou $=$.

$27 \square 39$

$33 \square 23$

$30 + 5 \square 20 + 5$

$36 \square 30 + 6$

$14 \square 22$

$20 + 10 \square 38 - 8$

8 – Ordena do maior para o menor.

9 – Completa a tabela.

+	5	3	7	6
20				
15			22	
32				

10 – Resolve as operações.

$$\begin{array}{r} 15 \\ + 22 \\ \hline \end{array}$$

.....

$$\begin{array}{r} 27 \\ + 12 \\ \hline \end{array}$$

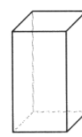
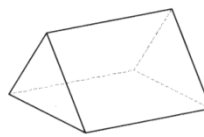
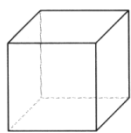
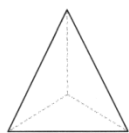
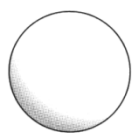
.....

$$\begin{array}{r} 23 \\ + 15 \\ \hline \end{array}$$

.....

11 – Observa os sólidos geométricos e pinta os que têm só superfícies planas.

11.1. – Escreve os seus nomes.




Resolução de problemas

1 – De uma caixa com 36 bombons já se comeram 25.
Quantos bombons há ainda na caixa?

R.:

2 – Que dinheiro tem a Joana no mealheiro?



R.:
