

ESTUDO DO MEIO

INFORMAÇÃO:

NOME: _____ DATA: ____/____/____

ESCOLA: _____ RUBRICA DO DOCENTE: _____

1 – Observa as imagens.



A




B

1.1. – Em qual das gravuras o trânsito é menos intenso?


1.2. – Qual das imagens pretende reproduzir o trânsito numa cidade?

2 – Observa com atenção e pinta os semáforos com as cores correctas.

Os peões podem atravessar.
Os veículos têm de parar.



Os veículos podem passar.
Os peões não podem atravessar.




3 – Agrupa os sinais de trânsito assinalando com 1, 2, 3 ou 4, conforme o caso.

1 Perigo

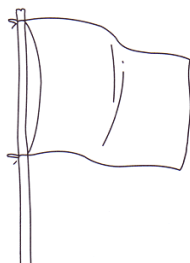
2 Informação

3 Proibição

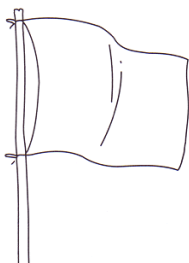
4 Obrigação



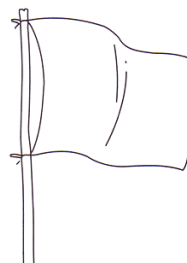
4 – Pinta correctamente.



cuidado



proibido nadar



podes nadar

5 – Menciona alguns cuidados que debes ter:

na praia



nos rios



na piscina