

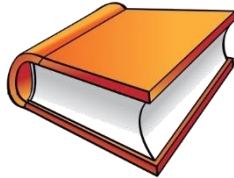
Nome : _____

INFORMAÇÃO : _____


Data : __/__/__

1 – Quais são os sólidos geométricos que te fazem lembrar os objetos das gravuras.









2 – Completa.



Este sólido geométrico chama-se _____.



Este sólido geométrico chama-se _____ tem
faces retangulares, _____ vértices e _____ arestas.



O _____ tem duas superfícies _____ e
_____ curva.



Este sólido geométrico chama-se _____ tem
_____ faces de forma quadrada, _____ vértices e
_____ arestas.

3 – Quais são as diferenças entre estes dois sólidos geométricos?



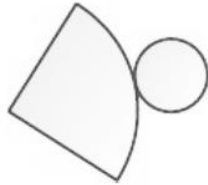
Nome : _____

INFORMAÇÃO : _____

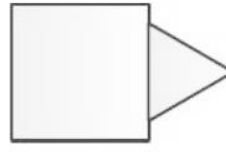
Data : __/__/__

1 – Selecciona as planificações **A**, **B** ou **C** que podem corresponder a cada um dos sólidos.

1.1



A

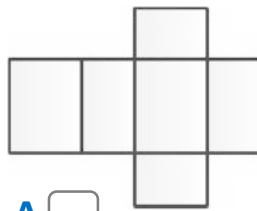


B

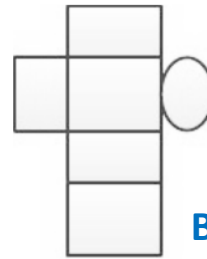


C

1.2

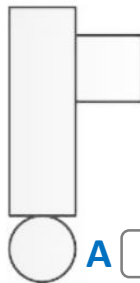


A

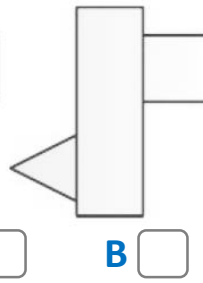


B

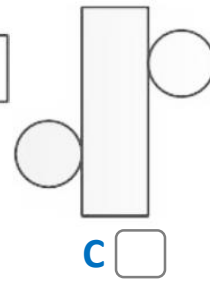
1.3



A

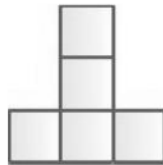


B




C

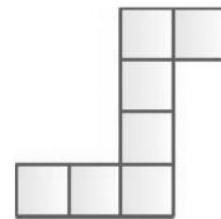
1.4



A



B



C

2 – Assinala com **X** o nome do sólido geométrico que satisfaz a seguinte condição.

«é um sólido geométrico, cujas superfícies são planas e é formado por 12 arestas, 8 vértices e 6 faces, todas elas quadradas».

pirâmide

cilindro

paralelepípedo

cubo