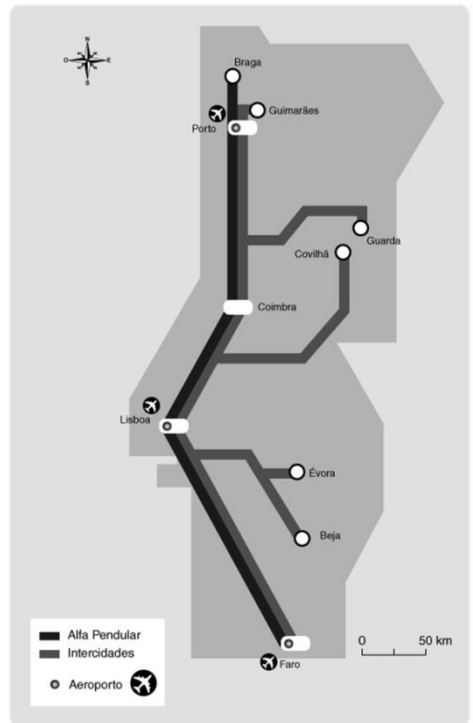


ESTUDO DO MEIO

RUBRICA:

NOME: _____ DATA: ____/____/____

ESCOLA: _____ INFORMAÇÃO: _____

1 – Observa o mapa com ligações de comboio entre algumas cidades.**1.1 – Assinala o comboio que liga mais cidades.** Alfa Pendular Intercidades**1.2 – Assinala o itinerário percorrido pelo Alfa Pendular até Faro.** Braga, Coimbra, Évora e Faro Guimarães, Coimbra, Lisboa e Faro Braga, Coimbra, Porto, Lisboa e Faro**1.3 – Que cidades poderíamos visitar viajando apenas no comboio intercidades?**_____
_____**2 – Indica qual a função de cada um dos espaços, ligando corretamente.**

Museu ●

Padaria ●

Fábrica ●

Ginásio ●

Cinema ●

Jardim de infância ●

● Educação e cultura

● Trabalho e comércio

● Saúde e bem-estar

● Cultura e lazer

3 – Liga os percursos apresentados às formas de deslocação que utilizarias.

Ir a casa de um vizinho. ●

Ir a uma cidade distante. ●

Viajar entre Portugal Continental
e a ilha da Madeira. ●

Passear no parque. ●

Deslocar-se de um lado para o outro
dentro da mesma localidade. ●

● a pé

● de bicicleta

● de automóvel

● de autocarro

● de comboio

● de barco

● de avião

4 – Observa o genograma e completa as afirmações.



- a) Os pais da Maria são o _____ e a _____.
- b) O _____ é o avô paterno da Maria.
- c) Os irmãos da mãe da Maria são o _____ e a _____.
- d) A tia paterna da Maria é a _____ que é casada com o _____.
- e) O _____, a _____ e o _____ são primos da Maria e da Sara.

5 – Pinta os círculos que estão juntos às imagens.

- De verde os brasões.
- De azul as bandeiras.



6 – Preenche a ficha de identificação com os teus dados.

Nome: _____

Morada:

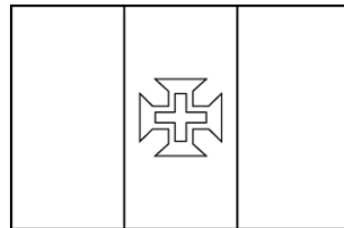

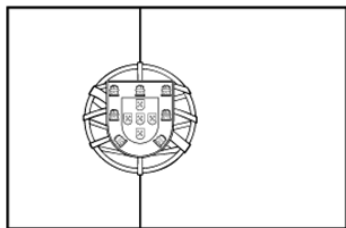
Freguesia: _____

Concelho: _____

Distrito: _____

Nacionalidade: _____

7 – Legenda as bandeiras e pinta-as.



Madeira

Portugal

Açores

8 – Seleciona com X os vestígios do passado existentes na tua região.

Ponte

Castelo

Mosteiro

Estátua

Muralha

Igreja

Nora

Fábrica antiga

Ruínas

9 – Ordena as imagens das várias etapas da evolução dos meios de transporte terrestre.



10 – Preenche com nomes de meios de transporte:



11 – Relaciona corretamente:

- | | |
|--|--|
| <ul style="list-style-type: none"> <input type="checkbox"/> Carta <input type="checkbox"/> Jornal <input type="checkbox"/> Televisão <input type="checkbox"/> Telefone <input type="checkbox"/> Computador | <ul style="list-style-type: none"> <input type="checkbox"/> Escrita, imagem e som <input type="checkbox"/> Escrita e imagem <input type="checkbox"/> Escrita <input type="checkbox"/> Som e imagem <input type="checkbox"/> Som |
|--|--|



12 – Completa com as palavras do quadro.

À troca de produtos dá-se o nome de _____.

Antigamente, as pessoas _____ os bens que produziam pelos bens que necessitavam.

Atualmente, trocam-se os produtos por _____.

Os pagamentos são feitos com _____; mas também se utilizam os cheques e o _____.




trocavam
cartão de débito
dinheiro
comércio

13 – Dá um exemplo de um local onde o comércio se realiza ao ar livre.

14 – Assinala o tipo de engrenagem representado na imagem ao lado.

- Alavancas
 Rodas dentadas
 Molas



15 – Assinala com X os objetos que constituem alavancas.

